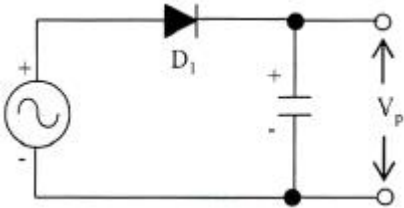


1과목 : 디지털 전자회로

1. 정류회로에서 다이오드를 병렬로 여러 개 접속시킬 경우에 나타나는 특성으로 옳은 것은?

- ① 과전압으로부터 보호할 수 있다.
- ② 과전류로부터 보호할 수 있다.
- ③ 정류기의 역방향 전류가 감소한다.
- ④ 부하출력에서 맥동률을 감소시킬 수 있다.

2. 다음과 같은 용량성 캐패시터를 이용한 평활회로의 특징으로 옳지 않은 것은?



- ① 정류파형의 주파수가 높을수록 맥동률은 적어진다.
- ② 부하저항이 클수록 맥동률은 적어진다.
- ③ 정류파형의 주파수는 맥동률과 무관하다.
- ④ 캐패시터 용량값이 클수록 맥동률은 적어진다.

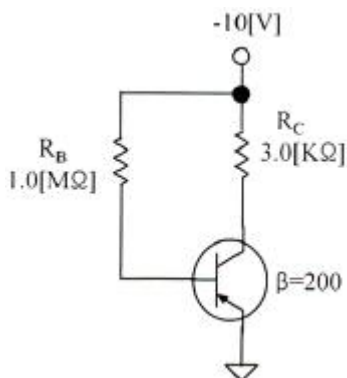
3. 다음 중 정류회로를 평가하는 파라미터에 해당되지 않는 것은?

- ① 최대역전압 ② 궤환율
- ③ 전압변동률 ④ 정류효율

4. 다음 중 증폭기에 대한 설명으로 옳은 것은?

- ① 교류성분을 직류성분으로 변환하기 위한 전기 회로다.
- ② 다이오드를 사용하여 교류 전압원의 (+)는 (-)의 반 사이클을 정류하고, 부하에 직류 전압을 흘리도록 한다.
- ③ 교류(AC)를 직류(DC)로 바꾸는 여러 과정 가운데 맥류를 완전한 직류로 바꾸어 준다.
- ④ 입력의 신호변화 형상이 출력단에 확대되어 복사시킨다.

5. 다음 증폭기 회로에서 $\beta=200$ 인 경우 컬렉터 전류 I_C 는 얼마인가?



- ① 1.25[mA] ② 2.00[mA]
- ③ 10.1[mA] ④ 1.86[mA]

6. 다음 중 트랜지스터 증폭 특성에 대한 설명으로 틀린 것은?

- ① 공통 베이스 회로의 입력 임피던스는 작고 출력 임피던스는 크다.
- ② 공통 베이스 회로의 전류 이득과 공통 컬렉터 회로의 전압 이득은 모두 1보다 크다.

③ 공통 컬렉터 회로의 입력 임피던스는 크고 출력 임피던스는 작아 임피던스 매칭 회로로 사용된다.

④ 증폭 회로의 입출력 위상관계는 공통 베이스 및 컬렉터 회로의 경우 동일 위상이고 공통 이미터의 경우 반전된 위상이다.

7. 잡음지수가 3[dB]이고 증폭도가 20[dB]인 전치 증폭기를 잡음지수가 5[dB]인 종속 증폭기에 연결하면 종합잡음지수는 얼마가 되는가?

- ① 3[dB] ② 3.2[dB]
- ③ 5[dB] ④ 5.2[dB]

8. 외부로부터 전기적인 신호가 없어도 회로 내에서 전기진동을 발생하는 회로를 무엇이라 하는가?

- ① 발진회로 ② 변조회로
- ③ 정류회로 ④ 전원회로

9. 발진회로에서 발진을 지속하기 위해 필요한 과정은?

- ① 출력신호의 일부분을 부궤환시킨다.
- ② 출력신호의 일부분을 정궤환시킨다.
- ③ 외부로부터 지속적으로 입력신호를 제공한다.
- ④ L과 C 성분을 제거한다.

10. 다음 중 변조과정에 대한 설명으로 옳은 것은?

- ① 반송파에 정보신호(음성·화상·데이터 등)를 실는 것을 변조라 한다.
- ② 변조된 높은 주파수의 파를 반송파라 한다.
- ③ 변조는 소신호로 대전류를 제어하는 것이다.
- ④ 저주파는 음성 신호파를 운반하는 역할을 하므로 피변조파라 한다.

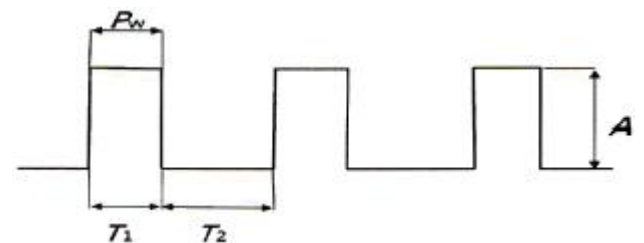
11. FM에서 최대 주파수편이가 60[kHz]이고 최대 변조주파수가 6[kHz]라 하면 변조도는 얼마인가? (단, 변조지수는 8이다.)

- ① 6[%] ② 60[%]
- ③ 80[%] ④ 120[%]

12. 트랜지스터의 스위칭 시간으로 Turn-on 시간은?

- ① 하강시간 ② 하강시간+축적시간
- ③ 축적시간 ④ 상승시간+지연시간

13. 다음 그림은 이상적인 펄스를 나타낸 것이다. 펄스의 듀티 사이클(Duty Cycle) D의 식으로 맞는 것은?



- ① $D = \frac{P_w}{T_2} \times 100 [\%]$
- ② $D = \frac{P_w}{T_1 + T_2} \times 100 [\%]$

$$\textcircled{3} D = \frac{A}{T_1} \times 100 [\%]$$

$$\textcircled{4} D = \frac{A}{T_1 + T_2} \times 100 [\%]$$

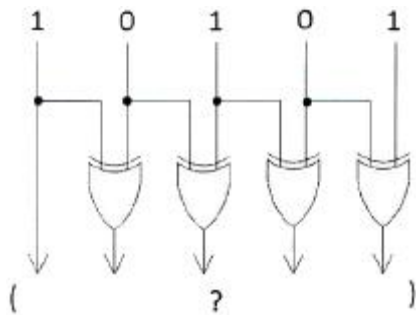
14. 0과 1의 조합에 의하여 어떠한 기호라도 표현될 수 있도록 부호화를 행하는 회로를 무엇이라 하는가?

- ① Decoder ② Detector
③ Encoder ④ Comparator

15. 3_{10} 을 Gray Code로 변환하면?

- ① 0010 ② 0001
③ 0100 ④ 0110

16. 다음 그림과 같은 논리회로 출력의 값과 그 기능은?



- ① 11011, 패리티 점검 ② 11000, 양수/음수 점검
③ 11111, 코드 변환 ④ 100000, 패리티 변환

17. 디지털 논리 소자에서 회로 동작을 손상시키지 않으면서 출력에 연결할 수 있는 동일한 논리 게이트의 수를 무엇이라 하는가?

- ① Settling ② Fan-Out
③ Hold ④ Setup

18. 카운터(Counter)를 이용하여 컨베이어 벨트를 통과하는 생산품의 개수를 파악하려고 한다. 최대 500개의 생산품을 카운트하기 위한 카운트를 플립플롭을 이용 제작할 때 최소한 몇 개의 플립플롭이 필요한가?

- ① 5 ② 7
③ 9 ④ 11

19. 다음 중 환형 계수기(Ring Counter)와 같은 기능을 갖는 것은?

- ① BCD 계수기 ② 가역 계수기
③ 시프트 레지스터 ④ 순환 시프트 레지스터

20. 기억된 내용을 자외선을 비추어 소거시키는 ROM은?

- ① EPROM ② EAROM
③ MASK ROM ④ EEPROM

2과목 : 무선통신 기기

21. 다음 중 수신기의 성능 지수의 선택도를 나타내는 주파수 특성에서 얻을 수 없는 것은?

- ① 대역폭 ② 옥타브 감쇄 정도
③ 평균 감쇄 정도 ④ 스퓨리어스 응답

22. 다음 중 FM 수신기에 대한 설명으로 틀린 것은?

- ① 점유주파수 대역폭이 AM 방식보다 넓다.
② 잡음에 의한 찌그러짐이 AM 방식보다 많다.
③ 신호대 잡음비가 AM 방식에 비해 양호하다.
④ 진폭 제한기에 의해 진폭성분의 잡음을 감소시킬 수 있다.

23. FSK 신호의 전송속도가 1,200[bps]이면 보(baud) 속도는 얼마인가?

- ① 300[baud] ② 400[baud]
③ 600[baud] ④ 1,200[baud]

24. 심볼간격이 T인 펄스신호를 Nyquist 기저대역(baseband) 채널을 통해 전송하고자 한다. 이 때 요구되는 기저대역 채널대역폭은?

- ① $\frac{1}{2T}$ ② $\frac{2}{T}$
③ $\frac{1}{T}$ ④ $\frac{3}{2T}$

25. 위성 통신에 사용되는 주파수 대역 중 12.5~18[GHz]를 무엇이라고 하는가?

- ① C ② Ku
③ Ka ④ X

26. 다음 중 단측파대(SSB) 송수신기의 설명으로 틀린 것은?

- ① 송신기가 소형이고 무게가 가볍다.
② 적은 송신전력으로 통신이 가능하다.
③ 송수신기의 회로구성이 단순하다.
④ 점유주파수대역폭이 1/2로 축소된다.

27. 다음 중 OFDM에 대한 설명으로 틀린 것은?

- ① 다수 반송파 시스템으로서 반송파 사이에 직교성이 보장 되도록 한다.
② 주파수 선택성 페이딩이나 협대역 간섭에 강인하게 사용할 수 있다.
③ 송수신에서 복수의 반송파를 변복조하기 위해 IFFT/FFT를 사용할 수 있으므로 간단한 구조로 고속 구현이 가능하다.
④ 부반송파들을 분리하기 위해 보호대역이 필요하다.

28. 다음 중 정보에 따라 주파수를 변환시키는 디지털 변조 방식은?

- ① ASK ② FSK
③ PSK ④ QAM

29. 통신위성이나 방송위성의 중계기(트랜스폰더)에 사용되는 중계방식은?

- ① 헤테로다인 중계방식 ② 재생 중계방식
③ 무급전 중계방식 ④ 직접 중계방식

30. 다음 중 레이더 기술에 대한 설명으로 틀린 것은?

- ① 야간이나 시계가 불량한 경우 레이더를 사용하면 안전한 항해를 할 수 있다.
② 거리와 방위를 구할 수 있으므로 목표물의 위치 및 상대

속도 등을 구할 수 있다.

- ③ 특수레이더의 경우 강렬한 열대성 폭풍(태풍)의 위치와 강우의 이동 등 다양한 용도로 사용할 수 있다.
- ④ 기상조건에 영향을 많이 받으므로 주로 가시거리 내에서 사용된다.

31. 다음 중 UPS의 구성 방식에 대한 설명으로 틀린 것은?

- ① ON-LINE 방식 : 상용전원을 컨버터회로에 의해 직류로 바꾸고 이를 축전지에 충전하고 인버터 회로를 통해 교류전원으로 바꾼다.
- ② Hybrid 방식 : 상용전원은 그대로 출력으로 내보내며 축전지는 충전회로를 통해 충전한다.
- ③ LINE 인터랙티브 방식 : 축전지와 인버터 부분이 항상 접속되어 서로 전력을 변환하고 있다.
- ④ OFF-LINE 방식 : 입력측의 변동된 전원이 부하측의 출력으로 공급되어 출력에 영향을 줄 수 있다.

32. 다음 중 정류회로의 종류가 아닌 것은?

- ① 반파 정류회로 ② 전파 정류회로
- ③ 평활회로 ④ 배전압 정류회로

33. 다음 중 축전지에 대한 설명으로 틀린 것은?

- ① 축전지는 한번 충전하여 반영구적으로 사용하는 전지이다.
- ② 1차 전지는 한번 사용하면 다시 사용할 수 없는 전지이다.
- ③ 2차 전지는 충전과 방전을 몇 번이고 반복하여 계속 사용할 수 있는 전지이다.
- ④ 축전지의 종류에는 납 축전지와 알칼리 축전지 등이 있다.

34. 제어부의 연결 형태에 따른 정전압 회로의 종류에 해당되지 않는 것은?

- ① 제너 다이오드형 ② 가변용량 콘덴서형
- ③ 병렬 제어형 ④ 직렬 제어형

35. 전지의 내부저항을 측정하기 위해 전압계와 전류계를 사용하는 경우 전압계와 전류계의 내부저항은 전지의 내부저항에 비해 어떻게 되어야 하는가?

- ① 전압계의 내부저항은 아주 작고 전류계의 내부저항은 아주 커야 한다.
- ② 전압계의 내부저항은 아주 크고 전류계의 내부저항은 아주 작아야 한다.
- ③ 전압계의 내부저항과 전류계의 내부저항은 아주 커야 한다.
- ④ 전압계의 내부저항과 전류계의 내부저항은 아주 작아야 한다.

36. 다음 중 송신기의 변조특성을 나타내는 요소가 아닌 것은?

- ① 변조의 직선성 ② 공중선 전력
- ③ 중합왜율 ④ 신호대 잡음비

37. 전력 변환장치인 인버터(Inverter)의 기능을 바르게 나타낸 것은?

- ① DC를 DC로 변환하는 장치이다.
- ② DC를 AC로 변환하는 장치이다.
- ③ AC를 DC로 변환하는 장치이다.

④ AC를 AC로 변환하는 장치이다.

38. 송신전력 10[W]는 몇 [dBm]인가? (단, 송신전력이 1[mW]일 때 0[dBm]이다.)

- ① 40[dBm] ② 60[dBm]
- ③ 80[dBm] ④ 100[dBm]

39. 무손실 선로에서의 특성 임피던스를 바르게 나타낸 것은?

- ① $\frac{C}{L}$ ② $\frac{L}{C}$
- ③ $\sqrt{\frac{L}{C}}$ ④ $\sqrt{\frac{C}{L}}$

40. 어떤 동축 케이블의 종단 개방시 입력 임피던스가 30[Ω]이고 종단 단락시 입력 임피던스가 187.5[Ω]일 때, 이 동축 케이블의 특성 임피던스는 몇 [Ω]인가?

- ① 50[Ω] ② 65[Ω]
- ③ 75[Ω] ④ 80[Ω]

3과목 : 안테나 공학

41. 다음 중 전파에 관한 설명으로 맞는 것은?

- ① 진행 방향에는 전계와 자계가 없고 직각인 방향에만 전계와 자계 성분이 있는 경우를 구면파라고 한다.
- ② 매질의 종류에 관계없이 속도는 광속과 같다.
- ③ 전파는 종파이다.
- ④ 군속도×위상속도 = (광속)²

42. 비유전율(ϵ_s)이 1이고 비투자율(μ_s)이 9인 매질 내를 전파하는 전자파의 속도는 자유공간을 전파할 때와 비교해서 몇 배의 속도가 되는가?

- ① 2배 ② 1/2배
- ③ 3배 ④ 1/3배

43. 다음 중 포인팅 벡터의 크기를 나타내는 것은? (단, E : 전계의 세기, H : 자계의 세기, μ : 투자율, ϵ : 유전율)

- ① EH ② $\mu\epsilon$
- ③ H/B ④ $\sqrt{\mu\epsilon}$

44. 다음 중 스미스 차트에 대한 설명으로 틀린 것은?

- ① 스미스 차트상의 용량성, 유도성 리액턴스 값은 표시할 수 있지만 저항성 임피던스는 표시할 수 없다.
- ② 전송선로 상의 한 점에서의 임피던스를 알면 스미스 차트를 이용하여 임의의 지점에서의 선로 임피던스를 계산할 수 있다.
- ③ 스미스 차트의 정 중앙은 순수한 저항성 임피던스 값을 나타낸다.
- ④ 스미스 차트상의 한 점에 의해 반사계수와 임피던스 값을 확인할 수 있다.

45. 다음 중 진행파와 반사파가 모두 존재하는 경우는?

- ① 무한장 급전선
- ② 정재파비가 1인 급전선
- ③ 정규화 부하 임피던스가 1인 급전선
- ④ 반사계수가 1인 급전선

46. 다음 중 급전선에 관한 설명으로 틀린 것은?
 ① 사용 주파수에 따라 무손실 급전선의 특성 임피던스는 달라진다.
 ② 급전선의 길이가 길면 손실도 커진다.
 ③ 도선의 굵기와 간격의 비율이 같으면 임피던스도 같다.
 ④ 급전선에서의 손실은 \sqrt{f} 에 비례하여 커진다.
47. 다음 중 비동조 급전선에 관한 설명으로 틀린 것은?
 ① 비동조급전선의 예로는 도파관, 동축케이블 등이다.
 ② 송신부와 안테나의 거리가 가까울 때 사용한다.
 ③ 급전선상에 진행파만 존재하도록 정합장치가 필요하다.
 ④ 동조급전선에 비해 효율이 양호하고 외부방해가 없다.
48. 다음 중 임피던스 정합회로가 아닌 것은?
 ① 테이퍼 선로 ② Y형 정합
 ③ T형 정합 ④ 슈퍼토프(Sperrtopf)
49. 다음 중 안테나정수에 해당되지 않는 것은?
 ① 지향성 ② 복사저항
 ③ 복사전압 ④ 이득
50. 다음 로딩>Loading) 다이폴안테나의 설명으로 괄호 안에 맞는 말을 순서대로 배열한 것은?
- 로딩의 종류에는 ()를(을) 로딩하여 다이폴안테나의 광대역 특성을 얻는 것과 ()를(을) 로딩하여 길이가 1/2 파장보다 짧아져 용량성으로 되는 다이폴안테나를 공진시켜 정합하는 것과 ()를(을) 로딩하여 다이폴안테나를 소형화하는 것이 있다.
- ① 저항 - 인덕터 - 커패시터
 ② 인덕터 - 커패시터 - 저항
 ③ 커패시터 - 저항 - 인덕터
 ④ 커패시터 - 인덕터 - 저항
51. 등방성안테나를 기준 안테나로 하는 이득은?
 ① 절대이득 ② 상대이득
 ③ 지상이득 ④ 최대이득
52. 길이 30[m]인 수직 공중선의 고유파장과 고유주파수는 얼마인가?
 ① λ : 120[m], f: 2,500[MHz]
 ② λ : 80[m], f: 3,750[MHz]
 ③ λ : 120[m], f: 2,500[kHz]
 ④ λ : 80[m], f: 3,750[kHz]
53. 다음 중 Friis의 전달공식을 바르게 표현한 것은? (단, Pt: 송신전력, Pr: 수신전력, Gt: 송신안테나의 이득, Gr: 수신안테나의 이득, Ls: 자유공간손실이다.)
 ① $Pr[dB] = Pt[dB] + Gt[dB] + Gr[dB] - Ls[dB]$
 ② $Pr[dB] = Pt[dB] - Gt[dB] - Gr[dB] - Ls[dB]$
 ③ $Pr[dB] = Pt[dB] + Gt[dB] - Gr[dB] - Ls[dB]$
 ④ $Pr[dB] = Pt[dB] - Gt[dB] + Gr[dB] - Ls[dB]$

54. 다음 중 Loop 안테나의 설명으로 틀린 것은?
 ① 급전선과 정합이 어렵다.
 ② 효율이 나쁘다.
 ③ 수평면내 8자형 지향특성을 갖는다.
 ④ 대형으로 이동이 어렵다.
55. 다음 중 지상파에 대한 설명으로 틀린 것은?
 ① 수평 및 수직편파에 따라 대지 반사계수가 달라진다.
 ② 안테나가 충분히 높으면 직접파와 대지 반사파의 합성파가 지표파보다 크다.
 ③ 장파 또는 중파대 이하 지상파에서는 지표파가 주요 전파로 사용된다.
 ④ 지표파는 대지 도전율이 작을수록 감쇠가 적다.
56. 다음 중 대류권 산란파에 대한 설명으로 틀린 것은?
 ① 전파 경로상의 지형에 대한 영향을 적게 받는다.
 ② 공간 다이버시티를 이용하면 대류권 산란에 의한 페이딩을 방지할 수 있다.
 ③ 짧은 주기를 갖는 페이딩이 발생한다.
 ④ 전파손실이 자유공간 손실보다 작은 값을 갖는다.
57. 다음 중 전리층에 대한 설명으로 틀린 것은?
 ① D층은 야간에 장파대의 전파를 반사시킬 수 있다.
 ② E층은 주간에 약 10[MHz]의 단파를 반사시킬 수 있다.
 ③ F층은 단파대의 전파를 반사시킬 수 있다.
 ④ Es층은 80[MHz] 정도의 초단파를 반사시킬 수 있다.
58. 다음 중 전리층 전파에 관한 제1종 감쇠와 제2종 감쇠의 설명으로 틀린 것은?
 ① 제1종 감쇠는 전파가 전리층(D층 및 E층)을 통과할 때 받는 감쇠이다.
 ② 제1종 감쇠의 감쇠량은 주파수의 제곱에 비례한다.
 ③ 제2종 감쇠는 전파가 전리층(E층 및 F층)에서 반사할 때 받는 감쇠이다.
 ④ 제2종 감쇠의 감쇠량은 주파수가 높아질수록 커진다.
59. 중파 방송국의 안테나 전력을 10[kW]에서 40[kW]로 증가시키면 동일 지점의 전계강도는 몇 배로 되는가?
 ① 변화가 없다. ② $\sqrt{2}$ 배 증가한다.
 ③ 2배 증가한다. ④ 4배 증가한다.
60. 전리층의 높이가 지상 약 100[km] 정도이며 발생지역과 장소가 불규칙한 전리층은?
 ① E층 ② E_s층
 ③ F₁층 ④ F₂층

4과목 : 무선통신 시스템

61. 이득 40[dB]의 저주파 증폭기가 10[%]의 찌그러짐을 가지고 있을 때 이를 1[%] 이내로 하기 위해 필요한 조치는?
 ① 20[dB]의 정제환을 걸어 준다.
 ② 전압변동률을 10[%]로 조절한다.
 ③ 40[dB]의 이득을 낮춘다.
 ④ 20[dB]의 부제환을 걸어 준다.

62. 다음 중 무선통신 시스템에 가장 영향을 미치는 요소는?

- ① 변조방식 ② 회선용량
③ 설치비용 ④ 외부잡음

63. 다단 증폭시스템에서 종합 잡음지수를 가장 효과적으로 개선할 수 있는 시스템 구성요소로 적합한 것은?

- ① 전치 증폭기 ② 자동 이득 조절기
③ 대역 통과 필터 ④ 검파기

64. 무선 수신기의 특성 중 변조 내용을 수신기의 출력 측에서 어느 정도 재현할 수 있는가의 능력을 나타내는 것은?

- ① 충실도(Fidelity) ② 안정도(Stability)
③ 선택도(Selectivity) ④ 감도(Sensitivity)

65. 다음 중 IS-95 CDMA 기술을 사용하는 이동전화 시스템에 대한 설명으로 틀린 것은?

- ① 확산코드로 사용하는 Walsh 코드는 코드간 직교성을 갖는다.
② 레이크 수신기의 사용으로 페이딩에 대한 영향을 줄일 수 있다.
③ 주파수 도약 방식으로 인해 암호화 기능이 있어 감청이 쉽지 않다.
④ 전력 제어를 통해 셀 내의 사용로부터 기지국에 수신되는 신호 강도를 균일하게 유지한다.

66. 인공위성 통신망을 이용하여 가장 넓은 지역을 커버하는 광대역 서비스는?

- ① Mega Cell ② Macro Cell
③ Micro Cell ④ Pico Cell

67. 다음 중 CDMA 시스템 용량에 대한 설명으로 틀린 것은?

- ① 동시 사용자수는 시스템 처리 이득에 비례한다.
② 적절한 품질을 유지하기 위한 통신로의 Eb/No 기준값이 증가할수록 시스템 용량은 증가한다.
③ 인접 셀의 사용자의 부하를 줄일수록 시스템 용량은 증가한다.
④ 음성활성화 계수가 작을수록 시스템 용량은 증가한다.

68. 다음 중 PN(Pseudo-Noise) 코드의 특성이 아닌 것은?

- ① 평형(Balance) 특성 ② 런(Run) 특성
③ 천이(Shift) 특성 ④ 최소길이(Minimal length) 특성

69. 다음 중 대역확산을 사용하는 다중화 기법은?

- ① FDMA ② TDMA
③ CDMA ④ SDMA

70. 다음 중 WCDMA의 USIM에 대한 설명으로 틀린 것은?

- ① 가입자 인증 기능
② 고정사용번호 서비스
③ ESN(Electronic Serial Number) 내장
④ 개인 고유번호 서비스

71. 다음 중 CDMA 이동전화 시스템의 전력제어 종류가 아닌 것은?

- ① 페루프 전력제어 ② 순방향 전력제어

- ③ 외부루프 전력제어 ④ 기지국 통화 셀 전력제어

72. 다음 중 프로토콜의 주요 요소가 아닌 것은?

- ① 개체(Entity) ② 구문(Syntax)
③ 의미(Semantics) ④ 타이밍(Timing)

73. 다음 중 통신망 구조를 나타낼 때 통신망의 기능들을 계층으로 나누는 이유가 아닌 것은?

- ① 각 계층들이 모듈러 구조로 정의되어 호환성이 잘 유지될 수 있다.
② 상위 계층 기능을 하위 계층의 기능이 지원하는 경우를 잘 나타낼 수 있다.
③ 상위 계층의 정보가 하위 계층에서는 내용으로 전달되는 경우를 잘 나타낼 수 있다.
④ 상위 계층일수록 더욱 물리적이고 실제의 정보 전달 기능을 제시할 수 있다.

74. 기지국 장치로부터의 RF신호 입력을 Slave장치로 공급하기 위해 RF신호를 분기하는 유닛은 어느 것인가?

- ① COME(Combiner : 결합기)
② SPLT(Splitter : 분배기)
③ NMS(Network Management System : 망 관리 시스템)
④ Duplex(방향성 결합기)

75. OSI 참조 모델의 각 계층과 그에 해당하는 역할을 잘못 짝지은 것은?

- ① 물리계층 - 안테나의 모양 규정
② 링크계층 - 데이터 링크 오류 제어
③ 네트워크계층 - 네트워크 구성 정보 전달
④ 응용계층 - 사용자 인터페이스 규정

76. 우리나라의 LTE 이동통신시스템에서 한정된 주파수 자원을 주어진 시간에 여러 사용자들에 할당하여 기지국과 단말기 간의 무선 구간을 연결하는 다중접속방식으로 사용되는 것은 무엇인가?

- ① FDMA ② TDMA
③ CDMA ④ OFDMA

77. 다음 중 무선망 최적화 수행사항이 아닌 것은?

- ① 커버리지 확보 ② 절단을 개선
③ 기지국 용량 증대 ④ 통화량 균등 분배

78. 스퓨리어스 방사의 종류 중에서 전도성이 의미하는 것은?

- ① 기지국의 RF 출력단에서 측정한 것
② RF 출력단을 종단시키고 전자파 무반사실 내에서 측정한 것
③ 단말기의 RF 입력단에 측정한 것
④ RF 출력단을 종단시키고 전자파 반사실 내에서 측정한 것

79. FM 수신기에서 반송파가 없으면 잡음이 증가하는데, 이때 잡음 전압을 이용하여 저주파 증폭기의 동작을 정지시켜 출력을 차단하는 회로를 무엇이라 하는가?

- ① 스킴치 회로 ② 프리 앰퍼시스 회로
③ 디 앰퍼시스 회로 ④ 주파수 변별기

80. 다음 중 위성통신회선의 다원 접속방식이 아닌 것은?

- ① WDMA ② FDMA
③ TDMA ④ CDMA

5과목 : 전자계산기 일반 및 무선설비기준

81. 다음 프로세스간 통신에 있어서 직접통신과 관련이 없는 사항은?
① 각 쌍의 프로세스에 대해서 정확히 하나의 통로만 존재한다.
② 한 통로는 두 개 이상의 프로세스와 연관될 수 있다.
③ 프로세스들이 서로 통신을 하기 위해서는 상대방의 이름만 알면 된다.
④ 통로는 보통 단일 방향이거나 양쪽 방향일 수 있다.
82. 다음 중 인터넷 응용에 적합한 객체지향 언어는?
① Fortran ② Ada
③ Java ④ Lisp
83. 제어장치를 마이크로프로그래밍(Microprogramming)으로 구현하였을 때 하드와이어(Hardwired) 제어장치에 비하여 장점이 되지 않는 것은?
① 제어 속도가 빠르다.
② 제어 장치의 설계를 단순화할 수 있다.
③ 오류 발생률이 낮다.
④ 구현 비용이 적게 든다.
84. 다음 중 I/O 채널(Channel)에 대한 설명으로 틀린 것은?
① CPU는 일련의 I/O 동작을 지시하고 그 동작 전체가 완료된 시점에서만 인터럽트를 받는다.
② 입출력 동작을 위한 명령문 세트를 가진 프로세서를 포함하고 있다.
③ 선택기 채널(Selector Channel)은 여러 개의 고속 장치들을 제어한다.
④ 멀티플렉서 채널(Multiplexer Channel)은 복수개의 입·출력 장치를 동시에 제어할 수 없다.
85. 다음 진수 표현 중 가장 큰 수는?
① $FF_{(16)}$ ② $257_{(10)}$
③ $11111111_{(2)}$ ④ $377_{(8)}$
86. 최근 운영체제들은 다양한 기능과 사용자의 편의성을 개선한 GUI가 개발되고 있으며 컴퓨터 시스템의 운영에 필요한 자원관리기능을 향상시키기 위한 연구도 진행되고 있다. 이와 같은 운영체제의 자원관리기능에 속하지 않는 것은?
① 메모리 ② 컴파일러
③ 주변장치 ④ 데이터
87. 다음 중 컴퓨터에서 수를 표현하는 방식이 아닌 것은?
① 양자화 표현 ② 1의 보수 표현
③ 2의 보수 표현 ④ 부호화 - 절대치 표현
88. 10진수 56789에 대한 BCD 코드(Binary Coded Decimal)는 어느 것인가?
① 0101 0110 0111 1000 1001
② 0011 0110 0111 1000 1001
③ 0111 0110 0111 1000 1001

- ④ 1001 0110 0111 1000 1001

89. 다음 운영체제에 대한 설명으로 틀린 것은?
① 시스템을 관리하고 제어하는 기능을 가진다.
② 윈도우나 유닉스는 명령어 실행과 수행방법이 같다.
③ 대표적인 운영체제는 윈도우 XP, 윈도우 7, 리눅스 등이 있다.
④ 컴퓨터와 사용자 간에 중재적인 역할을 한다.
90. 마이크로프로세서를 구성하는 요소 장치로 데이터 처리과정에서 필수적으로 요구되는 것끼리 올바르게 짝지어진 것은?
① 제어장치, 저장장치 ② 연산장치, 제어장치
③ 저장장치, 산술장치 ④ 논리장치, 산술장치
91. 다음 중 변경허가를 받아야 할 사항이 아닌 것은?
① 무선설비의 설치장소 변경
② 공중선전력 변경
③ 공중선의 형식·구성 및 이득 변경
④ 무선국의 폐지
92. 156[MHz]~174[MHz] 주파수대를 사용하는 선박국 및 생존정의 송신설비의 주파수 허용편차는 백만분의 얼마인가?
① 10 ② 30
③ 50 ④ 100
93. 다음 중 특정한 주파수의 용도를 정하는 것으로 정의되는 것은?
① 주파수분배 ② 주파수할당
③ 주파수지정 ④ 주파수재배치
94. 다음의 통신 보안 방법 중에서 보안도가 가장 높은 것은 어느 것인가?
① 약어 ② 암호
③ 음어 ④ 약호
95. 다음 중 무선국 시설자 등이 준수하여야 할 통신보안에 관한 사항으로 틀린 것은?
① 통신보안교육 등에 관한 사항
② 통신보안책임자의 지정에 관한 사항
③ 통신시 기록할 통신내용에 관한 사항
④ 무선국 허가시 통신보안 조치에 관한 사항
96. 다음 중 방송통신기자재 지정시험기관이 발행한 시험성적서의 기재사항이 아닌 것은?
① 시험신청인의 성명 및 주소
② 성적서 발급번호 및 페이지 일련번호
③ 시험결과에 대한 담당 시험원의 의견
④ 품질책임자의 의견 및 서명
97. 무선종사자가 2차 이상 통신보안교육을 받지 않거나 통신보안사항을 준수하지 아니한 경우벌칙은?
① 3개월 이내의 업무정지
② 6개월 이내의 업무정지
③ 1년 이내의 업무정지
④ 2년 이내의 업무정지

98. 무선설비규칙에서 정의한 '불요발사'로서 적합한 것은?
- ① 대역외 발사 및 스퓨리어스 발사
 - ② 대역내 발사
 - ③ 필요주파수대폭의 바로 안쪽 발사 에너지
 - ④ 스퓨리어스 발사 및 저감반송파
99. 수신설비가 충족하여야 하는 조건이 아닌 것은?
- ① 수신주파수의 운용범위 이내일 것
 - ② 내부잡음이 적을 것
 - ③ 감도는 높은 신호입력에서도 양호할 것
 - ④ 선택도가 크고 명료도가 충분할 것
100. 필요주파수대 바깥쪽에 위치한 하나 이상의 주파수에서 발생하는 발사로서 정보전송에 영향을 미치지 아니하고 그 강도를 저감시킬 수 있는 것으로 고조파발사, 기생발사, 상호변조 및 주파수 변환 등에 의한 발사를 무엇이라 하는가?
- ① 스퓨리어스 발사 ② 대역외 발사
 - ③ 점유주파수 발사 ④ 혼변조 발사

전자문제집 CBT PC 버전 : www.comcbt.com

전자문제집 CBT 모바일 버전 : m.comcbt.com

기출문제 및 해설집 다운로드 : www.comcbt.com/x

전자문제집 CBT란?

종이 문제집이 아닌 인터넷으로 문제를 풀고 자동으로 채점하며 모의고사, 오답 노트, 해설까지 제공하는 무료 기출문제 학습 프로그램으로 실제 시험에서 사용하는 OMR 형식의 CBT를 제공합니다.

PC 버전 및 모바일 버전 완벽 연동
교사용/학생용 관리기능도 제공합니다.

오답 및 오탈자가 수정된 최신 자료와 해설은 전자문제집 CBT에서 확인하세요.

1	2	3	4	5	6	7	8	9	10
②	③	②	④	④	②	②	①	②	①
11	12	13	14	15	16	17	18	19	20
③	④	②	③	①	③	②	③	④	①
21	22	23	24	25	26	27	28	29	30
④	②	④	①	②	③	④	②	④	④
31	32	33	34	35	36	37	38	39	40
②	③	①	②	②	②	②	①	③	③
41	42	43	44	45	46	47	48	49	50
④	④	①	①	④	①	②	④	③	①
51	52	53	54	55	56	57	58	59	60
①	③	①	④	④	④	①	②	③	②
61	62	63	64	65	66	67	68	69	70
④	④	①	①	③	①	②	④	③	③
71	72	73	74	75	76	77	78	79	80
④	①	④	②	①	④	③	①	①	①
81	82	83	84	85	86	87	88	89	90
②	③	①	④	②	②	①	①	②	②
91	92	93	94	95	96	97	98	99	100
④	①	①	②	③	④	③	①	③	①