

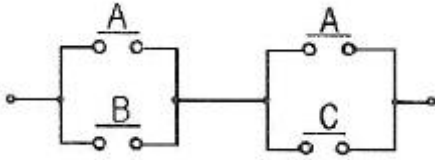
1과목 : 소방원론

- 제5류 위험물인 자기반응성물질의 성질 및 소화에 관한 사항으로 가장 거리가 먼 것은?
 - ① 대부분 산소를 함유하고 있어 자기연소 또는 내부연소를 일으키기 쉽다.
 - ② 연소속도가 빨라 폭발적인 경우가 많다.
 - ③ 질식소화가 효과적이며, 냉각소화는 불가능하다.
 - ④ 가열, 충격, 마찰에 의해 폭발의 위험이 있는 것이 있다.
- 인화칼슘과 물이 반응할 때 생성되는 가스는?
 - ① 아세틸렌
 - ② 황화수소
 - ③ 황산
 - ④ 포스핀
- A급, B급, C급의 어떤 화재에도 사용할 수 있기 때문에 일명 ABC 소화약제라고도 부르는 제3종 분말 소화 약제의 분자식은?
 - ① NaHCO_3
 - ② KHCO_3
 - ③ $\text{NH}_4\text{H}_2\text{PO}_4$
 - ④ Na_2CO_3
- 다음 중 위험물안전관리법령상 제 1류 위험물에 해당하는 것은?
 - ① 염소산나트륨
 - ② 과염소산
 - ③ 나트륨
 - ④ 황린
- 다음 점화원 중 기계적인 원인으로만 구성된 것은?
 - ① 산화, 중합
 - ② 산화, 분해
 - ③ 중합, 화합
 - ④ 충격, 마찰
- 일반적인 자연발화 예방대책으로 옳지 않은 것은?
 - ① 습도를 높게 유지한다.
 - ② 통풍을 양호하게 한다.
 - ③ 열의 축적을 방지한다.
 - ④ 주위 온도를 낮게 한다.
- 전열기의 표면온도가 250°C 에서 650°C 로 상승되면 복사열은 약 몇 배 정도로 상승 하는가?
 - ① 2.5
 - ② 9.7
 - ③ 17.2
 - ④ 45.1
- 가연성 액체로부터 발생한 증기가 액체표면에서 연소범위의 하한계에 도달할 수 있는 최저온도를 의미하는 것은?
 - ① 비점
 - ② 연소점
 - ③ 발화점
 - ④ 인화점
- 위험물안전관리법령 상 인화성액체인 클로로벤젠은 몇 석유류에 해당되는가?
 - ① 제1석유류
 - ② 제2석유류
 - ③ 제3석유류
 - ④ 제4석유류
- 할론(Halon) 1301의 분자식은?
 - ① CH_3Cl
 - ② CH_3Br
 - ③ CF_3Cl
 - ④ CF_3Br
- 건물 내 피난동선의 조건으로 옳지 않은 것은?
 - ① 2개 이상의 방향으로 피난할 수 있어야 한다.
 - ② 가급적 단순한 형태로 한다.

- 통로의 말단은 안전한 장소이어야 한다.
- 수직동선은 금하고 수평동선만 고려한다.
- 이산화탄소 소화기의 일반적인 성질에서 단점이 아닌 것은?
 - ① 인체의 질식이 우려된다.
 - ② 소화약제의 방출 시 인체에 닿으면 동상이 우려된다.
 - ③ 소화약제의 방사 시 소음이 크다.
 - ④ 전기를 잘 통하기 때문에 전기설비에 사용할 수 없다.
- 에테르의 공기 중 연소범위를 1.9 ~ 48 vol%라고 할 때 이에 대한 설명으로 틀린 것은?
 - ① 공기 중 에테르 증기가 48 vol% 를 넘으면 연소한다.
 - ② 연소범위의 상한점이 48 vol% 이다.
 - ③ 공기중 에테르 증기가 1.9~48 vol% 범위에 있을 때 연소한다.
 - ④ 연소범위의 하한점이 1.9 vol% 이다
- 수소 1kg 이 완전연소할 때 필요한 산소량은 몇 kg 인가?
 - ① 4
 - ② 8
 - ③ 16
 - ④ 32
- 가연물이 되기 위한 조건으로 가장 거리가 먼 것은?
 - ① 열전도율이 클 것
 - ② 산소와 친화력이 좋을 것
 - ③ 비표면적이 넓을 것
 - ④ 활성화에너지가 작을 것
- 촛불의 주된 연소형태에 해당하는 것은?
 - ① 표면연소
 - ② 분해연소
 - ③ 증발연소
 - ④ 자기연소
- 유류 탱크의 화재 시 탱크 저부의 물이 뜨거운 열류층에 의하여 수증기로 변하면서 급작스런 부피 팽창을 일으켜 유류가 탱크 외부로 분출하는 현상을 무엇이라고 하는가?
 - ① 보일오버
 - ② 슬롭오버
 - ③ 블레이브
 - ④ 파이어볼
- 0°C , 1기압에서 11.2L의 기체질량이 22g 이었다면 이 기체의 분자량은 얼마인가? (단, 이상기체를 가정한다.)
 - ① 22
 - ② 35
 - ③ 44
 - ④ 56
- 공기의 평균 분자량이 29 일 때 이산화탄소 기체의 증기비중은 얼마인가?
 - ① 1.44
 - ② 1.52
 - ③ 2.88
 - ④ 3.24
- 물의 기화열이 539cal인 것은 어떤 의미인가?
 - ① 0°C 의 물 1g 이 얼음으로 변화하는데 539cal 의 열량이 필요하다.
 - ② 0°C 의 얼음이 1g 이 물로 변화하는데 539cal 의 열량이 필요하다.
 - ③ 0°C 의 물 1g 이 100°C 의 물로 변화하는데 539cal 의 열량이 필요하다.
 - ④ 100°C 의 물 1g 이 수증기로 변화하는데 539cal 의 열량이 필요하다.

2과목 : 소방전기회로

21. 그림과 같은 유접점 회로의 논리식은?



- ① A + BC ② AB + C
③ B + AC ④ AB + BC

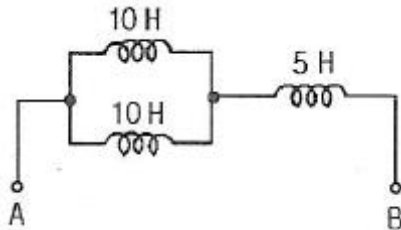
22. 일정 전압의 직류전원에 저항 R을 접속하면 전류가 흐른다. 이 때 저항 R을 변화시켜 전류값을 20% 증가시키려면 저항 값을 어떻게 하면 되는가?

- ① 64%로 줄인다. ② 83%로 줄인다.
③ 120%로 증가시킨다. ④ 125%로 증가시킨다.

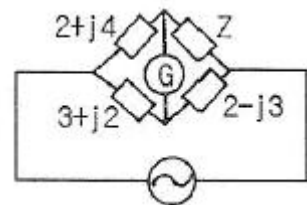
23. RLC 직렬공진회로에서 제 n 고조파의 공진주파수 (f_n)는?

- ① $\frac{1}{\pi n \sqrt{LC}}$ ② $\frac{1}{2\pi \sqrt{nLC}}$
③ $\frac{n}{2\pi \sqrt{LC}}$ ④ $\frac{1}{2\pi n \sqrt{LC}}$

24. A-B 양단에서 본 합성 인덕턴스는? (단, 코일간의 상호 유도는 없다고 본다.)



- ① 2.5H ② 5H
③ 10H ④ 15H

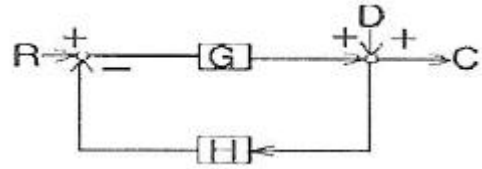
25. 그림과 같은 브리지 회로가 평형이 되기 위한 Z의 값은 몇 Ω 인가? (단, 그림의 임피던스 단위는 모두 Ω 이다.)

- ① -3+j4 ② 2-j4
③ 4-j2 ④ 3+j2

26. 평행한 두 도체 사이의 거리가 2배로 되면 그 작용력은 어떻게 되는가?

- ① 1/4 ② 1/2
③ 2 ④ 4

27. 그림과 같은 블록선도에서 C는?



- ① $\frac{G}{1+HG}R + \frac{G}{1+HG}D$
② $\frac{1}{1+HG}R + \frac{1}{1+HG}D$
③ $\frac{G}{1+HG}R + \frac{1}{1+HG}D$
④ $\frac{1}{1+HG}R + \frac{G}{1+HG}D$

28. 피제어 동작은 프로세스 제어계의 정상 특성 개선에 많이 사용되는데, 이것에 대응하는 보상요소는?

- ① 지상보상요소 ② 진상보상요소
③ 동상보상요소 ④ 지상 및 진상보상요소

29. 다이오드를 사용한 정류회로에서 과대한 부하전류에 의하여 다이오드가 파손될 우려가 있을 경우의 적당한 대책은?

- ① 다이오드를 직렬로 추가한다.
② 다이오드를 병렬로 추가한다.
③ 다이오드의 양단에 적당한 값의 저항을 추가한다.
④ 다이오드의 양단에 적당한 값의 콘덴서를 추가한다.

30. 참값이 4.8 A인 전류를 측정하였더니 4.65 A이었다. 이때 보정 백분율(%)은 약 얼마인가?

- ① + 1.6 ② -1.6
③ +3.2 ④ -3.2

31. 전기기기에서 생기는 손실 중 권선의 저항에 의하여 생기는 손실은?

- ① 철손 ② 동손
③ 표유부하손 ④ 유전체손

32. 제어량을 어떤 일정한 목표 값으로 유지하는 것을 목적으로 하는 제어법은?

- ① 추종제어 ② 비례제어
③ 정치제어 ④ 프로그래밍제어

33. 측정기의 측정범위 확대를 위한 방법의 설명으로 옳지 않은 것은?

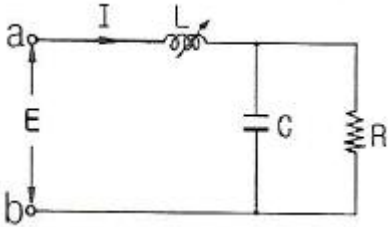
- ① 전류의 측정범위 확대를 위하여 분류기를 사용하고, 전압의 측정범위 확대를 위하여 배율기를 사용한다.
② 분류기는 계기로 직렬로 배율기는 병렬로 접속한다.
③ 측정기 내부 저항을 R_a , 분류기 저항을 R_s 라 할 때, 분류

기의 배율은 $1 + \frac{R_a}{R_s}$ 로 표시된다.

- ④ 축전기 내부 저항을 R_v , 배율기 저항을 R_m 라 할 때, 배율

기의 배율은 $1 + \frac{R_m}{R_v}$ 로 표시된다.

34. 그림과 같은 회로에서 a, b단자에 흐르는 전류 I가 인가 전압 E와 동위상이 되었다. 이때 L 값은?

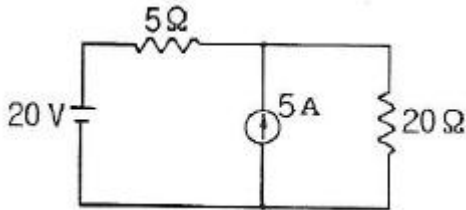


- ① $\frac{R}{1 + \omega CR}$ ② $\frac{R_2}{1 + (\omega CR)^2}$
 ③ $\frac{CR^2}{1 + \omega CR}$ ④ $\frac{CR^2}{1 + (\omega CR)^2}$

35. 전자회로에서 온도 보상용으로 가장 많이 사용되는 것은?

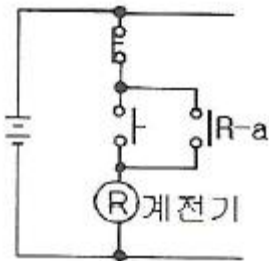
- ① 코일 ② 저항
 ③ 서미스터 ④ 콘덴서

36. 그림에서 저항 20 Ω에 흐르는 전류는 몇 A 인가?



- ① 0.8A ② 1.0A
 ③ 1.8A ④ 2.8A

37. 그림과 같은 시퀀스회로는 어떤 회로인가?



- ① 자기유지회로 ② 인터록회로
 ③ 타이머회로 ④ 수동복귀회로

38. 전동기가 동력원으로 많이 사용되는 이유는?

- ① 종류가 많고 설치가 용이하며, 개별운전이 편리하고 제어가 쉽다.
 ② 종류가 많고 전압이 쉽게 변동되며, 개별운전이 편리하고 제어가 쉽다.
 ③ 단락 등의 고장처리가 간단하며, 무공해 동력원으로 제

어가 쉽다.

- ④ 단락 등의 고장처리가 간단하며, 이동용 동력으로 적당하고 설치가 쉽다.

39. 시퀀스 제어계의 신호전달 계통도이다. 빈칸에 들어갈 알맞은 내용은?



- ① 제어대상 ② 제어장치
 ③ 제어요소 ④ 제어량

40. 교류전압 $V=100V$ 와 전류 $I=3+j4$ A가 주어졌을 때 유효전력은 몇 W 인가?

- ① 300 ② 400
 ③ 500 ④ 600

3과목 : 소방관계법규

41. 소방시설설치유지 및 안전관리에 관한 법률상의 특정소방대상물 중 오피스텔은 어디에 속하는가?

- ① 병원시설 ② 업무시설
 ③ 공동주택시설 ④ 근린생활시설

42. 소방안전관리대상물의 소방안전관리자 업무에 해당하지 않는 것은?

- ① 소방계획서의 작성 및 시행
 ② 화기 취급의 감독
 ③ 소방용 기계·기구의 형식승인
 ④ 피난시설, 방화구역 및 방화시설의 유지·관리

43. 성능위주설계를 하여야 하는 특정소방대상물의 범위의 기준으로 옳지 않은 것은?

- ① 연면적 3만 m^2 이상인 철도 및 도시철도 시설
 ② 연면적 20만 m^2 이상인 특정소방대상물
 ③ 아파트를 포함한 건축물의 높이가 100 m 이상인 특정소방대상물
 ④ 하나의 건축물에 영화 및 비디오물의 진흥에 관한 법률에 따른 영화상영관이 10개 이상인 특정소방대상물

44. 관계인이 특정소방대상물에 대한 소방시설공사를 하고자 할 때 소방공사 감리자를 지정하지 않아도 되는 경우는?

- ① 연면적 1000 m^2 이상을 신축하는 특정소방대상물
 ② 용도 변경으로 인하여 비상방송설비를 추가적으로 설치하여야 하는 특정소방대상물
 ③ 제연설비를 설치하여야 하는 특정소방대상물
 ④ 자동화재탐지설비를 설치하는 길이가 1000m 이상인 지하구

45. 다음 소방시설 중 피난설비에 속하는 것은?

- ① 제연설비, 휴대용비상조명등
 ② 자동화재속보설비, 유도등
 ③ 비상방송설비, 비상벨설비
 ④ 비상조명등, 유도등

46. 소방업무를 전문적이고 효과적으로 수행하기 위하여 소방대원에게 필요한 소방교육·훈련의 회수와 기간은?

- ① 2년마다 1회 이상 실시하되, 기간은 1주 이상
- ② 3년마다 1회 이상 실시하되, 기간은 1주 이상
- ③ 2년마다 1회 이상 실시하되, 기간은 2주 이상
- ④ 3년마다 1회 이상 실시하되, 기간은 2주 이상

47. 형식승인을 받지 아니한 소방용기계·기구를 판매의 목적으로 진열했을 때의 벌칙으로 옳은 것은?(관련 규정 개정전 문제로 기존 정답은 1번이었습니다. 여기서는 1번을 누르면 정답 처리됩니다. 자세한 내용은 해설을 참고하세요.)

- ① 3년 이하의 징역 또는 1500만원 이하의 벌금
- ② 2년 이하의 징역 또는 1500만원 이하의 벌금
- ③ 1년 이하의 징역 또는 1000만원 이하의 벌금
- ④ 1년 이하의 징역 또는 500만원 이하의 벌금

48. 제조소 또는 일반취급소의 변경허가를 받아야 하는 경우에 해당하지 않는 것은?

- ① 배출설비를 신설하는 경우
- ② 소화기의 종류를 변경하는 경우
- ③ 불활성기체의 봉입장치를 신설하는 경우
- ④ 위험물취급탱크의 탱크전용실을 증설하는 경우

49. 소방시설공사사업자의 시공능력을 평가하여 공시 할 수 있는 사람은?(관련규정 개정으로 기존 정답은 4번이었으며 여기서는 4번을 누르면 정답 처리 됩니다. 자세한 내용은 해설을 참고 하세요.)

- ① 관계인 또는 발주자 ② 소방본부장 또는 소방서장
- ③ 시·도지사 ④ 소방방재청장

50. 국고보조의 대상이 되는 소방활동장비 또는 설비에 해당하지 않는 것은?

- ① 소방자동차 ② 소방헬리콥터 및 소방정
- ③ 사무용 집기 ④ 전산설비

51. 소방기본법에서 정의하는 용어에 대한 설명으로 틀린 것은?

- ① “소방대상물”이란 건축물, 차량, 항해 중인 모든 선박과 산림 그 밖의 공작물 또는 물건을 말한다.
- ② “관계지역”이란 소방대상물이 있는 장소 및 그 이웃지역으로서 화재의 예방·경계·진압, 구조·구급 등의 활동에 필요한 지역을 말한다.
- ③ “소방본부장”이란 특별시·광역시·도 또는 특별자치도에서 화재의 예방·경계·진압·조사 및 구조·구급 등의 업무를 담당하는 부서의 장을 말한다.
- ④ “소방대장”이란 소방본부장 또는 소방서장 등 화재, 재난·재해 그 밖의 위급한 상황이 발생한 현장에서 소방대를 지휘하는 사람을 말한다.

52. 소방시설설치유지 및 안전관리에 관한 법률에서 정의하는 소방용품 중 소화설비를 구성하는 제품 및 기기가 아닌 것은?

- ① 소화전 ② 방염제
- ③ 유수제어밸브 ④ 기동용 수압개폐장치

53. 위험물제조소 등의 자체소방대가 갖추어야 하는 화학 소방차의 소화능력 및 설비기준으로 틀린 것은?

- ① 포수용액을 방사하는 화학소방자동차는 방사능력이

2000 l/min 이상이어야 한다.

- ② 이산화탄소를 방사하는 화학소방차는 방사능력이 40 kg/sec 이상이어야 한다.
- ③ 할로겐화합물방사차의 경우 할로겐화합물탱크 및 가압용 가스설비를 비치하여야 한다.
- ④ 제독차를 갖추는 경우 가성소오다 및 규조토를 각각 30kg 이상 비치하여야 한다.

54. 특정소방대상물의 관계인은 근무자 및 거주자에 대한 소방훈련과 교육은 연 몇 회 이상 실시하여야 하는가?

- ① 연 1회 이상 ② 연 2회 이상
- ③ 연 3회 이상 ④ 연 4회 이상

55. 소방특별조사를 실시할 수 있는 경우가 아닌 것은?

- ① 화재가 자주 발생하였거나 발생할 우려가 뚜렷한 곳에 대한 점검이 필요한 경우
- ② 재난예측정보, 기상예보 등을 분석한 결과 소방대상물에 화재, 재난·재해의 발생 위험이 높다고 판단되는 경우
- ③ 화재, 재난·재해 등이 발생할 경우 인명 또는 재산 피해의 우려가 낮다고 판단되는 경우
- ④ 관계인이 실시하는 소방시설 등에 대한 자체점검 등이 불성실하거나 불안전하다고 인정되는 경우

56. 특수가연물 중 가연성고체의 기준으로 옳지 않은 것은?

- ① 인화점이 40 ℃ 이상 100℃ 미만인 것
- ② 인화점이 100 ℃ 이상 200℃ 미만이고, 연소열량이 8kcal/g 이상인 것
- ③ 인화점이 200 ℃ 이상이고, 연소열량이 8kcal/g 이상인 것으로서 융점이 100℃ 미만인 것
- ④ 인화점이 70℃ 이상 250℃ 미만이고, 연소열량이 10kcal/g 이상인 것

57. 대통령령 또는 화재안전기준이 변경으로 그 기준이 강화되는 경우 기존의 특정소방대상물의 소방시설 등에 강화된 기준을 적용해야 하는 소방시설로서 옳은 것은?

- ① 비상경보설비 ② 옥내소화전설비
- ③ 스프링클러설비 ④ 자동화재탐지설비

58. 소방안전관리대상물에 대한 소방안전관리자의 업무가 아닌 것은?

- ① 소방계획서의 작성
- ② 소방훈련 및 교육
- ③ 소방시설의 공사 발주
- ④ 자위소방대 및 초기대응체계의 구성

59. 제조소 등의 완공검사 신청시기로서 틀린 것은?

- ① 지하 탱크가 있는 제조소 등의 경우에는 당해 지하탱크를 매설하기 전
- ② 이동탱크저장소의 경우에는 이동저장탱크를 완공하고 상치장소를 확보한 후
- ③ 이송취급소의 경우에는 이송배관 공사의 전체 또는 일부 완료 후
- ④ 배관을 지하에 설치하는 경우에는 소방서장이 지정하는 부분을 매몰 하고 난 직후

60. 시·도지사는 도시의 건물밀집지역 등 화재가 발생할 우려가 있는 경우 화재경계지구로 지정할 수 있는데 지정대상지역으로 옳지 않은 것은?

- ① 석유화학 제품을 생산하는 공장이 있는 지역
- ② 공장이 밀집한 지역
- ③ 목조건물이 밀집한 지역
- ④ 소방출동로가 확보된 지역

4과목 : 소방전기시설의 구조 및 원리

61. 자동화재탐지설비의 음향장치는 층수가 5층인 소방대상물로서 연면적이 3000m^2 를 초과하는 특정소방대상물에 있어서 지하층에서 발화한 경우 경보를 발할 수 있도록 하여야 하는 층은?
- ① 발화층 · 그 직상층 및 기타의 지하층
 - ② 발화층 및 최상층
 - ③ 발화층 및 그 직상층
 - ④ 발화층 · 그 직상층 및 최상층
62. 자동화재탐지설비의 화재안전기준에서 사용하는 용어의 정의를 설명한 것이다. 다음 중 옳지 않은 것은?
- ① “경계구역”이란 소방대상물 중 화재신호를 발신하고 그 신호를 수신 및 유효하게 제어할 수 있는 구역을 말한다.
 - ② “중계기”란 감지기 · 발신기 또는 전기적접점 등의 작동에 따른 신호를 받아 이를 수신기의 제어반에 전송하는 장치를 말한다.
 - ③ “감지기”란 화재 시 발생하는 열, 연기, 불꽃 또는 연소생성물을 자동적으로 감지하여 수신기에 발신하는 장치를 말한다.
 - ④ “시각경보장치”란 자동화재탐지설비에서 발하는 화재신호를 시각경보기에 전달하여 시각장애인에게 경보를 하는 것을 말한다.
63. 비상콘센트설비 설치 시 자가발전기설비 또는 비상전원수전설비를 비상전원으로 설치하여야 하는 것은?
- ① 지하층을 포함한 층수가 7층인 특정소방대상물
 - ② 지하층의 바닥면적의 합계가 3000m^2 인 특정소방대상물
 - ③ 지하층의 층수가 3층인 특정소방대상물
 - ④ 지하층을 제외한 층수가 5층으로 연면적이 1000m^2 인 특정소방대상물
64. 발신기의 구조 및 원리에 대한 설명으로 틀린 것은?
- ① P형 1급 발신기는 P형 1급 수신기에 접속하여 사용되는 것으로 응답확인램프, 전화장치(전화책), 스위치, 보호판 등으로 구성되어 있다.
 - ② P형 2급 발신기는 P형 1급 발신기의 구조와 거의 비슷하나 P형 2급 수신기에 접속하여 사용하는 것이다.
 - ③ T형 발신기는 수동으로 각 발신기의 공통신호를 수신기에 발신하는 것으로 발신과 동시에 통화가 가능하며 송수화기를 든 경우에는 화재신호를 보낼 수 있어야 한다.
 - ④ M형 발신기는 자동으로 각 발신기의 고유신호를 P형 1급 수신기에 발신하는 것으로 방수형으로 되어 있고 하나의 배선에 의하여 병렬로 접속되어 있다.
65. 특정소방대상물에서 비상경보설비의 설치 면제 기준으로 옳은 것은?
- ① 물분무소화설비 또는 미분무소화설비를 화재안전기준에 적합하게 설치한 경우
 - ② 음향을 발하는 장치를 부설한 방송설비를 화재안전기준에 적합하게 설치한 경우

- ③ 단독경보형 감지기를 2개 이상의 단독경보형 감지기와 연동하여 설치하는 경우
- ④ 피난구유도등 또는 통로유도등을 화재안전기준에 적합하게 설치한 경우

66. 청각장애인용 시각경보장치의 설치기준으로 옳지 않은 것은?
- ① 공연장·집회장·관람장의 경우 시선이 집중되는 무대부분 등에 설치할 것
 - ② 복도·통로·청각장애인용 객실 및 공용으로 사용하는 거실에 설치하며, 각 부분으로부터 유효하게 경보를 발할 수 있는 위치에 설치할 것
 - ③ 시각경보장치의 광원은 상용전원에 의하여 점등되도록 할 것
 - ④ 설치높이는 바닥으로부터 2m 이상 2.5m 이하의 장소에 설치할 것
67. 열반도체식 차동식분포형감지기의 설치개수를 결정하는 기준 바닥면적으로 적합한 것은?
- ① 부착높이가 8 m 미만인 장소로 주요 구조부가 내화구조로 된 소방대상물인 경우 감지기 1종은 40m^2 , 2종은 23m^2 이다.
 - ② 부착높이가 8 m 미만인 장소로 주요 구조부가 내화구조가 아닌 소방대상물인 경우 감지기 1종은 30m^2 , 2종은 23m^2 이다.
 - ③ 부착높이가 8 m 이상 15m 미만인 장소로 주요 구조부가 내화구조로 된 소방대상물인 경우 감지기 1종은 50m^2 , 2종은 36m^2 이다.
 - ④ 부착높이가 8 m 이상 15m미만인 장소로 주요 구조부가 내화구조가 아닌 소방대상물인 경우 감지기 1종은 40m^2 , 2종은 18m^2 이다.
68. 자동화재속보설비 속보기의 표시사항이 아닌 것은?
- ① 품명 및 제품승인번호
 - ② 제조자의 상호·주소·전화번호
 - ③ 주전원의 정격전류용량
 - ④ 예비전원의 종류·정격전류용량·정격전압
69. 복도통로유도등의 설치기준으로 틀린 것은?
- ① 구부러진 모퉁이 및 보행거리 20m 마다 설치할 것
 - ② 바닥으로부터 높이 1.5m 이하의 위치에 설치할 것
 - ③ 지하역사 및 지하상가인 경우에는 복도·통로 중앙부분의 바닥에 설치할 것
 - ④ 바닥에 설치하는 통로유도등은 하중에 따라 파괴되지 아니하는 강도의 것으로 할 것
70. 자동화재탐지설비 수신기의 각 회로별 종단에 설치되는 감지기에 접속되는 배선의 전압은 감지기 정격전압의 몇 % 이상이어야 하는가?
- ① 50
 - ② 60
 - ③ 70
 - ④ 80
71. 다음 ()안의 알맞은 내용으로 옳은 것은?

지하층으로서 특정소방대상물의 바닥부분 (㉠)
면 이상이 지표면과 동일하거나 지표면으로부터의
깊이가 (㉡)m 미하인 경우에는 해당층에 한하
여 무선통신보조설비를 설치하니 마니할 수 있다.

- ① ㉠ 1, ㉡ 1 ② ㉠ 1, ㉡ 2
③ ㉠ 2, ㉡ 1 ④ ㉠ 2, ㉡ 2

72. 객석유도등의 설치개수를 산출하는 공식으로 옳은 것은?

- ① $\frac{\text{객석통로의 직선부분의 길이}(m)}{3} - 1$
② $\frac{\text{객석통로의 직선부분의 길이}(m)}{4} - 1$
③ $\frac{\text{객석통로의 넓이}(m^2)}{3} - 1$
④ $\frac{\text{객석통로의 넓이}(m^2)}{4} - 1$

73. 3선식 배선으로 상시 충전되는 유도등의 전기회로에 점멸기를 설치하는 경우 점등되어야 하는 조건으로 틀린 것은?

- ① 옥외소화전설비의 펌프가 작동되는 때
② 자동화재탐지설비의 감지기 또는 발신기가 작동되는 때
③ 방재업무를 통제하는 곳에서 수동으로 점등하는 때
④ 상용전원이 정전되거나 전원선이 단선되는 때

74. 감지기 중 주위의 온도 또는 연기 양의 변화에 따라 각각 다른 전류치 또는 전압치 등의 출력을 발하는 방식은?

- ① 다신호식 ② 아날로그식
③ 2신호식 ④ 디지털식

75. 누전경보기의 주요 구성요소로 옳은 것은?

- ① 변류기, 감지기, 수신기, 차단기
② 수신기, 음향장치, 변류기, 차단기
③ 발신기, 변류기, 수신기, 음향장치
④ 수신기, 감지기, 증폭기, 음향장치

76. 누전경보기 수신부의 설치로 적당한 곳은?

- ① 옥내에 점검이 편리한 건조한 장소
② 부식성이 증기 등이 다량 체류하는 장소
③ 습도가 높은 장소
④ 온도의 변화가 급격한 장소

77. 비상콘센트설비에서 사용 되는 용어의 정의 중 “특별고압”이라 함은?(2021년 개정된 KEC 규정 적용됨)

- ① 직류 1500V 이하, 교류 1000V 이하인 것
② 교류 1000V를 넘고 7000V 이하인 것
③ 7000V를 초과하는 것
④ 10000V를 초과하는 것

78. 화재발생 상황을 경종으로 경보하는 설비는?

- ① 비상벨설비 ② 자동식사이렌설비

③ 비상방송설비

④ 자동화재속보설비

79. 휴대용 비상조명등의 설치높이는 바닥으로부터 몇 m 이상 몇 m 이하인가?

- ① 0.5 m 이상 1.0 m 이하 ② 0.8 m 이상 1.5 m 이하
③ 0.8 m 이상 2.0 m 이하 ④ 1.0 m 이상 2.5 m 이하

80. 누전경보기에서 옥내형과 옥외형의 차이점은?

- ① 증폭기 설치장소 ② 정전압회로
③ 방수구조 ④ 변류기의 절연저항

전자문제집 CBT PC 버전 : www.comcbt.com

전자문제집 CBT 모바일 버전 : m.comcbt.com

기출문제 및 해설집 다운로드 : www.comcbt.com/x

전자문제집 CBT란?

종이 문제집이 아닌 인터넷으로 문제를 풀고 자동으로 채점하며 모의고사, 오답 노트, 해설까지 제공하는 무료 기출문제 학습 프로그램으로 실제 시험에서 사용하는 OMR 형식의 CBT를 제공합니다.

PC 버전 및 모바일 버전 완벽 연동
교사용/학생용 관리기능도 제공합니다.

오답 및 오탈자가 수정된 최신 자료와 해설은 전자문제집 CBT에서 확인하세요.

| | | | | | | | | | |
|----|----|----|----|----|----|----|----|----|----|
| 1 | 2 | 3 | 4 | 5 | 6 | 7 | 8 | 9 | 10 |
| ③ | ④ | ③ | ① | ④ | ① | ② | ④ | ② | ④ |
| 11 | 12 | 13 | 14 | 15 | 16 | 17 | 18 | 19 | 20 |
| ④ | ④ | ① | ② | ① | ③ | ① | ③ | ② | ④ |
| 21 | 22 | 23 | 24 | 25 | 26 | 27 | 28 | 29 | 30 |
| ① | ② | ④ | ③ | ③ | ② | ③ | ① | ② | ③ |
| 31 | 32 | 33 | 34 | 35 | 36 | 37 | 38 | 39 | 40 |
| ② | ③ | ② | ④ | ③ | ③ | ① | ① | ① | ① |
| 41 | 42 | 43 | 44 | 45 | 46 | 47 | 48 | 49 | 50 |
| ② | ③ | ③ | ② | ④ | ③ | ① | ② | ④ | ③ |
| 51 | 52 | 53 | 54 | 55 | 56 | 57 | 58 | 59 | 60 |
| ① | ② | ④ | ① | ③ | ④ | ① | ③ | ④ | ④ |
| 61 | 62 | 63 | 64 | 65 | 66 | 67 | 68 | 69 | 70 |
| ① | ④ | ② | ④ | ③ | ③ | ③ | ③ | ② | ④ |
| 71 | 72 | 73 | 74 | 75 | 76 | 77 | 78 | 79 | 80 |
| ③ | ② | ① | ② | ② | ① | ③ | ① | ② | ③ |