

1과목 : 암석학 및 광물학

1. 화산암의 일반적인 설명으로 옳은 것은?

- ① 주로 유리질조직 내지는 반상조직을 보인다.
- ② 대표적인 암석에는 화강암이 있다.
- ③ 주 구성광물은 석류석-남정석-근청석이다.
- ④ 대체로 검은색을 띤다.

2. 퇴적환경의 분류에서 다음 중 육성환경에 속하지 않는 것은?

- ① 에르그(erg) ② 플라야(playa)
- ③ 습지(swamp) ④ 석호(lagoon)

3. 다음 화성암의 화학 성분 중 SiO_2 의 함량이 증가함에 따라 함량이 증가하는 성분은?

- ① MgO ② CaO
- ③ $\text{Na}_2\text{O} + \text{K}_2\text{O}$ ④ $\text{Fe}_2\text{O}_3 + \text{FeO}$

4. 용암터널 내지는 용암튜브(lave tube)를 만들 수 있는 마그마는?

- ① 화강암질 마그마 ② 킴벌라이트(kimberlite) 마그마
- ③ 현무암질 마그마 ④ 유문암질 마그마

5. 다음에서 설명하는 퇴적암은?

점토질 기질을 15% 이상 포함하고 분급정도가 낮으며, 견고하게 굳은 사암으로 흔히 암회색을 띠며 모래입자는 일반적으로 원마도가 낮고, 암편, 장석, 유색광물과 같은 불안정한 성분을 많이 포함한다.

- ① 장석질사암(아르코스) ② 석영사암
- ③ 암편사암 ④ 잡사암(그레이와케)

6. 다음에서 가장 고압형의 변성상(metamorphic facies)은?

- ① 불석상(zeolite facies)
- ② 녹색편암상(greenschist facies)
- ③ 각섬석상(amphibolite facies)
- ④ 에클로자이트상(eclogite facies)

7. 심성암체를 지붕과 같이 덮고 있는 암체의 일부로서 후에 침식을 받아 심성암체내에 고립된 분포를 보이는 구조는 무엇인가?

- ① 현수체 ② 병반
- ③ 암맥 ④ 암경

8. 다음 중 속성작용(diagenesis)에 해당하지 않는 것은?

- ① 다저짐 작용 ② 분급 작용
- ③ 재결정 작용 ④ 교결 작용

9. 고철질(염기성)의 화성암이 휘석 혼펠스상의 접촉변성을 받아 생성되는 광물조합에 포함될 수 없는 것은?

- ① 사방휘석 ② 녹염석
- ③ 사장석 ④ 단사휘석

10. 다음 설명에 해당되는 변성암은?

- 1) 주성분은 방해석으로 CaCO_3 이다.
- 2) 모래알 같은 입자들이 보인다.
- 3) 염산과 반응하여 거품을 낸다.
- 4) 예술작품이나 건축자재로 이용된다.

- ① 석회암 ② 편마암
- ③ 대리암 ④ 사문암

11. 다음 중 반금속에 해당되지 않는 원소는?

- ① 탄소 ② 붕소
- ③ 규소 ④ 비소

12. 광물의 물리적 성질은 광물을 이루고 있는 원자들이 서로 결합하는 방식에 따라 달라진다. 광물이 전기와 열에 대한 높은 전도성을 가지며, 불투명한 물리적 성질을 가지게 되는 결합방식은?

- ① 이온결합 ② 공유결합
- ③ 금속결합 ④ 잔류결합

13. 광물 결정의 불규칙한 성장으로 만들어진 형태가 아닌 것은?

- ① 해정(skeletal crystal)
- ② 누대상 결정(zoned crystal)
- ③ 수지상 결정(dendritic crystal)
- ④ 자형결정(euhedral crystal)

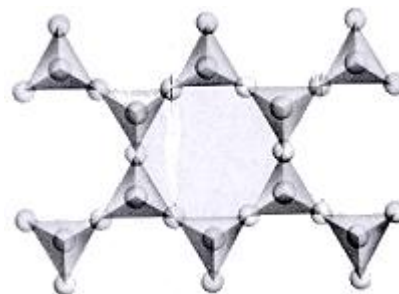
14. 다음 중 석유 또는 침상으로 산출되는 광물은?

- ① 백운석 ② 사장석
- ③ 크리스타일 ④ 할로이사이트

15. 4방향(팔면체상)의 벽개를 보이는 대표적인 광물은?

- ① 녹주석 ② 방해석
- ③ 석아연석 ④ 다이아몬드

16. 규산염 광물은 SiO_4 사면체의 결합 형태에 따라 구분한다. 아래 그림은 각섬석의 구조로서 사면체가 한 방향으로 길게 연결된 사슬이 2가닥으로 이루어진 복쇄형(double chain) 규산염 구조를 보여준다. 이 때 최소 단위의 사면체의 Si : O의 비는 얼마인가?



- ① 1 : 3 ② 1 : 4
- ③ 2 : 7 ④ 4 : 11

17. 광물감정에 이용되는 미네랄라이트(mineralright)의 설명으로 옳은 것은?

- ① 적외선에 의한 광물의 인광색 식별
- ② 자외선에 의한 광물의 형광색 식별
- ③ 음극선에 의한 광물의 인광색 식별

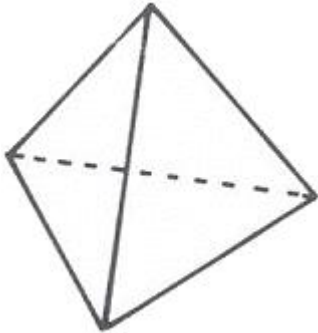
④ X선에 의한 광물의 형광색 식별

18. 다음에서 설명하는 금속 격자형태는?

일명, 등축최밀격자라고도 불리우며, 또는 Cu형 구조라고도 한다. 배위수는 12이고, 원자들이 차지하는 공간은 74.04%이다. 이에 속하는 광물 예로는 Cu, Ag, Au, Pt 등이 있다.

- ① 등축면심격자 ② 금강석형격자
③ 육방최밀격자 ④ 등축체심격자

19. 다음 그림은 정사면체의 결정형이다. 이 결정형에 포함되는 대칭요소가 아닌 것은?



- ① 4회축 ② 대칭면
③ 3회축 ④ 4회 회반축

20. 다음 중 유용 금속원소의 주원료 광물로서 연결이 바른 것은?

- ① 티타늄 - 금홍석 ② 마그네슘 - 저어콘
③ 칼륨 - 카올리나이트 ④ 텅스텐 - 정장석

2과목 : 구조지질학

21. 주향 N30E, 경사 60NW의 절리면이 있다. 이 절리면의 극점의 방향을 방향각(trend)/기운각(plunge)으로 바르게 표시한 것은?

- ① 120/60 ② 120/30
③ 300/60 ④ 300/30

22. 다음 중 섭입대와 관련이 없는 것은?

- ① 안산암질 마그마
② 멜란지(melange)
③ 에클로자이트(eclogite)
④ 쌍모식 화산활동(bimodal volcanism)

23. 판상절리(sheeting joint)의 특징으로 옳지 않은 것은?

- ① 지표면과 대체적으로 평행하다.
② 주로 수평형태로 발달한다.
③ 지하로 갈수록 절리간격이 줄어든다.
④ 인장력에 의해 발생한다.

24. 최대 주응력이 140MPa, 최소 주응력이 60MPa일 때 최소 주응력축과 이루는 각(θ)이 40° 인 면에 작용하는 수직응력(σ_n)과 전단응력(σ_s)의 합은 얼마인가?

- ① 134MPa ② 146MPa

③ 158MPa

④ 162MPa

25. 판의 이동속도를 추정하는데 이용될 수 없는 것은?

- ① 암석의 절대연령 ② 지각 열류량
③ 지자기 이상 ④ 열점

26. 다음 한반도의 지체구조구 중 형성 연대가 가장 최근인 것은?

- ① 경기육괴 ② 옥천습곡대
③ 경상분지 ④ 평남분지

27. 다음 중 지진자료에 의해서 확인된 지구내부의 단면에서 가장 두꺼운 곳은?

- ① 상부맨틀 ② 연약권
③ 암석권 ④ 대륙지각

28. 다음에서 설명하는 엽리는 무엇인가?

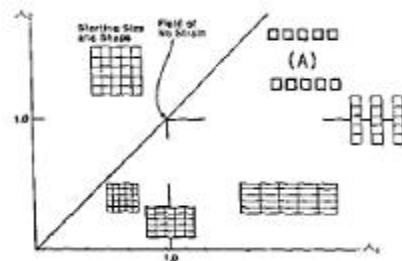
- 기존에 존재하던 엽리의 습곡 작용에 의해 형성된다.
- 기존의 엽리는 마이크로리톤(microlithon)에 보존된다.
- 후퇴변성작용 동안에 주로 형성된다.

- ① 성분엽리(compositional foliation)
② 치아엽리(stylolitic foliation)
③ 파랑엽리(crenulation foliation)
④ 연속엽리(continuous foliation)

29. 다음 중 지자기 연대를 최근부터 순서대로 올바르게 나열한 것은?

- ① 브룬스(Brunhes Epoch), 마쓰야마(Matuyama Epoch), 가우스(Gauss Epoch), 길버트(Gilbert Epoch)
② 마쓰야마(Matuyama Epoch), 가우스(Gauss Epoch), 브룬스(Brunhes Epoch), 길버트(Gilbert Epoch)
③ 가우스(Gauss Epoch), 길버트(Gilbert Epoch), 브룬스(Brunhes Epoch), 마쓰야마(Matuyama Epoch)
④ 브룬스(Brunhes Epoch), 가우스(Gauss Epoch), 길버트(Gilbert Epoch), 마쓰야마(Matuyama Epoch)

30. 다음 그림(변형분포도, strain field diagram)에서 (A) 지역에 나타나는 변형형태는?



- ① 보상변형(compensation)
② 선형신장(linear stretching)
③ 축소변형(contraction)
④ 팽창변형(expansion)

31. 지진활동이 활발한 지진대와 관련이 없는 것은?

- ① 화산대 ② 순상지
③ 조산대 ④ 중앙해령

32. 다음 중 발산형 경계부에 해당하는 지역은?

- ① 인도네시아 ② 일본
③ 아이슬란드 ④ 인도

33. 다음의 선구조(lineation) 중 그 방향이 최소 주응력(σ_3)축과 가장 유사한 것은?

- ① 광물 신장 선구조 ② 습곡축 선구조
③ 부딘 구조 ④ 층리-엽리 교차 선구조

34. 대륙이 한 덩어리의 초대륙(Pangaea)에서 분리되어 현재와 같은 모양의 대륙으로 분포되었다는 대륙표이설의 증거로 옳지 않은 것은?

- ① 열대지방에서 생성되는 석탄층이 남극대륙에서 발견된다.
② 남극대륙, 호주, 남아프리카에서는 같은 종류의 식물 화석이 나타난다.
③ 인도, 아프리카, 호주는 대부분 현재 열대 내지 온대지방이지만 고생대말에 빙하작용이 있었다.
④ 히말라야산맥과 록키산맥은 퇴적암으로 되어있다.

35. 다음 ()안에 들어갈 용어로 옳은 것은?

응력에 대한 모어원에서 모어원의 중심은 (①), 모어원의 반경은 (②), 모어원의 직경은 차응력을 나타낸다.

- ① ① 평균응력(mean stress), ② 편차응력(deviatoric stress)
② ① 수직응력(normal stress), ② 전단응력(shear stress)
③ ① 편차응력(deviatoric stress), ② 평균응력(mean stress)
④ ① 전단응력(shear stress), ② 수직응력(normal stress)

36. 음영대(shadow zone)의 직접적인 원인이 되는 지구 내부구조는?

- ① 맨틀 ② 내핵
③ 외핵 ④ 저속도층

37. 다음 중 해안에서 내륙쪽으로 가장 멀리 떨어진 곳에 쌓인 퇴적층은 어느 것인가?

- ① 선상지 ② 삼각주
③ 사주 ④ 자연제방

38. 남북주향에 동쪽으로 40° 경사진 사면에 평면파괴가 발생할 수 있는 층의 주향과 경사는 다음 중 어느 것인가?

- ① E-S, 35° W ② E-W, 30° N
③ N-S, 50° E ④ N-S, 30° E

39. 다음 중 산사태의 발생 원인에 해당하지 않는 것은?

- ① 해수의 침입에 의해 발생
② 폭우 등에 의해 지표가 물로 포화되고 불안정화되어 발생
③ 인위적인 과도한 절개에 의해 사면이 불안정화 될 경우에 발생

- ④ 큰 지진으로 인해 발생

40. 우리나라의 동해와 일본 열도를 둘러싼 태평양판과 유라시아판 사이의 경계부는 판구조론적(plate tectonics) 관점에서 어떤 경계에 속하는가?

- ① 대륙지각과 대륙지각의 충돌경계
② 대륙지각과 해양지각의 섭입경계
③ 해양지각과 해양지각의 확장경계
④ 대륙지각과 해양지각의 변환단층경계

3과목 : 탐사공학

41. 암석이 수백도의 고온에 이르면 자성을 잃게 되는 성질을 이용하여 지열의 부존을 확인하는 탐사 방법은?

- ① 전기비저항법 ② Curie점법
③ MT법 ④ P파 지연법

42. 반사법 탄성파탐사의 자료처리 과정 중 대역 내에 있는 모든 주파수 성분의 진폭을 같도록 조절하는 것을 무엇이라 하는가?

- ① 백색화(whitening) ② 디멀티플렉싱(demultiplexing)
③ 디링잉(deringing) ④ 디고스팅(degghosting)

43. 지구의 총 자기장은 수직성분(Z)과 수평성분(H)으로 나눌 수 있으며, 다시 수평성분은 지리적 북쪽의 수평성분(X)과 지리적 동쪽의 수평성분(Y)으로 나눌 수 있다. 총자기장 벡터의 강도가 F_E 이며 북각과 편각이 각각 i 와 d 일 때, 지리적 북쪽의 수평성분의 크기는?

- ① $X = F_E \times \sin(i) \times \sin(d)$
② $X = F_E \times \sin(i) \times \cos(d)$
③ $X = F_E \times \cos(i) \times \sin(d)$
④ $X = F_E \times \cos(i) \times \cos(d)$

44. 지오레이다 탐사를 적용하기 전에 고려해야 할 사항으로 옳지 않은 것은?

- ① 대상체의 심도 ② 대상체의 크기와 형상
③ 대상체의 탄성학적 성질 ④ 주변 모양의 특성

45. 다음 중 지층의 공극 또는 모세관을 통하여 전해질이 이동하면서 나타나는 자연전위는?

- ① 전기역학적 전위 ② 확산 전위
③ 세일 전위 ④ 광화 전위

46. 다음 원소 중 지표 부근의 환경조건에 따른 상대적 이동도가 가장 큰 것은?

- ① Cl ② Si
③ Al ④ Fe

47. 지구화학탐사에서 광맥형 금광상의 지시원소로 가장 널리 사용되는 원소는?

- ① 구리(Cu) ② 비소(As)
③ 아연(Zn) ④ 수은(Hg)

48. 탄성파탐사를 위한 에너지원(음원)의 일반적인 형태는 충격형, 임펄스형, 진동형 등 세 가지로 구분된다. 다음 중 진동형 에너지원에 해당하는 것은?

- ① 해머 ② 에어건

- ③ 바이브로사이스 ④ 시추공 스피커

49. 균질한 매질에서 P파의 속도(V_p)와 밀도(ρ)의 관계로 맞는 것은? (단, 탄성계수가 일정하다)

- ① $V_p \propto \rho$ ② $V_E \propto \sqrt{\rho}$
 ③ $V_p \propto 1/\sqrt{\rho}$ ④ $V_p \propto 1/\rho$

50. 다음 중 중력이상이 가장 잘 나타나지 않는 지질 구조는 어느 것인가?

- ① 화강암체 ② 지하공동
 ③ 퇴적분지 ④ 수평층서구조

51. 다음 중 유도분극 탐사에 대한 설명으로 옳지 않은 것은?

- ① 지하에 전류를 흘려보내 분극 현상을 유도하고 이 유도 분극 현상을 측정함으로써 지하 구조를 탐사하는 방법이다.
 ② 유도분극 현상을 일으키는 원인은 크게 막분극과 전극 분극이다.
 ③ 전극배열은 보통 술럼버저 배열을 사용하지만 때로는 웨너, 쌍극자, 단극-쌍극자 배열도 사용된다.
 ④ 유도분극 측정법에는 시간영역 측정법, 주파수영역 측정법, 위상영역 측정법, 광대역 유도분극 측정법이 있다.

52. 시추공 화상처리시스템(BIPS)과 시추공 텔레뷰어(Borehole Televiewer)에 대한 설명으로 옳지 않은 것은?

- ① 시추공 화상처리시스템은 광학적 영상을, 시추공 텔레뷰어는 물성분포에 관한 영상을 제공한다.
 ② 시추공 화상처리시스템은 공내수가 없는 경우 뚜렷한 영상을 얻을 수 있으나 시추공 텔레뷰어는 측정이 불가능하다.
 ③ 시추공 텔레뷰어는 절리 파쇄대의 분포에 관한 영상을 제공하며 실제 암석의 색상을 확인할 수 있다.
 ④ 시추공 화상처리시스템은 사면부와 같이 공내수가 없는 경우 불연속면의 형태 및 암종에 대한 정보를 얻는데 사용된다.

53. 다음 전자탐사법 중 탄성파 탐사와 유사한 방법으로 탐사자료를 획득하고 처리하는 방법은 무엇인가?

- ① MT 탐사법 ② TEM 탐사법
 ③ VLF 탐사법 ④ GPR 탐사법

54. 수평 2층구조에서 굴절법 탄성파탐사를 실시하였다. 탄성파의 임계굴절각이 45° 이고, 제 1층의 탄성파 속도(V_1)가 500m/sec일 때 제 2층의 탄성파 속도(V_2)는 얼마인가?

- ① 약 600m/sec ② 약 700m/sec
 ③ 약 800m/sec ④ 약 900m/sec

55. 다음 중 방사능 탐사에 대한 설명으로 옳지 않은 것은?

- ① 방사능의 측정 단위로는 큐리가 사용되며, γ (gamma)선은 X선의 측정 단위인 렌트겐을 사용한다.
 ② 방사능 붕괴시 α , β 입자를 방출하더라도 모원소의 원자번호 변화는 없다.
 ③ 방사능 탐사에서는 주로 γ 선을 이용한다.
 ④ 일반적으로 많이 사용되는 방사능 측정 기기에는 가이거계수기와 신틸레이션 미터가 있다.

56. 지구의 자기장에 의해 페리자성 광물들의 자화방향이 지구 자기장 방향으로 정렬되어 자성을 갖는 것을 열잔류 자기라 하는데, 다음 중 열잔류 자기를 가지는 경우가 많은 암석

은?

- ① 화성암 ② 변성암
 ③ 육성기원 퇴적암 ④ 해성기원 퇴적암

57. 48channel의 수신기를 이용하여 CMP(common midpoint)모음 방법을 통하여 탄성파 자료를 획득하고자 한다. 수신기 간격은 40m, 음원간의 간격도 40m 라고 할 때, 공통반사점을 가지는 트레이스의 수(CMP 수)는 얼마인가?

- ① 24 ② 36
 ③ 48 ④ 60

58. 다음 중 암석의 절대연령 측정 방법에 해당되지 않는 것은?

- ① K-Ar 법 ② Rb-Sr 법
 ③ U-Pb 법 ④ S-Sr 법

59. 중력탐사에서 일반적으로 사용되는 단위인 mGal을 cgs 단위로 올바르게 표현한 것은? [단, 1mGal을 변환한 것임]

- ① 0.001cm/s^2 ② 0.1cm/s^2
 ③ 1cm/s^2 ④ 1000cm/s^2

60. 다음 중 지층의 공극률을 구할 수 없는 물리 검증법은?

- ① 공경 검증 ② 전기비저항 검증
 ③ 음파 검증 ④ 밀도 검증

4과목 : 지질공학

61. 토질시험법 중 사운딩(sounding)에 대한 설명으로 옳지 않은 것은?

- ① 로드 선단의 저항체를 땅속에 넣어 관입, 회전, 인발 등의 지반의 강도 및 밀도 등을 구하는 시험이다.
 ② 사운딩은 크게 정적시험과 동적시험으로 구분한다.
 ③ 정적시험으로는 표준관입시험이 대표적이다.
 ④ 베인전단시험은 연약점토 지반에 적당한 시험법으로 원위치 전단강도 측정에 사용된다.

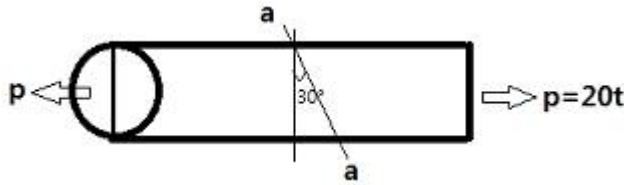
62. 암반사면에서 평면파괴가 일어나기 위해 만족되어야 하는 기하학적인 조건으로 옳지 않은 것은?

- ① 미끄러짐면은 경사면에 평행하거나 거의 평행해야 한다.
 ② 미끄러짐면의 경사각은 그 면의 마찰각보다 작아야 한다.
 ③ 미끄러짐면의 경사각은 사면의 경사각보다 작아야 한다.
 ④ 미끄러짐에 저항력을 갖지 않는 이완면이 미끄러짐의 측면 경계부로서 암반 내에 존재해야 한다.

63. 기초 지반의 지지력과 예상 침하량을 추정하기 위해 현장에서 실시하는 시험법은?

- ① CBR시험 ② 평판재하시험
 ③ 패커시험 ④ 베인전단시험

64. 단면적이 30cm^2 인 원형단면의 암석시험편에 그림과 같이 인장 축하중(P) 20톤이 작용하고 있다. 인장 축하중이 작용하는 면과 30° 를 이루는 a-a 경사면에 작용하는 수직응력(normal stress)의 크기는?



- ① 240kg/cm² ② 360kg/cm²
③ 420kg/cm² ④ 500kg/cm²

65. 화강암체 등 지하 심부 암석이 침식을 받아 지표에 노출되어 암석에 작용하던 상부하중이 제거되면서 형성되는 절리는?

- ① 판상절리 ② 주상절리
③ 공액절리 ④ 방사상절리

66. 암반의 역학적 특성에 대한 설명으로 옳지 않은 것은?

- ① 암반의 변형특성은 암반내에 존재하는 불연속면의 성질 등에 의해 좌우된다.
② 암반은 풍화가 될수록 탄성계수가 저하된다.
③ 암반은 공극률이 커질수록 변형계수가 커진다.
④ 암반은 절리 간격이 작을수록 전단강도는 저하된다.

67. 지반침하를 형태에 따라 분류할 때 골형 침하(trough subsidence)에 대한 설명으로 옳지 않은 것은?

- ① 수평층 또는 완만한 경사층에서 발생하는 경향이 있다.
② 넓은 지역에 걸쳐 발생한다.
③ 심도에 크게 영향을 받지 않는다.
④ 침하량이 크고 침하 형상이 불연속적이다.

68. 암반의 초기응력을 측정하기 위한 시험으로 적합하지 않은 것은?

- ① Flat jack 법 ② 수압파쇄시험법
③ 압력터널시험법 ④ 오버코어링법

69. 지반조사를 위한 수세식 시추(wash boring)에 관한 설명으로 옳지 않은 것은?

- ① 수세식 시추는 비트의 상하운동과 비트 내부를 통해 뿜어진 압력수의 작용으로 지반을 굴진하는 방식이다.
② 시추공에는 대개 케이싱이나 진흙물을 사용하여 공벽붕괴를 방지한다.
③ 수세식 시추는 장치가 간단하고 경제적이며, 매우 연약한 점토 및 세립의 사질토에 적당하다.
④ 수세식 시추는 다른 시추방식에 비하여 시추공 바닥면 아래의 지반이 많이 교란되는 단점이 있다.

70. 건조밀도가 1.40g/cm³인 흙의 공극비(e)와 공극률(n)은 각각 얼마인가? [단, 흙의 비중은 2.5이다.]

- ① e = 0.51, n = 34% ② e = 0.79, n = 44%
③ e = 0.51, n = 50% ④ e = 0.79, n = 68%

RQD

J_n

71. 암반분류법인 Q 분류법에서 J_n 항은 암반의 구조를 나타내는 것으로 암반 블록의 크기에 대한 측정치이다. 이 때 측정치의 최대값과 최소값의 비(최대값/최소값)는 얼마인가?

- ① 10 ② 20

③ 200

④ 400

72. 단일 수두의 변화에 따라 단위 표면적 당 유입하거나 배출할 수 있는 물의 체적을 의미하는 것은?

- ① 자유계수 ② 비보유율
③ 투수계수 ④ 투수량계수

73. 어떤 모래의 공극비가 0.7인 상태에서 투수계수가 0.05cm/sec이었다. 이 모래를 다져서 공극비가 0.3으로 감소하였을 때 투수계수는 얼마인가?

- ① 0.009cm/sec ② 0.015cm/sec
③ 0.027cm/sec ④ 0.032cm/sec

74. 유선망에 대한 설명으로 틀린 것은?

- ① 등수선과 유선은 항상 직각이다.
② 인접한 두 유선 사이를 흐르는 유량은 일정하다.
③ 유선 사이의 거리가 넓어지면 유속이 빨라진다.
④ 인접한 두 등수선 사이의 수두손실은 동일하다.

75. 다음 중 깊은 기초(deep foundation)에 해당하지 않는 것은?

- ① 말뚝기초 ② 피어기초
③ 확대기초 ④ 케이슨기초

76. 다음 중 지반개량공법인 진동 부유 공법(Vibroflotation)의 특징으로 옳지 않은 것은?

- ① 느슨한 사질지반에 대한 물다짐, 진동다짐의 효과를 지중에 이용한 공법이다.
② 공사기간이 빠르고 공사비가 싸다.
③ 진동 다짐에 의해 지반내의 지하수위의 고저에 영향을 미친다.
④ 개량할 수 있는 지반의 깊이는 통상 7~8m 정도이다.

77. 습곡구조에 터널을 굴착할 때에 발생할 수 있는 현상에 대한 설명으로 옳지 않은 것은?

- ① 습곡의 향사부에서는 지압이 증가할 수 있다.
② 습곡의 배사부 정정부에서는 지표로부터 용수가 침투할 수 가능성이 적다.
③ 습곡의 향사부 아래에 불투수층이 있는 경우는 터널에서 용수가 있을 수 있다.
④ 습곡의 배사부에서는 지층의 아치작용에 의해 지압이 경감될 수 있다.

78. 암반내 어느 지점에서 암반에 작용하는 초기지압을 측정한 결과 암반의 자중에 의해 발생하는 연직방향의 응력이 최대 주응력으로 밝혀졌다. 이 지점에서 지압에 의한 전단파괴로 단층이 형성되었다면 가장 가능성이 큰 단층의 종류는?

- ① 정단층(normal fault)
② 역단층(reverse fault)
③ 변환단층(transform fault)
④ 주향이동단층(strike slip fault)

79. 국제암반역학회(ISRM)는 개략적인 체적절리계수와 RQD의 관계를 제시하였다. 체적절리계수가 15개/m³ 일 때 RQD는 얼마인가?

- ① 74% ② 66%
③ 49% ④ 33%

80. 통일분류법에 의한 흙의 공학적 분류에서 GM으로 분류된 흙의 특성을 올바르게 설명한 것은?

- ① 입도 양호한 자갈 ② 점토질 자갈
③ 모래 섞인 입도 불량한 자갈 ④ 모래 섞인 실트질 자갈

5과목 : 광상학

81. 광화유체의 기원과 구성, 광상생성연령, 광상생성온도와 압력을 측정하는데 기여한 동위원소에 해당하지 않는 원소는?

- ① 수소 ② 산소
③ 황 ④ 아연

82. 다음 중 열극 충전조직에 해당하지 않는 것은?

- ① 정동구조 ② 어란상구조
③ 누피구조 ④ 대칭적 호상구조

83. 우리나라의 석탄자원이 무연탄이 주로 분포하는 지층의 지질시대는?

- ① 신생대 ② 중생대
③ 고생대 ④ 선캄브리아기

84. 광화준비작용은 광화작용이 일어나기 전에 모암을 광화유체에 대하여 더 수용적이고, 반응적이게 하는 작용이다. 다음 중 광화준비작용에 해당되지 않는 것은?

- ① 모암의 파쇄적 증가 ② 모암의 반응성 증가
③ 모암의 투수성 증가 ④ 모암의 가소성 증가

85. 다음 중 고령토 광상에 대한 설명으로 옳지 않은 것은?

- ① 우리나라의 고령토는 암석중의 운모류가 고령토화작용에 의해 분해되어 생성된다.
② 우리나라에는 경상남도에 많이 분포한다.
③ 고령토의 가장 중요한 용도는 요업 원료이다.
④ 고령토의 품질은 백색도와 내화도를 주로 본다.

86. 다음 중 우리나라의 주요 금속 광상과 산출광물의 연결로 옳은 것은?

- ① 상동 - Pb · Zn, 양양 - Cu, 연화 - Fe
② 상동 - W, 양양 - Cu, 연화 - Pb · Zn
③ 상동 - W, 양양 - Fe, 연화 - Pb · Zn
④ 상동 - Pb · Zn, 양양 - W, 연화 - Fe

87. 다음 광물 중에서 공생관계를 갖지 않는 것은?

- ① 황동석, 섬아연석 ② 금, 석영, 황철석
③ 휘장연석, 형석, 유비철석 ④ 형석, 휘수연석

88. 반암동 광상은 어떤 광상에 해당하는가?

- ① 열수광상 ② 페그마타이트광상
③ 기성광상 ④ 접촉교대광상

89. 다음 중 석유의 집유구조(oil trap)와 관계가 없는 지질구조는?

- ① 단층 ② 절리
③ 습곡 ④ 부정합

90. 접촉교대광상을 가장 잘 형성할 수 있는 관입암은?

- ① 화강섬록암 ② 화강암
③ 반력암 ④ 안산암

91. 다음 중 마그마분화광상에 해당하는 우리나라의 광상은?

- ① 울산광상 ② 달성광상
③ 신예미광상 ④ 소연평도광상

92. 다음 중 우리나라의 주요 동광상구는?

- ① 태백산광화대 ② 경기광화대
③ 옥천광화대 ④ 경남광화대

93. 열수유체로부터 광석광물의 침전이 일어나는 주요원인이 아닌 것은?

- ① 유체의 온도변화
② 유체의 압력변화
③ 유체 혼합에 의한 용량변화
④ 모암과 유체의 반응에 의한 화학적 변화

94. 다음 중 가장 저온성 열수광상에서 형성되는 광석광물은?

- ① 방연석(galena) ② 침철석(goethite)
③ 황동석(chalcopyrite) ④ 섬아연석(sphalerite)

95. 천열수 광상은 크게 고유황형(high-sulfidation)과 저유황형(low-sulfidation)으로 구분한다. 다음 중 고유황형에 대한 설명으로 옳은 것은?

- ① 맥 내에서 석영, 방해석과 함께 빙장석(adularia)이 발견된다.
② 대표적인 변질광물은 견운모(sericite)와 녹니석(chlorite)이다.
③ 유체의 성질은 매우 강한 산성을 띠며, 산화환경을 지시한다.
④ 광화 유체의 성분은 마그마수에 비해 지표수가 지배적이다.

96. 국내 주요 비철금속 산업원료광물의 공급원인 연 · 아연광상의 탐사계획 수립 시 주요 검토 대상 광상유형에 해당되지 않는 것은?

- ① 풍화잔류광상 ② 접촉교대광상
③ 열수교대광상 ④ 열극충진 교대광상

97. VMS(volcanic massive sulfide) 광상은 산출하는 금속에 따라 구리-아연 그룹과 아연-납-구리 그룹으로 구분한다. 다음 중 그룹이 다른 하나는?

- ① 노란다형(Noranda-type)
② 구로코형(Kuroko-type)
③ 사이프러스형(Cyprus-type)
④ 베시형(Besshi-type)

98. 열수광상 중 가장 높은 온도와 압력 하에서 생성된 것으로, 스키아르 광물을 수반하는 유형은?

- ① 심열수광상 ② 중열수광상
③ 천열수광상 ④ 제노서말광상

99. 다음 중 페그마타이트 광상에 관한 설명으로 옳지 않은 것은?

- ① 이 유형의 광상에서는 금-은 광상이 흔히 산출된다.
② 마그마분화말기에 반화강암의 관입활동과 성인적으로 관

련된다.

- ③ 이 유형의 광상에서 누대구조가 흔히 관찰되는 것은 비
평형상태에서의 분별결정화작용에 의한 것이다.
- ④ 이 유형의 광상에서는 희유원소광물이 흔히 산출된다.

100. 다음 중 우리나라의 천열수형 금·은 광상에 대한 설명으
로 옳지 않은 것은?

- ① 주된 광화시기는 백악기말이다.
- ② 생성심도는 일반적으로 750m 미만이다.
- ③ 천열수형 광상으로는 통영, 순산 광상 등이 있다.
- ❶ Au/Ag 비는 5:1 ~ 8:1 정도이다.

전자문제집 CBT PC 버전 : www.comcbt.com

전자문제집 CBT 모바일 버전 : m.comcbt.com

기출문제 및 해설집 다운로드 : www.comcbt.com/xs

전자문제집 CBT란?

종이 문제집이 아닌 인터넷으로 문제를 풀고 자동으로 채점하며
모의고사, 오답 노트, 해설까지 제공하는 무료 기출문제 학습 프
로그램으로 실제 시험에서 사용하는 OMR 형식의 CBT를 제공합
니다.

PC 버전 및 모바일 버전 완벽 연동
교사용/학생용 관리기능도 제공합니다.

오답 및 오탈자가 수정된 최신 자료와 해설은 전자문제집 CBT
에서 확인하세요.

1	2	3	4	5	6	7	8	9	10
①	④	③	③	④	④	①	②	②	③
11	12	13	14	15	16	17	18	19	20
①	③	④	③	④	④	②	①	①	①
21	22	23	24	25	26	27	28	29	30
②	④	③	②	②	③	①	③	①	④
31	32	33	34	35	36	37	38	39	40
②	③	①	④	①	③	①	④	①	②
41	42	43	44	45	46	47	48	49	50
②	①	④	③	①	①	②	③	③	④
51	52	53	54	55	56	57	58	59	60
③	③	④	②	②	①	①	④	①	①
61	62	63	64	65	66	67	68	69	70
③	②	②	④	①	③	④	③	④	②
71	72	73	74	75	76	77	78	79	80
④	①	①	③	③	③	②	①	②	④
81	82	83	84	85	86	87	88	89	90
④	②	③	④	①	③	③	①	②	①
91	92	93	94	95	96	97	98	99	100
④	④	③	②	③	①	②	①	①	④