

1과목 : 전기자기학

1. 평균길이 1[m], 권수 1000회의 솔레노이드 코일에 비투자율 1000의 철심을 넣고 자속밀도 1[wb/m²]을 얻기 위해 코일에 흘려야 할 전류는 몇 [A]인가?

- ① $\frac{10}{4\pi}$ ② $\frac{10}{8\pi}$
 ③ $\frac{6\pi}{100}$ ④ $\frac{4\pi}{10}$

2. 정전 에너지, 전속밀도 및 유전상수 ϵ_r 의 관계에 대한 설명 중 옳지 않은 것은?

- ① 동일 전속밀도에서는 ϵ_r 이 클수록 정전에너지는 작아진다.
 ② 동일 정전에너지에서는 ϵ_r 이 클수록 전속밀도가 커진다.
 ③ 전속은 매질에 축적되는 에너지가 최대가 되도록 분포된다.
 ④ 굴절각이 큰 유전체는 ϵ_r 이 크다.

3. 전기 쌍극자에 의한 등전위면을 극좌표로 나타내면? (단, k는 상수이다.)

- ① $r^2 = k \sin \theta$ ② $r^2 = \sqrt{k \sin \theta}$
 ③ $r^2 = k \cos \theta$ ④ $r^2 = \sqrt{k \cos \theta}$

4. 유전체에서 변위 전류를 발생시키는 것은?

- ① 분극전하밀도의 공간적 변화
 ② 분극전하밀도의 시간적 변화
 ③ 전속밀도의 공간적 변화
 ④ 전속밀도의 시간적 변화

5. 면전하 밀도가 ρ_s [C/m²]인 무한히 넓은 도체판에서 R[m]만큼 떨어져 있는 점의 전기의 세기 [V/m]는?

- ① $\frac{\rho_s}{\epsilon_0}$ ② $\frac{\rho_s}{2\epsilon_0}$
 ③ $\frac{\rho_s}{4\pi R^2}$ ④ $\frac{\rho_s}{2R}$

6. 무한히 넓은 두 장의 도체판을 d[m]의 간격으로 평행하게 놓은 후, 두 판 사이에 V[V]의 전압을 가한 경우 도체판의 단위 면적당 작용하는 힘은 몇 [N/m²]인가?

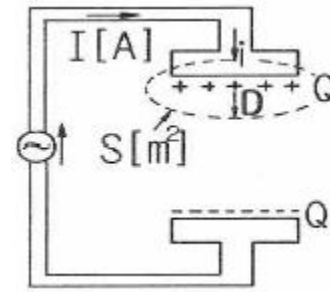
- ① $f = \epsilon_0 \frac{V^2}{d}$ ② $f = \frac{1}{2} \epsilon_0 \frac{V^2}{d}$
 ③ $f = \frac{1}{2} \epsilon_0 \left(\frac{V}{d}\right)^2$ ④ $f = \frac{1}{2} \frac{1}{\epsilon_0} \left(\frac{V}{d}\right)^2$

7. 일반적으로 자구를 가지는 자성체는?

- ① 상자성체 ② 강자성체
 ③ 역자성체 ④ 비자성체

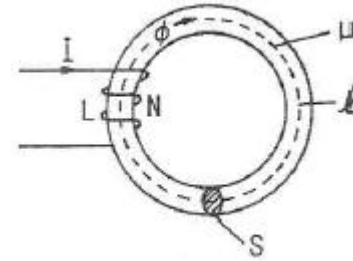
8. 그림과 같이 평행판 콘덴서에 교류전원을 접속할 때 전류의 연속성에 대하여 성립하는 식은? (단, E : 전기장, D : 전속

밀도, ρ : 체적전하밀도, i : 전도전류 밀도, B : 자속밀도, t : 시간이다.)



- ① $\nabla \cdot D = \rho$ ② $\nabla \times E = -\frac{\partial B}{\partial t}$
 ③ $\nabla \cdot (i + \frac{\partial D}{\partial t}) = 0$ ④ $\nabla \cdot B = 0$

9. 그림에서 $\ell=100$ [cm], $S=10$ [cm²], $\mu_s=100$, $N=1000$ 회인 회로에서 전류 $I=10$ [A]를 흘렸을 때 저장되는 에너지는 몇 [J]인가?



- ① $2\pi \times 10^{-1}$ ② $2\pi \times 10^{-2}$
 ③ $2\pi \times 10^{-3}$ ④ 2π

10. 맥스웰의 전자방정식에 대한 의미를 설명한 것으로 잘못된 것은?

- ① 자계의 회전은 전류밀도와 같다.
 ② 전기의 회전은 자속밀도의 시간적 감소비율과 같다.
 ③ 단위체적 당 발산 전속수는 단위 체적 당 공간전하 밀도와 같다.
 ④ 자계는 발산하며, 자극은 단독으로 존재한다.

11. 전자파의 전파속도 [m/s]에 대한 설명 중 옳은 것은?

- ① 유전율에 비례한다.
 ② 유전율에 반비례한다.
 ③ 유전율과 투자율의 곱의 제곱근에 비례한다.
 ④ 유전율과 투자율의 곱의 제곱근에 반비례한다.

12. 액체 유전체를 포함한 콘덴서 용량이 C[F] 인 것에 V[V]의 전압을 가했을 경우에 흐르는 누설전류는 몇 [A]인가? (단, 유전체의 유전율은 ϵ , 고유저항은 $\rho[\Omega \cdot m]$ 이다.)

- ① $\frac{CV}{\rho\epsilon}$ ② $\frac{C}{\rho\epsilon V}$
 ③ $\frac{\rho\epsilon V}{C}$ ④ $\frac{\rho\epsilon}{CV}$

13. 환상철심에 권수 3000회의 A코일과 권수 200회인 B코일이 감겨져있다. A 코일의 자기 인덕턴스가 360[mH]일 때, A, B 두 코일의 상호 인덕턴스 [mH]는? (단, 결합계

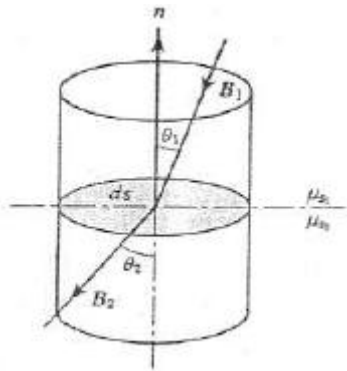
수는 1이다.)

- ① 16 ② 24
③ 36 ④ 72

14. 강자성체의 자속밀도 B의 크기와 자화의 세기 J의 크기 사이에는 어떤 관계가 있는가?

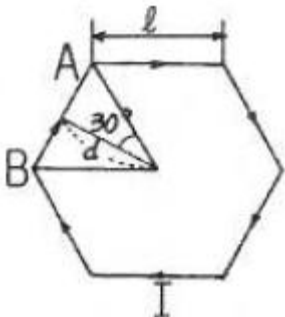
- ① J는 B와 같다.
② J는 B보다 약간 작다.
③ J는 B보다 약간 크다.
④ J는 B보다 대단히 크다.

15. 그림과 같이 비투자율이 μ_{s1} , μ_{s2} 인 각각 다른 자성체를 접하여 놓고 θ_1 을 입사각이라 하고, θ_2 를 굴절각이라 한다. 경계면에 자하가 없는 경우 미소 폐곡면을 취하여 이곳에 출입하는 자속수를 구하면?



- ① $\int_l B \cdot n \, dl = 0$
② $\int_s B \cdot n \, dS = 0$
③ $\int_s B \cdot dS = 0$
④ $\int_s B \cdot n \sin \theta \, dS = 0$

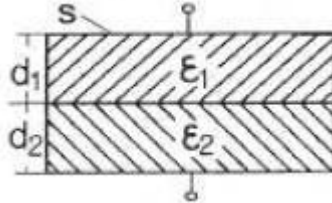
16. 그림과 같이 한 변의 길이가 l [m]인 정6각형 회로에 전류 I [A]가 흐르고 있을 때 중심 자계의 세기는 몇 [A/m]인가?



- ① $\frac{1}{2\sqrt{3}\pi l} \times I$ ② $\frac{2\sqrt{2}}{\pi l} \times I$

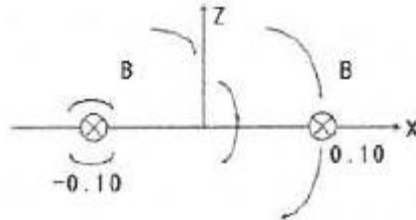
- ③ $\frac{\sqrt{3}}{\pi l} \times I$ ④ $\frac{\sqrt{3}}{2\pi l} \times I$

17. 그림과 같이 면적 S [m²]인 평행판 콘덴서의 극판 간에 판과 평행으로 두께 d_1 [m], d_2 [m], 유전율 ϵ_1 [F/m], ϵ_2 [F/m]의 유전체를 삽입하면 정전용량 [F]은?



- ① $\frac{S}{\frac{d_1}{\epsilon_1} + \frac{d_2}{\epsilon_2}}$ ② $\frac{S}{\frac{\epsilon_1}{d_1} + \frac{\epsilon_2}{d_2}}$
③ $\frac{S}{d_1\epsilon_1 + d_2\epsilon_2}$ ④ $\frac{S}{d_1\epsilon_2 + d_2\epsilon_2}$

18. 두 개의 길고 직선인 도체가 평행으로 그림과 같이 위치하고 있다. 각 도체에는 10[A]의 전류가 같은 방향으로 흐르고 있으며, 이격거리는 0.2[m]일 때 오른쪽 도체의 단위 길이당 힘은? (단, a_x , a_z 는 단위 벡터이다.)



- ① $10^{-2}(-a_x)$ [N/m] ② $10^{-4}(-a_x)$ [N/m]
③ $10^{-2}(-a_z)$ [N/m] ④ $10^{-4}(-a_z)$ [N/m]

19. 패러데이의 법칙에 대한 설명으로 가장 알맞은 것은?

- ① 전자유도에 의하여 회로에 발생하는 기전력은 자속 쇄교수의 시간에 대한 증가율에 반비례한다.
② 전자유도에 의하여 회로에 발생하는 기전력은 자속의 변화를 방해하는 방향으로 기전력이 유도된다.
③ 정전유도에 의하여 회로에 발생하는 기전력은 자속의 변화 방향으로 유도된다.
④ 전자유도에 의하여 회로에 발생하는 기전력은 자속 쇄교수의 시간 변화율에 비례한다.

20. 대전된 도체의 특징이 아닌것은?

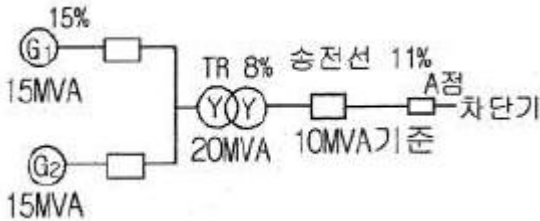
- ① 도체에 인가된 전하는 도체 표면에만 분포한다.
② 가우스 법칙에 의해 내부에는 전하가 존재한다.
③ 전계는 도체 표면에 수직인 방향으로 진행된다.
④ 도체 표면에서의 전하밀도는 곡률이 클수록 높다.

2과목 : 전력공학

21. 용량 30MVA, 33/11KV, Δ -Y 결선 변압기에 차동 보호 계전기가 설치되어 있다. 이 변압기로 30MVA 부하에 전력을 공급할 때 부하에 설치된 (－) CT의 결선방법과 (－) CT전류로 가장 적합한 것은?

- ① (↖) Y 결선 (↘) 3.9A
 ② (↖) Y 결선 (↘) 6.8A
 ③ (↖) Δ결선 (↘) 3.9A
 ④ (↖) Δ결선 (↘) 6.8A

22. 그림과 같은 전력 계통에서 A점에 설치된 차단기의 단락 용량 [MVA]은? (단, 각 기기의 % 리액턴스는 발전기 G_1 , G_2 는 정격용량 15MVA 기준 각각 15%이고, 변압기는 정격용량 20MVA 기준 8%, 송전선은 정격용량 10MVA 기준 11%이며, 기타 다른 정수는 무시한다.)



- ① 5 ② 50
 ③ 500 ④ 5000

23. 송전선로에서 이상전압이 가장 크게 발생하기 쉬운 경우는?

- ① 무부하 송전선로를 폐로하는 경우
 ② 무부하 송전선로를 개로하는 경우
 ③ 부하 송전선로를 폐로하는 경우
 ④ 부하 송전선로를 개로하는 경우

24. 3000kW, 역률80%(늦음)의 부하에 전력을 공급하고 있는 변전소의 역률을 90%로 향상시키는데 필요한 전력용 콘덴서의 용량 [kVA]은?

- ① 약 600 ② 약 700
 ③ 약 800 ④ 약 900

25. 각 수용가의 수용률 및 수용가 사이의 부등률이 변화할 때 수용가군 총합의 부하율에 대한 설명으로 옳은 것은?

- ① 수용률에 비례하고 부등률에 반비례한다.
 ② 부등률에 비례하고 수용률에 반비례한다.
 ③ 부등률과 수용률에 모두 비례한다.
 ④ 부등률과 수용률에 모두 반비례한다.

26. 원자로에 사용되는 감속재가 구비하여야 할 조건으로 틀린 것은?

- ① 중성자 에너지를 빨리 감속시킬 수 있을 것
 ② 불필요한 중성자 흡수가 적을 것
 ③ 원자의 질량이 클 것
 ④ 감속능 및 감속비가 클 것

27. 장거리 송전선로는 일반적으로 어떤 회로로 취급하여 회로를 해석하는가?

- ① 분산 부하 회로 ② 집중 정수 회로
 ③ 분포 정수 회로 ④ 특성 임피던스 회로

28. 송전선로의 고장전류의 계산에 영상 임피던스가 필요한 경우는?

- ① 3상 단락 ② 3선 단선
 ③ 1선 지락 ④ 선간 단락

29. 조상설비에 대한 설명으로 잘못된 것은?

- ① 송수전단의 전압이 일정하게 유지되도록 하는 조정 역할을 한다.
 ② 역률의 개선으로 송전 손실을 경감시키는 역할을 한다.
 ③ 전력 계통 안정도 향상에 기여한다.
 ④ 이상전압으로부터 선로 및 기기의 보호능력을 가진다.

30. 송전 용량이 증가함에 따라 송전선의 단락 및 지락전류도 증가하여 계통에 여러 가지 장애요인이 되고 있는데 이들의 경감대책으로 적합하지 않은 것은?

- ① 계통의 전압을 높인다.
 ② 발전기와 변압기의 임피던스를 작게한다.
 ③ 송전선 또는 모선간에 한류 리액터를 삽입한다.
 ④ 고장 시 모선 분리 방식을 채용한다.

31. 비접지 방식에 대한 설명 중 옳은 것은?

- ① 보호 계전기의 동작이 가장 확실하다.
 ② 고전압 송전방식으로 주로 채택하고 있다.
 ③ 장거리 송전에 적합하다.
 ④ V-V 결선이 가능하다.

32. 1선의 저항이 10Ω , 리액턴스가 15Ω 인 3상 송전선이 있다. 수전단 전압 60kV, 부하역률 0.8(lag), 부하전류 100A 라고 할 때, 송전단 전압 [kV]은?

- ① 61 ② 63
 ③ 81 ④ 83

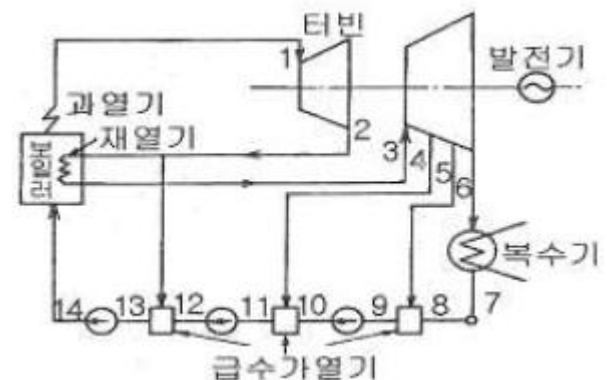
33. 6.6kV 고압 배전선로(비접지 선로)에서 지락보호를 위하여 특별히 필요치 않은 것은?

- ① 과전류 계전기(OCR)
 ② 선택접지 계전기(SGR)
 ③ 영상 변류기(ZCT)
 ④ 접지 변압기(GPT)

34. 6.6kV, 60Hz, 3상 3선식 비접지식에서 선로의 길이가 10km이고, 1선의 대지정전용량이 $0.005[\mu F/km]$ 일때 1선 지락시의 고장전류 $I_g[A]$ 의 범위로 옳은것은?

- ① $I_g < 1$ ② $1 < I_g < 2$
 ③ $2 < I_g < 3$ ④ $3 < I_g < 4$

35. 고압고온을 채용한 기력발전소에서 채용되는 열 사이클로 그림과 같은 장치 선도의 열사이클은?



- ① 랭킨 사이클 ② 재생 사이클

③ 재열 사이클

④ 재열재생 사이클

36. 유역 면적이 4000km^2 인 어떤 발전 지점이 있다. 유역내의 연 강우량이 1400mm 이고, 유출계수가 75%라고 하면 그 지점을 통과하는 연평균 유량 [m^3/sec]은?

① 약 121

② 약 133

③ 약 251

④ 약 150

37. 기저 부하용으로 사용하기 적합한 발전방식은?

① 석탄 화력

② 저수지식 수력

③ 양수식 수력

④ 원자력

38. 전력원선도에서 구할 수 없는 것은?

① 송수전 할 수 있는 최대 전력

② 필요한 전력을 보내기 위한 송수전 전압간의 상차각

③ 선로 손실과 송전 효율

④ 과도극한 전력

39. Δ 결선의 3상 3선식 배전선로가 있다. 1선이 지락 하는 경우 건전상의 전위 상승은 지락 전의 몇 배가 되는가?

① $\sqrt{3}$

② 3

③ $3\sqrt{2}$ ④ $3/2$

40. 직렬 콘덴서를 선로에 삽입할 때의 이점이 아닌것은?

① 선로의 인덕턴스를 보상한다.

② 수전단의 전압 변동률을 줄인다.

③ 정태 안정도를 증가한다.

④ 수전단의 역률을 개선한다.

3과목 : 전기기기

41. 다음 ()안에 알맞은 내용은?

직류기의 회전속도가 위험한 상태가 되지 않으려면 직권 전동기는 (①) 상태로, 분권 전동기는 (②) 상태가 되지 않도록 하려야 한다.

① ① 무부하, ② 무여자

② ① 무여자, ② 무부하

③ ① 무여자, ② 경부하

④ ① 무부하, ② 경부하

42. 전기자 반작용에 대한 설명으로 틀린 것은?

① 전기자 중성축이 이동하여 주자속이 증가하고 정류자편 사이의 전압이 상승한다.

② 전기자 권선에 전류가 흘러서 생긴 기자력은 계자 기자력에 영향을 주어서 자속의 분포가 기울어진다.

③ 직류 발전기에 미치는 영향으로는 중성축이 이동되고 정류자 편간의 불꽃 섬락이 일어난다.

④ 전기자 전류에 의한 자속이 계자 자속에 영향을 미치게 하여 자속 분포를 변화시키는 것이다.

43. 정격 $5[\text{kw}]$, $100[\text{V}]$, $50[\text{A}]$, $1500[\text{rpm}]$ 의 타여자 직류 발전기가 있다. 계자전압 $50[\text{V}]$, 계자전류 $5[\text{A}]$, 전기자 저항 $0.2[\Omega]$ 이고 브러시에서 전압 강하는 $2[\text{V}]$ 이다. 무부하시와 정격부하시의 전압차는 몇 $[\text{V}]$ 인가?

① 12

② 10

③ 8

④ 6

44. 유도 전동기의 2차측 저항을 2배로 하면 최대 토크는 몇 배로 되는가?

① 3배

② 2배

③ 변하지 않는다.

④ $1/2$ 배

45. 사이리스터의 래칭 전류에 관한 설명으로 옳은 것은?

① 게이트를 개방한 상태에서 사이리스터 도통 상태를 유지하기 위한 최소전류

② 게이트 전압을 인가한 후에 급히 제거한 상태에서 도통 상태가 유지되는 최소의 순 전류

③ 사이리스터의 게이트를 개방한 상태에서 전압이 상승하면 급히 증가하게 되는 순 전류

④ 사이리스터가 턴온하기 시작하는 전류

46. 변압기의 성층철심 강판 재료의 규소 함유량은 대략 몇 [%]인가?

① 8

② 6

③ 4

④ 2

47. 1차 전압 $3300[\text{V}]$, 권수비가 30인 단상 변압기로 전등 부하에 $20[\text{A}]$ 를 공급할 때의 입력 $[\text{kW}]$ 은?

① 2.2

② 3.3

③ 6.6

④ 9.9

48. 단상 변압기에서 전부하의 2차 전압은 $100[\text{V}]$ 이고, 전압 변동률은 3[%]이다. 1차 단자전압 $[\text{V}]$ 은? (단, 1차, 2차 권선비는 20:1 이다.)

① 1940

② 2060

③ 2260

④ 2360

49. 동기 전동기에서 감자작용을 할 때는 어떤 경우인가?

① 공급 전압보다 앞선 전류가 흐를 때

② 공급 전압보다 뒤진 전류가 흐를 때

③ 공급 전압과 동상 전류가 흐를 때

④ 공급 전압에 상관없이 전류가 흐를 때

50. 2방향성 3단자 사이리스터는 어느 것인가?

① SCR

② SSS

③ SCS

④ TRIAC

51. 3상 분권 정류자 전동기인 슈라게 전동기의 특성은?

① 1차 권선을 회전자에 둔 3상 권선형 유도 전동기

② 1차 권선을 고정자에 둔 3상 권선형 유도 전동기

③ 1차 권선을 고정자에 둔 3상 농형 유도 전동기

④ 1차 권선을 회전자에 둔 3상 농형 유도 전동기

52. 3상 유도 전동기가 경부하에서 운전 중 1선의 퓨즈가 잘못되어 용단되었을 때는?

① 속도가 증가하여 다른 선의 퓨즈도 용단된다.

② 속도가 늦어져서 다른 선의 퓨즈도 용단된다.

③ 전류가 감소하여 운전이 얼마동안 계속된다.

④ 전류가 증가하여 운전이 얼마동안 계속된다.

53. 유도 전동기의 2차 효율은? (단, s는 슬립이다.)

① $1/s$

② s

③ $1-s$ ④ s^2

54. 15[kW] 3상 유도전동기의 기계손이 350[W], 전부하시의 슬립이 3[%]이다. 전부하시의 2차 동손은 약 몇 [W]인가?

① 523

② 475

③ 411

④ 365

55. 60[Hz] 6극 10[kW]인 유도전동기가 슬립 5[%]로 운전할 때 2차의 동손이 500[W]이다. 이 전동기의 전부하시의 토크[kg·m]는?

① 약 4.3

② 약 8.5

③ 약 41.8

④ 약 83.5

56. 동기 발전기의 병렬운전 중 여자 전류를 증가시키면 그 발전기는?

① 전압이 높아진다. ② 출력이 커진다.

③ 역률이 좋아진다. ④ 역률이 나빠진다.

57. 터빈 발전기의 냉각을 수소냉각방식으로 하는 이유가 아닌 것은?

① 풍손이 공기 냉각시의 약 1/10으로 줄어든다.

② 열전도율이 좋고 가스 냉각기의 크기가 작아진다.

③ 절연물의 산화 작용이 없으므로 절연열화가 작아 수명이 길다.

④ 반폐형으로 하기 때문에 이물질의 침입이 없고, 소음이 감소한다.

58. 브러시리스 DC 서보 모터의 특징으로 틀린 것은?

① 단위 전류당 발생 토크가 크고 효율이 좋다.

② 토크 맥동이 작고, 안정된 제어가 용이하다.

③ 기계적 시간 상수가 크고 응답이 느리다.

④ 기계적 접점이 없고 신뢰성이 높다.

59. 변압기 결선방식 중 3상에서 6상으로 변환할 수 없는 것은?

① 환상 결선

② 2중 3각 결선

③ 포크 결선

④ 우드 브리지 결선

60. 다음 () 안에 알맞은 내용을 순서대로 나열한 것은?

사이리스터에서는 게이트 전류가 흐르면 순방향의 저지 상태에서 ()상태로 된다. 게이트 전류를 가하여 도통 완료까지의 시간을 ()시간 미라고 하나 이 시간이 길면 ()시의 ()이 많고 사이리스터 소자가 파괴되는 수가 있다.

① ON, TURN ON, 스위칭, 전력손실

② ON, TURN ON, 전력손실, 스위칭

③ 스위칭, ON, TURN ON, 전력손실

④ TURN ON, 스위칭, ON, 전력손실

4과목 : 회로이론 및 제어공학

61. 특성 방정식 $s^2 + 2\delta\omega_n s + \omega_n^2 = 0$ 이 부족제동을 하

기 위한 값은?

① $\delta = 1$ ② $\delta < 1$ ③ $\delta > 1$ ④ $\delta = 0$

62. 페루프 전달함수 $\frac{G(s)}{1 + G(s)H(s)}$ 의 극의 위치를 루프 전달함수 $G(s)H(s)$ 의 이득 상수 K의 함수로 나타내는 기법은?

① 근궤적법

② 주파수 응답법

③ 보드 선도법

④ 나이퀴스트 판정법

63. 다음 진리표의 논리 소자는?

입력		출력
A	B	C
0	0	1
0	1	0
1	0	0
1	1	0

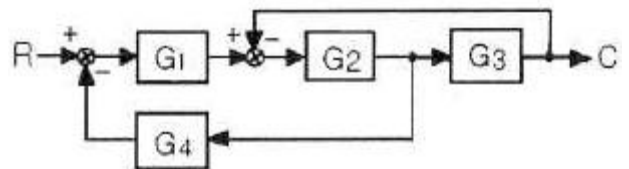
① NOR

② OR

③ AND

④ NAND

64. 그림과 같은 블록선도에 대한 등가 종합 전달함수 (C/R)는?



$$\frac{G_1 G_2 G_3}{1 + G_1 G_2 + G_1 G_2 G_3}$$

$$\frac{G_1 G_2 G_3}{1 + G_2 G_2 + G_1 G_2 G_3}$$

$$\frac{G_1 G_2 G_4}{1 + G_1 G_2 + G_1 G_2 G_4}$$

$$\frac{G_1 G_2 G_3}{1 + G_2 G_3 + G_1 G_2 G_4}$$

65. $G(s) = \frac{s+2}{s^2+1}$ 의 극점과 영점은?

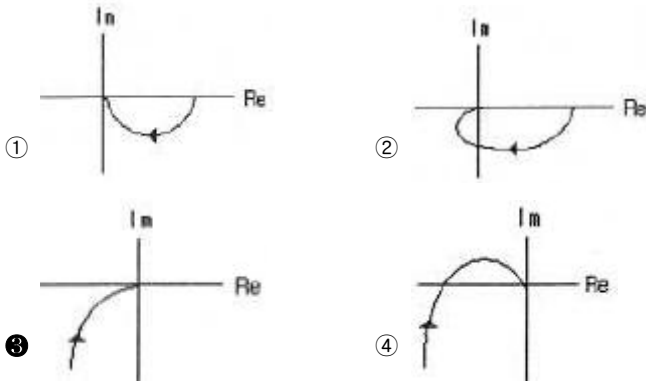
① -2, -2

② -j, -2

③ -2, j

④ $\pm j$, -2 와 ∞

66. $G(j\omega) = \frac{K}{j\omega(j\omega+1)}$ 의 나이퀴스트 선도를 도시한 것은? (단, $K > 0$ 이다.)



67. 상태 방정식 $\dot{x}(t)=Ax(t)+Br(t)$ 인 제어계의 특성 방정식은?

- ① $|sI - B| = I$ ② $|sI - A| = I$
 ③ $|sI - B| = 0$ ④ $|sI - A| = 0$

68. 샘플러의 주기를 T 라 할 때 s 평면상의 모든 점은 식 $z=e^{sT}$ 에 의하여 z 평면상에 사상된다. s 평면의 좌반 평면상의 모든 점은 z 평면상 단위원의 어느 부분으로 사상되는가?

- ① 내점 ② 외점
 ③ 원주상의 점 ④ z 평면 전체

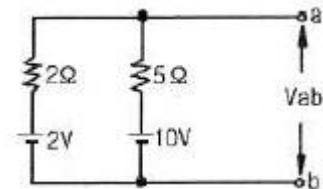
69. 물체의 위치, 각도, 자세, 방향 등을 제어량으로 하고 목표값의 임의의 변화에 추종하는 것과 같이 구성된 제어장치를 무엇이라고 하는가?

- ① 프로세서 제어 ② 서보기구
 ③ 자동조정 ④ 추종 제어

70. 어떤 제어계의 전달함수 $G(s) = \frac{s}{(s+2)(s^2+2s+2)}$ 에서 안정성을 판정하면?

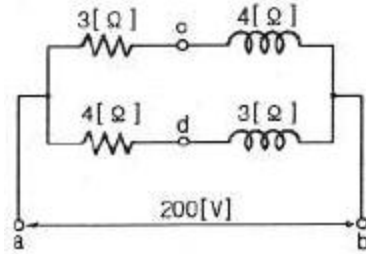
- ① 안정하다. ② 불안정하다.
 ③ 임계상태이다. ④ 알 수 없다.

71. 그림에서 단자 ab에 나타나는 전압 V_{ab} 는 몇 [V]인가?




- ① 약 2 ② 약 4.3
 ③ 약 5.6 ④ 약 8

72. 회로에서 단자 a, b 사이에 교류전압 200[V]를 가하였을 때, c, d 사이의 전위차는 몇 [V]인가?



- ① 46 ② 96
 ③ 56 ④ 76

73. 블록선도에서 $C(s)=R(s)$ 라면 전달함수 $G(s)$ 는?

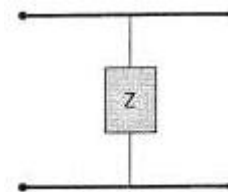


- ① 0 ② -1
 ③ ∞ ④ 1

74. 선로의 임피던스 $Z = R+j\omega L$ [Ω], 병렬 어드미턴스가 $Y=G+j\omega C$ [S]일 때, 선로의 저항 R 과 콘덕턴스 G 가 동시에 0이 되었을 때 전파정수는?

- ① $j\omega\sqrt{LC}$ ② $j\omega\sqrt{\frac{C}{L}}$
 ③ $j\omega\sqrt{L^2C}$ ④ $j\omega\sqrt{\frac{L}{C^2}}$

75. 그림과 같은 4단자망에서 정수 행렬은?



- ① $\begin{pmatrix} 1 & Z \\ 0 & 1 \end{pmatrix}$ ② $\begin{pmatrix} 1 & 0 \\ \frac{1}{Z} & 1 \end{pmatrix}$
 ③ $\begin{pmatrix} 1 & Z \\ \frac{1}{Z} & 1 \end{pmatrix}$ ④ $\begin{pmatrix} Z & 1 \\ 1 & 0 \end{pmatrix}$

76. RL 직렬회로에

$$e = 20 + 100\sqrt{2}\sin\omega t + 40\sqrt{2}\sin(3\omega t + 60^\circ) + 40\sqrt{2}\sin 5\omega t [V]$$

인 전압을 가할 때 제 5고조파 전류의 실효값은 몇 [A]인가? (단, $R=4[\Omega]$, $\omega L=1[\Omega]$ 이다.)

- ① 약 6.25 ② 약 8.83
 ③ 약 12.5 ④ 약 16.0

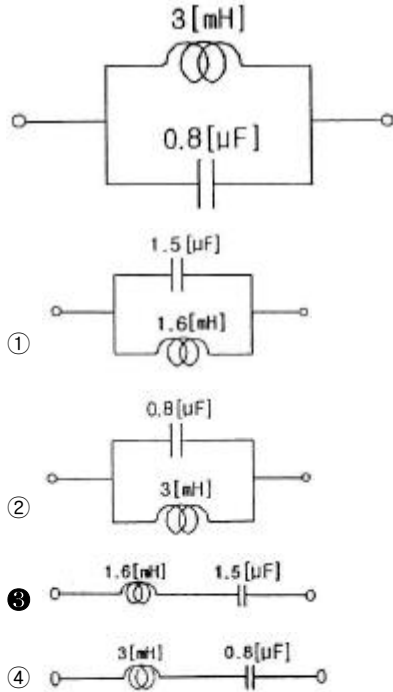
77. $F(s) = \frac{8}{s^3} + \frac{3}{s+2}$ 의 역 라플라스 변환은?

- ① $3t^2+3e^{-3t}u(t)$ ② $4t^2+3e^{-2t}u(t)$
 ③ $8t^2-3e^{-2t}u(t)$ ④ $8t^2+3e^{-2t}u(t)$

78. 대칭 3상 4선식 전력계통이 있다. 단상 전력계 2개로 전력을 측정하였더니 각전력계의 값이 각각 $-301[\text{W}]$ 및 $1327[\text{W}]$ 이었다. 이때 역률은 약 얼마인가?

- ① 0.94 ② 0.75
③ 0.62 ④ 0.34

79. 다음 회로의 역회로는? (단, $K^2=2 \times 10^3$ 이다.)



80. 저항 R , 인덕턴스 L , 콘덴서 C 의 직렬회로에서 발생하는 과도현상이 진동이 되지 않을 조건은?

- ① $\left(\frac{R}{2L}\right)^2 - \frac{1}{LC} > 0$ ② $\left(\frac{R}{2L}\right)^2 - \frac{1}{LC} < 0$
③ $\left(\frac{R}{2L}\right)^2 - \frac{1}{LC} = 0$ ④ $\frac{R}{2L} - \frac{1}{LC} = 0$

5과목 : 전기설비기술기준 및 판단기준

81. 철탑의 강도 계산에 사용하는 이사 시 상정하중의 종류가 아닌것은?

- ① 수직하중 ② 좌굴하중
③ 수평 횡하중 ④ 수평 종하중

82. 220[V] 저압전로의 절연저항은 몇 [$\text{M}\Omega$] 이상이어야 하는가?

- ① 0.1 ② 0.2
③ 0.3 ④ 0.4

83. 애자 사용 공사에 의한 고압 옥내배선에 사용되는 연동선의 최소 지름은 몇 [mm^2]인가?

- ① 2.5 ② 4
③ 6 ④ 8

84. 옥내 방전등 공사에 대한 설명으로 알맞지 않은 것은?(오류 신고가 접수된 문제입니다. 반드시 정답과 해설을 확인

하시기 바랍니다.)

- ① 관등회로의 사용전압이 400[V] 이상인 경우에는 방전 등용 변압기를 설치할 것
② 습기가 많은 곳에 시설하는 경우에는 적절한 방습장치를 할 것
③ 관등회로의 사용전압이 400[V] 이상의 저압인 경우는 특별 제 3종 접지공사를 할 것
④ 관등회로의 사용전압이 고압이고 관등회로의 동작전류가 10[A]를 넘는 경우는 제 1종 접지공사를 할 것

85. 저압 옥내간선에서 분기하여 전기사용기계기구에 이르는 저압 옥내 전로에서 저압 옥내간선과 분기점에서 전선의 길이 가 몇 [m] 이하인 곳에 개폐기 및 과전류 차단기를 설치하여야 하는가?

- ① 3 ② 4
③ 5 ④ 6

86. 가공전선로의 지지물 구성체가 강관으로 구성되는 철탑으로 할 경우 갑종 풍압하중은 몇 [Pa]의 풍압을 기초로 하여 계산한 것인가? (단, 단주는 제외하며 풍압은 구성재의 수직 투영면적 1[m^2]에 대한 풍압이다.)

- ① 588 ② 1117
③ 1255 ④ 2157

87. 태양전지 발전소에 시설하는 태양전지 모듈, 전선 및 개폐기, 기타 기구의 시설에 관한 설명 중 틀린 것은?

- ① 충전 부분은 노출되지 아니하도록 시설할 것
② 태양전지 모듈에 접속하는 부하측 전로에는 그 접속점에 근접하여 개폐기 또는 부하전류를 개폐할수 있는 기구를 시설 할 것
③ 전선은 공칭 단면적 1.5[mm^2] 이상의 연동선 또는 이와 동등 이상의 세기 및 굵기의 것일 것
④ 태양전지 모듈을 병렬 접속하는 전로에는 전로를 보호하는 과전류 차단기를 시설할 것

88. 과전류 차단기로 시설하는 퓨즈 중 고압전로에 사용하는 포장 퓨즈는 2배의 정격전류시 몇 분 안에 용단되어야 하는가?

- ① 2 ② 30
③ 60 ④ 120

89. 직류 전기철도에 선택 배류기를 시설할 때 적합하지 않은 것은?

- ① 전기적 접점은 선택 배류기 회로를 개폐할 때 생기는 아크에 견디는 구조이어야 한다.
② 선택 배류기를 보호하기 위해 적절한 과전류 차단기를 시설하여야 한다.
③ 금속제 외함에는 제 3종 접지 공사를 하여야 한다.
④ 강제 변류기를 설치하여 전식에 의한 장애를 방지할 수 없는 경우 선택 배류기를 설치하여야 한다.

90. 제 3종 접지공사의 접지저항은 몇 [Ω]이하로 유지하여야 하는가?

- ① 10 ② 50
③ 100 ④ 200

91. 금속 덕트 공사에 의한 저압 옥내배선 공사 시설에 적합하지 않은 것은?

- ① 저압 옥내배선의 사용전압이 400[V] 미만인 경우에는

덕트에 제 3종 접지공사를 한다.

- ② 금속 덕트에 넣은 전선의 단면적의 합계가 덕트의 내부 단면적의 20[%]이하가 되도록 한다.
- ③ 금속 덕트는 두께 1.0[mm] 이상인 철판으로 제작하고 덕트 상호간에 완전하게 접속한다.
- ④ 덕트를 조영재에 붙이는 경우 덕트 지지점간의 거리를 3[m] 이하로 견고하게 붙인다.

92. 가공 전선로의 지지물에 시설하는 지선의 시설기준에 대한 설명 중 옳은 것은?

- ① 지선의 안전율은 2.5 이상일 것
- ② 연선을 사용하는 경우 소선 4가닥 이상의 연선일 것
- ③ 지중 부분 및 지표상 100[cm]까지의 부분은 철봉을 사용 할 것
- ④ 도로를 횡단하여 시설하는 지선의 높이는 지표상 4.5[m] 이상으로 할 것

93. 저압 옥내배선의 사용전선으로 적합하지 않은 것은?

- ① 단면적 2.5[mm²] 이상의 연동선
- ② 단면적 1[mm²] 이상의 미네랄인슈레이션 케이블
- ③ 사용전압 400[V] 미만인 경우 전광표시 장치에 사용한 단면적 0.75[mm²]이상의 연동선
- ④ 사용전압 400[V] 미만인 경우 출퇴 표시등에 사용한 단면적 0.75[mm²] 이상의 다심 케이블

94. 백열전등 또는 방전등에 전기를 공급하는 옥내전로의 대지 전압은 몇 [V] 이하이어야 하는가?

- ① 440 ② 380
- ③ 300 ④ 100

95. 발전소에 시설하여야 하는 계측장치가 아닌것은?

- ① 발전기의 전압 및 전류
- ② 주요 변압기의 역률
- ③ 발전기의 고정자 온도
- ④ 특고압용 변압기의 온도

96. 변전소에서 154[kV]급으로 변압기를 옥외에 시설할 때 취급자 이외의 사람이 들어가지 않도록 시설하는 울타리는 울타리의 높이와 울타리에서 충전부분까지의 거리의 합계를 몇 [m] 이상으로 하여야 하는가?

- ① 5 ② 5.5
- ③ 6 ④ 6.5

97. 중성선 다중 접지식으로 전로에 지락이 생겼을 때에 2초 이내에 자동적으로 이를 전로로부터 차단하는 장치가 되어 있는 사용전압 22900[V]인 특고압 가공전선과 식물과의 이격 거리는 몇 [m] 이상이어야 하는가?

- ① 1.2 ② 1.5
- ③ 2 ④ 2.5

98. 차량, 기타 중량물의 압력을 받을 우려가 없는 장소에 지중 전선을 직접 매설식에 의하여 매설하는 경우에는 매설 깊이를 몇 [cm] 이상으로 하여야 하는가?

- ① 40 ② 60
- ③ 80 ④ 100

99. 계기용 변성기의 2차측 전로에 시설하는 접지공사는?(관련 규정 개정전 문제로 여기서는 기존 정답인 4번을 누르면

정답 처리됩니다. 자세한 내용은 해설을 참고하세요.)

- ① 고압인 경우 제 1종 접지공사
- ② 고압인 경우 제 2종 접지공사
- ③ 특고압인 경우 제 3종 접지공사
- ④ 특고압인 경우 제 1종 접지공사

100. 저압 옥상전선로 시설에 대한 설명으로 옳지 않은것은?

- ① 전선과 옥상전선로를 시설하는 조영재와의 이격거리를 0.5[m]로 하였다.
- ② 전선은 상시부는 바람 등에 의하여 식물에 접촉하지 않도록 시설하였다.
- ③ 전선은 절연 전선을 사용하였다.
- ④ 전선은 지름 2.6[mm]의 경동선을 사용하였다.

전자문제집 CBT PC 버전 : www.comcbt.com

전자문제집 CBT 모바일 버전 : m.comcbt.com

기출문제 및 해설집 다운로드 : www.comcbt.com/xe

전자문제집 CBT란?

종이 문제집이 아닌 인터넷으로 문제를 풀고 자동으로 채점하며 모의고사, 오답 노트, 해설까지 제공하는 무료 기출문제 학습 프로그램으로 실제 시험에서 사용하는 OMR 형식의 CBT를 제공합니다.

PC 버전 및 모바일 버전 완벽 연동
교사용/학생용 관리기능도 제공합니다.

오답 및 오탈자가 수정된 최신 자료와 해설은 전자문제집 CBT에서 확인하세요.

1	2	3	4	5	6	7	8	9	10
①	③	③	④	②	③	②	③	④	④
11	12	13	14	15	16	17	18	19	20
④	①	②	②	②	③	①	②	④	②
21	22	23	24	25	26	27	28	29	30
④	②	②	③	②	③	③	③	④	②
31	32	33	34	35	36	37	38	39	40
④	②	①	①	④	②	④	④	①	④
41	42	43	44	45	46	47	48	49	50
①	①	①	③	④	③	①	②	①	④
51	52	53	54	55	56	57	58	59	60
①	④	③	②	②	④	④	③	④	①
61	62	63	64	65	66	67	68	69	70
②	①	①	④	④	③	④	①	②	①
71	72	73	74	75	76	77	78	79	80
②	③	④	①	②	①	②	④	③	①
81	82	83	84	85	86	87	88	89	90
②	②	③	④	①	③	③	④	④	③
91	92	93	94	95	96	97	98	99	100
③	①	③	③	②	③	②	②	④	①