

1과목 : 기계가공법 및 안전관리

- 연삭에서 스톨입자를 결합시키는 결합제가 갖추어야 할 조건이 아닌 것은?
 ① 적당한 가공이 생기는 성능이 있을 것
 ② 결합력을 좁은 범위에서 유지할 것
 ③ 성형성이 좋을 것
 ④ 자생작용의 성능이 있을 것
- 드릴 작업에서, 일감이 드릴과 같이 회전하여 다치는 경우가 있기 때문에 어느 때 가장 주의하여야 하는가?
 ① 처음 구멍을 뚫을 때
 ② 중간쯤 구멍이 뚫렸을 때
 ③ 처음 시작할 때와 끝날 때
 ④ 거의 구멍이 다 뚫렸을 때
- 모듈 2.5, 잇수 36의 표준 스퍼기어의 가공에서 소재의 바깥 지름으로 가장 적당한 것은?
 ① 90 (mm) ② 95 (mm)
 ③ 80 (mm) ④ 85 (mm)
- 손에 의하여 기계를 가공할 때 가장 중요한 것은?
 ① 신뢰성 ② 견고성
 ③ 안전성 ④ 기민성
- 절삭제의 사용 목적 중 틀린 것은?
 ① 공구의 냉각을 돕는다.
 ② 공구와 칩의 친화력을 돕는다.
 ③ 가공물의 냉각을 돕는다.
 ④ 가공물 표면의 방청을 돕는다.
- 탭에서 챔퍼(chamfer)란 다음 중 어느 것인가?
 ① 불완전 나사부분 ② 탭 부분
 ③ 완전한 나사부분 ④ 손잡이 부분
- 밀링 머신에서 일반적으로 경질 재료를 절삭할 때 틀린 것은?
 ① 저속으로 절삭 ② 이송을 천천히
 ③ 이송을 빠르게 ④ 절삭깊이를 적게
- 래핑(lapping)가공의 장점 설명 중 틀린 것은?
 ① 가공면이 매끈한 거울면을 얻을 수 있다.
 ② 정밀도가 높은 제품을 만들 수 있다.
 ③ 가공된 면은 내식성, 내마모성이 좋다.
 ④ 가공된 표면의 경도가 높다.
- 특정한 모양이나 치수의 제품을 대량 생산하는데 적합하도록 만든 공작기계를 무엇이라고 하는가?
 ① 범용공작기계 ② 전용공작기계
 ③ 단능공작기계 ④ 만능공작기계
- 줄 눈의 크기가 가장 미세한 줄은?
 ① 유목 ② 세목
 ③ 중목 ④ 황목

- 광통신에 사용되고 있는 광섬유의 재료로 가장 많이 사용되고 있는 것은?
 ① 알루미늄 ② 구리
 ③ 규산유리 ④ 탄화티탄
- 지름 $D_1 = 200\text{mm}$, $D_2 = 300\text{mm}$ 의 내접 마찰차에서 그 중심 거리는?
 ① 50 mm ② 100 mm
 ③ 125 mm ④ 250 mm
- 공작기계의 이송나사(Feed screw)로 널리 사용되고 나사의 밑이 두꺼워 산마루와 골에 틈이 생기게되므로 공작이 용이하고 맞물림이 좋으며 마모에 대하여 조정하기 쉬운 이점이 있는 나사는?
 ① 유니파이드나사 ② 너클나사
 ③ 톱나사 ④ 사다리꼴나사
- 주조용 Mg합금으로 내연기관 피스톤으로 사용되는 Mg-Al-Zn계 합금은?
 ① 엘렉트론 ② 배빗메탈
 ③ 알리타이징 ④ 칼로라이징
- 재료의 극한강도와 허용응력의 비를 무엇이라고 하는가?
 ① 변형율 ② 강도율
 ③ 안전율 ④ 응력율

2과목 : 기계재료 및 기계요소

- 기어에서 이의 크기를 나타내는 기준이 아닌 것은?
 ① 원주 피치 ② 모듈
 ③ 지름 피치 ④ 유효 이 높이
- 록웰 경도 시험에서 HRC 의 경도값 계산식은? (단, h : 압입자국의 깊이)
 ① $100-500.h$ ② $200-500.h$
 ③ $150-500.h$ ④ $130-500.h$
- 코일스프링의 직경이 30mm, 소선의 직경이 5mm 일 때 스프링 지수는?
 ① 0.17 ② 2.8
 ③ 6 ④ 17
- 실용되고 있는 보통 주철의 탄소 함유량은 약 몇 % 인가?
 ① 1.7-2.5% ② 2.5-4.5%
 ③ 4.5-5.5% ④ 5.5-6.67%
- 다음 중 불변강의 종류로 볼 수 없는 것은?
 ① 인바 ② 엘린바
 ③ 코엘린바 ④ 퍼멀로이
- 다음 중 일정쇄선이 사용되지 않는 경우인 것은?
 ① 특수한 가공을 실시하는 부분을 표시하는 선
 ② 기어나 스프로킷 등의 이 부분에 기입하는 피치선이나 피치원 표시하는 선
 ③ 공구 지그 등의 위치를 참고로 표시하는 선

① 보이지 않은 부분을 나타내기 위하여 쓰는 선

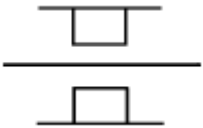
22. 헐거운 끼워 맞춤인 경우 구멍의 최소 허용치수에서 축의 최대 허용치수를 뺀 값은?

- ① 최소 틈새 ② 최대 틈새
③ 최소 점새 ④ 최대 점새

23. 다음 가공 방법과 약호가 올바르게 짝지어진 것은?

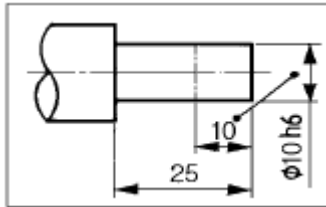
- ① 보링 가공 : PH ② 랩 다듬질 : RD
③ 리밍 다듬질 : FR ④ 줄 다듬질 : FC

24. 그림과 같이 나타난 것은 무슨 베어링인가?



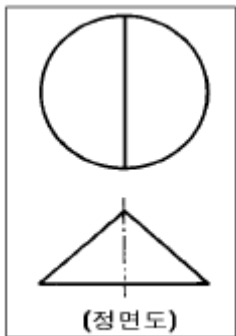
- ① 원통 롤러 베어링 ② 원추 롤러 베어링
③ 레디얼 볼 베어링 ④ 드러스트 볼 베어링

25. 보기 도면의 10 이란 숫자 해독으로 올바른 것은?



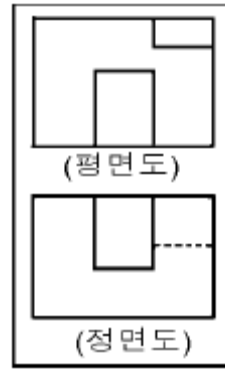
- ① 10 mm 만 표면처리
② 50 mm 에 $\phi 10h6$ 로 가공
③ 10 mm 만 $\phi 10h6$ 로 가공
④ 10 mm 만 제외하고 $\phi 10h6$ 가공

26. 보기와 같이 3각법으로 투상한 정면도와 평면도에 가장 적합한 우측면도는?



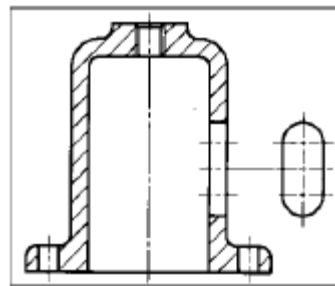
- ① ②
③ ④

27. 보기와 같은 정면도와 평면도에 가장 적합한 우측면도는?



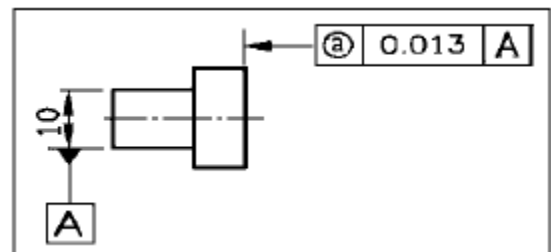
- ① ②
③ ④

28. 보기와 같이 물체의 구멍, 홈 등 특정 부위만의 모양을 도시하는 투상도의 명칭은?



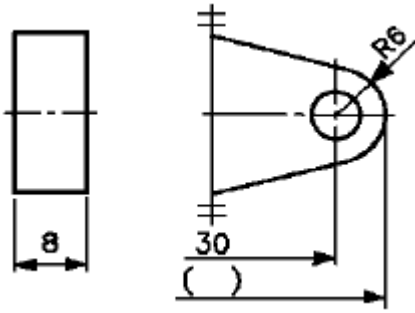
- ① 보조 투상도 ② 국부 투상도
③ 전개 투상도 ④ 회전 투상도

29. 보기 도면에서 ① 부분에 표시되어야 할 기하공차의 기호로 가장 적합한 것은?



- ① ②
③ ④

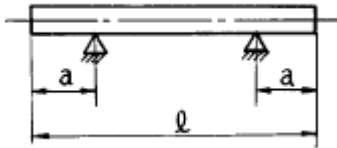
30. 도면에서 전체길이()의 치수로 가장 적합한 것은?



- ① 36 ② 42
 ③ 66 ④ 72

3과목 : 기계제도(절삭부분)

31. 자중에 의한 변형을 막기 위한 지지방법 중에서 긴 블록게이지와 같이 양 끝면이 항상 평행을 유지하도록 지지하는 점(에어리점)은?



- ① $a = 0.2113l$ ② $a = 0.2203l$
 ③ $a = 0.2232l$ ④ $a = 0.2386l$

32. 0.001 mm의 측정량 변화에 대해 0.1 mm의 지시변화가 있는 측정기의 감도(배율)는?

- ① 10배 ② 100배
 ③ 1000배 ④ 10000배

33. 블록 게이지의 대표적인 표준 조합이 아닌 것은?

- ① 8품 ② 32품
 ③ 105품 ④ 76품

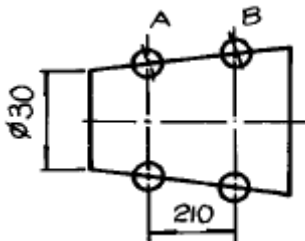
34. M1 형 버니어 캘리퍼스로 측정할 수 없는 것은?

- ① 두께측정 ② 피치측정
 ③ 내경측정 ④ 단차측정

35. 사인 바(sine bar)를 사용할 때 설치각을 몇 도 이하로 하여야 오차가 적게 생기는가?

- ① 20° ② 30°
 ③ 45° ④ 55°

36. 그림과 같이 테이퍼량 1/30의 물건을 측정 할 때 A에서 B 까지 다이얼 게이지를 이동시킨다면 게이지의 눈금차는?



- ① 2.5mm ② 3.5mm

- ③ 5.0mm ④ 7mm

37. 테보(Tebo)게이지에 대한 설명 중 바르지 못한 것은 어느 것인가?

- ① 직경을 신속 정확하게 측정한다.
 ② 연한 재료의 검사에는 상처를 주기 쉽다.
 ③ 볼이 설치되어 있어 통과측의 역할을 한다.
 ④ 길이가 짧은 제품 측정에 적합하다.

38. 가공 완성된 제품이 허용 한계 치수 내에 있는가의 여부를 가장 빠르고 정확하게 측정할 수 있는 게이지는?

- ① 마이크로미터 ② 다이얼 게이지
 ③ 블록 게이지 ④ 한계 게이지

39. 나사의 유효지름 측정시 사용되지 않는 것은?

- ① 투영기 ② 나사 마이크로미터
 ③ 공구현미경 ④ 피치 게이지

40. 나사 측정시 측정대상이 아닌 것은?

- ① 피치 ② 리드각
 ③ 산의 각도 ④ 유효지름

41. 피치가 2 mm인 미터나사(M20)를 삼침법에 의하여 측정하려고 한다. 가장 적당한 삼침의 지름은?

- ① 0.57735mm ② 1.15470mm
 ③ 1.24755mm ④ 2.17450mm

42. 동일한 측정량에 대하여 지침의 측정량이 증가하는 상태에서 읽음값과 반대로 감소하는 상태에서의 읽음값의 차를 무슨 오차라고 하는가?

- ① 지시오차 ② 측정오차
 ③ 되돌림오차 ④ 시차

43. 한계 게이지로 측정할 때의 장점이다. 옳지 않은 것은?

- ① 피측정물의 오차측정이 용이하다.
 ② 대량측정에 적합하다.
 ③ 합격, 불합격의 판정이 용이하다.
 ④ 조작이 간단하므로 숙련된 경험이 필요하지 않다.

44. 다음 중 진직도 측정방법으로 부적합한 것은?

- ① 수준기에 의한 방법
 ② 정반상에서 측미기에 의한 방법
 ③ 오토콜리메이터에 의한 방법
 ④ 3각 게이지에 의한 방법

45. 다음중 빛을 피측정물 표면위에 투영시켜 직각 방향에서 관측하는 방법으로 표면거칠기를 측정하는 방법은?

- ① 표면거칠기 표준편에 의한 방법
 ② 측정식 표면거칠기 측정방법
 ③ 광절단식 표면거칠기 측정방법
 ④ 광파간섭식 표면거칠기 측정방법

4과목 : 정밀측정법

46. 형상공차에서 평면도 측정방법 중 오토콜리메이터나 수준기

에 의한 측정법이 아닌 것은?

- ① 십자법 ② 유니언잭법
③ 대각선법 ④ 평행선법

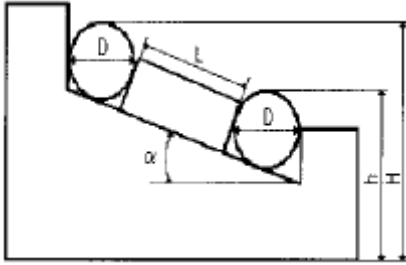
47. 온도변화 $t^{\circ}\text{C}$ 에 따라 생기는 변화량 λ 는, 길이 l 과 열팽창계수 α 로부터 다음 식을 얻는다. 맞는 식은?

- ① $\lambda = l \alpha t$ ② $l = \lambda \alpha t$
③ $\lambda t = \alpha l$ ④ $\alpha = \lambda l t$

48. 나사의 유효지름을 삼침법에 의해 구하고자 할 때 필요한 값이 아닌 것은?

- ① 삼침을 나사의 골에 넣고 측정한 외측거리
② 삼침의 직경
③ 나사 산의 두께
④ 나사의 피치

49. 다음 그림과 같이 블록 게이지와 롤러를 이용하여 각도 α 를 구하는 식은?



- ① $\sin \alpha = H - h / D + L$ ② $\cos \alpha = H - h / D + L$
③ $\tan \alpha = H - h / D + L$ ④ $\cos \alpha = D + L / H - h$

50. 공작기계의 정도 검사에서 공통의 축을 갖도록 배치된 2개의 원통의 축이 일치되지 않는 정도를 나타내는 정적정밀도는?

- ① 평행도 ② 직각도
③ 경사도 ④ 동심도

51. 기어의 형상 오차 중에서 기어의 성능에 가장 큰 영향을 미치는 오차는?

- ① 피치원 오차 ② 치형 오차
③ 이두께 오차 ④ 이 홈의 흔들림 오차

52. 마이크로미터의 0점 조정용 기준봉의 방열 커버 부분을 잡고 0점 조정을 실시하는 가장 큰 이유는?

- ① 온도의 영향 고려 ② 취급이 간편하게
③ 정확한 접촉을 고려하여 ④ 시야가 넓어진다

53. 광학적 측정기인 오토콜리메이터로 측정할 수 있는 것은?

- ① 부품의 길이 측정 ② 정반의 평면도 측정
③ 기어의 이두께 측정 ④ 나사의 유효경 측정

54. 진원도 측정법중 원형부분의 형상을 이론적으로 가장 정확하게 구할 수 있는 것은?

- ① 직경법 ② 회전법
③ 반경법 ④ 3점법

55. 다음 중 축용 한계게이지는?

- ① 스냅게이지(snap gauge) ② 봉게이지(bar gauge)
③ 판형게이지 ④ 원통형 플러그게이지

56. 버니어 캘리퍼스의 어미자의 1눈금이 1mm이고 아들자는 어미자의 49mm눈금을 50등분 했을 때 최소 측정치는 몇 mm인가?

- ① 0.1 ② 0.05
③ 0.02 ④ 0.01

57. 다음 설명 중 석정반의 장점이 아닌 것은?

- ① 경년 변화가 많다. ② 녹이 슬지 않는다.
③ 달라 붙지 않는다. ④ 돌기가 생기지 않는다.

58. 공기 마이크로미터의 종류가 아닌 것은?

- ① 유량식 ② 배속식
③ 배압식 ④ 유속식

59. 드릴의 홀, 나사의 골지름, 곡면 형상의 두께를 측정하는데 적합한 마이크로미터는?

- ① 지시 마이크로미터
② 그루오브 마이크로미터
③ 디스크 마이크로미터
④ 포인트 마이크로미터

60. 도면에 ⊥표시로 기하공차가 주어졌다면, 다음 중 어떤 종류의 공차인가?

- ① 경사도 ② 직각도
③ 위치도 ④ 평면도

전자문제집 CBT PC 버전 : www.comcbt.com

전자문제집 CBT 모바일 버전 : m.comcbt.com

기출문제 및 해설집 다운로드 : www.comcbt.com/x

전자문제집 CBT란?

종이 문제집이 아닌 인터넷으로 문제를 풀고 자동으로 채점하며 모의고사, 오답 노트, 해설까지 제공하는 무료 기출문제 학습 프로그램으로 실제 시험에서 사용하는 OMR 형식의 CBT를 제공합니다.

PC 버전 및 모바일 버전 완벽 연동
교사용/학생용 관리기능도 제공합니다.

오답 및 오탈자가 수정된 최신 자료와 해설은 전자문제집 CBT에서 확인하세요.

1	2	3	4	5	6	7	8	9	10
②	④	②	③	②	①	③	④	②	①
11	12	13	14	15	16	17	18	19	20
③	①	④	①	③	④	①	③	②	④
21	22	23	24	25	26	27	28	29	30
④	①	③	①	③	②	②	②	③	③
31	32	33	34	35	36	37	38	39	40
①	②	③	②	③	②	③	④	④	②
41	42	43	44	45	46	47	48	49	50
②	③	①	④	③	④	①	③	①	④
51	52	53	54	55	56	57	58	59	60
②	①	②	③	①	③	①	②	④	②