

1과목 : 전자계산기 프로그래밍

1. 어셈블러를 두 개의 pass로 구성하는 주된 이유는?

- ① 한 개의 패스만을 사용하면 프로그램의 크기가 증가하여 유지 보수가 어렵기 때문에
- ② 한 개의 패스만을 사용하면 프로그램의 크기가 증가하여 처리 속도가 감소하기 때문에
- ③ 한 개의 패스만을 사용하면 기호를 모두 정의한 뒤에 해당 기호를 사용해야만 하기 때문에
- ④ 패스 1, 2의 어셈블러 프로그램이 작아서 경제적이기 때문에

2. 객체 지향 언어의 개념에서 하나 이상의 유사한 객체들을 묶어서 하나의 공통된 특성을 표현한 것은?

- ① Instance ② Method
- ③ Message ④ Class

3. 원시 프로그램을 하나의 긴 스트링으로 보고 원시 프로그램을 문자 단위로 스캐닝 하여 문법적으로 의미 있는 일련의 문자들로 분할해 내는 작업을 수행하는 것은?

- ① 어휘분석 ② 구문분석
- ③ 바인딩 ④ 정규표현

4. C 언어의 설명으로 옳지 않은 것은?

- ① 이식성이 높은 언어이다.
- ② 시스템 프로그래밍 언어로 적합하다.
- ③ 인터프리터 기법을 사용한다.
- ④ 많은 데이터형과 풍부한 연산자를 가지고 있다.

5. 매크로 기능에 대한 설명으로 가장 적합한 것은?

- ① 어셈블리 언어로 작성한 프로그램을 다른 컴퓨터의 기계어로 변환시키는 기능이다.
- ② 어셈블리 언어로 작성한 프로그램 내에 다른 고급 언어를 삽입할 수 있는 기능이다.
- ③ 고급언어로 작성된 프로그램 내에 어셈블리 언어의 문장 및 함수 등을 삽입시키는 기능이다.
- ④ 어셈블리 프로그램에서 반복적으로 나타나는 코드들을 묶어 하나의 새로운 명령으로 정의시키는 기능이다.

6. 어셈블리어언어에서 원시 프로그램을 목적 프로그램으로 번역할 때 현재의 오퍼랜드에 있는 값을 다음 명령어의 번지로 할당하는 것은?

- ① TITLE ② INCLUDE
- ③ EVEN ④ ORG

7. C 언어에서 문자열 입력 함수는?

- ① getcher() ② gets()
- ③ putchar() ④ puts()

8. C 언어에서 이스케이프 시퀀스의 설명이 옳지 않은 것은?

- ① \n : null character ② \t : tab
- ③ \b : backspace ④ \r : carriage return

9. 객체지향 기법에서 이미 정의된 상위 클래스(부모 클래스)의 모든 속성과 연산을 하위 클래스가 물려받는 것을 의미하는 것은?

- ① 적응성 ② 상속성
- ③ 정보은닉 ④ 캡슐화

10. 단항 연산자에 해당하는 것은?

- ① AND ② XOR
- ③ OR ④ NOT

11. C 언어에서 프로그램의 변수 선언을 "int c;"로 했을 경우 "&c"는 어떤 의미인가?

- ① c의 절대값 ② c에 저장된 값
- ③ c의 기억장소 주소 ④ c의 범위

12. C 언어의 기억 클래스 중 "extern"을 사용하여 선언하는 변수는?

- ① 자동변수 ② 정적변수
- ③ 외부변수 ④ 레지스터변수

13. 서브루틴에서 자신을 호출한 곳으로 복귀시키는 어셈블리어 명령은?

- ① RET ② CALL
- ③ LOOP ④ NOP

14. BNF 표기법에서 정의를 나타내는 기호는?

- ① == ② <>
- ③ | ④ ::=

15. 프로그램 수행 순서로 옳은 것은?

- ① 컴파일러 → 목적 프로그램 → 원시 프로그램
- ② 원시 프로그램 → 목적 프로그램 → 컴파일러
- ③ 원시 프로그램 → 컴파일러 → 목적 프로그램
- ④ 목적 프로그램 → 원시 프로그램 → 컴파일러

16. 어셈블리어에 대한 설명으로 옳지 않은 것은?

- ① 명령 기능을 쉽게 연상할 수 있는 기호를 기계어와 1:1로 대응시켜 코드화한 기호 언어이다.
- ② 프로그램에 기호화된 명령 및 주소를 사용한다.
- ③ 어셈블리어로 작성된 원시 프로그램은 목적 프로그램을 생성하지 않아도 실행 가능하다.
- ④ 어셈블리어의 기본 동작은 동일하지만 작성한 CPU마다 사용되는 어셈블리어가 다를 수 있다.

17. C 언어에서 정수형 변수 선언 시 사용하는 것은?

- ① float ② long
- ③ char ④ int

18. 고수준 언어로 작성된 원시 프로그램을 컴퓨터 주메모리에 적재해 두고, 그 중 한 명령문씩 꺼내어 이를 해석기에서 중간어로 전환하여 곧바로 실행시키는 것은?

- ① Loader ② Linker
- ③ Compiler ④ Interpreter

19. C 언어에서 정수형 변수 a에 256이 저장되어 있다. 이를 7자리로 잡아 왼쪽으로 붙여 출력하고자 할 경우 printf() 내의 변환문자 사용으로 옳은 것은?

- ① %7f ② %-7d
- ③ %7d ④ %7s

20. 어셈블리어에서 논리적인 비교와 결과가 양수 또는 음수인지를 검사하여 상태 레지스터의 상태 비트를 설정하는 명령은?

① TEST ② NEG
③ CWD ④ LEA

2과목 : 자료구조 및 데이터통신

21. IP 주소로부터 물리적 주소로 변환하는 프로토콜은?
① ARP ② RARP
③ ICMP ④ DNS
22. 디지털 데이터를 아날로그 신호로 부호화(encoding)하는 방식은?
① PSK ② MRZ
③ FM ④ PM
23. HDLC의 ABM의 부분집합으로 X.25의 링크 계층에서 사용되는 프로토콜은?
① LAPB ② LAPD
③ LAPX ④ LAPM
24. 점-대-점 링크뿐만 아니라 멀티 포인트 링크를 위하여 ISO에서 개발한 국제 표준프로토콜은?
① HDLC(High Data Link Control)
② BSC(Binary Synchronous Control)
③ SWFC(Sliding Window Flow Control)
④ LLC(Logic Link Control)
25. 망(network) 구조의 기본 유형이 아닌 것은?
① 버스형 ② 링형
③ 트리형 ④ 십자형
26. OSI 7계층에서 다음과 같은 서비스를 제공하는 계층은?

- 파일전송, 전자우편, 문서 교환
- 원격 로그인, 원격 트랜잭션 처리
- 도메인명 서비스, 망 관리

- ① 데이터 링크 계층 ② 물리 계층
③ 응용 계층 ④ 세션 계층
27. 주파수 분할 방식의 특징으로 틀린 것은?
① 사람의 음성이나 데이터가 아날로그형태로 전송된다.
② 인접채널 사이의 간섭을 막기 위해 보호대역을 둔다.
③ 터미널의 수가 동적으로 변할 수 있다.
④ 주로 유선방송에서 많이 사용하고 있다.
28. 다음 인터넷 도메인의 설명 중 옳지 않은 것은?

www.hankook.co.kr

① www : 호스트 컴퓨터이름
② hankook : 소속 기관
③ co : 소속 기관의 서버이름
④ kr : 소속 국가

29. 무선 LAN의 매체 접근 제어 방식 중 경쟁에 의해 채널 접근을 제어하는 것은?

① PSK ② ASK
③ DCF ④ PCF

30. 다음 설명에 해당되는 ARQ 방식은?

데이터 프레임을 연속적으로 전송해 나가다가 NAK를 수신하게 되면, 오류가 발생한 프레임 이후에 전송된 모든 데이터 프레임을 재전송하는 방식이다.

① Stop-and-Wait ARQ
② Selective-Repeat ARQ
③ Go-back-N ARQ
④ Sequence-Number ARQ

31. 3단계 스키마에 해당하지 않는 것은?

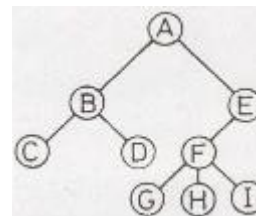
① 내부 스키마 ② 외부 스키마
③ 관계 스키마 ④ 개념 스키마

32. 다음 설명과 관계되는 트랜잭션의 특성은?

트랜잭션의 연산은 데이터베이스에 모두 반영되든지 아니면 전혀 반영되지 않아야 한다.

① Isolation ② Consistency
③ Atomicity ④ Durability

33. 다음 그림에서 Tree의 디그리는?



① 1 ② 2
③ 3 ④ 4

34. 다음 자료에 대하여 버블 정렬을 이용하여 오름차순으로 정렬할 경우 1회전 후의 결과는?

8, 5, 6, 2, 4

① 4, 2, 5, 6, 8 ② 2, 4, 5, 6, 8
③ 5, 2, 4, 6, 8 ④ 5, 6, 2, 4, 8

35. DBMS의 필수기능이 아닌 것은?

① 관리 기능 ② 정의 기능
③ 조작 기능 ④ 제어 기능

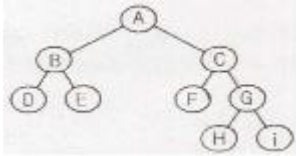
36. 큐(Queue)에 대한 설명으로 옳지 않은 것은?

① 자료의 삽입과 삭제가 Top에서 이루어진다.
② FIFO 방식으로 처리한다.
③ Front와 Real의 포인터 2개를 갖고 있다.
④ 운영체제의 작업 스케줄링시 사용된다.

37. 데이터베이스관리자(DBA)의 역할로 거리가 먼 것은?

- ① 응용 프로그램의 개발 및 분석
- ② DBMS 시스템 자원의 이용도 분석
- ③ 데이터 표현 및 문서화의 표준 설정
- ④ 데이터베이스 설계 및 조작

38. 다음 트리를 "Pre-Order"로 운행한 결과는?



- ① A B D E C F G H I
- ② D B E F C H G I A
- ③ A B C D E F G H I
- ④ D E B F H I G C A

39. 색인 순차 파일(Indexed Sequential File)에서 색인영역(indexed Area)의 구성이 아닌 것은?

- ① 트랙 색인(track area) 영역
- ② 실린더 색인(cylinder area) 영역
- ③ 마스터 색인(master area) 영역
- ④ 오버플로우 색인(overflow area) 영역

40. 선형리스트(linear list)에 해당하지 않는 자료 구조는?

- ① stack
- ② queue
- ③ tree
- ④ deque

3과목 : 전자계산기구조

41. propagation delay에 대한 설명으로 옳지 않은 것은?

- ① gate상의 operating speed는 propagation delay에 비례한다.
- ② carry propagation은 ALU(arithmetic logic unit)path에서 가장 긴 delay를 말한다.
- ③ 더 빠른 gate를 사용함으로써 propagation delay time을 줄일 수 있다.
- ④ ALU의 parallel-adder에 carry propagation을 줄이기 위해 carry look ahead를 사용한다.

42. 다중처리기에 대한 설명으로 옳지 않은 것은?

- ① 수행속도의 성능 개선이 목적이다.
- ② 하나의 복합적인 운영체제에 의하여 전체 시스템이 제어된다.
- ③ 각 프로세서의 기억장치만 있으며 공유 기억장치는 없다.
- ④ 프로세서들 중 하나가 고장나도 다른 프로세서들에 의해 고장난 프로세서의 작업을 대신 수행하는 장애극복이 가능하다.

43. 인터럽트에 관한 설명으로 옳은 것은?

- ① 인터럽트가 발생했을 때 CPU의 상태는 보존하지 않아도 된다.
- ② 인터럽트가 발생하게 되면 CPU는 인터럽트 사이클이 끝날 때까지 동작을 멈춘다.
- ③ 인터럽트 서비스 루틴을 실행할 때 인터럽트 플래그(IF)를 0으로 하면 인터럽트 발생을 방지할 수 있다.

④ 인터럽트 서비스 루틴 처리를 수행한 후 이전에 수행 중이던 프로그램의 처음상태로 복귀한다.

44. CPU에 의해 참조되는 각 주소는 가상주소를 주기억장치의 실제주소로 변환하여야 한다. 이것을 무엇이라 하는가?

- ① mapping
- ② blocking
- ③ buffering
- ④ interleaving

45. 짝수 패리티 비트의 해밍 코드로 0011011을 받았을 때 오류가 수정된 정확한 코드는?

- ① 0111011
- ② 0001011
- ③ 0011001
- ④ 0010101

46. 레지스터에 대한 설명으로 틀린 것은?

- ① 레지스터는 워드를 구성하는 비트 개수만큼의 플립플롭으로 구성된다.
- ② 여러 개의 플립플롭은 공통 클럭의 입력에 의해 동시에 여러 비트의 입력 자료가 저장된다.
- ③ 레지스터에 사용되는 플립플롭은 외부입력을 그대로 저장하는 T 플립플롭이 적당하다.
- ④ 레지스터를 구성하는 플립플롭은 저장하는 값을 임의로 설정하기 위해 별도의 입력단자를 추가할 수 있으며, 저장값을 0으로 하는 것을 설정해제(CLR)라 한다.

47. 중앙 연산 처리장치의 하드웨어적인 요소가 아닌 것은?

- ① IR
- ② MAR
- ③ MODEM
- ④ PC

48. 1의 보수로 음수를 표현하는 방식에 비하여 2의 보수로 음수를 표현하는 방식의 특징으로 옳은 것은?

- ① 디지털 장치에서 음수화 구현이 쉽지 않다.
- ② 연산과정이 간단하다.
- ③ 0이 두 개이다.
- ④ 4비트로 수를 표현하면 -7 ~ +7 범위의 수를 표현할 수 있다.

49. 하드웨어의 특성상 주기억장치가 제공할 수 있는 정보 전달의 능력 한계를 무엇이라 하는가?

- ① 주기억장치 대역폭
- ② 주기억장치 접근율
- ③ 주기억장치 접근 실패
- ④ 주기억장치 사용의 편의성

50. 다음 중 cycle stealing과 관계있는 것은?

- ① memory-mapped I/O
- ② isolated I/O
- ③ interrupt-driven I/O
- ④ DMA

51. 256×8 RAM 소자를 이용해서 2Kbyte의 용량을 갖는 메모리를 구성하려고 한다. 필요한 RAM 소자의 개수는?

- ① 8개
- ② 16개
- ③ 24개
- ④ 32개

52. 반감산기에서 차를 얻기 위하여 사용하는 게이트는 EX-OR이다. 이 EX-OR와 같은 기능을 수행하기 위하여 필요한 게이트를 조합할 때, 필요한 게이트와 개수는?

- ① NOR Gate, 3개
- ② NAND gate, 5개
- ③ OR Gate, 6개
- ④ AND Gate, 6개

53. 다음은 DMA의 데이터 전송 절차를 나열한 것이다. 순서가 옳은 것은?

- ⓐ 데이터 전송(data transfer)
 ⓑ 버스 사용 요구(bus request)
 ⓒ 인터럽트(interrupt)
 ⓓ 버스 사용 허가(bus grant)

- ① ⓐ→ⓑ→ⓒ→ⓓ ② ⓒ→ⓑ→ⓓ→ⓐ
 ③ ⓑ→ⓓ→ⓐ→ⓒ ④ ⓓ→ⓒ→ⓑ→ⓐ

54. 프로그램이 가능한 논리소자로, n개의 입력에 대하여 개 이하의 출력을 만들 수 있는 논리회로는?

- ① RAM ② ROM
 ③ PLA ④ pipeline register

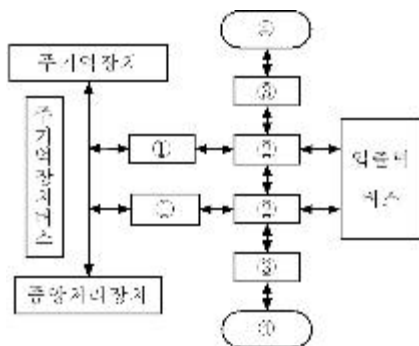
55. 하드웨어 신호에 의하여 특정 번지의 서브루틴을 수행하는 것을 무엇이라 하는가?

- ① DMA ② vectored interrupt
 ③ subroutine call ④ handshaking mode

56. DMA(Direct Memory Access) 과정에서 인터럽트가 발생하는 시점은?

- ① DMA가 메모리 참조를 시작할 때
 ② DMA 제어기가 자료 전송을 종료 했을 때
 ③ 중앙처리장치가 DMA 제어기를 초기화 할 때
 ④ 사이클 훔침(cycle stealing)이 발생하는 순간

57. 다음 그림은 입출력 시스템의 구성도이다.



- ① 입출력 제어기, 입출력 장치제어기, 인터페이스, 입출력 장치
 ② 입출력 장치제어기, 입출력 제어기, 인터페이스, 입출력 장치
 ③ 입출력 제어기, 인터페이스, 입출력 장치제어기, 입출력 장치
 ④ 인터페이스, 입출력 장치제어기, 입출력 제어기, 입출력 장치

58. 플립플롭이 가지고 있는 기능은?

- ① 전송 기능 ② 기억 기능
 ③ 증폭 기능 ④ 전원 기능

59. 어떤 computer의 메모리 용량은 1024 word이고 1 word는 16 bit로 구성되어 있다면 MAR과 MBR은 최소 몇 bit로 구성되어 있는가?

- ① MAR=10, MBR=8 ② MAR=10, MBR=16
 ③ MAR=11, MBR=8 ④ MAR=11, MBR=16

60. 명령어 파이프라이닝을 사용하는 목적은?

- ① 기억용량 증대
 ② 메모리 액세스의 효율증대
 ③ CPU의 프로그램 처리속도 개선
 ④ 입출력 장치의 증설

4과목 : 운영체제

61. 분산 처리 운영체제 시스템을 설계하는 주된 이유가 아닌 것은?

- ① 신뢰도 향상 ② 자원 공유
 ③ 보안의 향상 ④ 연산 속도 향상

62. 디스크 스케줄링의 목적과 거리가 먼 것은?

- ① 처리율 극대화
 ② 평균 반응 시간의 단축
 ③ 응답시간 편차의 최소화
 ④ 디스크 공간 확보

63. UNIX에서 현재 디렉토리 내의 파일 목록을 확인하는 명령어는?

- ① ls ② cat
 ③ fcsk ④ cp

64. 메모리 관리 기법 중 Worst fit 방법을 사용할 경우 10K 크기의 프로그램 실행을 위해서는 어느 부분이 할당되는가?

NO	메모리 크기	사용여부
1	8K	FREE
2	12K	FREE
3	10K	IN USE
4	9K	IN USE
5	16K	FREE

- ① NO. 2 ② NO. 3
 ③ NO. 4 ④ NO. 5

65. 일정한 또는 일정 기간 동안 데이터를 한꺼번에 모아서 처리하는 운영체제의 운영 기법은?

- ① 일괄 처리 시스템 ② 다중 프로그래밍 시스템
 ③ 시분할 시스템 ④ 실시간 처리 시스템

66. 다중 처리기 운영체제 형태 중 주/종(Master/Slave) 처리기에 대한 설명으로 틀린 것은?

- ① Slave 만이 운영체제를 수행할 수 있다.
 ② Master에 문제가 발생하면 입출력 작업을 수행할 수 없다.
 ③ 비대칭 구조를 갖는다.
 ④ 하나의 처리기를 Master로 지정하고 다른 처리기들은 Slave로 지정한다.

67. 운영체제의 성능 평가 기준과 거리가 먼 것은?

- ① Throughput ② Reliability
 ③ Integrity ④ Turn Around Time

68. 프로세스 내에서의 작업 단위로서 시스템의 여러 자원을 할당받아 실행하는 프로그램의 단위를 의미하는 것은?

- ① Thread ② Working Set
③ Semaphore ④ Monitor

69. 프로세스의 정의와 거리가 먼 것은?

- ① 프로세서가 할당되는 실제
② PCB를 가진 프로그램
③ 프로세서가 활동 중인 것
④ 동기적 행위를 일으키는 주체

70. 파일 시스템의 기능이 아닌 것은?

- ① 파일의 생성, 변경, 제거
② 파일에 대한 여러 가지 접근 제어 방법 제공
③ 정보 손실이나 파괴를 방지하기 위한 기능
④ 고급 언어로 작성된 원시 프로그램의 번역

71. 교착상태의 해결 방법 중 점유 및 대기 조건 방지, 비선점 조건 방지, 환형 대기 조건 방지와 가장 밀접한 관계가 있는 것은?

- ① Prevention ② Avoidance
③ Detection ④ Recovery

72. UNIX에서 커널에 대한 설명으로 틀린 것은?

- ① UNIX 시스템의 중심부에 해당한다.
② 사용자의 명령을 수행하는 명령어 해석기이다.
③ 프로세스 관리, 기억장치 관리 등을 담당한다.
④ 컴퓨터 부팅시 주기억장치에 적재되어 상주하면서 실행된다.

73. 파일 디스크립터(File Descriptor)에 대한 설명으로 틀린 것은?

- ① 파일 디스크립터의 내용에는 파일의 ID 번호, 디스크 내 주소, 파일 크기 등에 대한 정보가 수록된다.
② 파일이 액세스되는 동안 운영체제가 관리 목적으로 알아야 할 정보를 모아 놓은 자료구조이다.
③ 해당 파일이 Open되면 FCB(File Control Block)가 메모리에 올라와야 한다.
④ 모든 시스템에 동일한 자료구조를 갖는다.

74. 분산 운영체제의 구조 중 다음 설명에 해당하는 것은?

- 모든 사이트는 공유 버스에 연결된 구조이다.
- 기본비용은 사이트 수에 비례한다.
- 사이트의 고장은 다른 사이트 간의 통신에 영향을 주지 않지만, 링크의 고장은 전체 시스템에 영향을 준다.
- 사이트의 추가와 삭제가 용이하다.

- ① Multi-access Bus Connection
② Hierarchy Connection
③ Star Connection
④ Ring Connection

75. NUR(Not-Used-Recently) 페이지 교체방법에서 가장 우선적으로 교체 대상이 되는 것은?

- ① 참조되고 변형된 페이지
② 참조는 안 되고 변형된 페이지

- ③ 참조는 되었으나 변형 안 된 페이지
④ 참조도 안 되고 변형도 안 된 페이지

76. 어셈블러를 두 개의 패스(pass)로 구성하는 주된 이유는?

- ① 한 개의 패스만을 사용하면 프로그램의 크기가 증가하여 유지보수가 어렵기 때문
② 한 개의 패스만을 사용하면 프로그램의 크기가 증가하여 처리속도가 감소하기 때문
③ 한 개의 패스만을 사용하면 기호를 모두 정의한 뒤에 해당 기호를 사용해야만 하기 때문
④ 패스 1, 2의 어셈블러 프로그램이 작아서 경제적이기 때문

77. 4개의 페이지를 수용할 수 있는 주기억장치가 있으며, 초기에는 모두 비어 있다고 가정한다. 다음의 순서로 페이지 참조가 발생할 때, LRU 페이지 교체 알고리즘을 사용할 경우 몇 번의 페이지 결함이 발생하는가?

페이지 참조 순서 : 1, 2, 3, 1, 2, 4, 1, 2

- ① 3 ② 4
③ 5 ④ 6

78. UNIX 파일 시스템 구조에서 디렉토리별 디렉토리 엔트리와 실제 파일에 대한 데이터가 저장된 블록은?

- ① I-node 블록 ② 슈퍼 블록
③ 부트 블록 ④ 데이터 블록

79. 다음 설명에 해당하는 디렉토리 구조는?

- UNIX에서 사용하는 디렉토리 구조이다.
- 각 디렉토리는 서브 디렉토리나 파일을 가질 수 있다.
- 디렉토리의 생성과 파괴가 비교적 용이하다.
- 디렉토리의 탐색은 포인터를 사용하며, 경로명은 절대와 상대 경로명을 사용한다.

- ① 비순환 그래프 디렉토리 구조
② 1단계 디렉토리 구조
③ 트리 디렉토리 구조
④ 2단계 디렉토리 구조

80. HRN(Highest Response Scheduling) 스케줄링 기법에서 우선순위 결정 방법은?

- ① (대기시간 + 서비스 시간) / 대기시간
② (대기시간 + 서비스 시간) / 서비스시간
③ 대기시간 / (대기 시간 + 서비스 시간)
④ 서비스 시간 / 본문 (대기 시간 + 서비스 시간)

5과목 : 마이크로 전자계산기

81. 신호(signal)가 Low라면 모뎀 또는 데이터 셋이 UART와 통신을 성립할 준비가 되어 있음을 의미하는 것은?

- ① TXD ② nDSR
③ nRI ④ nDCD

82. 동기형 계수기로 사용할 수 없는 것은?

- ① 리플 카운터 ② BCD 카운터
③ 2진 카운터 ④ 2진 업다운 카운터

83. 화상회의에서 사용되는 압축부호화 방식의 표준으로 p×64kbps (p = 1~30)의 전송 속도를 가지는 것은?

- ① H.261 ② JPEG
③ MPEG ④ DSP

84. 마이크로컴퓨터와 외부장치 간에 적외선을 이용하여 데이터를 주고받는 방식은?

- ① 블루투스(Bluetooth) ② IrDA
③ USB ④ IEEE1394

85. 마이크로프로세서는 클럭(Clock)에 의해 제어된다. 이 클럭을 발생하는 회로는?

- ① 수정발진 ② LC발진
③ RC발진 ④ 마이크로발진

86. 동기식 비트 직렬 전송의 동작 순서로 옳은 것은?

- ① 프로세서로부터 초기화 코드 전송
② 클럭의 카운터 동작
③ 데이터 비트 직렬 전송
④ 입출력 장치에서 검출

- ① ②-①-③-④ ② ①-③-④-②
③ ①-④-②-③ ④ ④-①-③-②

87. IEE 488 버스에 대한 설명 중 틀린 것은?

- ① 16 Single line로 구성되어 있다.
② 3 line의 전송 제어선은 기기의 데이터 입출력 시에 handshaking 하는데 사용된다.
③ sereal data 전송에 적합하다.
④ GPIB라고도 하며 시스템간 통신에 많이 사용된다.

88. CPU가 무엇을 하고 있는가를 나타내는 상태를 무엇이라 하는가?

- ① fetch state ② major state
③ stable state ④ unstable state

89. 마이크로프로세서의 주요 구성블록으로 볼 수 없는 것은?

- ① ALU ② 제어부
③ 레지스터부 ④ 주기억장치

90. 최근 마이크로컴퓨터의 병렬 포트 표준 모드 중 고속 DMA 전송을 할 수 있도록 지원하는 모드는?

- ① SPP(Standard Parallel Port)
② Byte
③ EPP(Enhanced Parallel Port)
④ ECP(Extended Capability Port)

91. 서브루틴을 수행하기 위해 사용되는 것은?

- ① Stack ② Queue
③ Linked list ④ Array

92. 인출 사이클(fetch cycle)에서 active low로 되지 않는 신호는? (단, Z80 기준)

- ① $\overline{M1}$ ② \overline{WR}
③ \overline{RFSH} ④ \overline{MREQ}

93. 마이크로프로그램 제어 방식의 특징이 아닌 것은?

- ① 제어 신호를 위한 마이크로 명령어를 저장한다.
② 제어 내용을 변경하기가 쉽다.
③ 유지, 보수성이 좋다.
④ 속도가 빠르다.

94. CMOS RAM의 설명으로 옳지 않은 것은?

- ① 상보성 금속 산화막 반도체 제조 공법을 사용한다.
② 전원으로부터의 잡음에 대한 허용도가 낮다.
③ 전력 소비량이 낮다.
④ 건전지로 전원이 공급되는 하드웨어 구성 요소에 유용하게 사용된다.

95. 다음 중 I/O 버스를 통하여 접수된 command에 대한 해석이 이루어지는 곳은?

- ① 커맨더 디코더 ② 상태 레지스터
③ 버퍼 레지스터 ④ 인스트럭션 레지스터

96. JTAG(Joint Test Action Group) 인터페이스에서 핀으로 칩 안에 구성되지 않는 것은?

- ① TDI(데이터 입력) ② TMS(모드)
③ TTS(전송) ④ TRST(리셋)

97. 하나의 서브루틴 속에 존재하는 또 하나의 서브루틴, 즉, 서로 다른 서브루틴 중에서 호출되는 서브루틴을 무엇이라 하는가?

- ① Nested Subroutine ② Open Subroutine
③ Closed Subroutine ④ Cross Subroutine

98. PLA의 프로그래밍에 대한 설명으로 옳은 것은?

- ① AND와 OR 배열 모두를 프로그래밍 할 수 있다.
② AND 배열만 프로그래밍 한다.
③ OR 배열만 프로그래밍 한다.
④ 프로그래밍을 할 필요가 없다.

99. 4개의 플립플롭으로 구성한 4비트 리플카운터(ripple counter)는 입력 주파수를 어떤 주파수의 파형으로 변환하는가?

- ① 1/4 주파수의 파형 ② 1/8 주파수의 파형
③ 1/16 주파수의 파형 ④ 1/32 주파수의 파형

100. 제어논리가 마이크로프로그램 기억 장치인 읽기용 기억 장치(ROM)에 구성되어 있어, 여러 대규모 집적회로군이 이미 마이크로프로그램 되어 있는 것은?

- ① 가상 CPU
② 슈퍼 워크스테이션
③ 슈퍼 VHS
④ 쇼트키 쌍극형 마이크로컴퓨터 세트

전자문제집 CBT PC 버전 : www.comcbt.com

전자문제집 CBT 모바일 버전 : m.comcbt.com

기출문제 및 해설집 다운로드 : www.comcbt.com/x

전자문제집 CBT란?

종이 문제집이 아닌 인터넷으로 문제를 풀고 자동으로 채점하며
모의고사, 오답 노트, 해설까지 제공하는 무료 기출문제 학습 프
로그램으로 실제 시험에서 사용하는 OMR 형식의 CBT를 제공합
니다.

PC 버전 및 모바일 버전 완벽 연동

교사용/학생용 관리기능도 제공합니다.

오답 및 오탈자가 수정된 최신 자료와 해설은 전자문제집 CBT
에서 확인하세요.

1	2	3	4	5	6	7	8	9	10
②	④	①	③	④	④	②	①	②	④
11	12	13	14	15	16	17	18	19	20
③	③	①	④	③	③	④	④	②	①
21	22	23	24	25	26	27	28	29	30
①	①	①	①	④	③	③	③	③	③
31	32	33	34	35	36	37	38	39	40
③	③	③	④	①	①	①	①	④	③
41	42	43	44	45	46	47	48	49	50
①	③	③	①	③	③	③	②	①	④
51	52	53	54	55	56	57	58	59	60
①	②	③	③	②	②	③	②	②	③
61	62	63	64	65	66	67	68	69	70
③	④	①	④	①	①	③	①	④	④
71	72	73	74	75	76	77	78	79	80
①	②	④	①	④	③	②	④	③	②
81	82	83	84	85	86	87	88	89	90
②	①	①	②	①	③	③	②	④	④
91	92	93	94	95	96	97	98	99	100
①	②	④	②	①	③	①	①	③	④