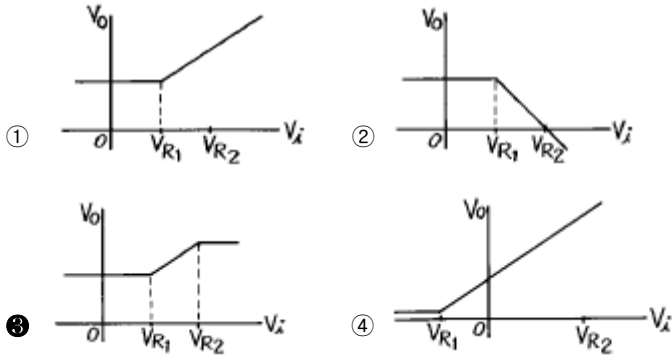
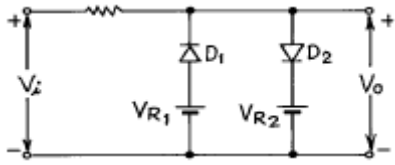


1과목 : 디지털 전자회로

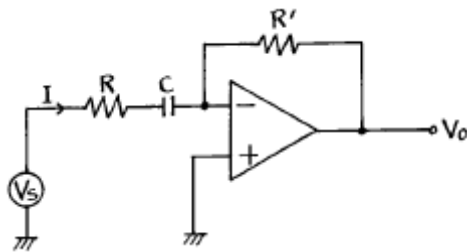
1. 다음 그림과 같은 회로의 전달 특성은? (단, $V_{R1} < V_{R2}$)



2. 필터법을 이용하여 DSB 파에서 SSB 파를 얻어내려면 어떤 종류의 필터를 사용해야 하는가?

- ① 저역필터(LPF) ② 전대역필터(APF)
③ 고역필터(HPF) ④ 대역필터(BPF)

3. 다음 연산회로에서 전압이득($\frac{V_o}{V_s}$)은?

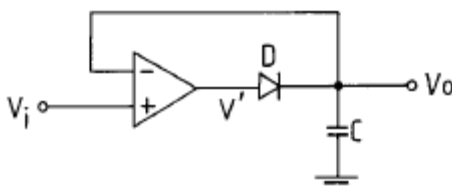


- ① $-\frac{1}{RCS}$ ② $\frac{1}{RCS}$
③ $-\frac{R'}{R} \frac{S}{S+1/RC}$ ④ $\frac{R'}{R} \frac{S}{S+1/RC}$

4. 디지털데이터를 디지털신호로 전송하는 회로 장치는?

- ① CODEC ② 변.복조회로
③ DSU ④ 전화

5. 그림은 무슨 회로인가 ?

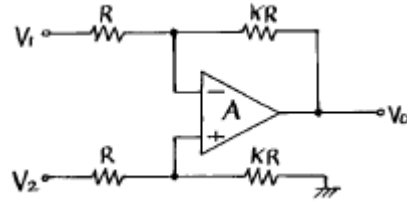


- ① Voltage follower ② Differentiator

③ Peak detector

④ Integrator

6. 아래의 연산 증폭회로에서 입출력 관계가 옳은 것은?



- ① $V_o = K(V_2 - V_1)$ ② $V_o = KV_2 - (K + 1)V_1$
③ $V_o = (K + 1)V_2 - KV_1$ ④ $V_o = (K + 1)(V_2 - V_1)$

7. 30:1의 리플계수기를 만들려면 최소한 몇 개의 플립-플롭(flip-flop)이 필요한가?

- ① 5개 ② 10개
③ 15개 ④ 30개

8. 에미터 접지 트랜지스터 증폭회로에서 에미터에 접속된 저항과 병렬로 연결된 콘덴서를 제거 했을 때 증폭기의 상태는 어떻게 되겠는가?

- ① 변화가 없다.
② 과전류가 흘러 트랜지스터가 파괴된다.
③ 부궤환이 걸려 이득이 작아진다.
④ 정궤환이 걸려 발진한다.

9. 변조도 60 %의 AM에 있어서 반송파의 평균 전력이 100W일 때 피변조파의 평균 전력은?

- ① 118 W ② 130 W
③ 136 W ④ 160 W

10. L, C, R 직렬회로의 공진주파수에 대한 Q의 값은? (단, W는 각속도)

- ① L/CR ② WL/R
③ R/WC ④ $\frac{1}{R} \sqrt{\frac{C}{L}}$

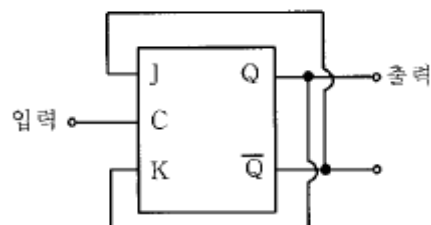
11. NAND 게이트로 구성된 SR 플립플롭에서 전의 상태를 유지하기 위해서는 SR이 어떤 경우일 때 인가?

- ① SR = 00일 때 ② SR = 01일 때
③ SR = 10일 때 ④ SR = 11일 때

12. 저 임피던스 부하에서 고전류이득을 얻으려할 때 사용되는 증폭 방식은?

- ① 베이스 접지 ② 에미터 팔로워
③ 에미터 접지 ④ 캐스코우드 증폭기

13. 다음 J-K Flip-Flop의 입력신호의 주파수가 5[MHz]일 때 출력신호의 주파수는?



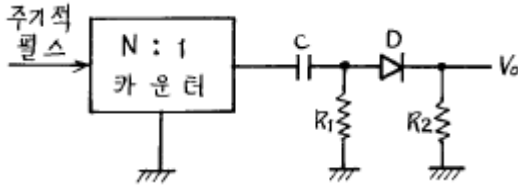
- ① 500[kHz] ② 2.5[MHz]
③ 10[MHz] ④ 25[MHz]

14. 다음 3변수 카르노도가 나타내는 함수는?

AB \ C	0	1
00	0	0
01	0	0
11	1	1
10	1	0

- ① $\overline{A}\overline{B}C$ ② $AB + A\overline{C}$
③ $AB + A\overline{C} + C$ ④ $\overline{A} + A\overline{B}C$

15. 다음의 회로에서 출력 V_o 는?

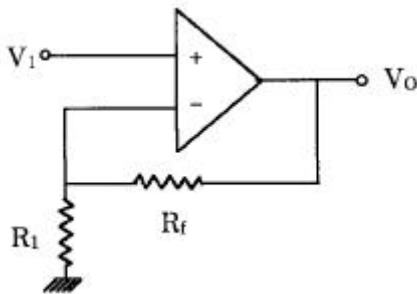


- ① 양(+)의 펄스 ② 음(-)의 펄스
③ 대칭 펄스 ④ 반파 대칭 펄스

16. 이득이 40[dB]인 저주파 증폭기가 10[%]의 왜율을 가지고 있을 때 이것을 1[%]로 개선하기 위해서는 대략 얼마의 전압 부궤환을 걸어 주어야 하는가?

- ① 60[dB] ② 40[dB]
③ 30[dB] ④ 20[dB]

17. 그림의 회로에서 $V_i=3V$, $R_i=450k\Omega$, $R_f=150k\Omega$ 일 때, 출력 전압 V_o 는?



- ① 1 [V] ② 12 [V]
③ 15 [V] ④ 18 [V]

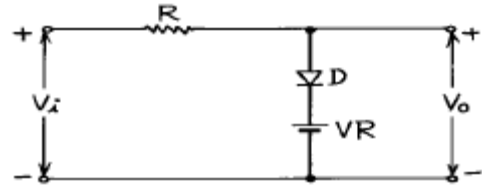
18. 전압안정화 회로의 특성으로 가장 알맞는 것은?

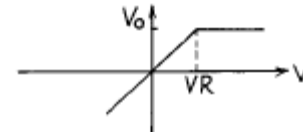
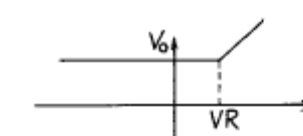
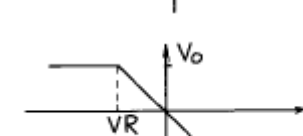
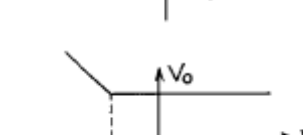
- ① 온도가 변할 때 출력전압은 일정하다.
② 출력전압이 변할 때 부하전류는 일정하다.
③ 입력전압이 변할 때 출력전압은 일정하다.
④ 부하가 변할 때 출력전압은 일정하다.

19. 2°개의 입력신호 중 1개를 선택하여 출력하는 기능을 가진 회로는?

- ① Encoder ② Decoder
③ Mux ④ Demux

20. 다음 회로가 나타내는 전달특성은? (단, D는 이상적인 다이오드이다.)



- ① 
② 
③ 
④ 

2과목 : 정보통신 시스템

21. ISDN에 의한 서비스 중 베어러(bearer)서비스의 전송 속도 중 적합하지 않은 것은?

- ① 64 Kbps 디지털 서비스 (B CH)
② 384 Kbps 디지털 서비스 (H₀ CH)
③ 1,536 Kbps 디지털 서비스 (H₁₁ CH)
④ 2,048 Kbps 디지털 서비스 (H₁₂ CH)

22. 패킷 교환방식(packet switching)중 틀리는 것은?

- ① 트래픽 용량이 큰 경우에 유리하다.
② 축적 교환방식의 일종이다.
③ 데이터 단위의 길이가 제한된다.
④ 대체 경로를 선택할 수 있으나, 네트워크의 신뢰성이 낮다.

23. 데이터 통신을 위한 데이터 교환회선을 구성하는데 있어서 고속의 디지털 데이터 전용회선을 설명하는 것은?

- ① 기존의 음성용을 위한 네트워크의 교환기를 이용한다.
② 저속의 간단한 응용에 효과적이다.
③ 융통성이 적고 애러율이 높다.
④ 시분할 다중화(Time-division multiplex)된 디지털전송로를 이용한다.

24. 계층화된 통신구조를 통한 데이터전송시 상위계층에서 하위 계층으로 데이터를 전달할 때 필요한 제어정보 (Header/Trailer)를 덧붙이는 과정은?

- ① Fragmentation ② Reassembly
 ③ Encapsulation ④ Packetization

25. 아날로그 가입자회로(교환기 주변 정합장치)가 가져야 하는 기본 기능이 아닌 것은 ?

- ① 급전(Battery feed)
 ② 2선/4선 변환(Hybrid)
 ③ 과전압보호(Overvoltage protection)
 ④ 멀티플렉서/디멀티플렉서(Multi/De-Multiplexer)

26. SSB 통신방식의 잇점과 가장 거리가 먼 것은?

- ① 주파수 안정도가 낮아도 양질의 통신이 가능하다.
 ② 작은 전력으로 양질의 통신이 가능하다.
 ③ 비화성을 유지할 수 있다.
 ④ DSB에 비해 3dB의 S/N비가 개선된다.

27. 다음에 열거한 액세스 제어방식과 이에 관련된 제품기술 중 관계가 없는 것은?

- ① Token Bus - MAP ② Polling - PBX
 ③ Token Ring - FDDI ④ CSMA/CD - Ethernet

28. Shannon의 채널 용량식은? (W:대역폭, C:채널용량, S:신호 전력, N:잡음전력)

- ① $C = \frac{1}{W} \log_2 \left(1 + \frac{S}{N} \right)$
 ② $C = W \log_2 \left(1 + \frac{S}{N} \right)$
 ③ $C = \frac{1}{W} \log_2 \left(1 + \frac{N}{S} \right)$
 ④ $C = W \log_2 \left(1 + \frac{N}{S} \right)$

29. ATM통신은 셀(cell) 단위로 통신이 이루어지는데, 셀은 몇 바이트로 구성되는가?

- ① 가변 ② 48
 ③ 50 ④ 53

30. 가상회선과 데이터그램에 의한 패킷교환에 대한 설명으로 맞지 않는 것은?

- ① 가상회선의 라우팅 테이블은 노드가 가상회선 번호를 어떻게 변경하여야 하는가를 규정한다.
 ② 가상회선전송시 동일한 접속에 속한 모든 패킷들이 각각 다른 경로를 선택할 수도 있다.
 ③ 데이터그램의 라우팅테이블은 노드가 랜덤하게 또는 주기적 순서에 따라 선택할 수 있는 경로를 규정한다.
 ④ 데이터그램 전송시 많은 각각의 패킷에 대해 다른 경로를 선택하도록 할 수도 있다.

31. 어느 도시와 그 주변도시에 약 80개의 전화국이 있다. 이들

전화국을 전부 델타(delta)망으로 연결하려면 몇 회선의 국간중계회선이 필요한가?

- ① 936 회선 ② 1414 회선
 ③ 2106 회선 ④ 3160 회선

32. 인트라넷(intranet)을 운용할 때 외부의 허가를 받지 않은 사람이 무단으로 네트워크 내부로 들어오는 것을 방지하는 장치는?

- ① 방화벽(firewall) ② 라우터(router)
 ③ 패드(pad) ④ 인트라넷 서버(intranet server)

33. 국내에서 개발한 TDX 교환시스템의 제어방식은?

- ① 공통제어방식 ② 자동제어방식
 ③ 분산제어방식 ④ 원격제어방식

34. OSI 모델에서 계층구조상 기본구성요소가 아닌 것은?

- ① 실체(Entity) ② 접속(Connection)
 ③ 데이터단위(Data Unit) ④ 타이밍(Timing)

35. 망관리(network management)기능의 대상이 아닌 것은?

- ① 시스템 오류(fault) ② 성능(performance)
 ③ 신호 프로토콜 처리 ④ 망 구성(configuration)

36. 음성, 비음성의 다양한 통신 서비스를 하나의 통신망으로 종합적으로 제공하는 통신 시스템은 ?

- ① TCP/IP망 ② PSTN
 ③ PSDN ④ ISDN

37. 패킷교환망에서 우수한 라우팅 알고리즘이 갖추어야 될 성질로서 가장 거리가 먼 것은?

- ① 최적의 패킷 전송시간 ② 자원할당의 공정성
 ③ 라우팅 결정의 안정성 ④ 라우팅 경로의 이중성확보

38. ISO의 OSI 7계층 참조모델에서 동기화, 에러제어, 흐름제어 등의 기능을 수행하여 물리적 링크(physical link)간에 원활한 데이터의 전송이 이루어질 수 있도록 제공하는 계층은?

- ① 물리층 ② 데이터 링크층
 ③ 네트워크층 ④ 트랜스포트층

39. 4[kHz]까지의 음성신호를 완전히 재생시키기 위한 표본화 주기는 몇 [μ s]인가?

- ① 250 ② 200
 ③ 125 ④ 100

40. 전기통신망에서 이상 트래픽이 발생할 경우 트래픽의 규제 방법에 해당하는 것은?

- ① 발신 규제 ② 통화중인 가입자의 규제
 ③ 착신 규제 ④ 운용기능의 규제

3과목 : 정보통신 기기

41. 비디오텍스 통신시스템에서 그림정보를 작성하여 정보축적 장치에 입력하기 위한 그림 변환방식이 아닌 것은?

- ① 포토 그래픽 방식 ② 지오메트릭 방식
 ③ 모자이크 방식 ④ 스프릿 스크린 방식

42. 전화기의 송화기와 밀접한 관계가 있는 것은?

- ① 진동판과 영구자석 ② 진동판과 콘덴서
 ③ 진동판과 탄소입자 ④ 진동판과 후크스위치

43. 통신회선을 직접 보유하거나 통신사업자의 회선을 임차 또는 이용하여 단순한 전송기능 이상에 해당하는 정보의 축적, 가공, 변환처리 등을 하는 복합적인 정보통신 서비스는 무엇인가?

- ① Videotex ② VAN
 ③ ISDN ④ LAN

44. 컴퓨터가 단말기에게 전송할 데이터가 있는가를 확인하는 방법은?

- ① Selection ② Addressing
 ③ Polling ④ Link

45. 주파수 분할 다중화에서 부채널간의 상호간섭을 방지하기 위한 완충지역은 어느 것인가?

- ① guard band ② guard time
 ③ channel ④ sub group

46. 통신제어장치의 기능에 대해 가장 적합한 설명은?

- ① 통신회선상에서 물리적 오류제어 및 데이터 분석
 ② 중앙처리장치와 데이터전송회선간 데이터송수신제어
 ③ 통신회선의 주파수, 위상 등 특성제어
 ④ 메모리장치의 데이터 버스 제어

47. ISDN의 텔레 서비스에서 제공되지 않은 서비스는?

- ① 가상 호 (Virtual Call) ② 메시지 통신
 ③ 비디오 텍스트 ④ 파일 전송

48. 저소음 및 도트의 세밀성이 기대되는 논임팩트(비충격식) 프린터 방식이 아닌 것은?

- ① 열기록방식 ② 잉크인젝트방식
 ③ 직렬매트릭스방식 ④ 전자사진기록방식

49. 다음 중 디지털 전송장비의 클럭(clock) 공급방식이 아닌 것은?

- ① 자체 클럭 공급방식 ② 수신 클럭 공급방식
 ③ 외부 클럭 공급방식 ④ 제어 클럭 공급방식

50. 다음 중 위성통신 시스템에서 위성중계기의 신호 증폭부가 갖추어야 할 조건이 아닌 것은?

- ① 높은 신뢰성 ② 우수한 효율
 ③ 경량화 ④ 협대역

51. 은행, 백화점, 댐, 하역장, 공장 및 사람이 접근할 수 없는 산업현장 등을 감시하는데 가장 적합한 것은?

- ① CATV ② VRS
 ③ HDTV ④ CCTV

52. 다음중 정보단말기의 기본구성요소가 아닌 것은?

- ① 입력장치부 ② 회선접속부
 ③ 회선제어부 ④ 변복조기

53. 송신출력전력이 같은 경우 복조 S/N(신호/잡음)비가 가장 큰 것은?

- ① 진폭변조방식 ② 잔류측대파방식
 ③ 주파수변조방식 ④ 단측대파방식

54. 부가가치통신의 통신처리기능이 아닌 것은?

- ① 패킷교환 및 회선교환기능 ② 동보통신기능
 ③ 전자사서함기능 ④ 속도변환기능

55. 전자 교환기에서 통화로망과 관련하여 중앙제어장치의 명령에 따라 통화로를 완성하고 감시하는 통화 단말회로는?

- ① 주사장치 ② 통화로 제어장치
 ③ 트렁크 및 정터회로 ④ 신호분배장치

56. 텔레텍스트의 미디어 기본특성이 아닌 것은? (비디오텍스트와 비교)

- ① 쌍방향 통신 ② 축적정보량이 적음
 ③ 다수 수신자가 동시접속 ④ 단방향 동시분배

57. 실제로 송신할 데이터가 있는 단말에게만 동적인 방식으로 각 부채널(Sub-Channel)에 Time-Slot을 할당해 주는 다중화 방식은?

- ① PCM ② FDM
 ③ Inverse Mux ④ STDM

58. 데이터 통신에서 10개의 스테이션을 점대점(1:1)으로 직접 연결한다면 몇 개의 전송링크가 필요한가?

- ① 4개 ② 10개
 ③ 20개 ④ 45개

59. 다음중 위성에 장착하는 안테나와 가장 거리가 먼 것은?

- ① 파라볼라 안테나 ② 혼 안테나
 ③ 카세그레인 안테나 ④ 헤리컬 안테나

60. 전파전파의 경로상 여러 요소의 영향 때문에, 수신전계강도에 시간적 강약의 변동이 발생하는 페이딩 중에서 대류권파의 페이딩에 해당하는 것은?

- ① 편파성 페이딩 ② 흡수성 페이딩
 ③ 도약(Skip) 페이딩 ④ 신틸레이션 페이딩

4과목 : 정보전송 공학

61. 광섬유케이블 심선에 있어서 core의 굴절률을 점차 높이면 (증가시키면) 통화용 레이저광선의 전파 속도는 어떻게 변화되는가?

- ① 점차 빨라진다. ② 점차 늦어진다.
 ③ 전혀 불변이다. ④ 주기적으로 빨라졌다 늦어졌다 한다.

62. 휴대용 무선기기에서 주로 쓰이는 통신 방식으로 양쪽방향으로 통신은 가능하나, 동시에 양쪽방향으로의 전송은 되지 않는 통신 방식은?

- ① 단방향 통신 ② 전이중 통신
 ③ 다중 통신 ④ 반이중 통신

63. 다음은 여러가지 동축케이블의 종류들이다.가장 광대역특성을 가지는 동축케이블은?

- ① P-1M ② P-4M
③ C-60M ④ C-120M

64. 비동기 매체 액세스 제어 기술에 해당하지 않는 것은?

- ① 라운드 로빈 방식 ② 예약방식
③ 경쟁방식 ④ 핸드셰이크 방식

65. 송신 신호의 전력(분산)을 S , 주파수 대역폭 W 인 신호를 통과시켰을 때 전력(분산) N 인 백색 가우스 잡음을 발생하는 통신로의 용량에 관하여 바르게 설명한 것은?

- ① 통신로 용량을 크게하려면 신호전력 S 에 비례하므로 S 의 값을 증가시키는 것이 효과적이다.
② 대역폭을 크게하는 것 보다 잡음 전력을 감소 시키는 것이 통신로 용량을 지속적으로 증가 시킨다.
③ 대역폭을 K 배항과 SN비를 K 승 함은 정보 전송량인 점에서 등가이다.
④ SN비를 크게하므로서 통신로 용량을 shannon 한계보다 크게할 수 있다.

66. 코드들 사이의 최소거리(minimum distance)가 3일때, 다음 설명 중 맞는 것은?

- ① 에러 1개를 수정하거나, 또는 에러 2개를 검출할 수 있다.
② 에러 1개를 수정하고, 에러 2개를 검출할 수 있다.
③ 에러 2개를 수정하거나, 또는 에러 3개를 검출할 수 있다.
④ 에러 2개를 수정하고, 에러 3개를 검출할 수 있다.

67. 표본화 정리(sampling theorem)에 의하면 주파수 대역이 300 ~ 3400[Hz]인 전화의 경우 다음 어느 시간마다 표본화하면 완전히 정보를 전송할수 있는가?

- ① 1/300초 ② 1/3400초
③ 1/6800초 ④ 1/2000초

68. HDLC에서 프레임 체크 시퀀스로 가장 적합한 부호는?

- ① CRC ② Hamming
③ Gray ④ ASCII

69. 아날로그 전송로에 의한 디지털 데이터 전송에 관하여 설명한 것이다. 틀린 것은?

- ① 디지털 신호를 그대로 전송하는 베이스밴드(base band) 전송을 할 수 있다.
② 디지털 신호를 아날로그 형태의 신호로 변환하여 전송하는 대역전송을 할 수 있다.
③ 고속으로 디지털 데이터 신호를 전송하는 경우에는 다치(多值)변조를 사용한다.
④ 전화망을 디지털 데이터 전송에 사용할 수는 있으나 변복조 방식은 사용하지 않는다.

70. 출현확률이 큰 신호계열에 짧은 부호를 출현확률이 적은 신호 계열에 긴 부호를 할당하여 송신 부호를 할당하는 부호화법은 어느 것인가?

- ① 예측 부호화 ② 직교변환 부호화
③ 런LENGTH 부호화 ④ 허프만 부호화

71. 다음중 HDLC 제어영역의 프레임 종류가 아닌 것은?

- ① 정보 프레임 ② 비번호 프레임
③ 감독 프레임 ④ 접속 프레임

72. 전송제어 절차의 5단계를 데이터전송을 위한 동작순서로 바르게 나열한 것은?

- ① 통신회선접속-링크설정-정보메세지전송-링크종결-통신회선의 절단
② 링크설정-통신회선접속-정보메세지전송-통신회선의 절단-링크종결
③ 링크설정-통신회선접속-정보메세지전송-링크종결-통신회선의 절단
④ 통신회선접속-링크설정-링크종결-정보메세지 전송-통신회선의 절단

73. Bandpass 전송방식에 대한 설명이 아닌 것은?

- ① 단말로부터 데이터 신호를 모뎀을 이용하여 변조 후 전송하는 방식이다.
② 10~100bps 저속데이터 전송 방식으로 이용한다
③ 저속데이터 전송을 위한 변조방식은 FSK를 사용한다
④ 고속데이터를 전송하는 경우 동기식 전송을 한다.

74. 어떤 광케이블의 감쇠가 10[dB/Km]일때 이 광케이블에 1[W]의 전력을 송신했다면 1[Km]떨어진 수신점에서의 광전력은 얼마나 되겠는가?

- ① 0.1[W] ② 0.2[W]
③ 0.5[W] ④ 0.9[W]

75. 펄스부호변조(PCM)전송에서 음성 1채널의 대역폭을 4[KHz]로 잡았다. 이 대역폭의 2배로 표본화(sampling)하고 8비트(bit)로 인코드(Encode)했을 경우의 음성 1채널의 비트레이트(bit rate)와 음성 24채널을 시분할 다중화시켰을 경우의 최종 비트 레이트(bit rate)는 어느 것인가?

- ① 4[Kb/sec], 96[Kb/sec]
② 16[Kb/sec], 384[Kb/sec]
③ 32[Kb/sec], 788[Kb/sec]
④ 64[Kb/sec], 1544[Kb/sec]

76. 전송부호가 갖추어야 할 조건에 해당하지 않는 것은?

- ① 전송대역폭이 좁아야 한다
② 제작이 쉬워야 한다
③ 동기 재생이 어려워야 한다.
④ 직류 성분이 없어야 한다.

77. HDLC(HIGH LEVEL DATA LINK CONTROL) SEQUENCE는?

①

flag	address	제머부	date	FCS	flag
------	---------	-----	------	-----	------

②

Phase A	Phase B	Phase C	Phase D
---------	---------	---------	---------

③

SOH	STX	ETX	BCC
-----	-----	-----	-----

④

START	DATE	STOP	STOP
-------	------	------	------

78. 오류제어 방식 중 ARQ방식의 장점이 아닌 것은?

- ① 신뢰도가 높다.
② 예상되지 않은 오류에 대해서도 강하다.

- ③ 복호기가 간단하다.
 ❶ 귀환통신로를 사용한다.

79. 아나로그 신호 중계기의 부궤환 증폭기의 주요 기능이 아닌 것은 ?

- ① 전송선로의 손실 보상과 등화 ② 중계기 장애 감시
 ③ 중계기의 전력공급 ❶ 유도잡음 제거

80. 디지털 데이터를 전송하는 방법중 아나로그 전송방식이 아닌 것은?

- ❶ NRZ(Non Return to Zero)
 ② FSK(Frequency Shift Keying)
 ③ PSK(Phase Shift Keying)
 ④ QAM(Quadrature Amplitude Modulation)

5과목 : 전자계산기일반 및 정보통신설비기준

81. 인터럽트 발생원인이 아닌 것은?

- ① 정전
 ② 조작자의 의도적인 조작
 ③ 0으로 나누었을 때
 ❶ 임의의 부프로그램에 대한 호출

82. 다음 중 음의 정수를 연산하기 가장 쉬운 것부터 나열한 것은?

- ① 부호와 절대치 → 1의 보수 → 2의 보수
 ② 부호와 절대치 → 2의 보수 → 1의 보수
 ③ 1의 보수 → 2의 보수 → 부호와 절대치
 ❶ 2의 보수 → 1의 보수 → 부호와 절대치

83. 전기통신설비는 전력유도 방지에 대한 조치를 강구하여야 한다. 통신기기 오동작 유도종전압의 제한치는 얼마인가?

- ① 5[V] ② 10[V]
 ❶ 15[V] ④ 20[V]

84. 다음 중 중앙처리장치(CPU)의 동작속도에 가장 큰 영향을 미치는 것은?

- ① 레지스터의 종류 ② 프로그램 카운터길이
 ③ 외부버스의 길이 ❶ 클럭주파수

85. 컴퓨터의 메모리 크기 단위 중에서 가장 큰 것은?

- ① KB ② MB
 ③ GB ❶ TB

86. 전기통신사업이나 공사를 경영하고자 하는자는 관련법령이 정하는 바에 따라 정보통신부장관의 행정절차를 거쳐야 한다. 다음 중 그 절차가 틀리는 것은?

- ① 기간통신사업-허가 ② 별정통신사업-등록
 ❶ 부가통신사업-인가 ④ 정보통신공사업-등록

87. 다음 debugging과 관계가 적은 것은?

- ❶ coding ② single step
 ③ trace ④ dump

88. 다음 각 자료형 중에서 가장 적은 비트의 수를 필요로 하는

것은?

- ① 실수형 자료(real type)
 ② 정수형 자료(integer type)
 ③ 문자형 자료(character type)
 ❶ 논리형 자료(boolean type)

89. 전기통신에 관한 기본계획은 누가 수립하여 공고하는가?

- ① 과학기술부장관 ② 한국통신사장
 ❶ 정보통신부장관 ④ 통신정책위원회위원장

90. 정보통신부장관은 전기통신기술의 진흥을 위하여 그에 대한 시행계획을 수립하는 바 다음 사항 중 포함되지 않아도 되는 것은?

- ① 전기통신기술의 연구 개발에 관한 사항
 ❶ 전기통신기술의 산업화 촉진에 관한 사항
 ③ 전기통신 기술연구 단체의 육성에 관한 사항
 ④ 전기통신기술의 국제협력에 관한 사항

91. 정보화추진위원회에 관한 설명으로 적합하지 않은 것은?

- ❶ 프로그램 저작권의 보호와 관련된 정책 심의
 ② 위원장은 국무총리임
 ③ 국무총리 소속하에 설치된 기구임
 ④ 위원회의 효율적인 운영을 위하여 정보화추진실무위원회를 둔다.

92. 전기통신설비의 기술기준은 어느 법령에 근거를 두고 제정하는가?

- ① 정보화촉진기본법 ❶ 전기통신기본법
 ③ 정보통신공사업법 ④ 전기통신사업법

93. 정부는 정보화촉진등을 위하여 몇 년의 기간을 단위로 하는 정보화촉진기본계획을 수립하여야 하는가?

- ① 1년 ② 3년
 ❶ 5년 ④ 7년

94. 정보통신공사 발주자로부터 공사를 도급받은 공사업자를 무엇이라고 말하는가?

- ❶ 수급인 ② 도급인
 ③ 용역업자 ④ 하도급인

95. 프로그램 카운터와 명령의 주소부분을 더해 유효 주소로 결정하는 주소지정방식은?

- ① Base Addressing ② Index Addressing
 ③ Immediate Addressing ❶ Relative Addressing

96. 인터럽트 발생시 프로그램의 복귀 번지를 저장하는 것은?

- ❶ Stack ② Queue
 ③ Deque ④ PC

97. 전기통신설비의 통합운용에 관한 내용으로 관련이 없는 것은 ?

- ① 전기통신설비의 효율적인 관리.운용을 위하여 필요한 경우에 한한다.
 ❶ 별정통신사업자로 하여금 통합운영하게 할 수 있다.
 ③ 통합운영계획은 관계 행정기관의 장과 협의한 후 국무회의를 거쳐 대통령의 승인을 얻어야 한다.

- ④ 전기통신설비뿐만 아니라 그에 부속된 토지, 건물 기타 구축물도 포함된다.

98. CPU에서 논리연산 또는 산술연산을 행하였을 때 그 결과의 상태(Status)를 나타내는 레지스터는?

- ① 인덱스 레지스터 ② 상태 레지스터
③ 명령 레지스터 ④ 스택 포인터

99. 기간통신사업자가 전기통신역무에 관한 요금, 기타 이용조건을 정하여 정보통신부장관의 인가를 받은 것을 무엇이라 하는가?

- ① 시행규정 ② 이용약관
③ 시설기준 ④ 시행규칙

100. 다음 중에서 8비트로 1의 보수 표현 방법에 의하여 +10과 -10을 올바르게 표현한 것은 어느 것인가?

- ① +10 : 00001010, -10 : 11110101
② +10 : 00001010, -10 : 11111010
③ +10 : 10001010, -10 : 11110101
④ +10 : 10001010, -10 : 11111010

전자문제집 CBT PC 버전 : www.comcbt.com

전자문제집 CBT 모바일 버전 : m.comcbt.com

기출문제 및 해설집 다운로드 : www.comcbt.com/xs

전자문제집 CBT란?

종이 문제집이 아닌 인터넷으로 문제를 풀고 자동으로 채점하며 모의고사, 오답 노트, 해설까지 제공하는 무료 기출문제 학습 프로그램으로 실제 시험에서 사용하는 OMR 형식의 CBT를 제공합니다.

PC 버전 및 모바일 버전 완벽 연동

교사용/학생용 관리기능도 제공합니다.

오답 및 오탈자가 수정된 최신 자료와 해설은 전자문제집 CBT에서 확인하세요.

1	2	3	4	5	6	7	8	9	10
③	④	③	③	③	①	①	③	①	②
11	12	13	14	15	16	17	18	19	20
①	②	②	②	①	④	②	③	③	①
21	22	23	24	25	26	27	28	29	30
④	④	④	③	④	①	②	②	④	②
31	32	33	34	35	36	37	38	39	40
④	①	③	④	③	④	④	②	③	①
41	42	43	44	45	46	47	48	49	50
④	③	②	③	①	②	①	③	④	④
51	52	53	54	55	56	57	58	59	60
④	④	④	①	③	①	④	④	③	④
61	62	63	64	65	66	67	68	69	70
②	④	④	④	③	①	③	①	④	④
71	72	73	74	75	76	77	78	79	80
④	①	②	①	④	③	①	④	④	①
81	82	83	84	85	86	87	88	89	90
④	④	③	④	④	③	①	④	③	②
91	92	93	94	95	96	97	98	99	100
①	②	③	①	④	①	②	②	②	①