

1과목 : 조경사

- 일본 침전조정원의 원형으로 평안에 위치한 「등원양방」의 저택은?
 - 동삼조전
 - 평등원
 - 삼보원
 - 정유리사
- 일본 용안사 석정과 관련이 없는 것은?
 - 암석
 - 장방형
 - 추상적 고산수
 - 침전조
- 고대 그리스 아도니스원(Adonis Garden)은 어느 정원 형태의 원형인가?
 - 옥상정원
 - 중세의 수도원 정원
 - 고대 로마의 페리스틸리움
 - 파티오(patio)식 정원
- 다음 중 5계단으로 이루어진 중국의 계단식 정원(階段式 庭園)은?
 - 영수궁의 건륭화원(乾隆花園)
 - 북해(北海)의 단성(團城)
 - 자금성(紫金城)의 북쪽에 있는 경산(京山)
 - 자금성 홍안전의 어화원(御花園)
- 다음 Lancelot Brown의 설계관에 관한 설명으로 옳지 않은 것은?
 - 부드러운 기복의 잔디밭
 - 자수화단 설치로 색채효과
 - 거울같이 잔잔한 수면
 - 빛과 그늘의 대조
- 다음 고려시대 누정 가운데 궁궐 내에 조영된 것은?
 - 상춘정
 - 장원정
 - 향림정
 - 부벽루
- 돌을 절구나 도가니처럼 다듬어 석연지나 물거울로 사용하는 전통 정점물은?
 - 식석
 - 돌확
 - 석분
 - 대석
- 스페인 헤네랄리페의 주정은 무엇인가?
 - 사이프레스의 파티오(Patio de los Ciperses)
 - 수로의 파티오(Court of the Canal)
 - 연못의 파티오(Court of the Myrtles)
 - 다라하의 파티오(Patio de Daraxa)
- 우리나라 왕명(王名)과 그들이 조성했거나 변형시킨 작품과의 연결이 옳지 않은 것은?
 - 조선 세조 - 창덕궁 후원
 - 고려 충혜왕 - 방장선상
 - 조선 태종 - 경회루
 - 연산군 - 만세산
- 원경이 한눈에 드러나지 않도록 하며 갑자기 넓은 공간을

출현시켜 경관의 대비를 이루도록 하는 중국의 원림경관 구성기법은?

- 억경(抑景)
 - 투경(透景)
 - 협경(夾景)
 - 대경(對景)
- 다음 한국정원의 특징에 관한 설명으로 가장 거리가 먼 것은?
 - 중국정원의 영향을 받았다.
 - 공간의 처리가 직선적이다.
 - 정원의 수법은 자연환경의 극복과 재창조를 목적으로 한다.
 - 풍수지리설(風水地理說)과 음양오행설(陰陽五行說)의 영향을 받았다.
 - 다음 정원의 경영자와 조성년대가 맞지 않은 것은?
 - 소쇄원 : 양산보, 1520~1557년
 - 서석지원 : 정영방, 1610~1636년
 - 문수원선원 : 이자현, 1090~1110년
 - 부용동 정원 : 윤선도, 1301~1327년
 - 다음 중 1930년대 미국의 캘리포니아 스타일과 가장 관련이 깊은 조경가는?
 - 찰스 플래트(Charles Platt)
 - 토마스 처치(Thomas Church)
 - 헨리 라이트(Henry Wright)
 - 다니엘 번함(Daniel Burnham)
 - 인도 무굴왕조 자한기르 시대에 조영되어 물의 역동성, 히말라야 산록의 조망, 비스타의 강조 그리고 단풍나무의 녹음과 가을풍경 등이 특징인 정원은?
 - 샤리마르-바그
 - 니샤트-바그
 - 아차발-바그
 - 이티마트-우드-다우라묘
 - 영국 정형식 정원의 특징으로 옳지 않은 것은?
 - 마운드는 기하학적 규칙성을 가진 인공적 언덕이었다.
 - 조각이나 병, 화분 등으로 테라스, 원로를 장식했다.
 - 정원의 대부분은 도시 근로자의 휴식을 위한 것이다.
 - 산책로는 자갈, 잔디, 타일, 판석 등으로 대개 포장을 하였다.
 - 다음 중 구레 운조루 정원의 특징에 관한 설명으로 가장 거리가 먼 것은?
 - 운조루는 후정에 있는 누각이다.
 - 바깥마당에 장방형의 연못이 있다.
 - 낙안군수 유이주가 조성하였다.
 - 「전라구레오미동가도」에 정원의 모습이 남아 있다.
 - 독일의 폴크스파르크(Volkspark)에 관한 설명 중 옳지 않은 것은?
 - 20세기초에 루드비히레서(L. Lesser)가 제창하였다.
 - 국민의 전계층을 대상으로 하는 심신단련을 위한 녹지의 일종이다.
 - 면적규모는 10ha 이상을 원칙으로 하였다.
 - 자연풍경식 정원양식을 주축으로 하였다.
 - 영국의 전원시인 센스톤(shenstone)은 정원미를 세 가지로

나누었는데 다음 중 여기에 해당되지 않는 것은?

- ① 장미(壯美, sublime)
- ② 우미(優美, beautiful)
- ③ 음울 또는 한적(陰鬱 또는 閑寂, melancholy or pensive)
- ④ 별미(別味, unique)

19. 수목에 관한 한자 중 근리(槿籬)란 무엇을 의미하는가?

- ① 동백나무 생울타리 ② 대나무 생울타리
- ③ 무궁화 생울타리 ④ 탕자나무 생울타리

20. 조경관련 고문헌을 저술한 인물 연결이 옳지 않은 것은?

- ① 서유거 - 임원경제지 ② 계성 - 원아
- ③ 왕세정 - 낙양명원기 ④ 굴준망 - 작정기

2과목 : 조경계획

21. 관개용 저수지나 댐 주변의 유원지 개발시 일반적으로 가장 큰 장애요인이 될 수 있는 것은?

- ① 접근도가 낮다.
- ② 주변경관이 단조롭다.
- ③ 수상 및 육지에 시설을 하여야 하므로 설계가 어렵다.
- ④ 만수시와 갈수시의 수심차이가 심하여 수변 위락시설의 적극적 이용이 힘들다.

22. 자연생태·경관보전지역의 관리, 생물다양성의 보전, 자연자산의 관리, 생태계보전협력금 등을 규정한 법규는?

- ① 자연환경보전법
- ② 환경정책기본법
- ③ 자연공원법
- ④ 국토의 계획 및 이용에 관한 법률

23. 다음은 국토의 계획 및 이용에 관한 법률 시행령에서 용도지역 중 주거지역의 세분사항이다. ()안에 알맞은 것은?

중고층주택을 중심으로 편리한 주거환경을 조성하기 위하여 필요한 지역을 (①)이라고 하고, 공동주택 중심의 양호한 주거환경을 보호하기 위하여 필요한 지역을 (②)이라고 한다.

- ① ① 제2종전용주거지역, ② 제3종일반주거지역
- ② ① 제3종전용주거지역, ② 제2종일반주거지역
- ③ ① 제3종일반주거지역, ② 제2종전용주거지역
- ④ ① 제2종일반주거지역, ② 제3종전용주거지역

24. 스키장의 입지기준에서 지형사면의 방향으로 가장 양호한 것은?

- ① 서북향 ② 서남향
- ③ 북동향 ④ 남동향

25. 다음 중 환경심리학에 관한 설명 중 옳지 않은 것은?

- ① 환경과 인간행위 상호간의 관계성을 연구한다.
- ② 사회심리학과 많은 공동 관심분야를 지니고 있다.
- ③ 이론적 연구에는 관심이 없고 현실적 문제 해결에만 관심을 둔다.
- ④ 다소 정밀하지 않더라도 문제해결에 도움이 되는 가능한

모든 연구방법을 사용한다.

26. 다음 중 환경영향평가의 어려움에 관한 설명으로 옳지 않은 것은?

- ① 일정행위로 인해 초래되는 환경적 영향에 대한 과학적 자료가 미흡하다.
- ② 쾌적함, 아름다움 등의 추상적 가치에 관한 정량적 분석이 어렵다.
- ③ 환경적 영향을 충분히 분석하기 위하여 어느 만큼의 자료가 수집되어야 하는가에 대한 지식이 부족하다.
- ④ 건설 후에 평가를 하게 되므로 완화대책을 시행하는데 비용이 많이 든다.

27. 일반적으로 물체를 자극으로부터 지각하는 과정으로 맞는 것은?

- ① 지각(perception) → 반응(reaction) → 판단(judgement)
- ② 반응(reaction) → 지각(perception) → 판단(judgement)
- ③ 지각(perception) → 판단(judgement) → 반응(reaction)
- ④ 판단(judgement) → 지각(perception) → 반응(reaction)

28. 특정 공원의 연간 수요량을 알아보기 위하여 요인분석 모델을 사용한 결과 관계 함수식이 다음과 같았다.

" $Y=0.4+0.2X_1+0.25X_2+3X_3+0.5X_4$ " 만약 1ha의 식재지를 포함한 공원의 면적이 3ha, 공원내 시설물이 20개, 입장료가 100원이라면 이 공원의 연간 수요량은 얼마인가?(단, Y : 연간수요량(명), X_1 : 공원의 면적(ha), X_2 : 공원내 시설물의 개수(개), X_3 : 공원내 식재지 면적/공원의 면적, X_4 : 입장료(원))

- ① 54명 ② 55명
- ③ 56명 ④ 57명

29. 다음은 자연공원법상 사용되는 용어의 설명이다. ()안에 알맞은 것은?

()이란 자연공원을 보전·이용·관리하기 위하여 장기적인 발전방향을 제시하는 종합계획으로서 공원계획과 공원별 보전·관리계획의 지침이 되는 계획을 말한다.

- ① 공원개발계획 ② 공원기본계획
- ③ 공원보전계획 ④ 공원보존계획

30. 다음 중 용적률을 나타내는 개념과 거리가 먼 것은?

- ① 연상면적 ÷ 대지면적 ② 평균층수 × 건폐율
- ③ 호수밀도 × 1호당 면적 ④ 총 층수 ÷ 건물 동수

31. 자전거 이용시설의 구조·시설 기준에 관한 규칙상의 자전거도로 설치에 관한 설명 중 옳지 않은 것은?

- ① 자전거도로의 폭은 하나의 차로를 기준으로 1.5m 이상으로 한다.(다만, 지역상황 등에 따라 부족하다고 인정되는 경우에는 1.2m 이상으로 할 수 있다.)
- ② 2% 미만의 경사도에 설계속도 20~30km/h를 가진 도로에서의 하향경사 정지시거는 20m 이다.
- ③ 시속 30km의 설계속도를 가진 도로에서의 곡선반경은 27m이상 두어야 한다.
- ④ 7% 이상의 종단경사를 가진 도로는 제한길이를 170m 이하로 유지하여야 한다.

32. 정밀토양도에서 토양의 명칭을 "Mn C2"라고 명명하였을 경

우'2'가 뜻하는 바는?

- ① 침식정도 ② 경사도
③ 비옥도 ④ 배수정도

33. 다음 중 페리(Perry)가 주장한 근린주구이론에서 하나의 근린단위가 갖고 있어야 하는 기본요소에 해당하지 않는 것은?

- ① 운동장 ② 완충녹지
③ 작은 공원 ④ 소규모 가게

34. 동선계획을 구체화하는 과정에서 공간의 경험과 체험이 연속적이 되도록 기능과 시설을 배치하고자 하는 것을 무엇이라 하는가?

- ① Sequence ② Scale
③ Contrast ④ Context

35. 조경기본계획안이 작성되면 설계자 스스로가 기본 계획안에 대한 내적 평가를 하게 된다. 이 때 평가의 일반적 기준이 될 수 없는 것은?

- ① 분석·종합의 기준 ② 표현기법
③ 계획목표 ④ 프로그램

36. 래드번 도시계획에 관한 설명으로 옳지 않은 것은?

- ① 슈퍼블럭을 채택
② 통과교통을 단지내로 통과 배제
③ 보도망의 형성 및 보도와 차도의 입체적 분리
④ Howard에 의해 조성된 대표적인 전원도시

37. 뉴먼(Newman)은 주거단지 계획에서 환경심리학적 연구를 응용하여 범죄 발생률을 줄이고자 하였다. 뉴먼이 적용한 가장 중요한 개념은?

- ① 영역성(territoriality)
② 개인적 공간(personal space)
③ 혼잡성(crowding)
④ 프라이버시(privacy)

38. 다음 인문생태적 조경이론(Human Ecological Planning)을 설명한 것 중 틀린 것은?

- ① 미국의 조경가 맥하그(Ian McHarg)에 의해 주도 되었다.
② 인문주의적 조경이론이다.
③ 생태환경과 이용자들을 위해 가장 적합한 환경을 추구하고자 한다.
④ 물리, 생물, 문화적 시스템을 서로 연관지어 설명하고자 한다.

39. 도시계획시설의 결정·구조 및 설치기준에 관한 규칙상 광장의 구조 및 설치기준에 대한 설명이 틀린 것은?

- ① 경관광장에는 주민의 사교·오락·휴식 등을 위한 시설을 설치하여야 하며, 광장 인근에 당해 지역을 통과하는 교통량을 처리하기 위한 도로를 배치하지 아니할 것
② 교차점광장에는 횡단보행자의 통행에 지장이 없는 시설을 설치하고, 「도로법」의 규정에 의한 도로부속물을 설치할 수 있도록 할 것
③ 교차점광장은 자동차의 설계속도에 의한 곡선반경 이상이 되도록 하여 교통처리가 원활히 이루어지도록 할 것
④ 역전광장 및 주요시설광장에는 이용자를 위한 보도·차도·택시정류장·버스정류장·휴식시설 등을 설치할 것

40. 공원과 공원을 서로 "파크웨이(park way)"로 연결 시키도록 하는 공원계통의 이념을 확립시킨 사람은?(오류 신고가 접수된 문제입니다. 반드시 정답과 해설을 확인하시기 바랍니다.)

- ① Humphrey Repton ② William Kent
③ Lancelet Brown ④ F.L Olmsted

3과목 : 조경설계

41. 다음 설명 중 ()안에 적합한 것은?

보도의 유효폭은 보행자의 통행량과 주변 토지 이용상황을 고려하여 결정하되, 최소 ()미터 이상으로 하여야 한다. 다만, 지방지역의 도로와 도시지역의 국지도로는 지형상 불가피하거나 기존 도로의 증설개설 시 불가피하다고 인정되는 경우는 제외한다.

- ① 1.0 ② 1.2
③ 1.5 ④ 2.0

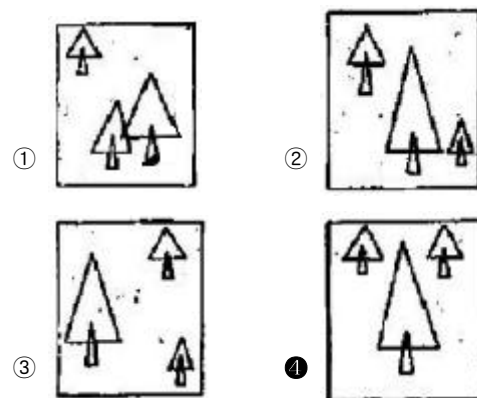
42. 소음이 발생하는 작업에 대한 설계시 산업안전보건기준에 관한 규칙에 따라 1일 8시간 작업을 기준으로 몇 데시벨 이상일 경우 소음작업으로 구분 하는가?

- ① 80 ② 85
③ 90 ④ 100

43. 렐프(Relph)는 장소성을 설명하는 개념으로 내부성과 외부성을 거론한 바 있다. 다음 중 내부성과 관련하여 렐프가 제시한 유형이 아닌 것은?

- ① 직접적 내부성 ② 존재적 내부성
③ 감정적 내부성 ④ 행동적 내부성

44. 다음 중 대칭적(symmetrical)인 구도로 가장 안정감을 갖고 있는 것은?



45. 다음 조경설계기준상의 생태통로 중 암거형 종류에 대한 설명으로 옳지 않은 것은?

- ① 박스형 암거 : 농촌의 농로 또는 수로의 역할을 겸할 수 있는 폭 3~4m 내외의 사각형 구조물로서 너구리의 이용에 유리하다.
② 파이프형 암거 : 지름 1m 내외의 콘크리트 또는 철재 원형관으로서 너구리, 족제비, 설치류의 이용에 유리하다.
③ 수로형 암거 : 콘크리트 배수로로 보완한 지름 1~2m의 사각 구조물로서 동물이 물에 빠지지 않고 이동하도록

벽에 선반을 설치해 준다. 수달, 삿, 너구리, 족제비, 설치류의 이용에 유리하다.

- ① 저면습지용 암거 : 양서류 또는 파충류의 이동을 확보하기 위한 구조로서 0.2~0.5m 폭으로 조성하며, 배수구조물은 별도로 조성한다. 소형동물의 이동을 겸한 터널인 경우는 3~5m 크기로 한다.

46. 건물의 전면(前面) 전부를 보며 심리적 압박감이 없어 질 수 있는 거리는 건물에서부터 최소 얼마의 거리를 떨어져서 보아야 하는가?

- ① 건물높이의 1.0배 ② 건물높이의 2.0배
③ 건물높이의 3.0배 ④ 건물높이의 4.0배

47. 경관을 구성하는 지배적 요소 중 경관의 우세요소(dominance elements)에 속하지 않는 것은?

- ① 형태(form) ② 질감(texture)
③ 다양성(variety) ④ 선(line)

48. 목재를 이용한 시설물 설계에서 고려해야 하는 설계기준이 아닌 것은?

- ① 전단강도를 요구할 경우에는 직각방향으로 제재한다.
② 도포법은 침지법보다 경제적인 방부처리 방법이다.
③ 가급적 목재는 이어쓰기는 피하는 것이 효율적이다.
④ 내구력이 떨어지고 품질이 균일하지 못한 특성이 있다.

49. 색의 3속성 중 색의 순수한 정도, 색채의 포화상태 색채의 강약을 나타내는 성질은?

- ① 색상 ② 명도
③ 채도 ④ 명암

50. 한색과 난색의 감정효과 - 거리와 크기감 - 시간의 경과감에 대한 연결이 맞는 것은?

- ① 한색 : 따뜻한 색, 흥분색 - 멀고 작게 - 느리게 느껴짐
② 난색 : 차가운 색, 진정색 - 가깝고 크게 - 느리게 느껴짐
③ 한색 : 차가운 색, 진정색 - 멀고 작게 - 빠르게 느껴짐
④ 난색 : 따뜻한 색, 흥분색 - 가깝고 크게 - 빠르게 느껴짐

51. 다음 중 Albedo 값이 높은 것부터 낮은 것으로 옳게 나열한 것은?

- ① 눈 → 숲 → 바다 → 마른모래
② 마른모래 → 숲 → 눈 → 바다
③ 눈 → 마른모래 → 숲 → 바다
④ 숲 → 바다 → 마른모래 → 눈

52. 다음 중 조경설계기준상의 축구장 배치 방법으로 가장 적합한 것은?

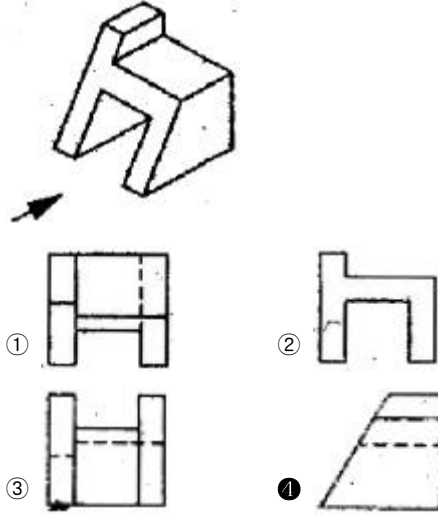
- ① 장축을 남북 방향으로 길게 배치한다.
② 장축을 동서 방향으로 길게 배치한다.
③ 장축을 북서-남동 방향으로 길게 배치한다
④ 장축을 북동-남서 방향으로 길게 배치한다.

53. 다음 중 설계 도면의 작성 목적으로 가장 거리가 먼 것은?

- ① 시공자가 정확하게 공사하기 위해
② 인·허가에 필요해서

- ③ 설계자의 설계능력을 표시하기 위해
④ 시방서 작성과 공사비 산정을 위해

54. 다음 그림과 같은 도형에서 화살표 방향에서 본 투상을 정면으로 할 경우 우측면도로 올바른 것은?



55. 200m²의 대지면적에 건축면적 50m²인 4층짜리 건물에 대한 건폐율은?

- ① 25% ② 50%
③ 100% ④ 200%

56. 조경설계기준 상의 환경조형시설에 관한 설명으로 틀린 것은?

- ① 환경조형시설은 도시옥외공간 및 주택단지 등 공적 공간에 설치되는 예술작품으로서 미술장식품, 순수창작 조형물, 기능성 환경조형물, 모뉴먼트 등을 말한다.
② 환경조형시설은 그 내용과 형식에 있어서 설치장소의 환경맥락과 지역주민의 정서에 적합하여야 하며, 공공성 있는 조형물로서 본래의 설치 목적과 취지를 반영하도록 한다.
③ 미술장식품은 문화예술진흥법에 따라 공동주택단지 등에 설치되는 조형예술품과 벽화, 분수대, 상징탑 등의 환경조형물로서 관련조례에 따라 심의 등의 절차를 필요로 하는 시설을 말한다.
④ 기능성 환경조형물은 시계탑, 조명기구, 문주 등 본래 시설물이 지니는 기능을 충족시키면서 조형적 가치와 의미가 충분히 발휘되도록 설계한 환경조형물이며 관련조례에 따라 심의 등의 절차를 필요로 한다.

57. 다음 중 특이성 비(uniqueness ratio)를 통하여 계곡(하천)의 경관가치를 평가한 사람은?

- ① Iverson ② Halprin
③ Leopold ④ McHarg

58. 제도 용지에 대한 설명으로 옳지 않은 것은?

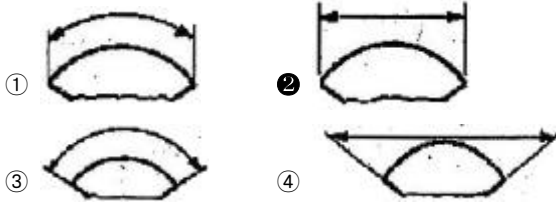
- ① A₂용지의 크기는 A₀의 1/4 이다.
② A₀ 용지의 넓이는 약 1m²이다
③ 제도 용지의 가로아 세로의 비는 약 √2:1 이다.
④ 큰 도면을 서류철용으로 접을 때에는 A₃의 크기로 접는 것을 원칙으로 한다..

59. 조각, 건축, 환경, 조경 등 환경관련 예술분야들이 한 작품 속에 융합된 형태의 작업을 나타내고, 팝아트(pop art), 설

치미술 양자의 성격을 동시에 가지며, 서술적 건축(narrative architecture), 녹색건축(green architecture)을 말하는 설계 그룹 또는 사람은?

- ① SITE(Sculpture In The Environment)
- ② 발켄버그(Valkenburgh, M. V.)
- ③ 에밀리오 암바즈(Ambasz, E.)
- ④ 지오프리 젤리코(Jellicoe, G.)

60. 다음 중 현의 길이 치수 기입을 옳게 나타낸 것은?



4과목 : 조경식재

61. 사실(寫實)적 식재의 설명으로 옳지 않은 것은?

- ① 실존하는 자연경관을 충분히 묘사하는 수법이다.
- ② 영국의 William Robinson이 제창한 야생원이 이에 속한다.
- ③ 식물생태를 존중하는 군락식재를 행한다.
- ④ 대표적인 것이 스페인의 중정이다.

62. 다음 중 잎보다 먼저 꽃이 피는 수종은?

- ① Magnolia sienoldii K. koch
- ② Magnolia denudata Desr.
- ③ Magnolia obovata Thunb.
- ④ Machilus thunbergii Siebold & Zucc.

63. 도장지(徒長枝)에 대한 설명으로 옳지 않은 것은?

- ① 부정아(不定芽)가 힘차게 자란 세력이 강한 가지이다.
- ② 도장지가 많으면 수형이 무질서해 진다.
- ③ 가지중의 일부가 나무 수간을 향하여 뻗어 있는 가지이다.
- ④ 일반적으로 조직이 연하고 약한 것이 특징이다.

64. 다음 중 상록성이 아닌 것은?

- ① Ilex crenata
- ② Ilex cornuta
- ③ Ilex integra
- ④ Ilex serrata

65. 다음 수목 중 내음성이 가장 강한 것은?

- ① Aucuba japonica Thunb
- ② Betula platyphylla var. japonica Hara
- ③ Populus nigra var. italica Koehne
- ④ Cornus officinalis Siebold & Zucc.

66. 다음 설명하는 특징의 잔디로 가장 적합한 것은?

- 한지형 잔디로 여름철에는 잘 자라지 못하며 병해가 많이 발생하나 서늘할 때는 그 생육이 왕성한 편이다.
- 일반적으로 답압에 약하지만 재생력이 강하므로 답압의 피해는 그리 크게 발생하지 않는다.
- 마황산가스에 대한 내성이 약하다.
- 불완전 포복형이지만 포복력이 강한 포복경을 지표면으로 강하게 뻗는다.

- ① 켄터키블루 그라스
- ② 벤트 그라스
- ③ 들잔디
- ④ 라이그라스

67. 옥상조경을 위한 구조적 조건과 관계 없는 것은?

- ① 식재층의 중량
- ② 수목의 중량
- ③ 비배관리
- ④ 방수

68. Hibiscus syriacus L. 에 대한 설명으로 부적합한 것은?

- ① 성상은 낙엽활엽관목이다.
- ② 음양성은 양수에 가깝다.
- ③ 내공성은 강하다.
- ④ 개화기는 초봄이다.

69. 아랍어로 자이툰이라고 하며 2002년 그리스올림픽 때 메달 수여자의 월계관에 이용된 나무이다. 우리나라는 실내 조경 식물로 이용하기도 하는 것은?

- ① 계수나무
- ② 올리브나무
- ③ 월계수
- ④ 파피루스

70. 다음 중 물푸레나무, 가중나무, 느릅나무, 계수나무의 공통점은?

- ① 암수한그루이다.
- ② 우리나라 자생종이다.
- ③ 잎은 기수1회우상복엽이다.
- ④ 종자에는 날개가 달려있다.

71. 다음 수목의 광합성 작용과 관련된 설명 중 옳은 것은?

- ① 수목의 생존가능조도는 광보상점과 광포화점 사이에 있다.
- ② 수목의 생존가능조도는 광보상점 이하이다.
- ③ 수목의 생존가능조도는 광포화점 이상이다.
- ④ 수목의 생존가능조도는 특정한 기준 없이 지속적으로 상승한다. 제 5 목 : 조경시공구조학

72. 다음 피도(coverage, C)에 대한 설명 중 틀린 것은?

- ① 단위면적당 개체수로서, 총 조사면적 중 어떤 종의 개체수를 백분율로 나타낸 것이다.
- ② 각 식물종이 차지하는 투영면적을 상층, 중층, 하층으로 구분하여 조사한다.
- ③ 브라운-블랑케(Braun-Blanquet)는 피도를 7단계로 구분하였다.
- ④ 상대피도를 구하는 공식은 어떤 한 종의 피도를 모든 종의 피도로 나눈 후 100을 곱한 값이다.

73. 군집 A는 30종을 포함하고 있고, 군집 B는 22종을 포함하고 있으며, 이 두 군집에 공통된 종이 18종이라면 이 군집의 유사성을 측정하기 위한 Sorensen 계수는?

- ① 0.321 ② 0.582
 ③ 0.692 ④ 0.895

74. 열매가 10월에 짙은 자주빛으로 아름답고 새의 먹이로 사용되며, 정원의 하목(下木)으로 이용되는 낙엽관목의 정원은?

- ① *Callicarpa dichotoma* K.Koch
 ② *Ligustrum obtusifolium* Siebold & Zucc.
 ③ *Abeliophyllum distichum* Nakai
 ④ *Celastrus orbiculatus* Thunb.

75. 다음 설명하는 수목의 특징에 가장 적합한 종은?

- 유럽에서 들어온 상록교목으로 원산지에서는 50m까지 자란다.
- 소지는 밑으로 처지고 동마는 붉은빛이 돌거나 연한 갈색이고 수지(樹脂)가 없다.
- 열매는 땅을 보고 달린다.
- 자웅동주로서 꽃은 6월에, 열매는 10월에 익으며 잎은 침상 능형이다.

- ① *Picea koraiensis* ② *Picea abies*
 ③ *Picea pungsanensis* ④ *Picea jezoensis*

76. *Pinus thunbergii* Parl. 에 대한 설명으로 옳지 않은 것은?

- ① 동아(冬芽)는 붉은색이다.
 ② 수피는 흑갈색이다.
 ③ 줄기는 단일절(單一節)이다.
 ④ 해안지역의 평지에 많이 분포한다.

77. 다음 중 천근성(淺根性) 수종은?

- ① *Zelkova serrata* Makino
 ② *Abies holophylla* Maxim.
 ③ *Quercus acutissima* Carruth.
 ④ *Populus eurameriana* Guinier.

78. 다음 수목 중 들새(野鳥)의 식이식물(食餌植物)로 적합하지 않은 것은?

- ① *Juniperus chinensis* 'Kaizuka'
 ② *Sorbus alnifolia* K. Koch
 ③ *Pyracantha angustifolia* C. K. Schneid.
 ④ *Cornus controversa* Hemsl. ex Prain

79. 다음 중 줄기가 적갈색(赤褐色)계의 색채를 나타내는 수종은?

- ① *Cedrus deodara* London
 ② *Myrica rubra* Siebold & Zucc.
 ③ *Taxus cuspidata* Siebold & Zucc.
 ④ *Firmiana simplex* W. F. Wight

80. 효율적인 비오톱 배치원칙으로 옳지 않은 것은?

- ① 비오톱은 가능한 한 넓은 것이 좋다.
 ② 분할하는 경우에는 분산시키지 않는 것이 좋다.
 ③ 불연속적인 비오톱은 생태적 통로로 연결시키는 것이 좋다.

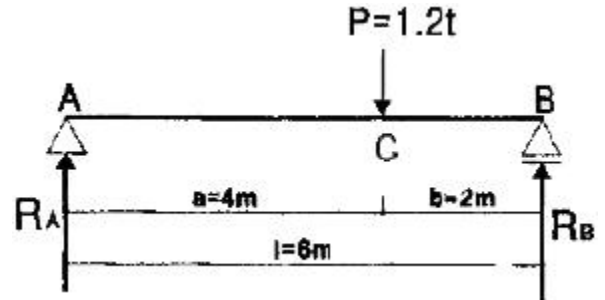
④ 비오톱의 형태는 가능한 한 선형이 좋다.

5과목 : 조경시공구조학

81. 8ton 덤프트럭으로 자연상태에서의 토석의 단위중량 1500kg/m^3 인 점질토를 운반하려 할 때 1회 적재량은 약 얼마인가?(단, C 값은 0.9, L 값은 1.25 이다.)

- ① 4.8m^3 ② 10.8m^3
 ③ 6.7m^3 ④ 4.2m^3

82. 그림과 같은 단순보의 C지점에 대한 휨모멘트(Bending Moment)는?



- ① $3.2t \cdot m$ ② $2.4t \cdot m$
 ③ $1.6t \cdot m$ ④ $0.8t \cdot m$

83. 벽돌벽의 균열에 대한 설명으로 옳지 않은 것은?

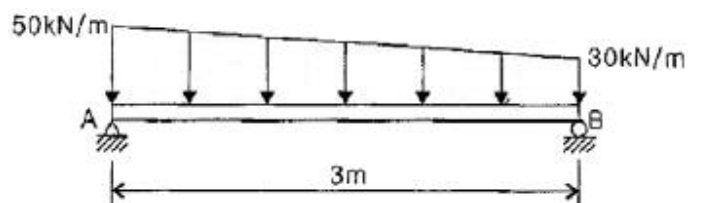
- ① 벽돌강도는 모르타르의 강도보다 크게 한다.
 ② 건물의 평면·입면의 불균형을 초래하지 않는다.
 ③ 온도변화와 신축을 고려한 control joint를 설치한다.
 ④ 벽돌벽의 길이, 높이에 비해 두께가 부족하거나 벽체강도가 부족하지 않도록 한다.

84. 다음 야장에서 측정 No.C의 기계고는 얼마인가?

S	BS	FS	IH	GH
A	1.15			20.000m
B		2.16		
C	2.43	2.33		
D		1.67		

- ① 21.15m ② 21.25m
 ③ 21.33m ④ 21.43m

85. 그림과 같은 단순보에서 사다리꼴 형태의 분포하중이 작용한다. 보의 중앙점의 단면에 작용하는 굽힘 모멘트의 크기는 몇 kNm인가?



- ① 15 ② 25
 ③ 35 ④ 45

86. 다음 [보기]에서 설명하는 시멘트의 종류는?

- 화학저항성이 크고 내산성이 우수하다.
- 건조수축은 작은 편에 속한다.
- 조기강도는 보통시멘트에 비해 작으나 장기강도는 보통시멘트와 같거나 약간 크다.
- 수화열이 보통시멘트보다 적으므로 댐이나 방사선 차폐용, 매시브한 콘크리트 등 단면이 큰 콘크리트 용으로 적합하다.

- ① 실리카 시멘트(Silica cement)
 ② 알루미나 시멘트(Alumina cement)
 ③ 저열 포틀랜드 시멘트(low-heat portland cement)
 ④ 중용열 포틀랜드 시멘트(moderate-heat portland cement)

87. 구조물에 작용하는 하중 중 바람 및 지진 또는 온난한 지방의 눈하중과 같이 구조물에 잠시 동안만 작용하는 하중을 말하는 것은?

- ① 이동하중 ② 집중하중
 ③ 고정하중 ④ 단기하중

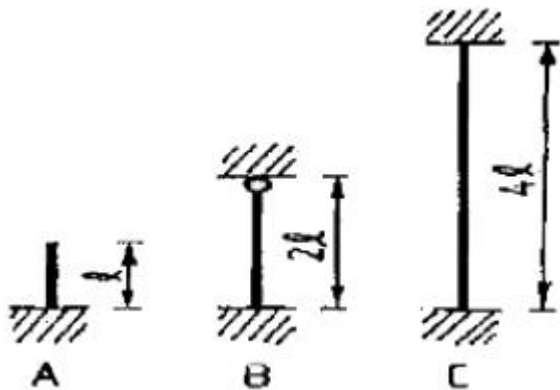
88. 어느 지역 토양의 공극률(porosity) 측정을 위해 토양 60cm³를 채취하여 고형입자 부피와 수분 부피를 측정 하였더니 각각 36cm³와 12cm³였다. 이 지역 토양의 공극률(%)은?

- ① 10 ② 20
 ③ 30 ④ 40

89. 수목 식재 후 지주목을 설치하려 한다. 경관상 매우 중요한 위치에 적합한 지주 방법은?

- ① 삼각지주 ② 매몰형지주
 ③ 당김줄형지주 ④ 버팀형지주

90. 그림과 같은 장주의 좌굴길이의 크기를 옳게 표시한 것은? (단, 기중의 재질과 단면 크기는 모두 동일하다.)



- ① A = B < C ② A < B < C
 ③ B < A = C ④ B < A < C

91. 건설공사의 원가관리에 대한 설명으로 옳지 않은 것은?

- ① 총원가는 공사원가와 일반관리비로 구성된다.
 ② 원가관리는 원가수치를 이용하여 원가절감을 목적으로 원가통계를 하는 것이다.
 ③ 경비란 직접 물건을 만드는데 필요한 자재나 노무비용을 말한다.

④ 간접노무비 비율은 계약 목적물의 규모, 내용, 공종, 기간 등에 따라 최근년도에 지분된 노임실적을 기준으로 직접노무비의 합계액에 대한 간접노무비의 비율로 산정한다.

92. 다음 중 소나무 각재의 압축 강도시험을 할 때 측정하지 않아도 되는 것은?

- ① 비열 ② 비중
 ③ 함수율 ④ 평균연륜 폭

93. 재료의 성질을 나타낸 용어에 대한 설명으로 옳지 않은 것은?

- ① 취성 : 작은 변형에도 파괴되는 성질
 ② 연성 : 재료를 두들길 때 얇게 퍼지는 성질
 ③ 강성 : 외력을 받았을 때 변형에 저항하는 성질
 ④ 소성 : 힘을 제거해도 본래 상태로 돌아가지 않고 영구 변형이 남는 성질

94. 시방서에 대한 설명으로 틀린 것은?

- ① 표준시방서는 발주자가 작성하여 시공자에게 전달한다.
 ② 시방서는 설계자의 의도를 시공자에게 전달하기 위해 설계도에 기재할 수 없는 사항을 기재한다.
 ③ 공사시방서에는 특정 공사용으로 작성된 시방서로 공통 시방서와 특기시방서를 포함한다.
 ④ 재료, 공법을 정확하게 지시하고 도면과 시방서가 상이하지 않게 기록하는데 주의를 기울인다.

95. 다음 중 에폭시수지에 대한 특징 설명으로 옳은 것은?

- ① 가격이 저렴하다.
 ② 금속의 접착성이 좋다.
 ③ 내수성이 좋지 못하다.
 ④ 내약품성이 좋지 못하다.

96. 아파트, 지하철공사, 고속도로공사 등 대규모공사에서 지역별로 공사를 구분하여 발주하는 공급방식은?

- ① 공구별 분할도급
 ② 공정별 분할도급
 ③ 전문공사별 분할도급
 ④ 직종별, 공정별 분할도급

97. 개수로(開水路)에 대한 설명으로 옳지 않은 것은?

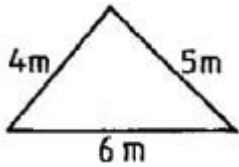
- ① 개수로의 흐름은 압력에 의하여 흐르는 것이 아니다.
 ② 자연하천 및 배수로 등이 자유수면을 가질 때 개수로라 한다.
 ③ 흐름에 작용하는 중력이 수면방향의 분력에 의하여 자유수면을 가지는 흐름을 말한다.
 ④ 지하배수관거와 같이 뚜껑이 덮여 있는 양거는 물이 일부만 차 흘러감으로 개수로라 할 수 없다.

98. 사질토와 점질토에 관한 특징 설명으로 옳지 않은 것은?

- ① 압밀속도는 점질토가 사질토 보다 느리다.
 ② 투수계수는 점질토가 사질토 보다 작다.
 ③ 동결피해는 점질토가 사질토보다 크다.
 ④ 내부마찰각은 점질토가 사질토 보다 크다.

99. 다음은 축척 1:50,000의 평면도면에 그려진 3각형의 땅이

다. 이 땅의 실제 면적은 약 얼마인가?



- ① 50 ha ② 248 ha
③ 263 ha ④ 320 ha

100. 일반적으로 석재의 흡수율이 큰 것부터 작은 순서로 옳게 나열한 것은?

- ① 안산암 - 사암 - 응회암 - 화강암 - 대리석
② 안산암 - 응회암 - 사암 - 화강암 - 대리석
③ 응회암 - 사암 - 화강암 - 안산암 - 대리석
④ 응회암 - 사암 - 안산암 - 화강암 - 대리석

6과목 : 조경관리론

101. 조경수목의 정자, 전지, 전정 등의 관리방법으로 옳지 않은 것은?

- ① 수목관리시 도장지는 제거하여 준다.
② 뱀나무는 수형을 잡아주기 위하여 자주 가지치기를 해야 한다.
③ 정자(整姿, trimming)란 나무 전체의 모양을 일정한 양식에 따라 다듬는 작업이다.
④ 봄에 꽃피는 진달래는 꽃이 진 후에 전전을 하면 다음해에 많은 꽃을 볼 수 있다.

102. 조경공사 현장에서 다음과 같은 안전재해 사례가 발생하였다. 다음 분석 내용으로 옳은 것은?

작업자가 벽돌을 손으로 운반하던 중 떨어뜨려 벽돌이 발등에 부딪쳐 발을 다쳤다

- ① 가해물 : 벽돌, 기인물 : 벽돌, 사고유형 : 낙하
② 가해물 : 벽돌, 기인물 : 손, 사고유형 : 충돌
③ 가해물 : 벽돌, 기인물 : 손, 사고유형 : 추락
④ 가해물 : 벽돌, 기인물 : 사람, 사고유형 : 비래

103. 다음 멀칭에 관한 설명으로 옳은 것은?

- ① 토양 수분의 증발을 촉진시킨다.
② 재료는 반드시 식물이어야 한다.
③ 토양 온도와는 관련이 없다.
④ 파쇄목 사용시 잡초의 발생이 억제된다.

104. 다음 중 잎을 가해하는 해충의 피해도 결정인자가 아닌 것은?

- ① 입목(立木)의 굵기 ② 입목(立木)의 밀도
③ 수령 ④ 수고

105. 질산나트륨과 혼용하면 오히려 불리한 비료는?

- ① 황산칼륨 ② 염화칼륨
③ 황산암모늄 ④ 과린산석회

106. 녹병균(rust)이나 감부기병(smud)균처럼 후막의 휴면포자인 겨울포자가 발아해서 전균사(promycelium)를 만드는 균이

소속된 분류군은?

- ① 자낭균류 ② 담자균류
③ 접합균류 ④ 불완전균류

107. 바람압력에 의하여 살포하는 방법으로 약제의 손실이 적고, 균일하게 살포하는 방법은?

- ① 분무법(spray) ② 연무법(fog machine)
③ 침지법(dipping) ④ 미스트법(mist spray)

108. 다음 중 빛의 조절이나 통제가 용이하며, 색채연출이 우수하지만, 고출력의 높은 전압에서만 작동이 가능하므로 정원, 광장 등에는 사용이 곤란한 옥외 조명은?

- ① 백열등 ② 형광등
③ 수은등 ④ 금속할로겐등

109. 미끄럼판에 사용되는 F.R.P 제품의 일반적 성질 중 물리적 성질이 아닌 것은?

- ① 내열성 ② 압축강도
③ 인장강도 ④ 내약품성

110. 다음 중 신경독 살충제는?

- ① 제충국제 ② 기계유유제
③ 유기수은제 ④ 클로로피크린

111. 조경수목 보호관리를 위한 엽면시비의 설명으로 옳지 않은 것은?

- ① 엽면살포는 비오는 날 하는 것이 좋다.
② 미량원소 부족시 엽면시비의 효과가 크게 나타난다.
③ 잎이 흡수하는 양분은 극히 소량이므로 주로 미량원소의 빠른 효과를 위하여 엽면 살포한다.
④ 엽면시비는 많은 양의 비료성분을 충분히 공급하지 못하므로 다량원소의 시비에는 적합하지 않다.

112. 수목병과 매개충이 바르게 짝지어지지 않은 것은?

- ① 대추나무 빗자루병 - 담배장님노린재
② 오동나무 빗자루병 - 담배장님노린재
③ 쥐똥나무 빗자루병 - 마름무늬매미충
④ 느릅나무 시들음병 - 나무좀

113. 수목에서 질소(N) 결핍에 관한 설명으로 옳지 않은 것은?

- ① 조기 낙엽현상을 보인다.
② 복엽의 경우 정상적인 잎보다 수가 적다.
③ 상부에서 하부로 점차 고사한다.
④ 활엽수의 경우 성숙잎은 황록색으로 변한다.

114. 수용능력(carrying capacity)의 개념을 종래의 생태적 측면에서 이용자의 레크리에이션 질 및 만족도 등의 사회·심리적 측면으로까지 확대발전시키는데 기여한 사람은?

- ① Lucas ② J.V.K Wagar
③ LaPage ④ O' Riordan

115. 다음 중 외래잡초로만 구성되어 있는 것은?

- ① 서양민들레, 올방개, 방동사니
② 올챙이고랭이, 미국자리공, 생이가래
③ 개망초, 단풍잎돼지풀, 서양민들레

- ④ 단풍잎돼지풀, 미국가막사리, 중대가리풀

116. 레크리에이션 이용의 특성과 강도를 조절하는 관리기법에 대한 설명 중 옳지 않은 것은?

- ① 이용자를 유도하는 방법은 부지관리기법이 아니다.
 ② 간접적 이용제한은 이용행태를 조절하되 개인의 선택권을 존중하는 방법이다.
 ③ 부지관리기법은 부지설계, 조성 및 조경적 측면에 중점을 두는 방법이다.
 ④ 직접적 이용제한 관리기법은 정책 강화, 구역별 이용, 이용강도 및 활동의 제한 등이 있다.

117. 유효질소 24kg 이 필요하여 요소(N : 50%, 흡수율 : 80%)로 충당하려 한다. 이 때 요소의 필요량은?

- ① 30kg ② 40kg
 ③ 60kg ④ 80kg

118. 다음 토양수분 중 토양입자에 가장 강하게 흡착 되어 있는 것은?

- ① 결합수 ② 흡습수
 ③ 모세관수 ④ 중력수

119. 매개충에 의하여 감염원으로 가지치기나 전정으로 방제효과를 얻기가 가장 어려운 수목병은?

- ① 붉나무 빗자루병 ② 소나무 잎떨림병
 ③ 삼나무 붉은마름병 ④ 낙엽송 잎떨림병

120. 탄저병 예방약제인 Mancozeb는?

- ① 구리 화합물계 농약 ② 유기 유황계 농약
 ③ 무기 유황계 농약 ④ 유기 수은제 농약

전자문제집 CBT PC 버전 : www.comcbt.com

전자문제집 CBT 모바일 버전 : m.comcbt.com

기출문제 및 해설집 다운로드 : www.comcbt.com/xe

전자문제집 CBT란?

종이 문제집이 아닌 인터넷으로 문제를 풀고 자동으로 채점하며 모의고사, 오답 노트, 해설까지 제공하는 무료 기출문제 학습 프로그램으로 실제 시험에서 사용하는 OMR 형식의 CBT를 제공합니다.

PC 버전 및 모바일 버전 완벽 연동
 교사용/학생용 관리기능도 제공합니다.

오답 및 오탈자가 수정된 최신 자료와 해설은 전자문제집 CBT에서 확인하세요.

1	2	3	4	5	6	7	8	9	10
①	④	①	①	②	①	②	②	②	①
11	12	13	14	15	16	17	18	19	20
③	④	②	③	③	①	④	④	③	③
21	22	23	24	25	26	27	28	29	30
④	①	③	③	③	④	③	④	②	④
31	32	33	34	35	36	37	38	39	40
④	①	②	①	②	④	①	②	①	④
41	42	43	44	45	46	47	48	49	50
④	②	①	④	④	②	③	②	③	③
51	52	53	54	55	56	57	58	59	60
③	①	③	④	①	④	③	④	①	②
61	62	63	64	65	66	67	68	69	70
④	②	③	④	①	②	③	④	②	④
71	72	73	74	75	76	77	78	79	80
①	①	③	①	②	①	④	①	③	④
81	82	83	84	85	86	87	88	89	90
③	③	①	②	④	④	④	④	②	③
91	92	93	94	95	96	97	98	99	100
③	①	②	①	②	①	④	④	②	④
101	102	103	104	105	106	107	108	109	110
②	①	④	④	④	②	④	④	④	①
111	112	113	114	115	116	117	118	119	120
①	①	③	②	③	①	③	①	①	②