

1과목 : 초음파탐상시험법

1. 음향임피던스에 대한 설명 중 틀린 것은?

- ① 음파의 진행을 방해한다.
- ② 재질에 따라 값이 다르다.
- ③ 속도와 부피의 곱으로 구한다.
- ④ 임피던스 차가 클수록 계면에서 더 많이 반사한다.

2. 초음파탐상시험시 시험체의 거리를 신속히 측정하기 위해 탐상기의 스크린상에 눈금으로 나눈 것을 무엇이라 하는가?

- ① 감쇠
- ② 주사
- ③ 공진
- ④ 운동

3. 초음파탐상시험시 시험체의 거리를 신속히 측정하기 위해 탐상기의 스크린상에 눈금으로 나눈 것을 무엇이라 하는가?

- ① 송신펄스
- ② 시간축조정기
- ③ 마커(Marker)
- ④ 리젝션(Rejection)

4. 금속재료에 대한 초음파탐상시험시 그 재료 내부의 결정 입자가 큰 경우 시험에 미치는 영향으로 틀린 것은?

- ① 잡음 신호가 많이 발생한다.
- ② 초음파의 침투력이 감소한다.
- ③ 저면 반사파의 크기가 감소한다.
- ④ 초음파의 산란이 적어 탐상이 유리하다.

5. 초음파탐상 장비의 게인을 12dB 올렸다면 시험장치의 증폭 인자는 약 얼마만큼 변하는가?

- ① 증폭비가 2:1 로 증가한다.
- ② 증폭비가 4:1 로 증가한다.
- ③ 증폭비가 6:1 로 증가한다.
- ④ 증폭비가 12:1로 증가한다.

6. 초음파탐상시험법에 대한 설명이 잘못된 것은?

- ① 주강품 검사에는 고주파수를 사용하는 것이 좋다.
- ② 용접부 탐상에는 경사각탐촉자를 사용하는 것이 좋다.
- ③ 두께가 두꺼운 시험체는 저주파수를 사용하는 것이 좋다.
- ④ 접촉매질은 시험체의 특성에 따라 적당한 것을 사용한다.

7. 초음파탐상시험에 대한 분류로 잘못 설명된 것은?

- ① 탐촉자의 형태에 따라 펄스반사법, 투과법, 공진법 등으로 분류한다.
- ② 탐상도형의 표시 방식에 따라 A,B,C 스코프 등으로 분류한다.
- ③ 초음파진동방식에 따라 수직, 경사각, 표면파, 판파 탐상법 등으로 분류한다.
- ④ 접촉방법에 따라 직접 접촉법과 수침법 등으로 분류한다.

8. 두 매질의 접촉면에 동일 파의 입사각과 반사각의 크기를 비교하였을 때 다음 중 옳은 설명은?

- ① 반사각과 입사각은 동일하다.
- ② 반사각은 입사각의 $\sqrt{2}$ 배 정도이다.
- ③ 반사각은 항상 입사각의 2배 정도이다.
- ④ 반사각은 항상 입사각의 약 1/2정도 이다.

9. 초음파가 한 재질에서 다른 재질로 진행할 때 탄성도 및 밀도 등이 달라 그 진행 방향이 변하는 것을 무엇이라 하는가?

- ① 산란(scattering)
- ② 반사(reflection)
- ③ 굴절(refraction)
- ④ 감쇠(attenuation)

10. 동일 음속의 경우 다음 중 가장 짧은 파장의 주파수는?

- ① 1MHz
- ② 2MHz
- ③ 3MHz
- ④ 5MHz

11. 탐촉자의 감도는 탐촉자의 어떤 능력을 말하는가?

- ① 작은 결함을 탐상할 수 있는 능력
- ② 많은 종류의 결함을 탐상할 수 있는 능력
- ③ 탐상 시편의 표면 근처의 결함을 탐상할 수 있는 능력
- ④ 서로 밀접해 있는 두 개의 결함을 탐상 할수 있는 능력

12. 다음 중 방사선투과시험과 초음파탐상시험을 비교하여 초음파탐상시험이 월등히 우수한 경우는?

- ① 결함의 종류 판별
- ② blow hole검출
- ③ 용접부의 결함의 검출
- ④ lamination 검출

13. 와전류탐상시험의 특징에 대한 설명으로 옳은 것은?

- ① 주로 표면 및 표면직하의 결함을 검출하는 시험법이다.
- ② 가선, 고온에서의 시험 등에는 부적합하다.
- ③ 접촉법을 이용하므로 고속 자동화된 검사가 어렵다.
- ④ 수 Hz에서 수백 Hz 의 교류를 주로 이용하므로 잡음인자의 영향이 적다.

14. 자분탐상시험의 장점이 아닌 것은?

- ① 시험체의 크기 및 형상 등에 크게 구애를 받지 않는다.
- ② 얇은 도장 등 비자성 물질이 도포되어도 작업이 가능하다.
- ③ 결함의 모양이 표면에 직접 육안으로 관찰 할 수 있다.
- ④ 오스테나이트계 스테인리스강의 표면균열 검사에 가장 적합하다.

15. 시험체 내부 결함이나 구조의 이상 유무를 판별하는데 이용되는 방사선의 특성은?

- ① 회절특성
- ② 분광특성
- ③ 진동특성
- ④ 투과특성

16. 형광침투액과 비교할 때 염색침투액의 장점으로 옳은 것은?

- ① 침투력이 뛰어나다.
- ② 미세 균열의 검출에 우수하다.
- ③ 자연광에서 검사가 용이하고 장비의 사용이 간편하다.
- ④ 형광침투액은 독성인 반면 염색침투액은 독성이 없다.

17. 중성자투과시험에 대한 설명으로 옳은 것은?

- ① 중성자는 중금속에 흡수가 크다.
- ② 중성자는 X선과 같이 직접적인 사진작용을 일으킨다.
- ③ 중성자는 원자번호가 낮아 가벼운 물질일수록 흡수가 적다.
- ④ 두꺼운 금속재 용기나 구조물의 내부에 있는 가벼운 수소화합물 등을 검출 할 수 있다.

18. 와전류탐상시험의 기본 원리로 옳은 것은?

- ① 누설흐름의 원리 ② 전자유도의 원리
③ 인장감도의 원리 ④ 잔류자계의 원리

19. 음향방출시험에 대한 설명으로 옳은 것은?

- ① 검출파형은 주로 돌발형과 연속형으로 나눈다.
② 배관시스템의 실시간 모니터링에는 적용할 수 없다.
③ 초음파탐상검사보다 높은 주파수를 사용하는 것이 일반적이다.
④ 탐촉자가 능동적으로 초음파를 송신하여 결함에서 반사된 수신파를 계측한다.

20. 다음 중 비금속 물질의 표면 불연속을 비파괴검사 할 때 가장 적합한 시험법은?

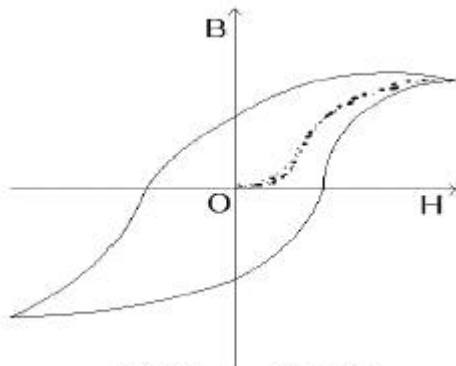
- ① 자분탐상시험법 ② 초음파탐상시험법
③ 침투탐상시험법 ④ 중성자투과시험법

2과목 : 초음파탐상관련규격

21. 다음 중 반드시 시험 대상물의 앞면과 뒷면 모두 접근 가능해야 적용할 수 있는 비파괴검사법은?

- ① 방사선투과시험 ② 초음파탐상시험
③ 자분탐상시험 ④ 침투탐상시험

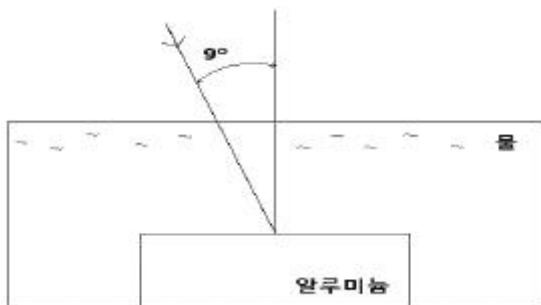
22. 그림과 같이 자기이력곡선의 폭이 넓은 루프(loop)일때의 설명으로 옳은 것은?



(넓은 loop 이다.)

- ① 투자율이 낮다. ② 보자성이 낮다.
③ 자기저항이 낮다. ④ 잔류자기가 낮다.

23. 그림과 같이 물을 통하여 알루미늄에 초음파를 9°의 입사각으로 입사시킬 때 알루미늄에서의 굴절각은 약 몇 도 인가? (단, 물의 종파속도는 1500m/s, 알루미늄의 종파속도는 6300m/s 이다.)



- ① 10° ② 20°

③ 30°

④ 40°

24. 침투탐상시험시 침투액 적용 후 과잉 침투액 제거에 대한 설명으로 옳은 것은?

- ① 증기 세척기를 사용하여 과잉 침투액을 제거한다.
② 용제제거성 침투액을 쓰는 경우에만 과잉 침투액을 제거한다.
③ 수세성 침투액을 사용한 경우 침투시간 경과 후 과잉 침투액을 제거한다.
④ 후유화성 침투액을 사용한 경우 유화제를 적용하기 전에 과잉 침투액을 제거한다.

25. 고체가 소성 변형하면서 발생하는 탄성파를 검출하여 결함의 발생, 성장 등 재료 내부의 동적 거동을 평가하는 비파괴검사법은?

- ① 누설검사 ② 음향방출시험
③ 초음파탐상시험 ④ 와전류탐상시험

26. 초음파탐상 시험용 표준시험편(KS B 0831)에서 탐상용 STB-G형 시험편의 합격 여부 판정에서 시험편 반사원의 에코높이 측정값이 검정용 표준시험에서 기준으로 정한 기준값 범위로 틀린 것은?

- ① 2MHz에서 $\pm 1\text{dB}$ 범위 내
② 2.5MHz에서 $\pm 1.5\text{dB}$ 범위 내
③ 5MHz에서 $\pm 1\text{dB}$ 범위 내
④ 10MHz에서 $\pm 2\text{dB}$ 범위 내

27. 강용접부의 초음파탐상 시험방법(KS B 0896)에서 경사각탐촉자의 성능점검 항목이 아닌 것은?

- ① A1감도 ② 원거리 분해능
③ 근거리 분해능 ④ 빔 중심축으로 치우침

28. 강용접부의 초음파탐상 시험방법(KS B 0896)에서 모재의 판두께가 25mm 인 평판이음 용접부를 실측 굴절각 71° 탐촉자로 경사각탐상하고자 한다. 직사법을 이용할 경우가장 적합한 측정 범위는?

- ① 50mm ② 75mm
③ 100mm ④ 150mm

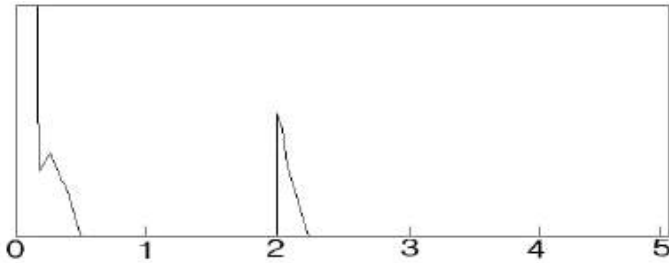
29. 강용접부의 초음파탐상 시험방법(KS B 0896)에 따른 음향이방성의 측정에 사용되는 시험편은?

- ① STB-A1 시험편
② STB-A2 시험편
③ STB-A8 시험편
④ 시험체와 동일 강판의 평판 모양 시험편

30. 강관의 초음파탐상 검사 방법 (KS D 02501)에 따른 탐상형식에 해당되지 않은 것은?

- ① 수침법 ② 겹(gep)법
③ 커플법 ④ 직접 접촉법

31. 강 용접부의 초음파탐상 시험방법(KS B 0896)에서 모재 판두께가 20mm인 평판 이음 강용접부를 5M10x10A70 탐촉자를 사용하여 탐상하였다. 그림과 같이 표시기의 눈금 2지점에서 불연속부로부터의 최대 에코가 나타났다면 탐상면에서 이 불연속부의 깊이는 약 얼마인가? (단, 실측 굴절각은 68°, 측정범위는 125mm 이다.)



- ① 6.8mm ② 7.5mm
③ 17.1mm ④ 18.7mm

32. 초음파탐상 시험용 표준시험편(KS B 0831)에서 STB-G형 표준시험편의 종류 중 평저공의 직경이 가장 큰 것은?

- ① STB-G V5 ② STB-G V8
③ STB-G V15-2.8 ④ STB-G V15-5.6

33. 강 용접부의 초음파탐상 시험방법(KS B 0896)에 따라 원둘레용 용접부를 탐상할 경우의 탐상방법에 대한 설명으로 옳은 것은?

- ① 클래드강판의 경우는 탐상면을 클래드강 쪽으로 한다.
② 판두께가 100mm이하인 경우는 탐상면이 바깥면(볼록 쪽)이다.
③ 판두께가 10mm이하인 경우는 탐상면이 내·외면(요철면)이다.
④ 판두께가 100mm를 넘는 경우는 탐상면이 바깥면(볼록 쪽)이다.

34. 강 용접부의 초음파탐상 시험방법(KS B 0896)에서 탠덤탐상의 적용 판두께 범위로 옳은 것은?

- ① 10mm이상 ② 12mm이상
③ 15mm이상 ④ 20mm이상

35. 강 용접부의 초음파탐상 시험 방법(KS B 0896)에서 탐상한 후의 기록 내용이 아닌 것은?

- ① 기후 조건 및 용접 모양
② 시험 기술자의 서명 및 자격
③ 탐상 부분의 상태 및 손질 방법
④ 사용한 탐촉자, 성능 및 점검일자

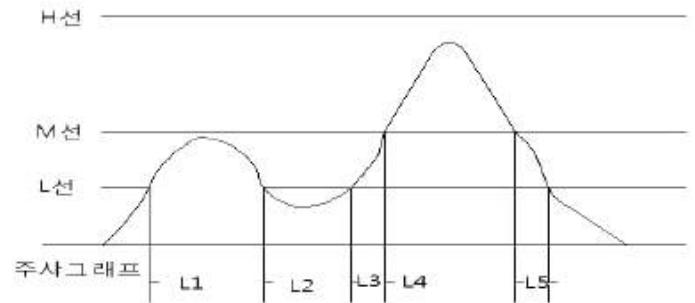
36. 초음파탐상 시험용 표준시험편(KS B 0831)에서 G형 STB 시험편의 검정조건 및 방법 중 검정용 표준시험편과 검정되는 시험편의 측정 횟수에 대한 규정으로 옳은 것은?

- ① 각 1회 실시
② 각 2회 실시
③ 검정되는 시험편만 1회 실시
④ 검정되는 시험편만 2회 실시

37. 강 용접부의 초음파탐상 시험방법(KS B 0896)에서 DAC 회로의 기점조정에 사용하는 시험편은?

- ① STB-A2 ② STB-A1
③ RB-E ④ RB-TR47

38. 강 용접부의 초음파탐상 시험방법(KS B 0896)에 의한 경사각탐상에서 흠의 길이 방향으로 주사한 결과 그림과 같이 나타났다면 M검출 레벨의 경우 흠의 지시길이는 어느 것인가?



- ① L4 ② L1, L4
③ L3, L4, L5 ④ L1, L2, L3, L4, L5

39. 초음파탐상 시험용 표준시험편(KS B 0831)에서 STB-A2 시험편의 감도 등 조정목적으로 한 표준구멍은 몇 개 인가?

- ① 4 ② 6
③ 7 ④ 8

40. 금속재료의 펄스반사법에 따른 초음파탐상 시험방법 통칙(KS B 08170)에서 시험결의 평가 및 보고서 작성에 사용되는 탐상도형의 표시 기호를 틀리게 나타낸 것은?

- ① T : 송신펄스 ② F : 흠집에코
③ B : 바닥면에코 ④ W : 수신펄스

3과목 : 금속재료일반 및 용접일반

41. LAN의 토폴로지를 구성하는 방식으로 많은 호스트들이 한 방향의 전송 링크를 통해서 다른 호스트와 연결되어 전체적으로 하나의 닫혀진 원 모양을 하고 있는 방식으로 데이터는 한 호스트에서 다음 호스트로 한 비트씩 차례로 전송되는 방식을 무엇이라고 하는가?

- ① 스타형 ② 링형
③ 버스형 ④ 타워형

42. 다음 도메인 이름 중 기관 도메인에 속하지 않은 것은?

- ① ac ② com
③ net ④ kr

43. 다음 중 네트워크에 연결된 컴퓨터 시스템의 운영체제, 응용프로그램, 인터넷 서버 등의 취약점을 이용한 침입을 방지하는 기술은?

- ① 시스템 보안 ② 데이터 보안
③ 통신 규제 ④ 통신 검열

44. 다음 중 휴대용 컴퓨터에 주로 사용되는 운영체제는?

- ① unix ② linux
③ windows ④ windows CE

45. 사용자가 웹 서버의 하이퍼텍스트 문서를 볼 수 있게 해 주는 클라이언트 프로그램을 무엇이라 하는가?

- ① 웹 브라우저 ② 운영체제
③ 워드프로세서 ④ 오라클

46. 다음 중 6:4 황동으로 상온에서 $\alpha+\beta$ 조직을 갖는 재료는?

- ① 알드리 ② 알클래드
③ 문프메탈 ④ 플래티나이트

47. 다음 중 재결정 온도가 가장 낮은 금속은?

- ① Mo ② Ni
③ Cu ④ Sn

48. 재료를 실온까지 온도를 내려서 다른 형상으로 변형시켰다가 다시 온도를 상승시키면 어느 일정한 온도 이상에서 원래의 형상으로 변화하는 성질을 이용한 합금은?

- ① 클래드 합금 ② 형상 기억 합금
③ 제진 합금 ④ 비정질 합금

49. 금속이 탄성변형 후에 소성변형을 일으키지 않고 파괴 되는 성질은?

- ① 인성 ② 취성
③ 인발 ④ 연성

50. 금속의 결정구조에 대한 설명으로 옳은 것은?

- ① 모든 금속의 결정 구조는 체심입방격자이다.
② 금속은 대부분 결정이 하나인 단결정체이다.
③ 원자의 규칙적인 배열인 결정은 용해 중에 형성된다.
④ 금속은 고체 상태에서 규칙적인 결정구조를 가진다.

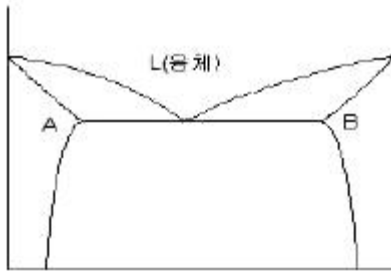
51. 두 가지 이상의 금속원소가 간단한 원자비로 결합되어 현저하게 다른 성질을 갖는 화합물을 무엇이라고 하는가?

- ① 금속간 화합물 ② 공정 화합물
③ 공석 화합물 ④ 포정 화합물

52. 물의 상태도에서 액상, 기상, 고상 3중점에서 자유도는?

- ① 0 ② 1
③ 2 ④ 3

53. [그림]이 나타내는 상태도의 명칭은?



- ① 포정형 상태도 ② 공정형 상태도
③ 전을 고용체형 상태도 ④ 금속간 화합물 상태도

54. 잔류 오스테나이트를 실온에서 장시간 방치하면 치수에 변화를 일으킨다. 이러한 것을 방지하기 위한 방법은?

- ① 뜨임 ② 담금질
③ 심랭처리 ④ 시효처리

55. 다음 중 시멘타이트에 대한 설명으로 틀린 것은?

- ① 준안정 상태의 탄화물이다.
② 768℃에서 자기변태를 한다.
③ Fe와 6.67%의 화합물이다.
④ 900℃에서 장시간 가열하면 분해되어 흑연화된다.

56. 전기전도도가 금속 중에서 가장 우수하고, 대기 중에서는 녹이 슬지 않지만 황화수소계에는 검게 변하고 염산, 황산 등에 부식되고 비중이 약 10.5인 금속은?

- ① Sn ② Fe
③ Al ④ Ag

57. 인바나 엘린바는 열팽창 계수가 작아 계측기기 등에 널리 사용되는데 어떤 금속 합금으로 분류하는가?

- ① Cu-Sn계 합금 ② Al-Mg계 합금
③ Cu-Zn계 합금 ④ Ni-Fe계 합금

58. 1차 입력이 22[KVA]인 용접기에 220[V]의 전원전압을 사용 하였을 때 , 안전 스위치에 사용하는 퓨즈의 용량은 몇 [A] 인가?

- ① 50 ② 100
③ 150 ④ 200

59. 가스 용접에서 용제를 사용해야 하는 주된 이유를 설명한 것으로 가장 적합한 것은?

- ① 금속의 산화물이 생겨서 용착금속의 용합이 불량해지므로
② 불꽃에 영향을 주어 모재의 성분에 민감한 반응을 주므로
③ 산화물을 혼입시켜서 결정이 비교적 미세한 용착금속을 얻을 수 있으므로
④ 용접봉의 성분이 그대로 용착금속의 성분으로 되지 않으므로

60. 온도조절이 균일하고 정밀 이음이 가능하며 비교적 적은 부품의 대량생산에 가장 적합한 납땜법은?

- ① 노내 납땜 ② 가스 납땜
③ 유도가열 납땜 ④ 담금납땜

전자문제집 CBT PC 버전 : www.comcbt.com

전자문제집 CBT 모바일 버전 : m.comcbt.com

기출문제 및 해설집 다운로드 : www.comcbt.com/x

전자문제집 CBT란?

종이 문제집이 아닌 인터넷으로 문제를 풀고 자동으로 채점하며 모의고사, 오답 노트, 해설까지 제공하는 무료 기출문제 학습 프로그램으로 실제 시험에서 사용하는 OMR 형식의 CBT를 제공합니다.

PC 버전 및 모바일 버전 완벽 연동
교사용/학생용 관리기능도 제공합니다.

오답 및 오탈자가 수정된 최신 자료와 해설은 전자문제집 CBT에서 확인하세요.

1	2	3	4	5	6	7	8	9	10
③	②	③	④	②	①	①	①	③	④
11	12	13	14	15	16	17	18	19	20
①	④	①	④	④	③	④	②	①	③
21	22	23	24	25	26	27	28	29	30
①	①	④	③	②	②	③	③	④	③
31	32	33	34	35	36	37	38	39	40
④	④	②	④	①	②	①	③	③	④
41	42	43	44	45	46	47	48	49	50
②	④	①	④	①	③	④	②	②	④
51	52	53	54	55	56	57	58	59	60
①	①	②	③	②	④	④	②	①	①