

1과목 : 기계재료 및 요소

1. 마텐자이트와 베이나이트의 혼합조직으로 Ms와 Mf점 사이의 열욕에 담금질하여 과냉 오스테나이트의 변태가 완료할 때까지 항온 유지한 후에 꺼내어 공랭하는 열처리는 무엇인가?

- ① 오스템퍼(Austemper) ② 마템퍼(martemper)
③ 마퀀칭(marquenching) ④ 패턴팅(patenting)

2. 내열용 알루미늄합금 중에 Y합금의 성분은?

- ① 구리, 납, 아연, 주석
② 구리, 니켈, 망간, 주석
③ 구리, 알루미늄, 납, 아연
④ 구리, 알루미늄, 니켈, 마그네슘

3. 항공기 재료로 가장 적합한 것은 무엇인가?

- ① 파인 세라믹 ② 복합 조직강
③ 고강도 저합금강 ④ 초두랄루민

4. 초경공구와 비교한 세라믹 공구의 장점 중 옳지 않은 것은?

- ① 고속 절삭 가공성이 우수하다. ② 고온 경도가 높다.
③ 내마멸성이 높다. ④ 충격강도가 높다.

5. 탄소강에 함유된 5대 원소는?

- ① 황, 망간, 탄소, 규소, 인
② 탄소, 규소, 인, 망간, 니켈
③ 규소, 탄소, 니켈, 크롬, 인
④ 인, 규소, 황, 망간, 텅스텐

6. 황이 함유된 탄소강의 적열취성을 감소시키기 위해 첨가하는 원소는?

- ① 망간 ② 규소
③ 구리 ④ 인

7. 내열성과 내마모성이 크고 온도가 600℃ 정도까지 열을 주어도 연화되지 않는 특징이 있으며, 대표적인 것으로 텅스텐(18%), 크롬(4%), 바나듐(1%)로 조성된 강은?

- ① 합금공구강 ② 다이소강
③ 고속도공구강 ④ 탄소공구강

8. 나사에 대한 설명으로 틀린 것은?

- ① 나사산의 모양에 따라 삼각, 사각, 둥근 것 등으로 분류한다.
② 체결용 나사는 기계 부품의 접합 또는 위치 조정에 사용된다.
③ 나사를 1회전하여 축 방향으로 이동한 거리를 "리드"라 한다.
④ 힘을 전달하거나 물체를 움직이게 할 목적으로 사용하는 나사는 주로 삼각나사이다.

9. 스프링의 용도에 대한 설명 중 틀린 것은?

- ① 힘의 측정에 사용된다.
② 마찰력 증가에 이용한다.
③ 일정한 압력을 가할 때 사용한다.
④ 에너지를 저축하여 동력원으로 작동시킨다.

10. 양쪽 끝 모두 수나사로 되어 있으며, 한쪽 끝에 상대방에 암나사를 만들어 미리 반영구적으로 나사 박음하고, 다른 쪽 끝에 너트를 끼워 죄도록 하는 볼트는 무엇인가?

- ① 스테이 볼트 ② 아이 볼트
③ 탭 볼트 ④ 스터드 볼트

11. 길이가 1m이고 지름이 30mm인 둥근 막대에 30000 N의 인장하중을 작용하면 얼마정도 늘어나는가?(단, 세로탄성계수는 $2.1 \times 10^5 \text{N/mm}^2$)

- ① 0.102mm ② 0.202mm
③ 0.302mm ④ 0.402mm

12. 하중의 작용 상태에 따른 분류에서 재료의 축선 방향으로 늘어나게 하려는 하중은?

- ① 굽힘하중 ② 전단하중
③ 인장하중 ④ 압축하중

13. 유니버설 조인트의 허용 축 각도는 몇 도(°) 이내인가?

- ① 10° ② 20°
③ 30° ④ 60°

14. 기어의 잇수가 40개이고, 피치원의 지름이 320mm일 때 모듈의 값은?

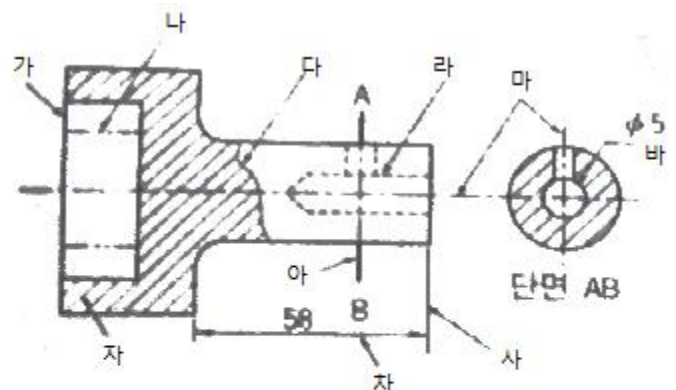
- ① 4 ② 6
③ 8 ④ 12

15. 깊은 홈 볼베어링의 호칭번호가 6208일 때 안지름은 얼마인가?

- ① 10mm ② 20mm
③ 30mm ④ 40mm

2과목 : 기계제도(절삭부분)

16. 아래 도면에서 가 ~ 마의 선의 명칭이 모두 올바르게 짝지어진 것은?



ㄱ, 가상선	ㄴ, 기준선	ㄷ, 파단선
ㄹ, 중심선	ㅁ, 숨은선	ㅂ, 수준면선
ㅅ, 지시선	ㅇ, 치수선	ㅈ, 치수보조선
ㅊ, 외형선	ㅋ, 해칭선	ㅌ, 절단선

- ① 가-ㅊ, 나-ㅈ, 다-ㄱ, 라-ㅇ, 마-ㄹ
② 가- ㅊ, 나-ㄱ, 다-ㄷ, 라-ㅇ, 마-ㄹ
③ 가-ㄹ, 나-ㅊ, 다-ㄷ, 라-ㅇ, 마-ㄹ

④ 가-ㄱ, 나-ㄴ, 다-ㄷ, 라-ㄹ, 마-ㅁ


17. 인벌류트 치형을 가진 표준 스퍼기어의 전체높이는 다음중 어떤 값이 되는가?

- ① "모듈" 의 크기와 동일하다.
- ② "2.25×모듈" 의 값이 된다.
- ③ " $\pi \times$ 모듈" 의 값이 된다.
- ④ "잇수×모듈" 의 값이 된다.

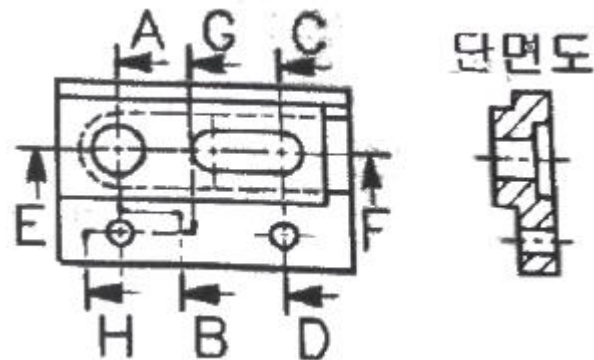
18. 다음 치수와 병용되는 기호 중 잘못된 것은?

- ① R5 ② C5
- ③ $\diamond 5$ ④ $\emptyset 5$

19. 표면의 결 도시방법에서 어떤 제작공정 도면에 이미 제거가 공 또는 다른 방법으로 얻어진 전(前) 가공의 상태를 그대로 남겨두는 것만을 지시하는 기호는?



20. 다음과 같은 단면도를 나타내고 있는 절단선 위치가 가장 올바른 것은?



- ① 단면 A-B ② 단면 C-D
- ③ 단면 E-F ④ 단면 G-H

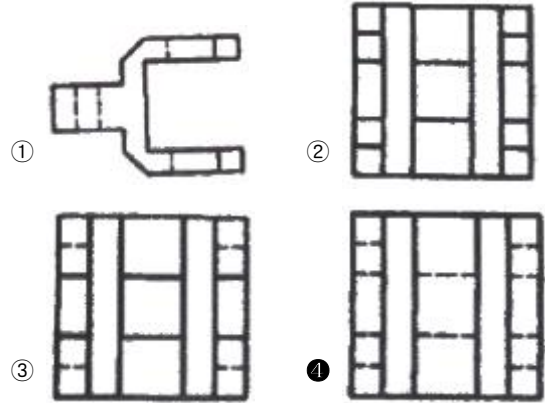
21. 기하 공차 기호 중 동축도를 나타내는 기호는?



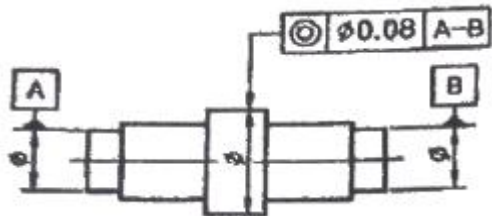
22. 나사를 "M12" 로만 표시하였을 경우 설명으로 틀린 것은?

- ① 2줄 나사인데 표시하지 않고 생략되었다.
- ② 오른나사인데 표시하지 않고 생략되었다.
- ③ 미터 나사이고 피치는 생략되었다.
- ④ 나사의 등급이 생략되었다.

23. 다음 그림에서 화살표 방향을 정면도로 하였을 때 좌측면도로 맞는 것은?



24. 다음 그림의 설명 중 맞는 것은?



- ① 지시선의 화살표로 나타난 축선은 데이텀의 축 직선 A-B를 축선으로 하는 지름 0.08mm인 원통 안에 있어야 한다.
- ② 지시선은 화살표로 나타내는 원통면의 반지름 방향의 흔들림은 데이텀 축직선 A-B에 관하여 1회전 시켰을 때, 데이텀 축직선에 수직한 임의의 측정면 위에서 0.08mm를 초과해서는 안된다.
- ③ 지시선의 화살표로 나타내는 면은 데이텀 축직선 A-B에 대하여 평행하고 또한 화살표 방향으로 0.08mm 만큼 떨어진 두개의 평면 사이에 있어야 한다.
- ④ 대상으로 하고 있는 면은 동일 평면 위에서 0.08mm 만큼 떨어진 2개의 동심원 사이에 있어야 한다.

25. 재료가 최대 크기일 경우에 형태가 한계 크기가 되는 고려된 형태의 상태, 즉 구멍의 경우 최소 지름과 축의 경우 최대 지름이 되는 상태를 무엇이라고 하는가?

- ① 최대 재료 조건(MMC) ② 한계 재료 조건(UMC)
- ③ 최소 재료 조건(LMC) ④ 일반 재료 조건(NMC)

26. 화학밀링(화학절삭)의 일반적인 특징으로 거리가 먼 것은 무엇인가?

- ① 공구비가 절감된다. ② 가공속도가 빠르다.
- ③ 가공 깊이에 제한을 받는다. ④ 가공 변질층이 적다.

27. 슛돌입자의 기호 중 경도가 가장 낮은 것은?

- ① A ② WA
- ③ C ④ GC

28. 공작기계를 가공능률에 따라 분류할 때 전용 공작 기계에 속하는 것은?

- ① 플레이너 ② 드릴링 머신
③ 트랜스퍼 머신 ④ 밀링 머신

29. 보통선반의 이송 단위로 가장 올바른 것은?

- ① 1분당 이송(mm/min) ② 1회전당 이송(mm/rev)
③ 1왕복당 이송(mm/stroke) ④ 1회전당 왕복(stroke/rev)

30. 밀링머신의 부속품이나 부속장치가 아닌 것은?

- ① 분할대 ② 맨드릴
③ 회전 테이블 ④ 슬로팅 장치

3과목 : 기계공작법

31. 기계가공에서 절삭유제의 사용목적이 아닌 것은?

- ① 공작물을 냉각시킨다.
② 절삭열에 의한 정밀도 저하를 방지한다.
③ 공작물의 부식을 증가시킨다.
④ 공구의 경도 저하를 방지한다.

32. 센터, 척 등을 사용하지 않고 가공물의 표면을 조정하는 조정숫돌과 지지대를 이용하여 가공물을 연삭하는 기계는 무엇인가?

- ① 외경 연삭기 ② 내면 연삭기
③ 공구 연삭기 ④ 센터리스 연삭기

33. 선반의 주요 구성 부분에 해당되지 않는 것은?

- ① 주축대 ② 베드
③ 왕복대 ④ 테이블

34. Al₂O₃ 분말 약 70%에 TiC 또는 TiN 분말을 30% 정도 혼합하여 수소 분위기 속에서 소결하여 제작한 절삭 공구의 재료는 무엇인가?

- ① 다이아몬드 ② 서멧
③ 고속도강 ④ 초경합금

35. 드릴에 의해 뚫린 구멍은 보통 진원도 및 내연의 다듬질 정도가 양호하지 못하므로, 구멍의 내면을 정밀하게 다듬질하는 가공은 무엇인가?

- ① 줄 가공 ② 탭 가공
③ 리머 가공 ④ 다이스 가공

36. 가공할 구멍이 드릴 작업할 수 있는 것에 비하여 훨씬 큰 포신 가공 등에 적합한 보링 머신은 무엇인가?

- ① 보통 보링머신 ② 정밀 보링머신
③ 지그 보링머신 ④ 코어 보링머신

37. 밀링가공에서 생산성을 향상시키기 위한 절삭속도의 선정방법으로 적합하지 않은 것은?

- ① 밀링커터의 수명을 길게 유지하기 위해서는 절삭속도를 약간 낮게 설정한다.
② 가공물의 경도, 강도, 인성 등의 기계적 성질을 고려한다.
③ 거친 가공에서는 절삭속도는 빠르게, 이송은 느리게, 절삭 깊이는 작게 한다.
④ 커터의 날이 빠르게 마모되거나 손상되는 현상이 발생하면, 절삭속도를 감소시킨다.

38. 구성인선의 방지 방법이 아닌 것은?

- ① 절삭 깊이를 크게 한다.
② 경사각을 크게 한다.
③ 윤활성이 있는 절삭유제를 사용한다.
④ 절삭 속도를 크게 한다.

39. 지름이 작은 가공물이나 각 봉재를 가공할 때 편리하며, 보통선반에서는 주축 테이블 구멍에 슬리브를 끼우고 여기에 척을 끼워 사용하는 것은?

- ① 단동 척 ② 연동 척
③ 콜릿 척 ④ 마그네틱 척

40. 마이크로미터에서 나사의 피치가 0.5mm, 덤블의 원주 눈금이 50등분 되어 있다면 최소 측정값은 얼마인가?

- ① 0.001mm ② 0.01mm
③ 0.05mm ④ 0.50mm

4과목 : CNC공작법 및 안전관리

41. 수평 밀링머신에서 플레인 커터 작업에서 상향절삭의 특징으로 틀린 것은?

- ① 칩이 날의 절삭을 방해하지 않는다.
② 하향절삭에 비하여 커터의 수명이 짧다.
③ 절삭된 칩이 가공된 면 위에 쌓인다.
④ 이송기구의 백래시가 제거된다.

42. 사인 바(sine bar)에 의한 각도 측정에서 필요하지 않은 것은?

- ① 블록 게이지 ② 다이얼 게이지
③ 버니어 캘리퍼스 ④ 정반

43. 다음 CNC선반 프로그램에서 바이트가 현재 외경을 20mm로 가공하고 있다면 이때의 주축회전수는 몇 rpm인가?

```
G50 X150.0 Z250.0 S1500 T0100 ;
G96 S150 M03 ;
```

- ① 250 ② 1500
③ 2387 ④ 2500

44. CNC 선반 작업시 공구를 0.5초 정지(Dwell)시키려고 할 때의 지령 방법으로 옳은 것은?

- ① G04 X5.0 ; ② G04 U5.0 ;
③ G04 P500 ; ④ G04 W500 ;

45. 다음 중 CNC선반에서 사용되는 각 워드에 대한 설명으로 틀린 것은?

- ① G00 - 위치 결정(급속 이송)
② G28 자동 원점 복귀
③ G42- 공구 인선 반지름 보정 취소
④ G98- 분당 이송속도 지정

46. CNC선반에서 지름을 50mm로 가공한 후 측정된 결과 지름이 49.98mm였다. 기존의 보정값이 0.004라면 수정해야 할 보정값은 얼마인가?

- ① 0.02 ② 0.04

③ 0.024

④ 0.048

47. 머시닝센터에서 "공구길이 (-)보정"에 해당하는 것은?

① G41

② G42

③ G43

④ G44

48. 다음 중 수치제어 가공에서 프로그래밍의 순서를 가장 올바르게 나열한 것은?

① 부품도면 → 가공순서 결정 → 프로세스시트 작성 → 프로그램 입력 및 확인

② 부품도면 → 프로세스시트 작성 → 프로그램 입력 → 가공순서 결정

③ 프로그램 입력 → 부품도면 → 가공순서 결정 → 프로세스시트 작성

④ 프로그램 입력 → 공정 설정 → 부품도면 → 프로세스시트 작성

49. CNC공작기계에서 공작물에 대한 공구의 위치를 그에 대응하는 수치정보로 지령하는 제어를 무엇이라 하는가?

① NC(Numerical Control)

② DNC(Direct Numerical Control)

③ FMS(Flexible Manufacturing System)

④ CIMS(Computer Intergrated Manufacturing System)

50. 2축 이상을 동시에 급속 이송시킬 경우 각 축이 독립적인 급속이송 속도로 위치결정되며, 지령된 위치까지 도달한 축부터 순서대로 정지하는 위치 결정 방법은 무엇인가?

① 보관형 위치결정

② 비보관형 위치결정

③ 직선형 위치결정

④ 비직선형 위치결정

51. 다음은 CNC선반의 1줄 나사가공 프로그램이다. 프로그램에 사용된 나사의 피치를 나타내는 것은?

```
G28 U0, W0, ;
G50 X150, Z150, T0700 ;
G97 S6000 M03 ;
G00 X36, Z3, T0707 M08 ;
G92 X31.2 Z-20, F2, ;
X30.7 ;
```

① 31.2

② 20.

③ 3.

④ 2.

52. 다음 중 프로그램의 정지, 절삭유의 ON/OFF 등 기계 각부 위에 대한 지령을 수행하는 기능은?

① 공구기능

② 보조기능

③ 준비기능

④ 주축기능

53. 다음과 같은 CNC선반 프로그램에 대한 설명으로 틀린 것은?

```
G74 R0.4 ;
G74 Z-60.0 Q15000 F0.2 ;
```

① F0.2는 이송속도이다.

② Q15000은 X방향의 이동량이다.

③ R0.4는 1스텝 가공 후 도피량이다.

④ G74는 펌 드릴링 사이클이다.

54. CNC공작기계의 운전시 일상 점검사항이 아닌 것은?

① 각종 계기의 상태확인

② 가공할 재료의 성분분석

③ 공기압이나 유압상태 확인

④ 공구의 파손이나 마모상태 확인

55. 다음 중 밀링 작업시 안전사항으로 잘못된 것은?

① 회전하는 커터에 손을 대지 않는다.

② 절삭 중에는 면장갑을 착용하지 않는다.

③ 칩을 제거할 때에는 장갑을 끼고 손으로 한다.

④ 가공을 할 때에는 보안경을 착용하여 눈을 보호한다.

56. 다음은 머시닝센터에서 가공되는 프로그램의 일부이다. 가공에 사용되는 공구가 2날, $\phi 30$ 엔드밀인 경우 이론적인 날당 이송 속도(mm/날)는 약 얼마인가?

```
G43 Z-5.0 H03 S700 M03 ;
G01 X10.0 Y20.0 F150 M08 ;
```

① 0.09

② 0.11

③ 0.43

④ 2.33

57. 다음 중 CNC프로그램으로 틀린 지령 블록은?

① N20 G00 X20.0 Y30.0 ;

② N30 G01 X80.0 F200 ;

③ N40 G03 G42 X100.0 Y50.0 R20.0 ;

④ N50 G01 Y150.0 ;

58. 프로그램 작성자가 프로그램을 쉽게 작성하기 위하여 공작물 임의의 점을 원점으로 정해 명령의 기준점이 되도록 한 좌표계는?

① 절대 좌표계

② 기계 좌표계

③ 상대 좌표계

④ 잔여 좌표계

59. CNC선반에서 원호보간시 원호의 내각이 180°를 초과하면 지령할 수 없는 기능은?

① R

② K

③ I

④ J

60. 다음 중 CNC선반 작업시 안전 및 유의사항으로 틀린 것은?

① 마이크로미터로 측정시 0점 조정을 확인한다.

② 원호 가공된 면의 측정은 반지름 게이지를 사용한다.

③ 절삭 칩의 제거는 브러시나 청소용 솔을 사용한다.

④ 원호 가공은 이송속도를 빠르게 하여 진동의 발생을 방지한다.

전자문제집 CBT PC 버전 : www.comcbt.com
 전자문제집 CBT 모바일 버전 : m.comcbt.com
 기출문제 및 해설집 다운로드 : www.comcbt.com/xs

전자문제집 CBT란?

종이 문제집이 아닌 인터넷으로 문제를 풀고 자동으로 채점하며 모의고사, 오답 노트, 해설까지 제공하는 무료 기출문제 학습 프로그램으로 실제 시험에서 사용하는 OMR 형식의 CBT를 제공합니다.

PC 버전 및 모바일 버전 완벽 연동
 교사용/학생용 관리기능도 제공합니다.

오답 및 오탈자가 수정된 최신 자료와 해설은 전자문제집 CBT
 에서 확인하세요.

1	2	3	4	5	6	7	8	9	10
②	④	④	④	①	①	③	④	②	④
11	12	13	14	15	16	17	18	19	20
②	③	③	③	④	②	②	③	③	②
21	22	23	24	25	26	27	28	29	30
④	①	④	①	①	②	①	③	②	②
31	32	33	34	35	36	37	38	39	40
③	④	④	②	③	④	③	①	③	②
41	42	43	44	45	46	47	48	49	50
③	③	②	③	③	③	④	①	①	④
51	52	53	54	55	56	57	58	59	60
④	②	②	②	③	②	③	①	①	④