

1과목 : 실험계획법

1. 인자 A, B는 모수인자이고, C인자가 변량인 반복없는 3원배치 실험을 하였다. $l=3$, $m=3$, $n=20$ 이고, $V_e=4.3$, $V_{A \times C}=106.7$,

$V_{B \times C}=97.3$, $V_C=57.4$ 이었다면, $\hat{\sigma}_C^2$ 의 추정값은 약 얼마인가?

- ① 4.8 ② 5.9
③ 6.4 ④ 28.7

2. 인자 A가 4수준이고, 인자 B가 2수준이면 교호작용 $A \times B$ 는 2수준계 직교배열표에 몇 개의 열에 배치되는가?

- ① 1 ② 2
③ 3 ④ 4

3. 3명의 작업자가 개별적으로 작업하는 제품에 대해, 인원별 각각 150개씩 샘플링하여 외관검사하였더니 표와 같은 데이터가 얻어졌다. 적합품이면 0, 부적합품이면 1을 갖도록 하는 계수치 1원배치를 적용하여 분산분석을 실시한다면, 총변동 (S_T)은 약 얼마인가?

작업자	A ₁	A ₂	A ₃	계
적합품수	135	122	143	400
부적합품수	15	28	7	50
계	150	150	150	450

- ① 18.71 ② 23.82
③ 44.4A4 ④ 45.00

4. 파라미터 설계가 갖는 주요 특징이 아닌 것은?

- ① 주로 직교배열표를 이용하여 배치한다.
② 요인배치법을 많이 사용하여 교호작용을 파악한다.
③ 제어인자는 내측배열에 배치하여 제어인자의 최적조건을 찾아 준다.
④ 잡음인자를 외측배열에 배치하여 잡음에 따른 산포의 크기를 파악할 수 있도록 한다.

5. 일반적으로 오차 e_i 는 정규분포 $N(0, \sigma_e^2)$ 으로부터 확률추출된 것이라고 가정한다. 이 가정이 의미하는 것이 아닌 것은?

- ① 정규성(Normality)
② 독립성(Independence)
③ 불편성(Unbiasedness)
④ 최소분산성(Minimum Variance)

6. $S_{(xx)}=2217$, $S_{(xy)}=330.7$, $S_{(yy)}=53.07$, $n=20$ 일 때 회귀직선 $y_i = \beta_0 + \beta_1 x_i + e_i$ 에서 기울기 (β_1)은 약 얼마인가?

- ① 0.0239 ② 0.149
③ 0.84 ④ 6.23

7. 표는 지분실험을 실시하여 얻은 분산분석표의 일부이다. 이때

$\hat{\sigma}_A^2$ 의 값은 약 얼마인가? (단, A, B, C인자는 변량인자이다.)

요인	SS	DF	MS
A	90	2	45
B(A)	60	6	10
C(AB)	36	18	2
e	27	27	1
T	213	53	

- ① 1.94 ② 2.50
③ 4.50 ④ 45

8. 표는 자사 제품 4개, 타사 제품 6개에 대해 인장강도 측정을 한 결과이다. 이 측정 결과에 대한 직교분해의 경우에 관한 설명으로 옳지 않은 것은?

(단위 : kgf/cm²)

회사	측정데이터	합계
자사	158, 161, 155, 170	644
타사	186, 172, 176, 180, 187, 179	1,080

- ① 선형식의 변동은 $S_L = \frac{L^2}{D}$ 으로 계산한다.

- ② 선형식은 1개로 $L_1 = \frac{T_1}{4} - \frac{T_2}{6} = -19$ 이다.

- ③ 단위수

$$D = \left(\frac{1}{4}\right)^2 \times 4 + \left(-\frac{1}{6}\right)^2 \times 6 = 0.41667 \text{이다.}$$

- ④ 선형식의 자유도는 (인자의 반복수) - 1로 인자의 자유도와 항상 같다.

9. 3³형 요인실험에서 9개의 블록을 만들 때 요인 AB^2C^2 와 AC 정의대비라고 하면 블록과 교락되는 정의대비는?

- ① AB^2 ② AC^2
③ BC ④ BC^2

10. 반응압력(A)를 4수준, 반응시간(B)를 3수준으로 반복 2회 실험을 하여 반복없는 2원배치법으로 분산분석한 결과 A_2B_2 가 최적조건으로 나타났다. 최적조건의 신뢰관계값을 구할 때 유효반복수(n_e) 얼마인가? (단, 교호작용은 무시한다.)

- ① 2 ② 3
③ 4 ④ 6

11. 인자 A의 수준수가 4이고, 인자 B의 수준수가 3인 반복이 없는 2원배치법 실험에서 오차 변동의 자유도(v_e)는 얼마인가?

- ① 6 ② 9
③ 12 ④ 20

12. 인자 A는 4수준, 3회 반복인 1원 배치에서 분산 분석한 결과 S_A 가 2.96, S_T 가 4.29일 때 인자 A의 순변동은 약 얼마인가?

- ① 2.295 ② 2.461
③ 3.625 ④ 3.791

13. 모수인자 A를 4수준 택하고 실험일(B)을 3일 택하여 반복이 없는 실험을 행한 결과, $S_A=14.3$, $S_B=6.0$, $S_e=2.4$ 이었다.

일간분산의 추정치($\hat{\sigma}_B^2$) 얼마인가?

- ① 0.65 ② 0.87
③ 0.90 ④ 1.20

14. 2^3 형 요인배치법 실험 결과 표와 같은 데이터를 얻었다. 인자 B의 변동(S_B)는 얼마인가?

	B_0		B_1	
	C_0	C_1	C_0	C_1
A_0	12	15	16	19
A_1	20	13	18	23

- ① 25 ② 28
③ 32 ④ 40

15. 관측치 y_1, y_2, \dots, y_n 에서 제곱합(SS:Sum of Squares)을 구하는 식으로 옳지 않은 것은? (단, G는 관측치의 합계이며, \bar{y} 는 평균치이다.)

- ① $SS = \sum_{i=1}^n (y_i - \bar{y})^2$
② $SS = \sum_{i=1}^n y_i^2 - (\bar{y})^2$
③ $SS = \sum_{i=1}^n y_i^2 - \frac{G^2}{n}$
④ $SS = \sum_{i=1}^n (y_i^2 - n(\bar{y})^2)$

16. 1차 단위가 1원배치인 단일분할법에서 A를 1차 단위, B를 2차 단위, 블록 반복(R) 2회의 실험을 실시한 결과 다음의 블록반복(R)과 A의 이원표를 얻었다. 블록 반복(R)간의 제곱합(S_R)은 약 얼마인가? (단, m은 B의 수준수이다.)

m=4	A_1	A_2	A_3	A_4	A_5
블록반복 I	-10	3	12	6	12
블록반복 II	7	7	-18	13	-14

- ① 19.6 ② 22.5
③ 28.9 ④ 42.0

17. $L_9(3^4)$ 형 직교배열표에 관한 설명으로 옳지 않은 것은?

- ① 군의 수는 3이다.
② 열의 수는 4이다.

- ③ 실험 횟수는 9이다.
④ 각 열의 자유도는 2이다.

18. 실험계획의 기본원리 중에서 실험의 환경이 될 수 있는 한 균일한 부분으로 나누어 신뢰도를 높이는 원리는?

- ① 반복의 원리 ② 블록화의 원리
③ 랜덤화의 원리 ④ 직교화의 원리

19. 3^3 형의 1/3 반복에서 $I=ABC^2$ 을 정의대비로 9회 실험을 하였다. 요인 A와 관련된 설명으로 옳지 않은 것은?

- ① A는 자유도 2를 갖는다.
② AB^2 는 요인 A의 별명이다.
③ BC^2 는 요인 A의 별명이다.
④ AB^2C 는 요인 A의 별명이다.

20. 반복 없는 2원배치법에서 A는 4수준, B는 3수준인 경우 2개의 결측치가 발생했다면 오차 항의 자유도는 얼마인가?

- ① 3 ② 4
③ 5 ④ 6

2과목 : 통계적품질관리

21. 다음 설명 중 옳지 않은 것은?

- ① 결정계수는 상관계수의 제곱과 같다.
② 공분산은 원 데이터의 측정 단위에 따라 달라진다.
③ 모상관계수의 구간추정은 Z 변환하여 정규분포를 사용할 수 있다.
④ 상관계수의 값이 0에 가까울수록 일정한 경향선으로부터의 산포는 작아진다.

22. 표본평균(\bar{x})의 표준오차를 원래 값의 1/16로 줄이기 위해서는 표본의 크기를 원래보다 몇 배 늘려야 하는가?

- ① 16배 ② 32배
③ 64배 ④ 256배

23. 컴퓨터 주변기기 제조업자는 인터넷 광고 사이트에 배너 광고를 하려고 계획 중이다. 이 사이트에 접속하는 사용자 1,000명을 임의 추출하여 사용자 특성을 조사한 결과가 표와 같을 때 다음 중 옳지 않은 것은?

	30세 미만	30세 이상
남	250	200
여	100	450

- ① 임의로 선택한 사용자가 30세 미만일 확률은 0.35이다.
② 임의로 선택한 사용자가 30세 이상의 남자일 확률은 0.2이다.
③ 임의로 선택한 사용자가 여자이거나 적어도 30세 이상일 확률은 0.45이다.
④ 임의로 선택한 사용자가 남자라는 조건하에서 30세 미만일 확률은 약 0.56이다.

24. 계수치 샘플링검사 절차 - 제2부 : 고립 로트 검사용 한계 품질(LQ) 지표형 샘플링 검사방식(KS Q ISO 2859-2 : 2010)에 관한 설명으로 옳지 않은 것은?

- ① 절차 A의 샘플링 방식은 로트 크기 및 한계품질(LQ)로부터 구해진다.
- ② 절차 B의 샘플링 방식은 로트 크기, 한계품질(LQ) 및 검사수준에서 구해진다.
- ③ 절차 A는 합격판정 개수가 0인 샘플링 방식을 포함하고 이때의 샘플크기는 초기하분포에 기초한다.
- ④ 절차 B는 합격판정 개수가 0인 샘플링 방식을 포함하며 AQL 지표형 샘플링 검사와는 독립적으로 구성되어 있다.

25. 관리도 해석시 경향(Trend) 패턴에 관한 설명으로 가장 거리가 먼 것은?

- ① 경향은 점이 점차 올라가거나 또는 점차 내려가는 상태를 말한다.
- ② 공정에 점진적으로 영향을 미치는 원인에 의해서 나타난다.
- ③ 겹 관리도에서의 경향은 부적합품률이 계속하여 증가 또는 감소할 때 나타난다.
- ④ 관리도에서의 경향은 분포의 중심이 계속하여 증가 또는 감소할 때 나타난다.

26. 임의로 고등학생 250명을 조사하여 영어와 수학에 대한 선호도를 물었더니, 150명은 영어, 100명은 수학을 선호하는 것으로 나타났다. 이 데이터로 적합도 검정을 하고자 할 때, 다음 중 옳지 않은 것은?

- ① 자유도는 1이다.
- ② 검정통계량 값은 5이다.
- ③ 영어를 선호하는 학생의 기대도수는 125이다.
- ④ 귀무가설은 “영어와 수학을 선호하는 기대도수는 같다.”이다.

27. 부선 5척으로 광석이 입하되고 있다. 부선 5척은 각각 200, 300, 500, 800, 400톤씩 싣고 있다. 각 부선으로부터 광석을 풀 때 100톤 간격으로 인크리멘트를 떼서 이것을 대량 시료로 혼합할 경우 샘플링의 정밀도는 약 얼마인가? (단, 이 광석은 이제까지의 실험으로부터 100 톤 내의 인크리멘트간의 산포(σ_w)가 0.8%인 것을 알고 있다.)

- ① 0.036% ② 0.03%
- ③ 0.05% ④ 0.08%

28. 로트크기가 2,000, 시료의 개수 200, 합격판정개수 1인 계수치 샘플링검사를 실시할 때, 부적합품률 1%인 로트의 합격가능성은 약 얼마인가? (단, 포아송 분포로 근사하여 계산한다.)

- ① 13.53% ② 38.90%
- ③ 40.60% ④ 54.00%

29. Me-R 관리도에서 $\sum Me=741$, $\bar{R}=27.4$, $k=25$, $n=5$ 일 때 LCL은 약 얼마인가? (단, $n=5$ 인 경 $A_1=1.342$, $A_2=0.577$, $A_3=1.427$, $A_4=0.691$ 이다.)

- ① 10.71 ② 13.83
- ③ 129.27 ④ 132.39

30. 정규분포를 따르는 모집단에서 10개의 제품을 뽑아서 두께를 측정한 결과 데이터와 같은 자료를 얻었다. 제품두께의 모분산(σ^2)에 대한 90% 신뢰구간은 약 얼마인가? (단, $\chi^2_{0.05}(9)=3.33$, $\chi^2_{0.95}(9)=16.92$, $t_{0.975}(9)=1.833$, $t_{0.975}(9)=2.262$ 이다.)

$$\sum_{i=1}^{10} x_i = 2,276 \quad \sum_{i=1}^{10} x_i^2 = 518,064$$

- ① $2.74 \leq \sigma^2 \leq 13.93$ ② $3.04 \leq \sigma^2 \leq 13.93$
- ③ $2.74 \leq \sigma^2 \leq 15.48$ ④ $3.04 \leq \sigma^2 \leq 15.48$

31. 일정한 길이 또는 일정 면적당 결점수를 관리하기 위해 사용하는 관리도를 결점수 관리도라고 하며, c 관리도와 u 관리도가 있다. 결점수 관리도는 결점수가 어떤 확률분포를 따른다고 가정하는가?

- ① 이항분포 ② 초기하분포
- ③ 균등분포 ④ 포아송분포

32. Me 관리도의 성능에 관한 설명으로 가장 적절한 것은?

- ① $\bar{\bar{x}}$ 보다 1종 과오가 크다.
- ② $\bar{\bar{x}}$ 관리도보다 검출력이 좋지 않다.
- ③ 극단적인 이상치에 민감하게 반응한다.
- ④ 시료의 크기는 계산 편의상 짝수개가 좋다.

33. 모표준편차를 모르고 있을 때 모평균의 양측 신뢰구간추정에 사용되는 식으로 옳은 것은?

- ① $\bar{x} \pm u_{1-\frac{\alpha}{2}} \frac{s^2}{\sqrt{n}}$ ② $\bar{x} \pm t_{1-\frac{\alpha}{2}}(\nu) \frac{s^2}{\sqrt{n}}$
- ③ $\bar{x} \pm u_{1-\frac{\alpha}{2}} \sqrt{\frac{s^2}{n}}$ ④ $\bar{x} \pm t_{1-\frac{\alpha}{2}}(\nu) \sqrt{\frac{s^2}{n}}$

34. 계수치 측차 샘플링 검사방식(KS Q ISO-8422 : 2009)에 따른 계수치 측차 샘플링 검사에서 $h_A=1.445$, $h_R=1.885$, $g=0.110$ 일 때 $n < n_t$ 조건에서의 합격판정선(A)를 바르게 표현한 것은?

- ① $A=1.445+0.110n_{cum}$ ② $A=1.885+0.110n_{cum}$
- ③ $A=-1.445+0.110n_{cum}$ ④ $A=-1.885+0.110n_{cum}$

35. 어떤 농기계를 생산하는 회사에서 최근 6개월 간의 부적합 발생건수가 44건으로 나타났다. 이 공장의 월평균 발생건수에 대한 95% 신뢰구간의 추정범위는 약 얼마인가?

- ① 2.0~12.6 ② 5.2~9.5
- ③ 5.8~9.8 ④ 9.2~14.8

36. 평균치가 1, 분산이 4인 정규분포를 하는 무한 모집단에서 9개의 임의 표본을 추출하여 산출되는 평균치를 $\bar{\bar{x}}$ 라고

할 때 $\bar{\bar{x}}$ 의 표준편차는 약 얼마인가?

- ① 0.44 ② 0.67
- ③ 4 ④ 36

37. 로트의 표준편차가 미지이고 p_0 , p_1 , α , β 가 주어진 계량 1회 샘플링 검사 방식에서 시료의 크기(n)를 결정하는 식으로 옳은 것은? (단, K는 합격판정계수이다.)

- ① $\left(\frac{K_{\alpha} + K_{\beta}}{K_{D_0} - K_{P_1}} \right)^2$
- ② $\left(1 + \frac{k}{2} \right) \left(\frac{K_{\alpha} + K_{\beta}}{K_{D_0} - K_{P_1}} \right)^2$
- ③ $\left(\frac{K_{\alpha} + K_{\beta}}{K_{D_0} - K_{P_1}} \right)^2 \times \sigma^2$
- ④ $\left(1 + \frac{k^2}{2} \right) \left(\frac{K_{\alpha} + K_{\beta}}{K_{D_0} - K_{P_1}} \right)^2$

38. 관리도에 관한 설명으로 가장 거리가 먼 것은?

- ① 관리도는 제조공정이 잘 관리된 상태에 있는가를 조사하기 위해서 사용된다.
- ② 관리도의 사용 목적에 따라 표준값이 없는 관리도와 표준값이 있는 관리도로 구분된다.
- ③ 우연원인에 의한 공정의 변동이 있으면 일반적으로 관리한계선 밖으로 특성치가 나타난다.
- ④ 관리도는 일반적으로 꺾은선그래프에 1개의 중심선과 2개의 관리 한계선을 추가한 것이다.

39. 모표준편차를 모르는 경우 2개의 모평균 차에 대한 검정을 할 때 검정통계량(t_0)을 바르게 표현한 것은? (단, 분산은 등분산이며, S_A , S_B 는 변동, s_A^2 , s_B^2 는 시료의 분산을 의미한다.)

- ① $\frac{\bar{x}_A - \bar{x}_B}{\sqrt{\frac{\sigma_A^2}{n_A} + \frac{\sigma_B^2}{n_B}}}$
- ② $\frac{\bar{x}_A - \bar{x}_B}{\sqrt{\frac{\sigma_A^2 + \sigma_B^2}{n_A + n_B}}}$
- ③ $\frac{\bar{x}_A - \bar{x}_B}{\sqrt{\frac{s_A^2 + s_B^2}{n_A + n_B}}}$
- ④ $\frac{\bar{x}_A - \bar{x}_B}{\sqrt{\left(\frac{1}{n_A} + \frac{1}{n_B} \right) \left(\frac{S_A + S_B}{n_A + n_B - 2} \right)}}$

40. 샘플링 검사에 관한 설명으로 옳지 않은 것은?

- ① 계량형 샘플링 검사의 경우가 검사비용 및 관리비가 일반적으로 높다.
- ② 계수치 샘플링 검사에서는 각 검사단위를 합격, 불합격으로 분류한다.

- ③ 계수치 샘플링 검사의 경우가 계량형 샘플링 검사의 경우보다 시료의 수가 적다.
- ④ 계량형 샘플링 검사에서는 랜덤샘플링 외에 특성치가 정규분포를 따라야 한다고 볼 수 있는 경우에 한한다.

3과목 : 생산시스템

41. JIT와 MRP에 대한 비교 설명으로 옳지 않은 것은?

- ① JIT는 납품업자를 동반자 관계로 보지만, MRP는 이해관계에 의한다.
- ② JIT는 재고를 부채로 인식하지만, MRP는 재고를 자산으로 인식한다.
- ③ JIT에서 작업자 관리는 지시, 명령에 의하지만, MRP는 의견일치 등의 합의제에 의해 관리한다.
- ④ JIT는 최소량의 로트 크기를 추구하지만, MRP는 생산준비비용과 재고유지비용의 균형점에서 로트의 크기를 결정한다.

42. 구매방법 중 기업이 현재 자재의 가격은 낮지만 앞으로는 가격이 상승할 것으로 예상되어 구매를 하는 방법으로 시장 가격변동을 이용하여 기업에 유리한 구매를 하려는 것은?

- ① 총동구매 ② 일괄구매
- ③ 분산구매 ④ 시장구매

43. MRP 시스템의 수립을 위한 요건으로 가장 관계가 깊은 것은?

- ① 자재명세표 ② 자재불출대장
- ③ 자재검사기록 ④ 불용품 관리대장

44. 각 작업의 작업시간과 납기가 다음과 같을 때 최단처리시간 방법으로 작업의 우선순위를 결정하려고 한다. 이때 평균완료시간과 평균납기지연시간은 각각 며칠인가? (단, 오늘은 9월 1일 아침이다.)

작업	작업시간(일)	납기(일)
A	3	9월 5일
B	7	9월 14일
C	2	9월 1일
D	6	9월 8일

- ① 8.5일, 1.2일 ② 9일, 2일
- ③ 8.5일, 1.7일 ④ 9일, 2.5일

45. 테일러 시스템의 과업관리의 원칙에 해당되지 않는 것은?

- ① 작업에 대한 표준
- ② 이동조립법의 개발
- ③ 공정한 1일 과업량의 결정
- ④ 과업미달성 시 작업자의 손실

46. 간트차트에서 “r”기호는 무엇을 나타내는가?

- ① 예정작업 ② 예정시작일
- ③ 완료작업 ④ 예정종료일

47. 대상물을 손에서 놓는 동작으로, 대상물이 손을 떠나기 시작할 때 시작하여 손 또는 손가락에서 완전히 떨어졌을 때 끝나는 것을 의미하는 서어블릭 문자기호는?

- ① H ② TL

③ TE

④ RL

48. 요소작업에 대한 평균관측시간치가 0.25DM, 속도 레이팅이 90%, 난이도 조정계수가 46%인 경우의 정미시간은 약 몇 DM인가?

① 0.12

② 0.27

③ 0.33

④ 0.47

49. 생산의 정지 혹은 유해한 성능 저하를 초래하는 상태를 발견하기 위한 설비의 정기적인 검사는 다음 중 어디에 속하는가?

① 사후보전

② 예방보전

③ 개량보전

④ 보전예방

50. 설비의 효율화를 저해하는 6대ロス(가공 및 조립)와 가장 거리가 먼 것은?

① 가공로스

② 고장정지로스

③ 속도저하로스

④ 준비교환·조정로스

51. 기능식 공정이 비교적 복잡하게 얽혀 있는 공정흐름을 가지고 있는 반면 기계가 유사 부품군에 필요한 모든 작업을 처리할 수 있도록 배치되어 있어 모든 부품들이 동일경로를 따르게 되어 있는 생산시스템은?

① JIT 생산시스템

② MRP 생산시스템

③ 모듈러(Modular) 생산시스템

④ Gt 셀룰러(Cellular) 생산시스템

52. 기업의 목적을 효율적으로 달성하기 위하여 자신의 능력으로 핵심부분에 집중하고 조직내부활동 또는 기능의 일부를 외부의 조직 또는 외부 기업체에 전문용역을 활용하여 처리하는 경영기법을 의미하는 용어는?

① Loading

② Debugging

③ Outsourcing

④ Cross Docking

53. 다음 중 정성적인 방법으로 기술적 예측에 활용되고 장기에 측이 가능하며, 정확성이 우수한 수요예측기법은?

① 델파이법

② 자료유추법

③ 시장조사법

④ 시계열분석법

54. 안전재고수준의 결정 요인과 가장 거리가 먼 것은?

① 품질의 위험

② 부적합품

③ 재고유지비용

④ 수요의 불확실성

55. 다음 중 작업자에게 최적의 경제적 기계 담당 대수를 결정하기 위하여 작성하는 것은?

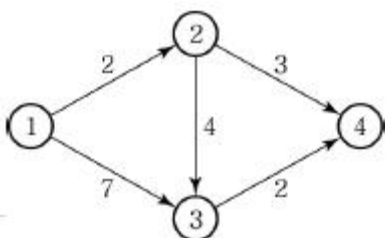
① 가동률 분석표

② 작업자공정분석표

③ 조(組)작업 분석표

④ 작업자-기계작업분석표

56. 다음과 같은 PERT 네트워크에서 주공정의 값은 얼마인가?



① 5일

② 8일

③ 9일

④ 14일

57. 정미시간을 산출하기 위하여 다중회귀분석 (Multiple Regression Analysis)법을 이용하는 방법은?

① PTS법

② 실적기록법

③ 표준자료법

④ 워크샘플링법

58. 작업방법의 개선을 위한 주요한 생산현장의 활동으로서 물건을 주체로 어떠한 공정을 통하여 가동되어 가는가를 공정의 순서에 따라 분석 조사하는 도표가 아닌 것은?

① 작업공정도

② 제품공정분석표

③ 단순공정분석표

④ 작업자공정분석표

59. 어떤 제품의 판매가격은 1,000원, 생산량이 20,000개이다. 이 제품의 고정비는 1,200,000원, 변동비는 4,000,000원일 때, 이 제품의 손익분기점은 얼마인가?

① 1,000,000원

② 1,500,000원

③ 2,000,000원

④ 2,500,000원

60. 다음 자료는 8월 첫째 주에서 셋째 주까지 A주유소에서 주유한 고객수이다. 3주 이동평균법을 적용하여 넷째 주 고객의 수를 예측하면 몇 명인가?

주	첫째 주	둘째 주	셋째 주
고객수(명)	1,527	1,359	1,425

① 1,406명

② 1,437명

③ 1,446명

④ 1,545명

4과목 : 신뢰성관리

61. 신뢰성 샘플링 검사에서 고장률을 척도로 하는 경우 λ_0 를 무엇이라 하는가?

① ARL

② AQL

③ LTFR

④ LTPD

62. α 승 법칙에 따르는 콘덴서에 대하여 정상전압 220[V]를 가속전압 260[V]에서 가속수명시험을 하였다. 이 콘덴서는 $\alpha=5$ 인 α 승 법칙에 따른다. 가속계수는 약 얼마인가?

① 1.182

② 2.31

③ 8

④ 40

63. 1,000시간에서의 신뢰도가 0.998 이상이 되려면 MTTF가 약 얼마 이상이어야 하는가? (단, 부품의 수명분포는 지수분포를 따른다.)

① 395,412시간

② 499,500시간

③ 510,000시간

④ 547,511시간

64. 고장나무 그림 작성시 모든 입력사상이 공존하는 경우에만 출력사상이 발생하는 것을 무엇이라 하는가?

① 기본사상

② AND 게이트

③ OR 게이트

④ 제약게이트

65. 다음 중 신뢰성 관리를 효과적으로 실시하기 위해서 필요한 사항이 아닌 것은?

① 판매조건을 명확히 규정한다.

- ② 사용조건을 명확하게 규정한다.
- ③ 고장의 정의를 명확히 규정한다.
- ④ 신뢰성 목표값을 확실하게 정량화한다.

66. 신뢰도를 배분할 때 고려되는 항목이 아닌 것은?

- ① 신뢰도가 높은 구성품에는 높게 부여한다.
- ② 표준 구성품을 사용하여 호환성을 갖게 한다.
- ③ 중요한 구성품에는 신뢰도를 높게 배정한다.
- ④ 안전성, 경제성을 고려하여 시스템 전체로 보아 균형을 취한다.

67. 와이블 확률지를 사용하여 μ 와 σ 를 추정하는 방법에 관한 설명으로 가장 거리가 먼 것은?

- ① 고장시간 데이터 겹개를 적은 것부터 크기순으로 나열한다.

② $\ln t_0$ 과 $\ln \ln \frac{1}{1-F(t)} = 1.0$ 과의 교점을 m 추정점이라 한다.

- ③ 타점의 직선과 $F(t)=63\%$ 와 만나는 점의 아래측 t 눈금을 특성수명 η 의 추정치로 한다.
- ④ m 추정점에서 타점의 직선과 평행선을 그을 때 그 평행선이 $\ln t=0.0$ 과 만나는 점을 우측으로 연장하여 μ/η 와 σ/η 의 값을 읽는다.

68. 용어-신인성 및 서비스 품질(KS A 3004 : 2002)에서 규정하고 있는 고장을 유발하는 물리적, 화학적 또는 그 밖의 과정을 뜻하는 것은?

- ① 고장(Failure)
- ② 고장 원인(Failure Cause)
- ③ 연관 고장(Relevant Failure)
- ④ 고장 메커니즘(Failure Mechanism)

69. 어떤 재료에 가해지는 부하의 평균이 20kg/mm^2 이고, 표준편차는 3kg/mm^2 다. 그리고 사용재료의 강도는 평균이 35kg/mm^2 이고, 표준편차가 4kg/mm^2 이다. 이 재료의 신뢰도는 약 얼마인가?

- ① 95.45%
- ② 97.73%
- ③ 99.73%
- ④ 99.87%

70. 고장이 발생한 후에 아이템을 작동가능 상태로 회복하기 위한 보전은?

- ① 예방보전
- ② 사후보전
- ③ 계획보전
- ④ 경사보전

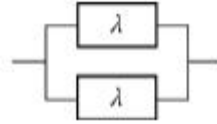
71. 고장이 지수분포를 하며 총작동시간이 T이고 고장개수가 r인 정수종단시험시 평균수명의 한쪽구간추정에서 신뢰하한값을 유의수준 α 로 구하는 수식으로 옳은 것은?

- ① $\frac{2T}{\chi^2_{1-\alpha}(2r)}$
- ② $\frac{2T}{\chi^2_{1-\frac{\alpha}{2}}(2r)}$

$$\textcircled{3} \frac{2T}{\chi^2_{1-\alpha}(2(r+1))}$$

$$\textcircled{4} \frac{2T}{\chi^2_{1-\frac{\alpha}{2}}(2(r+1))}$$

72. 고장률 λ 를 가지는 리던던시 시스템을 그림과 같이 병렬로 구성하였을 때 신뢰도 함수R(t)는?



$$\textcircled{1} \frac{1}{2} \exp(-\lambda t) - \exp\left(-\frac{\lambda t}{2}\right)$$

$$\textcircled{2} \exp(-\lambda t) - \exp\left(-\frac{\lambda t}{2}\right)$$

$$\textcircled{3} 2 \exp(-\lambda t) - \exp\left(-\frac{\lambda t}{2}\right)$$

$$\textcircled{4} 2 \exp(-\lambda t) - \exp(-2\lambda t)$$

73. 300개의 전구에 대하여 수명시험을 실시할 경우 4시간까지의 고장개수가 80개일 때 불신뢰도 F(t)는 얼마인가?

- ① 0.13334
- ② 0.13456
- ③ 0.21333
- ④ 0.26667

74. 형상모수 3, 척도모수 1,000시간, 위치모수 1,000시간인 와이블 분포에 따르는 기계를 1,500 시간 사용하였을 때의 신뢰도는 약 얼마인가?

- ① 0.368
- ② 0.779
- ③ 0.882
- ④ 0.939

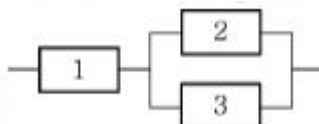
75. 욕조형(Bath-Tub) 고장을 곡선에서 디버깅(Debugging), 번인(Burn-in)등의 방법을 통해 나쁜 품질의 부품들을 걸러내야 할 필요성이 있는 시기로 가장 올바른 것은?

- ① 초기 고장기
- ② 우발 고장기
- ③ 중간 고장기
- ④ 마모 고장기

76. 어떤 시스템의 고장률(λ)과 수리율(μ)이 각각 0.025와 0.34일 때 가용도는 약 얼마인가?

- ① 0.0685
- ② 0.0735
- ③ 0.932
- ④ 0.954

77. 신뢰도가 각각 0.9인 부품 3개를 그림과 같이 연결하였을 때 이 시스템의 신뢰도는 얼마인가?



- ① 0.729
- ② 0.891

③ 0.990

④ 0.999

78. 2개의 부품이 모두 작동하여야만 장치가 작동되는 경우, 장치의 신뢰도를 0.97 이상이 되게 하려면 각 부품의 신뢰도는 최소한 약 얼마 이상이 되어야 하는가? (단, 사용된 2개 부품의 신뢰도는 동일하다.)

① 0.955

② 0.965

③ 0.975

④ 0.985

79. “제품이 주어진 사용 조건하에서 의도하는 기간 동안 정해진 기능을 성공적으로 수행할 확률”로 정의되는 개념은 무엇인가?

① 신뢰도

② 신뢰성

③ 보전도

④ 보전성

80. 평균순위를 이용하여 소시료 시험 결과 2번째 랭크에서의 누적고장확률밀도함수 $f(t_2)=0.02/\text{시간}$ 이었다. 이때 실험한 시료수가 4개이고, 3번째 고장난 시료의 고장시간이 20시간 경과 후 이었다면 2번째 시료가 고장난 시간은 얼마인가?

① 7.5시간

② 10시간

③ 12시간

④ 15시간

5과목 : 품질경영

81. 모토로라사(Motorola)에서 창안한 6시그마에 이르는 6단계의 순서가 바르게 배열된 것은?

- ① 자사가 창출하는 제품/서비스의 규명
- ② 자사의 제품/서비스에 대한 고객의 규명과 요구사항 결정
- ③ 자사가 제공해야 하는 제품/서비스 요구사항의 규명
- ④ 작업을 수행하기 위한 공정(과정)의 정의
- ⑤ 공정상의 실수를 예방하는 개선을 실행
- ⑥ 개선된 공정을 측정, 분석, 관리하며 지속적으로 개선

① ① - ② - ③ - ④ - ⑤ - ⑥

② ① - ③ - ② - ④ - ⑤ - ⑥

③ ② - ① - ③ - ④ - ⑤ - ⑥

④ ① - ④ - ② - ③ - ⑤ - ⑥

82. 계측 목적에 의한 분류 중 관리를 목적으로 측정 · 평가하는 계측활동으로 보기에 가장 거리가 먼 것은?

① 환경조건에 관한 계측

② 생산능률에 관한 계측

③ 시험 · 연구를 위한 계측

④ 자재 · 에너지에 관한 계측

83. 한국산업표준의 부문 기호 중 “항공우주”를 의미하는 것은?

① P

② R

③ V

④ W

84. 치우침을 고려한 공정능력지수(C_{PK})를 산출할 때, 치우침(Bias)의 의미에 대한 설명으로 옳은 것은?

① 공차와 자연공차와의 비율

② 공정의 평균과 규격한계와의 거리

③ 목표치와 규격의 중앙값과의 거리

④ 공정의 평균과 규격의 중앙값과의 거리

85. 현장의 개선활동에 있어서 소수 중점 원인을 찾기 위한 도구로서 사용되는 것은?

① 체크시트

② 특성요인도

③ 파레토도

④ 히스토그램

86. 공차가 똑같은 부품 16개를 조립하였을 때 공차가 10/300이었다면 각 부품의 공차는 얼마인가?

① 1/1,200

② 10/1,200

③ 1/600

④ 10/600

87. 품질전략을 수립할 때 계획단계(전략의 형성단계)에서 SWOT 분석을 많이 활용하고 있다. 여기서 “T”는 무엇을 의미하는가?

① 기회

② 위험

③ 강점

④ 약점

88. 품질보증활동은 신제품 개발에서부터 그 제품의 수명이 끝나는 전체 생산과정에서 전개되므로 각 부문의 참여 없이는 이들의 업무가 제대로 수행될 수 없다. 유형별 품질보증시스템에 관한 설명으로 옳지 않은 것은?

① 프로젝트별 품질보증시스템 - 프로젝트별로 프로젝트 매니저가 인사권과 예산권을 갖고 품질보증과 생산을 동시에 책임지는 시스템이다.

② 부문별 품질보증시스템 - 품질보증활동을 수행하는 부문에 따라, 즉 조사, 기획, 설계 등의 담당하는 부문이 품질보증을 행하는 시스템이다.

③ 기능별 품질보증시스템 - 품질평가, 품질감사, 검사, 신뢰성시험 등의 기능별로 나누어 품질보증을 행하는 시스템이다.

④ 업무별 품질보증시스템 - 품질보증을 전담하는 부서를 만들어 전담부서에서 품질보증에 관한 모든 사항을 수행하는 시스템이다.

89. 품질경영시스템 - 요구사항(KS Q ISO 9001 : 2009)에서 프로세스 접근방법은 제품실현과 품질경영시스템 수행을 포함하는데 이에 주 요구사항 항목이 아닌 것은?

① 경영책임

② 품질관리

③ 제품실현

④ 측정, 분석 및 개선

90. 다음 중 작업표준을 작성할 때 기술할 필요가 없는 항목은?

① 사고시의 처리

② 작업시의 주의사항

③ 재료 부분품의 선정기준

④ 작업의 관리항목과 그 방법

91. 문서관리의 근본적 목적으로 가장 적절한 것은?

① 정확한 정보가 기록으로 남도록 하기 위하여

② 문제가 발생하는 경우 근거로 사용하여 하기 때문에

③ 올바른 문서만이 필요한 장소에서 사용되어 지도록 하기 위하여

④ 외부기관의 심사에 대비하여 체계적으로 업무가 진행되고 있음을 보장하기 위하여

92. 품질비용과 적합품질과의 관계에 관한 설명으로 가장 적절

한 것은?

- ① 평가비용은 적합품질에 관계없이 일정하다.
- ② 실패비용은 적합품질에 관계없이 일정하다.
- ③ 적합품질이 향상될수록 예방비용은 감소한다.
- ④ 적합품질이 향상될수록 실패비용은 감소한다.

93. 고객이 요구하는 참된 품질을 언어표현에 의해 체계화하여 이것과 품질특성과의 관련을 짓고, 고객이 요구를 대응특성으로 변화시키며 품질설계를 실행해 나가는 표가 최근 매우 유용하게 사용되고 있는데 이와 같은 품질표를 사용하는 방법은?

- ① QFD ② 친화도
- ③ FMEA/FTA ④ 매트릭스 데이터 해석

94. 다음 중 고객만족을 결정하는 직접적인 구성요소로 보기에 가장 거리가 먼 것은?

- ① 환경보호활동
- ② 직원의 서비스
- ③ 상품의 하드웨어 가치
- ④ 상품의 소프트웨어 가치

95. 다음 중 제조물책임법에 따른 용어의 정의로 가장 거리가 먼 것은?

- ① 제조업자라 함은 제조물의 설계, 제조 또는 판매를 업으로 하는 자를 말한다.
- ② 제조물이라 함은 다른 동산이나 부동산의 일부를 구성하는 경우를 포함한 제조 또는 가공된 동산을 뜻한다.
- ③ 결함이라 함은 당해 제조물에 제조, 설계 또는 표시상의 결함이나 기타 통상적으로 기대 할 수 있는 안전성이 결여되어 있는 것을 뜻한다.
- ④ 표시상의 결함은 제조업자가 합리적인 설명, 지시, 경고 기타의 표시를 하였더라면 당해 제조물에 의하여 발생할 수 있는 피해나 위험을 줄이거나 피할 수 있었음에도 이를 하지 아니한 경우를 말한다.

96. ITT의 품질담당 부사장을 역임한 크로스비(P. B. Crosby)의 품질경영에 대한 4가지 기본사상과 가장 거리가 먼 내용은?

- ① 수행표준은 무결점이다.
- ② 다음 공정은 나의 고객이다.
- ③ 품질은 고객요구사항에의 일치로 정의한다.
- ④ 고객의 요구사항을 위해 공급자가 갖추어야 되는 품질 시스템은 처음부터 올바르게 일을 행하는 것이다.

97. 표준화의 원리에 관한 설명으로 옳지 않은 것은?

- ① 표준화란 단순화의 행위이다.
- ② 표준은 실시하지 않으면 가치가 없다.
- ③ 표준의 제정은 전체적인 합의에 따라야 한다.
- ④ 국가규격의 법적 강제의 필요성은 고려하지 않는다.

98. 파이겐바움(Feigenbaum)이 분류한 품질관리부서의 하위기능부문 3가지에 해당되지 않는 것은?

- ① 품질관리기술부문 ② 공정관리기술부문
- ③ 품질정보기술부문 ④ 원가관리기술부문

99. 6 시그마 품질을 불량률 3.4ppm과 연관시킬 때 목표치로부터 공정평균의 치우침을 어느 정도까지 허용한 것인가?

- ① $\pm 0.5\sigma$ ② $\pm 1.5\sigma$

③ $\pm 3\sigma$

④ $\pm 6\sigma$

100. 정부로부터 품질을 보증 받는 효과를 지니며, 소비자 입장에서 안심하고 제품을 살 수 있도록 하는 품질보증표시에 대한 국가별 표시가 옳지 않은 것은?

- ① 한국-KS ② 영국-BS
- ③ 미국-US ④ 일본-JIS

전자문제집 CBT PC 버전 : www.comcbt.com

전자문제집 CBT 모바일 버전 : m.comcbt.com

기출문제 및 해설집 다운로드 : www.comcbt.com/x

전자문제집 CBT란?

종이 문제집이 아닌 인터넷으로 문제를 풀고 자동으로 채점하며 모의고사, 오답 노트, 해설까지 제공하는 무료 기출문제 학습 프로그램으로 실제 시험에서 사용하는 OMR 형식의 CBT를 제공합니다.

PC 버전 및 모바일 버전 완벽 연동

교사용/학생용 관리기능도 제공합니다.

오답 및 오탈자가 수정된 최신 자료와 해설은 전자문제집 CBT에서 확인하세요.

1	2	3	4	5	6	7	8	9	10
②	③	③	②	④	②	①	④	④	③
11	12	13	14	15	16	17	18	19	20
①	②	①	③	②	①	①	②	②	②
21	22	23	24	25	26	27	28	29	30
④	④	③	④	④	②	②	③	①	①
31	32	33	34	35	36	37	38	39	40
④	②	④	③	②	②	④	③	④	③
41	42	43	44	45	46	47	48	49	50
③	④	①	②	②	②	④	③	②	①
51	52	53	54	55	56	57	58	59	60
④	③	①	②	④	③	③	④	②	②
61	62	63	64	65	66	67	68	69	70
①	②	②	②	①	②	②	④	④	②
71	72	73	74	75	76	77	78	79	80
①	④	④	③	①	③	②	④	①	②
81	82	83	84	85	86	87	88	89	90
①	③	④	④	③	②	②	④	②	③
91	92	93	94	95	96	97	98	99	100
③	④	①	①	①	②	④	④	②	③