

1과목 : 용접일반

1. 용접에 해당하는 용접법은?

- ① 초음파용접 ② 연납땜
③ 엽셋맞대기용접 ④ 일렉트로슬랙용접

2. 청색의 겉불꽃으로 짧고 무색의 불꽃심이기 때문에 육안으로 불꽃조절이 곤란하여 많이 쓰이지 않는 가스는?

- ① 아세틸렌 가스 ② 프로판 가스
③ 수소 가스 ④ 석탄 가스

3. 스테인레스 강이나 절단하기 힘든 합금강을 고속 절단할 수 있으며 1/16"의 공차로 절단 능력이 정확한 것은?

- ① 아크에어 가우징(arc air gouging)
② 플라즈마 제트절단(plasma jet cutting)
③ 금속 아크 절단(metal arc cutting)
④ TIG 절단(tungsten inert gas cutting)

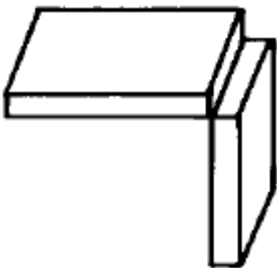
4. 가스용접에 쓰이는 수소가스에 관한 설명으로 틀린 것은?

- ① 부탄 가스라고도 한다.
② 수증절단의 연료 가스로도 사용된다.
③ 무색, 무미, 무취의 기체이다.
④ 공업적으로는 물의 전기분해에 의해서 제조한다.

5. 가스용접에서 가변압식 팁의 능력을 표시하는 것은?

- ① 표준불꽃으로 용접시 매시간당 아세틸렌가스의 소비량을 리터로 표시한 것
② 표준불꽃으로 용접시 매시간당 산소의 소비량을 리터로 표시한 것
③ 표준불꽃으로 용접시 매분당 아세틸렌가스의 소비량을 리터로 표시한 것
④ 표준불꽃으로 용접시 매분당 산소의 소비량을 리터로 표시한 것

6. 다음 그림은 어떤 용접의 이음인가?

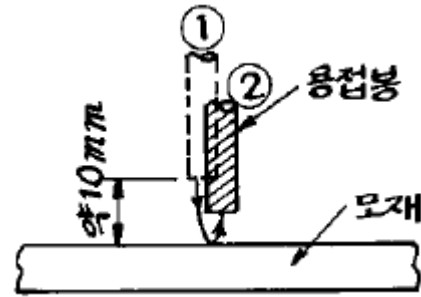


- ① 겹치기 이음 ② 맞대기 이음
③ 꺾음형 이음 ④ 모서리 이음

7. 가스용접에서 전진법과 비교한 후진법(back hand method)의 특징 설명에 해당되지 않는 것은?

- ① 두꺼운 판의 용접에 적합하다.
② 용접부의 기계적 성질이 우수하다.
③ 용접변형이 크다.
④ 소요흡의 각도가 작다.

8. 피복 아크 용접에서 그림과 같은 방법으로 아크를 발생시키는 것은?



- ① 굽는법 ② 찍는법
③ 접선법 ④ 원주법

9. 연납에 대한 특성 설명이 아닌 것은?

- ① 인장강도 및 경도가 낮고 용융점이 낮으므로 납땜이 쉽다.
② 주석 - 납계 합금이 가장 많이 사용된다.
③ 강도를 중요시하지 않는 구리, 돛쇠, 함석 등의 납땜에 사용된다.
④ 은납, 황동납 등이 이에 속하고 물리적 강도가 크게 요구될 때 사용된다.

10. 가스용접에서, 저압식 토치의 형식 중 불변압식(KS규격)의 종류에 해당되지 않는 것은?

- ① A1호 ② A2호
③ A3호 ④ A0호

11. 교류 아크 용접기 중 전류 조절을 전기적으로 하고 원격조정을 할 수 있는 것은?

- ① 가동 철심형 ② 가동 코일형
③ 탭 전환형 ④ 가포화 리액터형

12. 용접법 중 이음부를 가열하여 큰 소성변형을 주어 접합하는 방법은?

- ① 압접 ② 용접
③ 통접 ④ 납땜

13. 수동가스 절단시 팁끝과 강판 사이의 거리는 백심 끝에서 몇 mm 정도 유지시키는가?

- ① 0.1~0.5 ② 1.5~2.0
③ 3.0~3.5 ④ 5.0~7.0

14. 맞대기용접 홈 중에서 가장 얇은 박판에 사용하는 홈은?

- ① I형홈 ② V형홈
③ H형홈 ④ J형홈

15. 용접에서 아크가 길어질 때, 발생하는 현상이 아닌 것은?

- ① 아크가 불안정하게 된다. ② 스파터가 심해진다.
③ 산화 및 질화가 일어난다. ④ 발열량이 감소한다.

16. 용융금속의 표면을 덮어, 산화나 질화를 방지하는 피복배합제는?

- ① 슬랙 생성제 ② 아크 안정제
③ 고착제 ④ 탈산제

17. 미그(MIG)용접 제어장치에 해당되지 않는 것은?

- ① 아르곤가스 개폐제어장치
② 용접와이어의 기동, 정지 및 속도제어장치

- ③ 용접전압의 투입차단제어장치
④ 보호장치와 안전장치
18. 저온균열이 일어나기 쉬운 재료에 용접 전에 균열을 방지할 목적으로 온도를 올리는 것을 무엇이라고 하는가?
① 도열 ② 예열
③ 후열 ④ 유도가열
19. 아크에어 가우징의 특징에 대한 설명 중 틀린 것은?
① 가스가우징보다 작업의 능률이 높다.
② 모재에 나쁜 영향이 없다.
③ 비철금속의 절단도 가능하다.
④ 조작이 어렵고 복잡하다.
20. 내부용적 46.7리터의 산소 용기에 35℃에서 150kgf/cm²로 충전하였을 때, 용기 속의 산소량은 약 몇 리터인가?
① 5000 ② 6000
③ 7000 ④ 8000
21. 교류 피복아크용접기의 부속장치에 해당되지 않는 것은?
① 자동전격 방지기 ② 과부하장치
③ 원격제어장치 ④ 핫 스타트 장치
22. 무부하 전압이 비교적 높은 교류용접기에 용접 작업자를 전격의 위험으로부터 보호하기 위하여 사용되며, 작업을 하지 않을 때는 전압을 20~30V로 유지되고 용접봉을 작업물에 접촉시키면 릴레이(relay)작동에 의해 전압이 높아져 용접작업이 가능해지는 장치는?
① 아크부스터 ② 원격제어장치
③ 전격방지 ④ 용접봉 홀더
23. 다음 중 확산연소를 옳게 설명한 것은?
① 수소, 메탄, 프로판 등과 같은 가연성가스가 버너 등에서 공기 중으로 유출해서 연소하는 경우이다.
② 알콜, 에테르 등 인화성 액체의 연소에서 처럼 액체의 증발에 의해서 생긴 증기가 착화하여 화염을 발하는 경우이다.
③ 목재, 석탄, 종이 등의 고체 가연물 또는 지방유와 같이 고비점(高沸點)의 액체가연물이 연소하는 경우이다.
④ 화약처럼 그 물질 자체의 분자속에 산소를 함유하고 있어 연소시 공기중의 산소를 필요로 하지 않고 물질자체의 산소를 소비해서 연소하는 경우이다.
24. 가스용접에서 양호한 용접부를 얻기 위한 조건과 거리가 먼 것은?
① 모재표면의 균일 ② 모재의 과열
③ 용착금속의 용입상태 균일 ④ 용접부에 첨가된 금속의 성질 양호
25. 가연성 가스중 공기중에서 수소의 폭발 범위는 다음 중 어느 것인가?
① 5~55% ② 4~94%
③ 4~75% ④ 5~100%
26. 연소의 종류가 아닌 것은?
① 증발연소 ② 분해연소

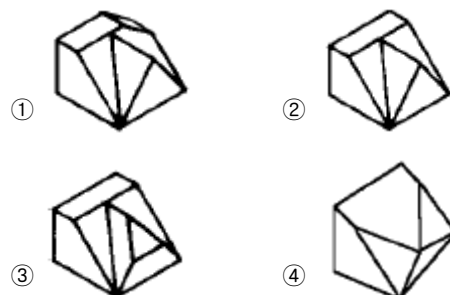
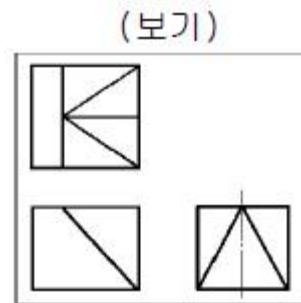
- ③ 표면연소 ④ 종합연소
27. 산소-아세틸렌의 불꽃 구성에서 완전연소가 될 때 다음 중 속불꽃의 온도는?
① 1500℃ ② 3200~3500℃
③ 3500~4000℃ ④ 5000℃
28. LPG의 연소 특성으로 가장 거리가 먼 설명은?
① 연소시 많은 공기가 필요하다.
② 연소시 발열량이 크다.
③ 연소 범위가 좁다.
④ 착화온도가 낮다.
29. 아세틸렌가스의 성질에 대한 설명으로 옳은 것은?
① 은(Ag)과 접촉해도 폭발성화합물이 생성되지 않는다.
② 200~300℃가 되면 자연 발화한다.
③ 순수한 아세틸렌은 무색, 무미이고 일종의 향기를 내는 기체이다.
④ 산소와 화합하여 생긴 안전한 가스이다.
30. 용해 아세틸렌의 용해량은 압력에 비례한다. 15℃ 10기압에서 아세톤 1리터에 대하여 몇 리터의 아세틸렌이 용해되는가?
① 250 ② 300
③ 350 ④ 400
31. 용접봉의 용적 이행형식이 아닌 것은?
① 단락형 ② 글로불러형
③ 스프레이형 ④ 가포화리액터형
32. 비드 표면이 곱고 슬래그의 박리성이 좋아 접촉용접을 할 수 있으며 아래 보기 및 수평 필릿 용접에 많이 사용되는 용접봉은?
① 저수소계 ② 일미나이트계
③ 철분산화철계 ④ 라임 티타니아계
33. TIG 용접으로 Al의 재질을 용접할 때 가장 적합한 전류는 어느 것인가?
① AC ② ACHF
③ DCRP(-) ④ DCSP(+)
34. 납땀법의 종류가 아닌 것은?
① 인두 납땀 ② 가스 납땀
③ 초경 납땀 ④ 노내 납땀
35. 페라이트계 스테인리스강의 용접에 대한 설명으로 옳바른 것은?
① 용접 후 후열 처리를 하지 않아도 관계없다.
② 급냉하여도 열영향부에 영향을 끼치지 않는다.
③ 용접부분이 각 비드마다 예열온도까지 냉각되도록 한다.
④ 되도록 굵은 용접봉을 사용하여 많은 전류로 빠르게 용접한다.
- 2과목 : 용접재료**
36. 탄소(C) 이외에 보통 주철에 포함된 주요성분이 아닌 것은?

- ① Mn ② Si
③ P ④ Al
37. 표면경화를 위하여 철강표면에 Zn을 확산 침투시키는 금속 침투법은?
① 실리코나이징(siliconizing)
② 칼로라이징(calorizing)
③ 크로마이징(chromizing)
④ 세라다이징(sheradizing)
38. 담금질한 강을 A₁변태점보다 낮은 온도에서 일정 온도로 가열하여 인성을 증가시킬 목적으로 시행하는 열처리는?
① 뜨임 ② 침탄
③ 풀림 ④ 불림
39. 탄소강에서 가장 많이 함유된 주성분 원소는?
① Fe+Mn ② Fe+Si
③ Fe+C ④ Fe+Cu
40. 구리에 납을 30~40% 함유한 합금으로 고속 항공기 및 자동차의 베어링 메탈로 쓰이는 것은?
① 포금 ② 아암즈 청동
③ 켈멧 ④ 델타 메탈
41. Ni-Cr계 합금이 아닌 것은?
① 크로멜(Chromel) ② 선플래티늄(Sunplatinum)
③ 인코넬(Inconel) ④ 엘린바(Elinvar)
42. Al - Si의 대표적인 합금으로 Si는 육각판상의 거친 결정이 되므로, 주조시 개량처리에 의해 조직을 미세화시키고 강도를 개선하여 실용화하는 합금은?
① 두랄루민 ② Y합금
③ 실루민 ④ 라우탈
43. 탄소강에서 탄소를 증가시킬수록 내식성은 어떻게 나타나는가?
① 내식성은 좋아진다.
② 내식성은 나빠진다.
③ 내식성은 탄소와 상관이 없다.
④ 구리가 첨가되면 내식성은 감소한다.
44. 주석(Sn)에 대한 설명 중 틀린 것은?
① 은백색의 연한 금속으로 용융점은 232℃정도이다.
② 독성이 없으므로 의약품, 식품등의 튜브로 사용된다.
③ 고온에서 강도, 경도, 연신율이 증가된다.
④ 상온에서 연성이 풍부하다.
45. 불변강의 종류가 아닌 것은?
① 인바(invar) ② 엘린바(elinvar)
③ 스텔라이트(stellite) ④ 플래티나이트(platinite)
46. 탄소강이 황(S)을 많이 함유하게 되면 고온에서 메짐(Shortness)이 나타나는 현상을 무엇이라 하는가?
① 적열메짐 ② 청열메짐
③ 저온메짐 ④ 충격메짐

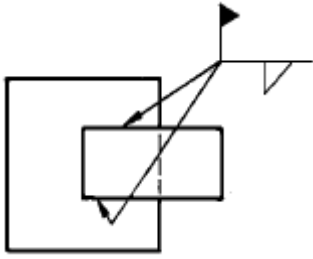
47. 내열용 알루미늄(Al) 합금중에서 와이(Y)합금이 가장 많이 사용되는 용도는?
① 펌프용 ② 내연기관용
③ 도금용 ④ 공구용
48. 구리(Cu)에 아연(Zn)이 35~45% 포함되어 있고, 고온가공이 용이한 6:4 황동은?
① 톰백(tombac) ② 갈딩 메탈(gilding metal)
③ 포금(gun metal) ④ 문프 메탈(muntz metal)
49. 주철의 성질에 대한 설명으로 틀린 것은?
① 비중은 규소와 탄소가 많을수록 작아진다.
② 흑연편이 클수록 자기 감응도가 나빠진다.
③ 투자율을 크게 하기 위해서는 화학 탄소를 적게 하여야 한다.
④ 규소와 니켈의 양이 증가함에 따라 고유 저항이 낮아진다.
50. 크롬계 스테인리스강에 니켈을 첨가하여 크롬계 스테인리스강보다 내산, 내식성이 우수한 오스테나이트 스테인리스강(stainless steel)의 표준 조성이 옳은 것은?
① 10% 크롬, 10% 니켈 ② 18% 크롬, 8% 니켈
③ 10% 크롬, 8% 니켈 ④ 8% 크롬, 18% 니켈

3과목 : 기계제도

51. 물체의 필요한 곳을 임의의 일부분에서 파단하여 부분적으로 내부의 모양을 표시한 단면은?
① 온단면 ② 부분 단면
③ 한쪽 단면 ④ 회전 단면
52. 보기의 3각법으로 그린 투상도에 가장 적합한 입체도는?



53. 다음 도면의 용접기호는 어떠한 용접을 나타내는가?



- ① 단속 필렛 현장용접 ② 연속 필렛 공장용접
③ 단속 필렛 공장용접 ④ 연속 필렛 현장용접

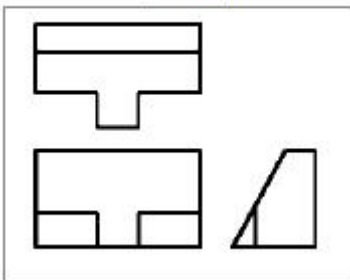
54. 판금 제품의 원통에 진원의 구멍을 내려면 전개도에서의 현도 판의 진원 구멍부 형상으로 가장 적합한 것은?



- ① ②
③ ④

55. 보기와 같이 제 3각법으로 투상된 물체의 등각 투상도로 가장 적합한 것은?

(보기)

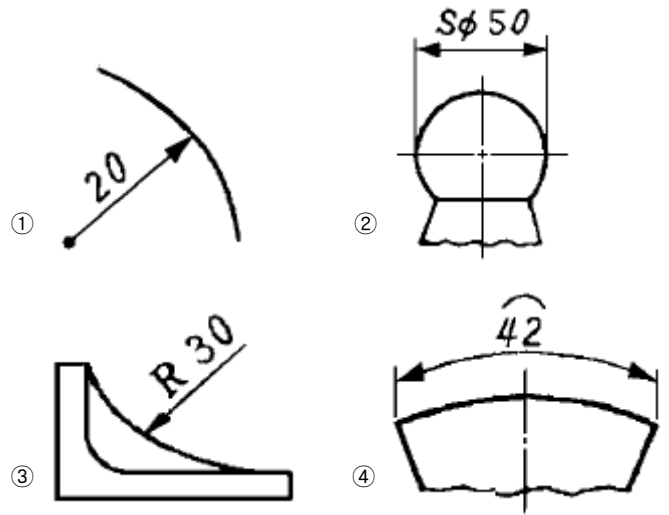


- ① ②
③ ④

56. 도면에 그려진 길이와 실제 대상물의 길이를 같게 그린 척도를 무엇이라 하는가?

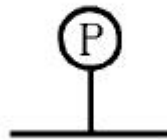
- ① 축척 ② 배척
③ 현척 ④ 비척

57. 다음 그림 중 원호의 길이를 표시하는 것은?



58. 보기와 같은 표시는 배관설비도에서 다음 중 어떤 계기를 나타내는가?

(보기)



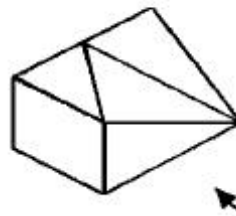
- ① 압력계 ② 온도계
③ 유량계 ④ 속도계

59. 미터나사의 호칭 M8 × 1 에서 1 이 의미하는 것은?

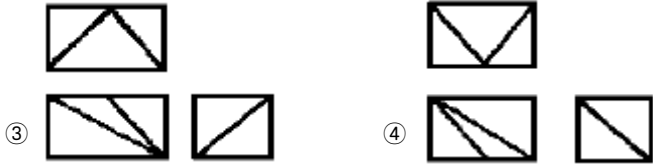
- ① 나사의 종류를 표시하는 기호
② 나사의 호칭 지름을 표시하는 숫자
③ 길이를 표시하는 숫자
④ 피치를 표시하는 숫자

60. 보기 입체도에서 화살표 방향에서 본 것을 정면도로 하여 3각법으로 투상한 것으로 가장 적합한 것은?

(보기)



- ① ②



전자문제집 CBT PC 버전 : www.comcbt.com
 전자문제집 CBT 모바일 버전 : m.comcbt.com
 기출문제 및 해설집 다운로드 : www.comcbt.com/xs

전자문제집 CBT란?

종이 문제집이 아닌 인터넷으로 문제를 풀고 자동으로 채점하며 모의고사, 오답 노트, 해설까지 제공하는 무료 기출문제 학습 프로그램으로 실제 시험에서 사용하는 OMR 형식의 CBT를 제공합니다.

PC 버전 및 모바일 버전 완벽 연동
 교사용/학생용 관리기능도 제공합니다.

오답 및 오탈자가 수정된 최신 자료와 해설은 전자문제집 CBT
 에서 확인하세요.

1	2	3	4	5	6	7	8	9	10
④	③	②	①	①	④	③	②	④	④
11	12	13	14	15	16	17	18	19	20
④	①	②	①	④	①	③	②	④	③
21	22	23	24	25	26	27	28	29	30
②	③	①	②	③	④	②	④	③	①
31	32	33	34	35	36	37	38	39	40
④	③	②	③	③	④	④	①	③	③
41	42	43	44	45	46	47	48	49	50
④	③	②	③	③	①	②	④	④	②
51	52	53	54	55	56	57	58	59	60
②	②	④	④	④	③	④	①	④	①