

1과목 : 비행원리

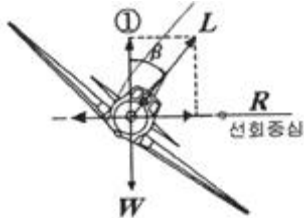
1. 비행중인 비행기의 양력이 추력보다 크게 되면 나타나는 현상은?

- ① 가속 전진한다. ② 상승비행을 한다.
③ 등속으로 비행한다. ④ 감속 전진비행을 한다.

2. 도살핀(Dorsal pin)의 효과 또는 목적에 대한 설명으로 옳은 것은?

- ① 아음속 영역에서 비행시 비행기의 조종성을 향상시키는데 주 목적이 있다.
② 수직 꼬리날개가 실속하는 큰 옆미끄럼각에서도 방향안정을 유지하는 효과를 얻게 한다.
③ 주 날개가 실속 상태인 경우, 세로 안정을 유지하는데 목적이 있다.
④ 고속으로 비행시 강력한 공기 저항을 극복하여 조종성을 증가시키는데 주 목적이 있다.

3. 비행기가 그림과 같이 정상선회 비행을 할 때 ①의 방향으로 작용하는 힘의 크기를 옳게 표시한 것은? (단, 비행기 무게 W, 속도 V, 선회반지름 R, 양력 L 이다.)



- ① W ② $L \sin \beta$
③ $L \cos \beta$ ④ WV^2/gR

4. 비행기의 승강키(elevator)에 대한 설명으로 옳은 것은?

- ① 수직축(Vertical axis)을 중심으로 한 비행기의 운동(Yawing), 즉 좌우 방향전환에 사용하는 것이 주 목적이 다.
② 비행기의 가로축(Lateral axis)을 중심으로 운동(Pitching)을 조종하는데 주로 사용되는 조종면이다.
③ 비행기의 세로축(Longitudinal axis)을 중심으로 운동(Rolling)을 조종하는데 주로 사용되는 조종면이다.
④ 이륙이나 착륙시 비행기의 양력을 증가시켜 주는데 목적이 있다.

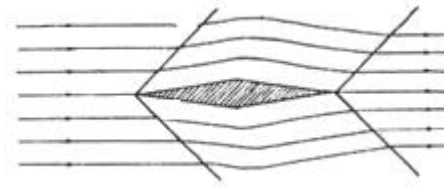
5. 실제유체와 이상유체를 구분하는 주된 요소는?

- ① 운동에너지 ② 점성
③ 유체의 압력 ④ 유체의 속도

6. 비행기 날개의 가로세로비를 옳게 나타낸 식은? (단, 날개의 길이 b, 날개시위 c, 날개의 면적 S 이다.)

- ① b/S ② c^2/S
③ b^2/S ④ S/c

7. 비행하는 물체가 음속보다 빠르게 공기를 통과할 때 발생하는 것으로 그림과 같이 공기의 특성이 급격히 변하는 층을 무엇이라고 하는가?



- ① 충격파 ② 박리
③ 유도항력 ④ 와류

8. 다음 중 동일한 높이의 고도에서 대기 밀도에 대한 설명으로 가장 옳은 것은?

- ① 대기압과 온도가 낮을수록 커진다.
② 대기압과 온도가 높을수록 커진다.
③ 대기압이 낮을수록, 온도가 높을수록 커진다.
④ 대기압이 높을수록, 온도가 낮을수록 커진다.

9. 헬리콥터의 회전날개가 상,하로 운동하며 양력의 비대칭 현상을 없애주고, 전진 비행을 가능하게 하는 것을 무엇이라 하는가?

- ① 플래핑 운동 ② 지면효과
③ 페더링 운동 ④ 리드-랙 운동

10. 정지비행 상태에 있는 헬리콥터의 수직방향으로 작용하는 힘에 대한 설명으로 옳은 것은?

- ① 주회전 날개 추력의 수평성분이 헬리콥터의 무게와 같다.
② 주회전 날개 추력의 수직성분이 헬리콥터의 무게와 같다.
③ 주회전 날개 추력의 수직성분이 꼬리 회전 날개의 추력과 같다.
④ 주회전 날개 추력과 꼬리회전 날개의 추력의 합이 회전익 항공기 무게와 같다.

11. 뒤젯힘 날개에서 나타나는 날개 끝 실속을 방지하는 방법으로 틀린 것은?

- ① 날개 앞전 부분에 와류발생장치를 설치한다.
② 날개 끝 부분으로 갈수록 받음각이 작아지도록 날개 앞전을 비틀어준다.
③ 날개 중간에 실속막이(Stall fence)를 부착하여 날개 끝 쪽으로의 흐름을 방지한다.
④ 뿌리쪽 날개끝의 최대양력계수보다 끝쪽 날개끝의 최대양력계수가 작은 날개끝을 선택한다.

12. 정적 안정과 동적 안정에 대한 설명으로 옳은 것은?

- ① 동적안정이 양(+)이면 정적안정은 반드시 양(+)이다.
② 정적안정이 음(-)이면 동적안정은 반드시 양(+)이다.
③ 정적안정이 양(+)이면 동적안정은 반드시 양(+)이다.
④ 동적안정이 음(-)이면 정적안정은 반드시 음(-)이다.

13. 날개골(airfoil)의 모양을 결정하는 요소가 아닌 것은?

- ① 두께 ② 캠버
③ 받음각 ④ 시위선

14. 600m 상공에서 글라이더가 수평활공거리 6000m 만큼 활공하였다면, 이때 양항비는?

- ① 0.06 ② 5
③ 8 ④ 10

15. 공기를 강체(Rigid body)라 가정하고 프로펠러 깃이 1회전 할 때 프로펠러가 진행하는 거리를 무엇이라 하는가?

- ① 유효 피치(Effective pitch)
- ② 산술적 피치(Arithmetic pitch)
- ③ 기하학적 피치(Geometric pitch)
- ④ 평균 공력 피치(Mean aerodynamic pitch)

16. 항공기에서 사용되며 그 자체는 가연성 물질이 아니지만 다른 인화성 물질의 연소를 촉진하므로 특히 주의해야 하는 무색 무취의 고압가스는?

- ① 염소
- ② 산소
- ③ 수소
- ④ 페놀

17. 점시머리리벳작업에 필요치 않는 작업은?

- ① 탭 작업
- ② 리머 작업
- ③ 카운터 싱크 작업
- ④ 딥플 작업

18. 다음과 같은 항공정비도서의 번호에서 56의 자리가 의미하는 것은?

12 - 34 - 56

- ① Page
- ② System
- ③ Sub-system
- ④ Subject

19. 항공기가 강풍에 의해 파손되는 것을 방지하기위해 항공기를 고정시키는 것을 무엇이라 하는가?

- ① MOORING
- ② JACKING
- ③ SERVICING
- ④ PARKING

20. 모든 부품들이 장탈되거나 분해된 후 세척하지 않은 상태에서 가장 먼저 하는 검사는?

- ① 육안검사
- ② 파괴검사
- ③ 분해검사
- ④ 치수검사

2과목 : 항공기정비

21. 오픈엔드렌치로 작업할 수 없는 좁은 장소의 작업에 사용되며, 적절한 핸들과 익스텐션 바와 함께 사용하는 그림과 같은 공구의 명칭은?



- ① 어댑터
- ② 디프 소켓
- ③ 크로켓
- ④ 알렌 렌치

22. 항공기 기체의 표면을 도장하는 주된 목적이 아닌 것은?

- ① 내식성
- ② 내유성
- ③ 내구성
- ④ 내약품성

23. 다음 영문에서 밑줄친 부분의 의미로 가장 옳은 것은?

Wrong installation of the bearings on a wheel can cause wheel damage.

- ① 표면
- ② 손상
- ③ 내면
- ④ 윤활

24. 다음 중 자동 고정 너트를 사용해도 되는 곳은?

- ① 회전력을 받는 곳
- ② 정기적으로 정비를 위해 수시로 열고 닫는 곳
- ③ 볼트의 결손이 비행의 안전성에 영향을 주는 곳
- ④ 기체 구조부재에 반영구적인 시설을 부착하는 곳

25. 고압선, 폭발물, 위험한 기계류 등의 비상정지스위치, 소화기, 화재경보장치 및 소화전 등에 사용되며 위험물 또는 위험 상태를 표시하는 색은?

- ① 녹색
- ② 노란색
- ③ 빨간색
- ④ 주황색

26. 형광침투검사에 사용되는 현상제의 본래 색상은?

- ① 형광색
- ② 백색
- ③ 황녹색
- ④ 적색

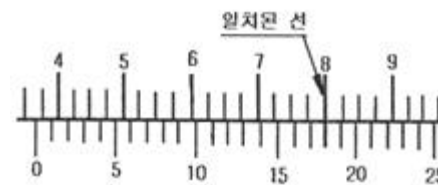
27. 불이 지속적으로 탈 수 있는 조건을 만들어 주는 화재의 3요소가 아닌 것은?

- ① 빛
- ② 산소
- ③ 열
- ④ 연료

28. 다음 중 항공기의 지상취급작업에 속하지 않는 것은?

- ① 견인작업
- ② 세척작업
- ③ 계류작업
- ④ 지상 유도작업

29. 최소측정값이 1/1000 in 인 버니어 캘리퍼스로 측정한 그림과 같은 측정값은 몇 in 인가?



- ① 0.366
- ② 0.367
- ③ 0.368
- ④ 0.369

30. 복선식 안전결선 수행 중 기본적으로 지켜야 할 사항으로 옳은 것은?

- ① 연속해서 걸 수 있는 최대 부품 수는 길이 48 in 의 안전결선으로 걸 수 있는 수이다.
- ② 기하학적 모양으로 파스너가 모여 있을 때 적용할 수 있는 방법이다.
- ③ 3 in 이상 떨어져 있는 파스너 또는 피팅 사이에 안전결선을 걸어서는 안된다
- ④ 넓은 간격으로 모인 부품을 연속으로 결합할 수 있는 최대의 부품 수는 3개이다.

31. 리벳 내부에 나사가 있는 리벳으로 보통 리벳보다 가볍고 진동에 강한 리벳은?

- ① 폭발 리벳
- ② 조 볼트

③ 체리 리벳

④ 리브 너트

32. 비행기의 조종계통에 사용되는 페어리드(fairlead)의 목적은?

- ① 케이블에 윤활유를 공급해 준다.
- ② 케이블의 정비를 쉽게 할 수 있도록 한다.
- ③ 케이블의 장력이 작아지는 것을 방지한다.
- ④ 케이블이 처지지 않고 직선운동을 하도록 한다.

33. 항공기 급유 및 배유 시 안전사항에 대한 설명으로 옳은 것은?

- ① 작업장 주변에서 담배를 피우거나 인화성 물질을 취급해서는 안된다.
- ② 사전에 안전조치를 취하더라도 승객 대기 중 급유해서는 안된다.
- ③ 자동제어시스템이 설치된 항공기에 한하여 감시요원배치를 생략 할 수 있다.
- ④ 3점 접지 시 안전 조치후 항공기와 연료차의 연결은 생략할 수 있지만 각각에 대한 지면과의 연결은 생략 할 수 없다.

34. 측정물의 평면 상태검사, 원통 진원검사 등에 이용되는 측정기기는?

- ① 높이 게이지
- ② 마이크로미터
- ③ 깊이 게이지
- ④ 다이얼 게이지

35. 다음 중 항공기의 감항성을 유지하기 위한 행위에 해당하는 것은?

- ① 항공기 제작
- ② 항공기 개발
- ③ 항공기 정비
- ④ 항공기 시험

36. 추력 중량비(Thrust weight ratio)를 옳게 설명한 것은?

- ① 총추력을 기관의 무게로 나눈 값
- ② 진추력을 기관의 무게로 나눈 값
- ③ 총추력을 연료의 무게로 나눈 값
- ④ 진추력을 연료의 무게로 나눈 값

37. 다음 중 가스터빈기관의 시동 절차에 대한 설명으로 틀린 것은?

- ① 과열 시동 방지를 위해 연료가 공급된 후 점화계통을 작동 시켜야 한다.
- ② 연료량은 스러스트 레버(Thrust lever)로 조절 한다.
- ③ 기관의 시동을 위해 압축기를 충분한 속도로 회전시켜 공기를 흡입, 압축 할 수 있도록 한다.
- ④ 시동기는 기관이 자립회전 속도에 도달할 때까지 회전동력을 공급해야한다.

38. 카르노 사이클에서 공급 열량이 100kcal 이고 방출 열량이 40kcal 일 때 열효율은?

- ① 0.4
- ② 0.5
- ③ 0.6
- ④ 0.8

39. 원심류형 압축기와 비교하여 축류형 압축기의 장점으로 옳은 것은?

- ① 제작이 간편하다.
- ② 설계가 간편하다.
- ③ 기관의 전면 면적이 넓다.

④ 높은 압축비를 얻을 수 있다.

40. 다음 중 피스톤 링의 기능이 아닌 것은?

- ① 피스톤의 운동 시간을 조절하는 기능
- ② 실린더 벽에 공급되는 윤활유의 양을 제어
- ③ 연소실 내의 압력을 유지하기 위한 밀폐 기능
- ④ 피스톤으로부터 실린더 벽으로 열을 전도하는 기능

3과목 : 항공기관

41. 램제트 기관에 대한 설명으로 틀린 것은?

- ① 초음속 비행이 가능하다.
- ② 정지 상태에서 작동이 불가능하다.
- ③ 압축기, 연소실, 터빈으로 구성된다.
- ④ 제트기관 중에서 가장 간단한 구조이다.

42. 그림과 같은 형태의 흡·배기밸브 명칭은?



- ① 버섯형
- ② 틀립형
- ③ 반틀립형
- ④ 평두형

43. 부피가 일정한 경우 공기 6kg을 100°C에서 600°C 까지 가열하는데 필요한 공급 열량은 몇 kcal 인가? (단, 부피가 일정한 상태에서 기체의 온도를 1°C 높이는데 필요한 열량은 0.172kcal/kg·°C 이다.)

- ① 316
- ② 416
- ③ 516
- ④ 616

44. 가스터빈기관의 연료 계통에서 연료여과기의 역할은?

- ① 연료 공급 압력 증가
- ② 연료펌프의 마모 방지
- ③ 연료내의 이물질 여과
- ④ 연료시스템 내의 냉각

45. 가스터빈기관의 시동 및 모터링 수행시 시동기 냉각에 대한 설명으로 틀린 것은?

- ① 시동기의 냉각시간은 가스터빈기관의 종류에 따라 다르다.
- ② 시동기의 보호를 위해 규정된 냉각시간을 지켜야 한다.
- ③ 시동기의 종류와 작동 시간에 따라 시동기의 냉각시간을 다르게 해야 한다.
- ④ 시동 실패 시에는 시동기 재접속을 신속히 수행 한다.

46. 왕복기관의 공기 흡입 계통 중에서 혼합 가스를 각 실린더에 일정하게 분배, 운반하는 통로 역할을 하는 것은?

- ① 매니폴드
- ② 기화기
- ③ 공기 덕트
- ④ 과급기

47. 가스터빈기관에서 사용시간에 제한을 갖고 있는 기관정격(Engine rating)은?

- ① 이륙정격(Take-off rating)
- ② 최대순항정격(Maximum cruise rating)
- ③ 최대상승정격(Maximum climb rating)

④ 최대연속정격(Maximum continuous rating)

48. 후기연소기에 대한 설명으로 틀린 것은?

- ① 효과적인 연소를 위해 입구의 공기속도가 작은 것이 좋다.
- ② 후기연소기 미작동 시에는 배기노즐 출구의 면적을 크게 한다.
- ③ 터빈출구와 후기연소기 입구 사이는 디퓨저 구조로 설치한다.
- ④ 터빈 뒤에 테일콘을 장착하여 확산통로가 되도록 한다.

49. 항공기 가스터빈기관에 사용되는 연소실의 종류로 나열된 것은?

- ① 애놀러형, 바리아불형, 케이스케트벤형
- ② 애놀러형, 캔-애놀러형, 케이스케트벤형
- ③ 캔형, 애놀러형, 바리아불형
- ④ 캔형, 애놀러형, 캔-애놀러형

50. 가스터빈기관의 역추력 장치에 대한 설명으로 틀린 것은?

- ① 역추력 장치는 비상 착륙 시나 이륙포기 시에 제동능력 및 방향전환 능력을 향상 시킨다.
- ② 역추력 장치의 사용절차는 착지 후 최대 이륙속도에서 역추력 모드를 선택한다.
- ③ 구동방법으로 주로 공압 또는 유압이 상업용 항공기에 사용되고 있다.
- ④ 캐스케이드 리버서(Cascade Reverser)와 클램셸리버서(Clamshell Reverser)가 있다.

51. 항공기용 왕복기관에 사용되는 마그네토의 형식 중 고공비행에 적합한 형태는?

- ① 초고압마그네토 ② 고압마그네토
- ③ 중압마그네토 ④ 저압마그네토

52. 다음 중 윤활유의 점도를 낮추는 장치는?

- ① 윤활유 온도 계기 ② 윤활유 탱크
- ③ 윤활유 희석 장치 ④ 윤활유 압력 펌프

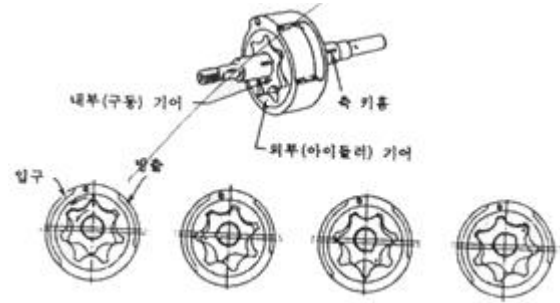
53. 항공기용 왕복기관에서 밸브오버랩(Valve overlap)을 두는 가장 큰 이유는?

- ① 체적효율을 증가시켜 기관 출력을 증대시킨다.
- ② 밸브 운전을 편리하게 한다.
- ③ 밸브 파손을 최소화시킨다.
- ④ 밸브간극을 최소화시킨다.

54. 왕복기관에서 실린더 압축시험 시기와 관계없는 것은?

- ① 실린더를 교환했을 때 ② 압축시험 주기가 되었을 때
- ③ 피스톤 핀을 교환했을 때 ④ 밸브의 간극을 조절했을 때

55. 그림과 같은 오일펌프 형식의 명칭은?



- ① 베인 펌프 ② 지로터 펌프
- ③ 기어 펌프 ④ 피스톤 펌프

56. 그림과 같은 고정 피치 프로펠러에서 (A) 의 명칭은?



- ① 팁 ② 허브
- ③ 목 ④ 깃

57. 왕복기관의 작동원리를 설명하는 이상적인 사이클은?

- ① 오토사이클 ② 카르노 사이클
- ③ 랭킨 사이클 ④ 브레이턴 사이클

58. 다음 중 공랭식 왕복기관의 특징이 아닌 것은?

- ① 기관 작동이 낮은 기온에서 원활이 원활하다.
- ② 동일한 마력의 액랭식 기관보다 무게가 가볍다.
- ③ 라디에이터, 온도조절장치, 펌프 등으로 구성 된다.
- ④ 액랭식 기관보다 구조가 간단하여 정비하기 용이하다.

59. 항공기용 왕복기관의 연료 계통에서 저출력을 제외한 출력 전 범위에서 모든 스로틀 개도에 따라 연료와 공기의 혼합기를 일정하게 유지시키는 장치는?

- ① 가속 장치 ② 연료 여과기
- ③ 저속 장치 ④ 주미터링 장치

60. 가스터빈기관의 축류형 터빈에 대한 설명으로 옳은 것은?

- ① 회전자에 앞에 있고 고정자는 뒤에 있다.
- ② 고정자(Stator)를 터빈 노즐(Turbine nozzle)이라 하고, 회전자(Rotor)를 터빈 브레이드(Turbine blade)라 한다.
- ③ 고정자에서는 속도감소와 압력증가가 일어나고, 회전자는 속도의 변화 없이 회전동력을 발생한다.
- ④ 회전자에서는 속도증가와 압력감소가 일어나고, 고정자에서는 속도의 변화 없이 압력을 감소시킨다.

전자문제집 CBT PC 버전 : www.comcbt.com
 전자문제집 CBT 모바일 버전 : m.comcbt.com
 기출문제 및 해설집 다운로드 : www.comcbt.com/xs

전자문제집 CBT란?

종이 문제집이 아닌 인터넷으로 문제를 풀고 자동으로 채점하며
 모의고사, 오답 노트, 해설까지 제공하는 무료 기출문제 학습 프
 로그램으로 실제 시험에서 사용하는 OMR 형식의 CBT를 제공합
 니다.

PC 버전 및 모바일 버전 완벽 연동
 교사용/학생용 관리기능도 제공합니다.

오답 및 오탈자가 수정된 최신 자료와 해설은 전자문제집 CBT
 에서 확인하세요.

1	2	3	4	5	6	7	8	9	10
④	②	③	②	②	③	①	④	①	②
11	12	13	14	15	16	17	18	19	20
④	①	③	④	③	②	①	④	①	①
21	22	23	24	25	26	27	28	29	30
③	③	②	④	③	②	①	②	③	④
31	32	33	34	35	36	37	38	39	40
②	④	①	④	③	②	①	③	④	①
41	42	43	44	45	46	47	48	49	50
③	④	③	③	④	①	①	②	④	②
51	52	53	54	55	56	57	58	59	60
④	③	①	③	②	②	①	③	④	②