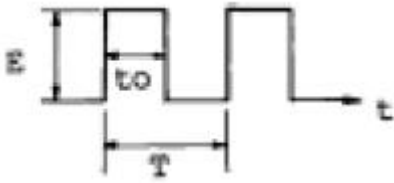


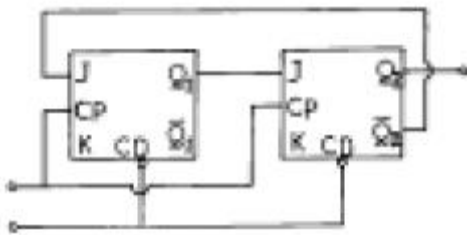
1과목 : 디지털 전자회로

1. 그림은 이상적인 펄스이다. 이 펄스의 점유율 D 는?



- ① $D=t_0/T$ ② $D=T/t_0$
 ③ $D=E/T$ ④ $D=E/t_0$

2. 다음 그림과 같은 J - K F/F 회로에서 클럭펄스가 몇 개 입력될 때 Q₂에 출력되는가?



- ① 3 ② 4
 ③ 5 ④ 6

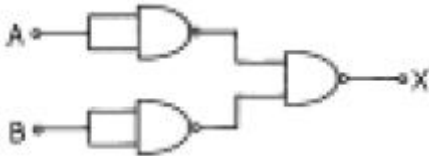
3. 이상적인 연산 증폭기의 특징으로 적당치 않은 것은?

- ① 무한대의 입력 임피던스
 ② 무한대의 출력 임피던스
 ③ 무한대의 전압 이득
 ④ 무한대의 대역폭

4. 전압 증폭도가 20[dB]와, 60[dB]인 증폭기를 직렬로 연결시키면 총합 이득은 얼마인가?

- ① 10 ② 100
 ③ 1000 ④ 10000

5. 다음 그림과 같이 NAND 게이트가 연결되어 있다. 이 회로와 등가인 게이트는?



- ① OR 게이트 ② AND 게이트
 ③ NOR 게이트 ④ NAND 게이트

6. 다음 논리식을 간단히 한 결과는?

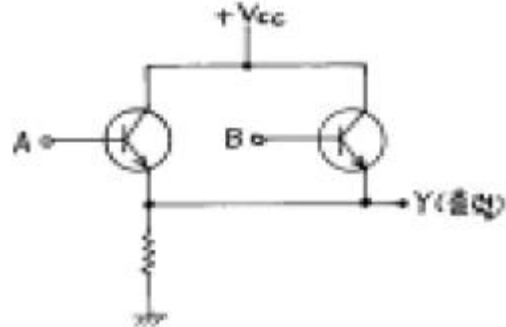
$$\overline{\overline{A+B} + \overline{\overline{A+B}}}$$

- ① $A + B$ ② AB
 ③ A ④ B

7. 수정발진기의 직렬공진주파수 f_s , 전극용량을 포함한 병렬공진주파수를 f_p 라 할 때 수정발진기가 안정된 발진을 하기 위한 동작주파수의 조건은?

- ① f_s 보다 낮게 한다.
 ② f_p 보다 높게 한다.
 ③ f_s 보다 낮게, f_p 보다 높게 한다.
 ④ f_s 보다 높게, f_p 보다 낮게 한다.

8. 정논리(positive logic)에서 입력이 A, B일 때 회로의 출력(Y)을 나타내는 논리식은?

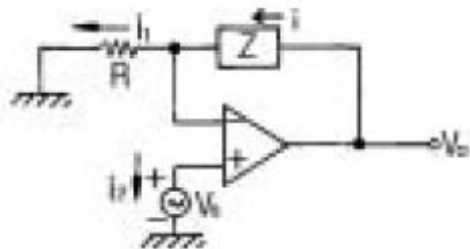


- ① AB ② $A+B$
 ③ $A'B'$ ④ $A'+B'$

9. 플립플롭을 구성하는데 주로 이용되는 회로는?

- ① 쌍안정 멀티바이브레이터
 ② 단안정 멀티바이브레이터
 ③ 비안정 멀티바이브레이터
 ④ 무안정 멀티바이브레이터

10. 다음과 같은 연산 증폭회로에서 Z에 흐르는 전류 i의 값은 얼마인가?



- ① 0 ② i_1
 ③ $(Z/R)i_1$ ④ $i_1 + i_2$

11. 주파수변조에서 다음 변조지수 중 대역폭이 가장 넓은 것은?

- ① 0.17 ② 2.9
 ③ 3.1 ④ 4.2

12. 다음 중 수정 발진자의 특징과 거리가 가장 먼 것은?

- ① Q(Quality factor)가 매우 높다.
 ② 주파수 안정도가 $10^5 \sim 10^8$ 정도로 매우 안정하다.
 ③ 유도성 영역이 매우 좁다.
 ④ 병렬공진주파수 부근에서 대단히 큰 LC동조회로와 같은 임피던스 특징을 갖는다.

13. 진폭변조에서 변조도 80[%]이고 반송파 평균전력이 300[W]일 때 피변조파의 평균 전력은?

- ① 328[W] ② 396[W]
 ③ 440[W] ④ 520[W]

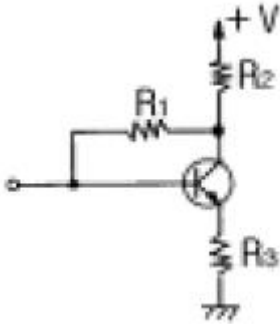
14. 다음 중 소비전력이 가장 적은 소자는?

- ① TTL ② ECL
③ RTL ④ CMOS

15. 트랜지스터의 베이스 접지에서 전류 증폭율이 0.99이다. 이것을 에미터 접지에서의 전류 증폭률로 구하면 얼마인가?

- ① 96 ② 97
③ 98 ④ 99

16. 트랜지스터 증폭회로에서 저항 R1의 역할은?



- ① 입력 임피던스 조절 ② 에미터 바이어스
③ 부궤환 작용 ④ 부하저항

17. 다음 중 입출력장치를 마이크로컴퓨터에 연결하는 데에 필요한 장치는?

- ① 인터페이스(interface)회로
② 레지스터(register)회로
③ 누산기(accumulator)회로
④ 계수기(counter)회로

18. 25 : 1의 리플 카운터를 설계하고자 한다. 최소한 몇 개의 플립플롭이 필요한가?

- ① 4개 ② 5개
③ 6개 ④ 7개

19. 증폭이득이 60[dB]인 증폭기에서 20[%]의 찌그러짐이 발생했다. 이것을 2[%] 이내로 개선하기 위해서 걸어야 할 부궤환은?

- ① 10[dB] ② 20[dB]
③ 30[dB] ④ 40[dB]

20. 정전압회로에서 주로 사용되는 다이오드는?

- ① 터널 다이오드 ② 제너 다이오드
③ 발광 다이오드 ④ 바랙터 다이오드

2과목 : 무선통신 기기

21. 진폭 변조 회로에서 반송파 전력이 100[W]일때 변조율을 60[%]라고 하면 상측파대의 전력은?

- ① 8[W] ② 9[W]
③ 10[W] ④ 12[W]

22. 다음 중 위성통신의 장·단점이 아닌 것은?

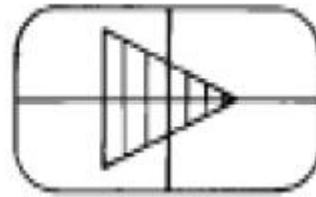
- ① 회선 설정이 용이하다.

- ② 전송지연이 발생한다.
③ 동보통신이 가능하다.
④ 암호화 장비가 필요없다.

23. 무선통신에 사용되고 있는 스펙트럼 확산 신호 방법이 아닌 것은?

- ① 직접 확산 (DS : Direct Sequence)
② 주파수 도약 (FH : Frequency Hoppers)
③ 시간 도약 (TH : Time Hoppers)
④ 델타 변조 (DM : Delta Modulation)

24. Oscilloscope에 다음과 같은 그림을 얻었다. 이것은 무엇을 측정한 파형인가?



- ① 진폭 변조파로서 과변조파
② 두개의 주파수에 대한 고조파 전압의 합성파
③ 100% 위상 변조파
④ 100% 진폭 변조파

25. 헤테로다인 주파수계로 주파수를 측정하는 경우 주파수 계를 피측정 회로에 밀결합하지 않는 이유로 가장 타당한 것은?

- ① 측정오차가 생기거나 또는 인입현상이 발생하기 때문
② 영비이트 점의 검출이 용이하기 때문
③ 다이얼의 눈금과 발진주파수가 일치하지 않기 때문
④ 측정기에 무리를 주기 때문

26. 진폭 3[V], 주파수 2[kHz]의 신호파를 진폭 5[V], 주파수 2[MHz]의 반송파로 진폭 변조 할 경우의 변조율은?

- ① 60[%] ② 50[%]
③ 40[%] ④ 30[%]

27. AM수신기의 충실도와 관계가 적은 것은?

- ① 검파왜곡 ② 주파수 특성
③ 위상왜곡 ④ 맥동율

28. 주파수변별기와 주파수검파기가 하는 기능은?

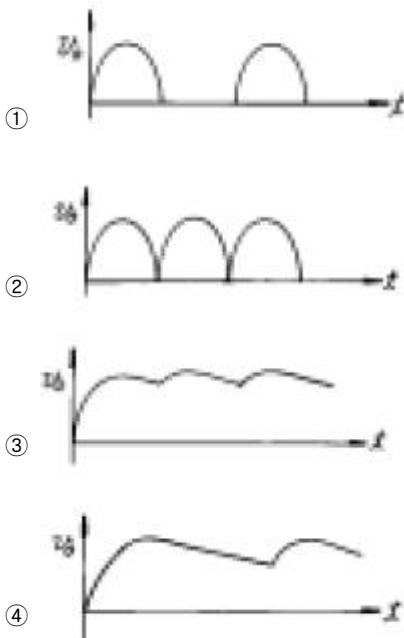
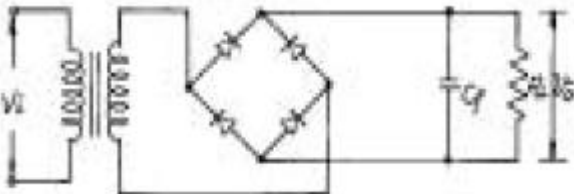
- ① FM 주파수 편차를 위상편차로 변환한다.
② FM 신호의 진폭을 제한한다.
③ FM 주파수 편차를 신호파로 변환한다.
④ 복구된 신호파에서 FM합 주파수 성분을 제거한다.

29. 전송선로나 증폭기와 같은 전송계의 주파수특성을 고르게 보정해 주는 것은?

- ① 대역 여과기 ② 자동 이득조절기
③ 등화기 ④ 진폭 제한기

30. 측정기에 널리 사용되고 있는 볼로메터(Bolometer)소자에 대한 설명중 잘못된 것은?

- ① 매우 작게 만들수 있어 도파관, 전송선에 용이하게 장치하여 적은 전력측정에 사용된다.
 ② FM송신기의 전력측정에 사용된다.
 ③ 더미스터와 바레터가 있는데, 특히 더미스터는 주위 온도변화에 영향을 받지 않는다.
 ④ 방향성 결합기를 사용하여 대전력을 감시하는데에도 사용할 수 있다.
31. 무선통신 시스템에서 변·복조를 하는 이유 중 타당성이 적은 것은?
 ① 통신로의 효율적 이용
 ② 잡음과 간섭억제
 ③ 근접거리의 선로 전송에 유리
 ④ 신호의 다중화
32. 반송파가 80[MHz], 최대주파수 편이가 60[kHz]이고 신호파는 10[kHz]인 경우 FM 변조 했을 때 변조지수는 얼마인가?
 ① mf = 8 ② mf = 6
 ③ mf = 5 ④ mf = 4
33. 그림과 같은 정류 회로에서 콘덴서 Cf의 리이드가 단선되었을 때 출력 전압의 파형은 어떤 상태가 되는가? (단, 입력 Vi에는 정현파 가해진다.)



34. 주파수에 대한 진폭을 그래프로 표시되도록 고안된 측정 장치는?
 ① 스펙트럼 분석기 ② 계수형 주파수계
 ③ 오실로스코프 ④ 레벨미터
35. 축전지의 AH(암페어시)가 의미하는 것은?
 ① 사용가능 시간 ② 충전전류

- ③ 축전지의 용량 ④ 최대 사용 전류

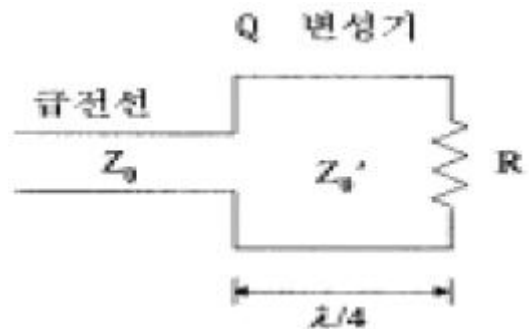
36. DSB와 비교하여 SSB(단측파대) 통신방식의 특징 중 틀린 것은?
 ① 어느 정도 비밀성이 있다.
 ② 소비 전력이 크다.
 ③ 점유주파수 대역폭이 반 이하가 되어 다중통신에 적합하다.
 ④ 신호대 잡음비(S/N)가 좋아진다.
37. SSB 수신기가 AGC의 사용이 어려운 이유는?
 ① 반송파가 거의 발사되지 않으므로
 ② 측파대가 없기 때문에
 ③ 송신 출력이 적기 때문에
 ④ 신호 주파수가 적으므로
38. 다음 중 송신기의 조건으로 맞지 않는 것은?
 ① 출력전력이 높을 것
 ② 발사 주파수의 안정도가 좋을 것
 ③ 점유주파수대폭이 필요 최소한 일 것
 ④ 전력효율이 높을 것
39. 다음 중 FM 수신기의 보조회로가 아닌 것은?
 ① 진폭제한기
 ② De-emphasis 회로
 ③ 순시주파수편이 제어회로(IDC)
 ④ 스킨치(Squelch)회로
40. 위성 중계기에서 잡음의 영향을 최소화하기 위해서 저잡음 증폭기에 사용되는 소자는?
 ① MASER ② HPA
 ③ SSPA ④ GaAsFET

3과목 : 안테나 개론

41. 엔드 파이어 헬리컬 안테나의 특성이 아닌 것은? (문제 오류로 보기 내용이 정확하지 않습니다. 정확한 내용을 아시는분께서는 오류 신고를 통하여 작성 부탁 드립니다. 정답은 4번입니다.)
 ① 광대역 진행파 안테나이다.
 ② 이득은 약 11~15dB 정도이다.
 ③ 복사저항은 약 100~200Ω 정도이다.
 ④ 반치각은 (복원중)이다.
42. 위성통신 지구국용의 고이득, 저잡음 안테나로서 위성 통신 지구국에서 주로 사용하고 있는 안테나는?
 ① 브라운 안테나 ② 카세그레인 안테나
 ③ 혼 리플렉터 안테나 ④ 슬롯 어레이 안테나
43. 대수주기형(log periodic)안테나에 대한 설명으로 옳지 않은 것은?
 ① 각 소자의 치수가 대수비례로만 커진다.
 ② 안테나의 모양이 비례적으로 커지는 여러개의 안테나 소자로 되어있다.
 ③ 주파수의 대수값이 일정한 값만큼씩 달라지는 주파수때

- 마다 동일한 복사특성을 나타낸다.
- ④ 매우 넓은 주파수 대역을 갖는다.
44. 폴디드(folded)다이폴 안테나에 관한 설명 중 틀린 것은?
- ① 2개 접어진 안테나인 경우 급전점 임피던스는 약 292[Ω]이다.
- ② 두 도체의 굵기가 다르면 임피던스도 달라진다.
- ③ 수신 최대 유효전력은 반파장 다이폴의 1/4로 된다.
- ④ 지향성은 반파장 다이폴과 같다.
45. 주파수 3[MHz]의 전파에 사용하는 반파장 다이폴 안테나의 길이는 얼마인가?
- ① 30[m] ② 50[m]
- ③ 100[m] ④ 300[m]
46. 다음의 전자파 성질 중 옳은 것은?
- ① 매질에 관계없이 전파속도는 일정하다.
- ② 유전율이 클수록 파장은 길다.
- ③ 전파의 속도는 유전율과 투자율에 따라 달라진다.
- ④ 전파는 종파이다.
47. 도파관 임피던스 정합 방법과 관계 없는 것은?
- ① $\lambda/4$ 임피던스 변환기
- ② 스터브튜너(stub tuner)
- ③ 다이플렉서(diplexer)
- ④ 테이퍼선로(Tapered line)
48. 단파대에서 제1종 감쇠의 설명으로 맞는 것은?
- ① E층의 전자밀도가 클수록, 주파수가 낮을수록 크다.
- ② E층의 전자밀도와 주파수가 클수록 크다.
- ③ E층의 전자밀도와 주파수가 낮을수록 크다.
- ④ E층의 전자밀도가 작을수록, 주파수가 클수록 크다.
49. 안테나 회로를 정합하는 이유로 틀리는 것은?
- ① 정재파비를 크게 한다.
- ② 최대 전력을 전송한다.
- ③ 주파수 특성을 좋게 한다.
- ④ 손실을 적게 한다.
50. 안테나의 전력이 10[KW]에서 85[KW]로 증가하였을 때 전계강도는 몇배가 증가하는가?
- ① 3.5 배 ② 2.9 배
- ③ 2.5 배 ④ 2.4 배
51. 면적 0.5[m²], 권수 100인 루프안테나를 1[MHz]의 수신용으로 사용할때 실효고는 얼마인가?
- ① π [m] ② $\frac{\lambda}{2}$ [m]
- ③ $\frac{\lambda}{3}$ [m] ④ $\frac{\lambda}{4}$ [m]
52. 평행 2선식 급전선중 가장 특성 임피던스가 높은 것은?
- ① 선경 1.2 [mm], 선간격 20 [cm]
- ② 선경 1.2 [mm], 선간격 30 [cm]
- ③ 선경 2.9 [mm], 선간격 30 [cm]
- ④ 선경 2.9 [mm], 선간격 20 [cm]

53. 복사저항이 30[Ω], 손실저항이 5[Ω], 도체저항이 5[Ω]인 안테나의 효율은 몇 [%] 인가?
- ① 25[%] ② 50[%]
- ③ 75[%] ④ 80[%]
54. 루프 안테나에 관한 설명으로 옳지 못한 것은?
- ① 실효길이는 파장에 비례하고 권수(감이수)에 반비례한다.
- ② 효율이 나쁘고 급전선과의 정합이 어렵다.
- ③ 전파 도래 방향과 루프면이 일치할 때 최대감도이다.
- ④ 수평면내의 지향특성은 주파수에 관계없이 8자 지향특성을 나타낸다.
55. 다음 중 웨이브(Wave)안테나의 특징이 아닌 것은?
- ① 광대역 지향성 수신 안테나이다.
- ② 주로 초단파대 수신용 안테나이다.
- ③ 진행파 안테나의 일종이다.
- ④ 다중 수신이 가능하다..
56. MUF(최고사용가능 주파수)가 6[MHz]일때 FOT (최적운용주파수)는?
- ① 4.1MHz ② 5.1MHz
- ③ 6.1MHz ④ 7.1MHz
57. 마이크로 웨이브(micro wave) 통신의 장점이 아닌 것은?
- ① 광대역 통신이 가능하다.
- ② PTP(point to point) 통신에 적합하다.
- ③ 중계없이 원거리 통신이 가능하다.
- ④ 외부 잡음의 영향이 적다.
58. 다음과 같은 회로에서 R=100[Ω], Z₀=200[Ω] 일 때 정합을 하고자 한다. 이때 Z₀' 는 약 몇[Ω] 인가?



- ① 120[Ω] ② 140[Ω]
- ③ 150[Ω] ④ 300[Ω]
59. 다음은 라디오 덕트(radio duct)에 대한 설명이다. 잘못된 것은?
- ① 극초단파대의 고정통신용으로 사용한다.
- ② 전파를 trap시키는 대기층이다.
- ③ 초단파대에서 전파가 가시거리보다 먼 거리까지 도달할 수 있다.
- ④ 전파가 라디오 덕트(radio duct)내를 전파하는 것은 전파가 도파관을 전파하는 것과 같다.
60. 회절파에 대한 설명으로 틀린 것은?

- ① 극초단파대에서도 일어난다.
- ② 프레즈넬 존(Fresnel zone)이 있으면 잘 일어난다.
- ③ 뿔기형 장애물(Knife edge)이 있으면 잘 일어난다.
- ④ 직접파에 의한 전계강도 보다도 더 크다.

4과목 : 전자계산기 일반 및 무선설비기준

61. 인터럽트(interrupt)가 발생했을 때 수행해야 할 일이 아닌 것은?
- ① 인터럽트 처리 루틴을 수행한다.
 - ② 어느 장치에서 인터럽트가 요청되었는지를 조사한다.
 - ③ 수행중인 프로그램을 보조 기억 장치에 보관한다.
 - ④ 프로그램 카운터의 내용을 보관한다.
62. ROM에 대한 설명 중 잘못된 것은?
- ① 내용을 읽어내는 것만 가능하다.
 - ② 기억된 내용을 임의로 변경시킬 수 없다.
 - ③ 주로 마이크로 프로그램과 같은 제어 프로그램을 기억시키는데 사용한다.
 - ④ 사용자가 작성한 프로그램이나 데이터를 기억시켜 처리하기 위해 사용하는 메모리이다.
63. 다음 코드 중 7 비트 코드로 구성된 것은? (단, Parity bit는 제외)
- ① EBCDIC 코드 ② BCD 코드
 - ③ GRAY 코드 ④ ASCII 코드
64. 프로그램상의 오류를 수정하는 작업을 무엇이라 하는가?
- ① 테스트 ② 디버깅
 - ③ 컴파일 ④ 코드설계
65. 사용자가 고급언어로서 초기에 작성한 프로그램을 무엇이라고 하는가?
- ① 목적 프로그램 ② 원시 프로그램
 - ③ 로드 프로그램 ④ 연계 편집 프로그램
66. 컴퓨터와 오퍼레이터 사이에 필요한 정보를 주고받을 수 있는 장치는?
- ① 라인 프린터 ② 콘솔
 - ③ 자기디스크 ④ 데이터
67. 다음은 10진수를 BCD코드로 표현한 것이다. 이 코드로 표현된 10진수는 어느 것인가?
- | | | | |
|------|------|------|------|
| 0001 | 1001 | 1000 | 0100 |
|------|------|------|------|
- ① 2673 ② 1984
 - ③ 1784 ④ 1094
68. 다음 중 CPU가 수행하는 4개 사이클(cycle)에 속하지 않는 것은?
- ① Fetch cycle ② Execute cycle
 - ③ Interrupt cycle ④ jump cycle
69. 부호와 1의 보수 표현 방법에 의해 8비트로 10진수 27과 -35를 표현하면?

- ① 00011011, 10100011 ② 00011011, 11011100
- ③ 11100100, 01011100 ④ 11100101, 01011101

70. 컴퓨터의 주메모리(main memory)장치에 널리 사용 되는 것은?
- ① 자기테이프 ② 플로피 디스크
 - ③ 하드 디스크 ④ 반도체 IC 메모리
71. 디지털 선택호출장치를 설치한 의무선박국은 선박의 항행중 몇 회이상 그 기능을 확인하여야 하는가?
- ① 매일 1회 이상 ② 매주 1회 이상
 - ③ 매월 1회 이상 ④ 매년 1회 이상
72. 전파형식 표기법 중 발사의 등급 특성의 해설로서 적합지 못한 것은?
- ① 첫째기호 - 주반송파의 변조형식
 - ② 둘째기호 - 주반송파를 변조하는 신호의 특성
 - ③ 셋째기호 - 송신할 정보의 형태
 - ④ 넷째기호 - 다중화 방식
73. 다음 중 안전시설에 대하여 틀리게 설명한 것은?
- ① 산업용 전파응용설비는 신체의 안전을 위하여 접지장치를 설치한다.
 - ② 고정국에 설치된 피뢰기는 별도의 접지장치를 설치하여야 한다.
 - ③ 무선설비의 공중선은 공중선주의 동요에 절단되지 않도록 보호되어야 한다.
 - ④ 육상이동국 등 휴대형 무선설비는 공중선의 안전시설을 설치하여야 한다.
74. 다음 중 정보통신기기인증규칙에 의하여 인증이 면제되지 않는 무선설비는?
- ① 시험·연구용 무선설비의 기기
 - ② 여행자가 판매를 목적으로 반입하는 무선설비
 - ③ 전시회 등에서의 판매를 목적으로 하지 않는 무선설비
 - ④ 외국으로부터 도입한 선박에 설치된 무선설비
75. 해상이동업무에서의 통신의 우선순위가 높은순으로 나열된 것은?
- ① 공중통신-긴급통신-안전통신-조난통신
 - ② 긴급통신-안전통신-조난통신-공중통신
 - ③ 안전통신-조난통신-공중통신-긴급통신
 - ④ 조난통신-긴급통신-안전통신-공중통신
76. 공중선전력의 표시방법으로 틀린 것은?
- ① PM ② PZ
 - ③ PY ④ PX
77. 다음은 인증번호부여 방법의 보기를 나타낸 것이다. 설명이 적합하지 않는 것은?
- | |
|----------------------|
| A - BBBB - CC - DDDD |
|----------------------|
- ① A : 인증의 모델 ② BBBB : 기기부호
 - ③ CC : 인증연도 ④ DDDD : 일련번호
78. 무선측위업무에서 스푸리어스발사의 허용치는 공중선전력에

대한 감쇠값(데시벨)으로 얼마인가?

- ① $43 + 10\log(PY)$ 또는 60dBc 중 덜 엄격한 값
- ② $43 + 10\log(PX)$ 또는 60dB 중 덜 엄격한 값
- ③ $46 + 10\log(PY)$ 또는 80dBc 중 덜 엄격한 값
- ④ $46 + 10\log(PX)$ 또는 80dB 중 덜 엄격한 값

79. 산업용 전파응용설비는 사용하는 고주파출력이 몇 W를 초과하는 것을 말하는가?

- ① 10 W 초과 ② 30 W 초과
- ③ 50 W 초과 ④ 100 W 초과

80. 사용하는 주파수대가 4[MHz]~29.7[MHz]인 무선국의 허용 편차로 적합하지 않는 것은? (단, Hz를 붙인 것을 제외하고는 백만분을 임)

- ① 방송국 : 10[Hz] ② 표준주파수국 : 10
- ③ 간이무선국 : 50 ④ 우주국 : 20

전자문제집 CBT PC 버전 : www.comcbt.com

전자문제집 CBT 모바일 버전 : m.comcbt.com

기출문제 및 해설집 다운로드 : www.comcbt.com/x

전자문제집 CBT란?

종이 문제집이 아닌 인터넷으로 문제를 풀고 자동으로 채점하며 모의고사, 오답 노트, 해설까지 제공하는 무료 기출문제 학습 프로그램으로 실제 시험에서 사용하는 OMR 형식의 CBT를 제공합니다.

PC 버전 및 모바일 버전 완벽 연동

교사용/학생용 관리기능도 제공합니다.

오답 및 오탈자가 수정된 최신 자료와 해설은 전자문제집 CBT에서 확인하세요.

1	2	3	4	5	6	7	8	9	10
①	①	②	④	①	③	④	②	①	②
11	12	13	14	15	16	17	18	19	20
④	②	②	④	④	③	①	②	②	②
21	22	23	24	25	26	27	28	29	30
②	④	④	④	①	①	④	③	③	③
31	32	33	34	35	36	37	38	39	40
③	②	②	①	③	②	①	①	③	④
41	42	43	44	45	46	47	48	49	50
④	②	①	③	②	③	③	①	①	②
51	52	53	54	55	56	57	58	59	60
③	②	③	①	②	②	③	②	①	④
61	62	63	64	65	66	67	68	69	70
③	④	④	②	②	②	②	④	②	④
71	72	73	74	75	76	77	78	79	80
①	④	④	②	④	①	①	②	③	②