

1과목 : 기계가공법 및 안전관리

- 소성 가공에서 바우싱거 효과(Bauschinger effect)란 무엇인가?
 - 금속 재료가 먼저 받은 것과 반대 방향의 변형에 대하여는 탄성 한도나 항복점이 저하되는 현상이다.
 - 금속 재료에서 한번 어떤 방향으로 소성 변형을 받으면 같은 방향으로 소성 변형을 일으키는데 대하여 저항력이 증대하여 간다는 현상이다.
 - 시간과 더불어 변율이 커져가는 현상이다.
 - 외력을 제거한 후 시간의 경과에 따라 잔류 변형이 감소하는 현상이다.
- 사인바(Sine bar)에서 정반면으로 부터 블록게이지의 높이를 각각 알고 있을 때, 각도 측정을 위해 필요한 것은?
 - 양 롤러의 중심거리
 - 바아의 폭
 - 바아의 길이
 - 롤러의 크기
- KCN 또는 NaCN와 관련이 있는 표면 처리법인 것은?
 - 침탄법
 - 질화법
 - 화염경화법
 - 청화법
- 지그(jig)의 종류 중 쉽게 조작이 가능한 잠금 캠을 이용하여 장착과 장탈을 쉽게할 수 있도록 한 구조이며 클램핑력이 약하여 소형공작물 가공에 적합한 구조의 지그인 것은?
 - 분할지그(indexing jig)
 - 리프지그(leaf jig)
 - 박스지그(box jig)
 - 채널지그(channel jig)
- 냉접(冷接)에 관하여 틀린 설명은?
 - 가압용접의 일종이다.
 - 상온(常溫)압접이라고도 한다.
 - 주로 비철금속에 적용되나 서로 다른 금속끼리는 곤란하다.
 - 전자통신기기의 부품결합에 적합하다.
- 압출 가공의 종류에 해당되지 않는 것은?
 - 복식 압출
 - 직접 압출
 - 간접 압출
 - 충격 압출
- 금속재료 표면에 고속으로 강철 불을 분사시켜 표면은 소성 변형하여 경화시키는 가공법은?
 - 금속 침투법
 - 숫 피닝
 - 샌드 피닝
 - 고주파 경화법
- 연속유동형 칩을 얻고자 할 때, 틀린 조건은?
 - 연성재료를 얇고 작은 칩으로 고속 절삭한다.
 - 큰경사각과 날카로운 절인으로 인성온도를 최적 온도로 유지한다.
 - 공구면을 매끈하게 연마하여 마찰력을 작게한다.
 - 연성재료를 두껍고 큰 칩으로 저속 절삭한다.
- 가공물을 양극으로 하고 불용해성인 납, 구리를 음극으로 하여 전해액 속에 넣으면 가공물의 표면이 전기에 의한 화학작용으로, 매끈한 면을 얻을 수 있는 방법은?
 - 전기화학가공
 - 전해연마
 - 방전가공
 - 화학연마

- 재료를 열간 또는 냉간 가공하기 위하여, 회전하는 롤러 사이를 통과시켜 예정된 두께, 폭 또는 직경으로 가공하는 소성가공법은?
 - 주조가공
 - 압연가공
 - 판금가공
 - 단조가공
- 재료를 소성 가공할 때, 냉간가공과 열간가공의 구별은 어느 온도를 기준으로 정하는가?
 - 단조온도
 - 변태온도
 - 담금질온도
 - 재결정온도
- 평면에 줄질(filing)하는 방법을 분류할 때, 그 종류에 해당되지 않는 것은?
 - 직진(直進)법
 - 후진(後進)법
 - 사진(斜進)법
 - 병진(竝進)법
- 길이 측정기 중 레버(lever)를 이용하는 것은?
 - 마이크로미터(micrometer)
 - 다이얼 게이지(dial gauge)
 - 미니미터(minimeter)
 - 옵티컬 플랫(optical flat)
- 비교측정의 특징 중 틀린 것은?
 - 치수 계산이 생략된다.
 - 자동화가 가능하다.
 - 많은 양의 높은 정도를 비교적 용이하게 측정 할 수 있다.
 - 측정범위가 넓고, 직접 제품의 치수를 읽을 수 있다.
- 미리 뚫어진 구멍을 넓히는 작업에 가장 적합한 공작기계는?
 - 드릴링 머신
 - 밀링 머신
 - 슬로팅 머신
 - 보링 머신
- 상하형이 서로 관계없는 요철을 가지고 있으며, 재료를 압축함으로써 상하면위에는 다른 모양의 각인이 되는 가공법은?
 - 코이닝(coining)
 - 엠보싱(embossing)
 - 벤딩(bending)
 - 드로잉(drawing)
- 바깥지름 80, 길이 120mm의 강재환봉을 초경바이트로 거친 절삭을 할때의 가공시간은? (단, 이송량 $f=0.3$ mm/rev, 절삭속도 $v=70$ m/min이다.)
 - 약 1.44 min
 - 약 3.45 min
 - 약 5.54 min
 - 약 7.54 min
- 절삭공구재료로 사용하는 스텔라이트의 주성분은?
 - W - C - Co - Cr - Fe
 - W - C - Cu - Fe
 - Co - Mo - C - Fe
 - Co - C - W - Cu - Fe
- 구성 인선을 감소시키는 방법 중 옳은 것은?
 - 절삭속도를 고속으로 한다.
 - 공구 상면 경사각을 작게 한다.
 - 절삭깊이를 깊게 한다.
 - 마찰저항이 큰 공구를 사용한다.

20. 라이저(Riser)의 목적과 관계가 가장 먼 것은?

- ① 주물의 흔들림을 방지한다.
- ② 수축으로 인한 쉷물의 부족을 보충한다.
- ③ 주형내의 공기 및 가스의 배출을 한다.
- ④ 주물내의 기공 수축성 편석을 방지한다.

2과목 : 기계제도 및 기초공학

21. 동차좌표에 의한 3차원 좌표변환의 행렬 표현으로서 적당하지 않은 것은?

- ① 평행이동 변환 ② 스케일링 변환
- ③ 전단 변환 ④ 재생 변환

22. 6 m/sec의 속도로 회전하는 벨트의 긴장측의 장력이 300kgf 이고, 이완측의 장력을 150 kgf라 하면 그 전달동력은 약 몇 kW인가?

- ① 12 ② 7.7
- ③ 8.8 ④ 26.5

23. DNC를 구성하기 LAN의 망 접속 형태에 의한 구분으로 부적절한 것은?

- ① Star형 ② Bus형
- ③ Bridge형 ④ Tree형

24. 4ton의 축방향 하중과 비틀림이 동시에 작용하고 있을 때 다음 중 가장 적합한 체결용 미터 보통나사 호칭은? (단, 허용 인장응력은 4.8kgf/mm² 이고, 비틀림 응력은 수직응력의 1/3 정도로 본다.)

- ① M58 ② M48
- ③ M84 ④ M64

25. 롤링 베어링에서 실링(sealing)의 주목적으로 가장 적합한 것은?

- ① 롤링 베어링에 주유를 주입하는 것을 돕는다.
- ② 롤링 베어링에 발열을 방지한다.
- ③ 롤링 베어링에서 윤활유의 유출 방지와 유해물의 침입을 방지한다.
- ④ 축에 롤링 베어링을 끼울 때 삽입을 돕는 것이다.

26. 판의 두께가 8mm, 인장강도가 45MPa인 연강판으로 만든 내경이 50mm인 원통관에 작용할 수 있는 내압의 크기는 몇 MPa인가? (단, 안전율은 4, 이음효율은 1, 부식여유는 1 이다.)

- ① 1.20 ② 3.15
- ③ 4.55 ④ 6.30

27. 판 두께가 15mm, 리벳 지름이 22mm, 피치는 50mm, 리벳의 중심에서 판끝까지 길이가 30mm의 한줄 리벳 겹치기 이음했을 때 1피치당 하중을 1500kgf으로 하면 판에 발생하는 전단응력과 리벳의 전단응력은 각각 몇 kgf/mm² 인가?

- ① 1.67, 3.95 ② 3.95, 1.67
- ③ 2.55, 4.55 ④ 4.55, 2.55

28. CAD시스템을 이용하여 미리 만들어져 있던 수작업 도면(청사진도면)을 입력시키고자 한다. 이때 코드부여 기준으로 가장 적당한 방법은?

- ① 기존에 만들어져 있던 도면 번호 부여방식을 가능한 수

용하도록 한다.

- ② 기존에 부여된 도면 번호를 무시하고, 새로이 제정하는 것이 좋다.
- ③ 설계자가 임의로 부여한다.
- ④ 제도사가 임의로 부여한다.

29. 다음 중 중앙처리장치(CPU)의 구성요소가 아닌 것은?

- ① 제어장치 ② 연산장치
- ③ 주기억장치 ④ 입력장치

30. 스프링(spring)의 강도를 나타내는 것에 스프링 상수가 있다. 하중 W kgf 일 때 변위량을 δ mm 라 하면 스프링상수 k 는?

- ① $k = \delta / W$ ② $k = \delta W$
- ③ $k = W / \delta$ ④ $k = W - \delta$

31. 볼베어링에서 베어링하중을 2배로 하면 수명은 몇 배로 되는가?

- ① 2배 ② 1/2배
- ③ 8배 ④ 1/8배

32. 다음 선삭용 ISO 인서트 규격 표시법에서 O4는 무엇을 의미하는가?

[T N M M 2 2 0 4 0 8 - 7 3]

- ① 인서트 형상 ② 여유각
- ③ 공차 ④ 인서트 두께

33. CNC 기계에서 절삭력이 과대 해지면 어떤 모터에 과열 현상이 생기는가?

- ① 이송 모터의 과열 ② 절삭유 모터의 과열
- ③ 유압 모터의 과열 ④ 컨베이어 모터의 과열

34. 2개의 장치가 서로 정보를 주고 받기 위해 한쪽에서 보낼 때 다른 한쪽이 받을수 있도록 직렬통신을 가능하게 하는 포트는?

- ① RS232C 포트 ② 병렬출력 포트
- ③ 스크린 포트 ④ 메모리 포트

35. 키에서 축의 홈이 깊게 파여 축의 강도가 약하게 되기는 하나, 키와 키홈 등이 모두 가공하기 쉽고 키가 자동적으로 축과 보스사이에 자리를 잡을 수 있어 자동차, 공작기계 등의 축에 널리 사용되며 특히 테이퍼 축에 사용하면 편리한 키이는?

- ① 원뿔 키(cone key) ② 접선 키(tangential key)
- ③ 드라이빙 키(driving key) ④ 반달 키(woddruff key)

36. 머시닝센터에서 자동공구 교환장치(ATC)에서 공구 교환 명령어는?

- ① M08 ② M30
- ③ M28 ④ M06

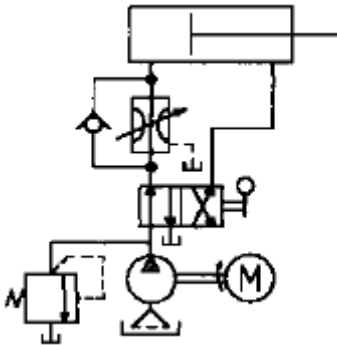
37. 길이 6m의 실축에 400kgf-m의 비틀림모멘트가 작용할 때 비틀림각이 전체길이에 대하여 약 3° 가 되기 위하여는 축의 지름을 몇 mm 정도로 하면 되는가? (단, 가로탄성계수 $G = 810000 \text{ kgf/cm}^2$ 이다.)

- ① 약 54mm ② 약 65mm

- ③ 약 76mm ④ 약 87mm
38. 그래픽에서 도형의 요소인 프리미티브(Primitive)라고 할 수 없는 것은?
 ① 다각형 기둥 ② 원뿔
 ③ 구 ④ 실린더
39. 피치원의 직경이 40 cm인 기어가 600 rpm으로 회전하고 10 PS를 전달시키려고 한다. 이 피치원 상에 작용하는 힘은 약 몇 kgf인가?
 ① 29.9 ② 44.8
 ③ 59.7 ④ 119.4
40. CNC선반의 공구기능 T0603을 바르게 설명한 것은?
 ① 6번 공구로 보정값 3을 수행
 ② 3번 공구로 보정값 6을 수행
 ③ 6번 공구로 보정번호 3번의 보정값 수행
 ④ 6번 공구로 보정번호 3번의 보정값 취소

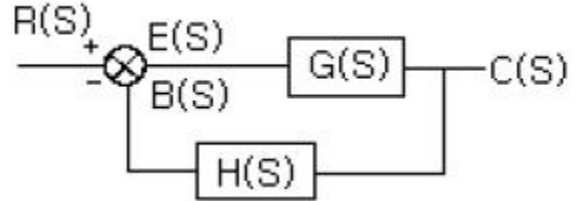
3과목 : 자동제어

41. 제 3과목: 공유압 및 자동제어 여러개의 비트로 표현된 정보를 전송하는 방식에는 직렬 전송과 병렬 전송이 있는데 다음 중 직렬 전송에 관한 설명으로 맞는 것은?
 ① 여러개의 비트를 한꺼번에 전송하는 방식이다.
 ② 정보 전달이 고속으로 이루어진다.
 ③ 주로 프린터용이나 계측 제어용으로 사용한다.
 ④ 표준 인터 페이스로는 RS-232C가 있다.
42. 보기 회로에 대한 설명으로 가장 적합한 것은?



- ① 동력손실이 적은 회로이다.
 ② 실린더의 전진속도가 후진 속도보다 빠른 회로이다.
 ③ 실린더의 후진속도가 전진 속도보다 빠른 회로이다.
 ④ 실린더의 입구측에 유량제어 밸브와 체크밸브를 붙여 실린더의 전진행정만을 제어하는 회로이다.
43. 펌프의 출력에 상관없이 조절 유량만 실린더로 유입되는 회로는?
 ① 미터인회로 ② 미터아웃회로
 ③ 블리드오프회로 ④ 정마력회로
44. 다음 중 1공학기압(at)를 표시한 것으로 맞는 것은?
 ① 735.5 mmHg ② 10.33 mAq
 ③ 1.033 kg/cm² ④ 1 atm

45. NC 공작기계의 구성부를 4개부로 나누었을 때 그 구성부가 아닌 것은?
 ① 입력부 ② 연산 제어부
 ③ 서보 제어부 ④ 스크류
46. PLC의 주변기기를 사용하여 프로그램을 메모리에 기억시키는 것을 무엇이라고 하는가?
 ① 코딩(coding) ② 디버그(debug)
 ③ 로딩(loading) ④ 메모리 할당
47. 다음과 같은 블록선도의 등가 합성 전달 함수는?



- ① $G(s) / 1 - G(s)H(s)$ ② $H(s) / 1 - G(s)H(s)$
 ③ $G(s) / 1 + G(s)H(s)$ ④ $H(s) / 1 + G(s)H(s)$
48. 윤활기의 설명 중 틀린 것은?
 ① 일반적으로 공압기기는 가변 벤투리식을 사용한다.
 ② 벤투리의 원리로 작동한다.
 ③ 공압실린더, 밸브 작동을 원활하게 한다.
 ④ 윤활유 입자선별식은 윤활유 계산이 어려운 경우 사용한다.
49. 순수한 공압으로 시퀀스 제어회로를 구성할 때 신호의 간섭을 제거할 수 있는 방법을 열거한 것 중 틀린 것은?
 ① 방향성 롤러레버 밸브의 설치
 ② 상시 닫힘형의 공압타이머 설치
 ③ 캐스케이드 회로의 사용
 ④ 순간 충격 밸브의 사용
50. 마이컴 프로그램 언어 중 I/O 명령은?
 ① MOV ② ADD
 ③ JMP ④ IN
51. 12kW의 전동기로 구동되는 유압펌프가 토출압이 70kgf/cm² 토출량은 80 l /min, 회전수가 1200 rpm일 때, 전 효율은 몇 %인가?
 ① 59 ② 68
 ③ 76 ④ 87
52. 1차 요소 $G(s) = 1 / 1 + Ts$ 인 제어계의 절점 주파수에서의 이득[dB]으로 맞는 것은?
 ① -3 ② -4
 ③ -5 ④ -6
53. 액추에이터(Actuator)의 속도를 조절하는 밸브는?
 ① 감압 밸브 ② 유량제어 밸브
 ③ 방향제어 밸브 ④ 압력제어 밸브
54. 다음 중에서 서보 모터의 특성을 잘못 설명한 것은?

- ① 속도 응답성이 커야 한다.
- ② 제어성이 좋아야한다.
- ③ 빈번한 시동 및 정지 운전이 연속적으로 이루어지더라도 기계적 강도가 커야 한다.
- ④ 관성이 크고, 전기적 또는 기계적 시상수가 커야한다

55. 다음 중 온도가 일정 할 때 절대 압력과 체적과의 관계는?

- ① 공기의 체적은 절대 압력에 비례한다
- ② 공기의 체적은 절대 압력에 반비례한다
- ③ 공기의 체적은 절대 압력의 제곱에 비례한다
- ④ 공기의 체적은 절대 압력의 제곱에 반비례한다

56. 공작기계의 수치제어 형식 중 공구가 운동할 때 경로, 속도 및 위치를 동시에 제어하는 방법으로 선반, 밀링 등에 쓰이는 제어방식으로 공구 운동의 제어방법에 따라 구분한 제어를 무엇이라고 하는가?

- ① 위치결정제어 ② 공정제어
- ③ 윤곽제어 ④ 되먹임제어

57. PLC를 동작시키는데 필요한 고유의 프로그램을 기억하는 부분으로 사용자에게 의해 변경이 불가능한 메모리인 것은?

- ① 프로그램 메모리 ② 데이터 메모리
- ③ 제어용 메모리 ④ 확장 메모리

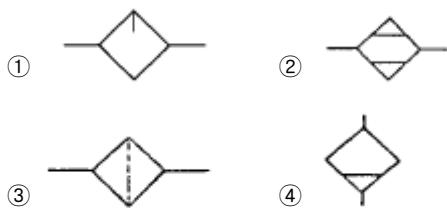
58. 공압 발생장치 중 1kg/cm² 이상의 토출 압력을 발생시키는 장치는?

- ① 송풍기 ② 팬
- ③ 압축기 ④ 공기 여과기

59. 액추에이터(actuator)의 배출저항을 적게하여 운동속도를 빠르게 하는 밸브는?

- ① 체크밸브 ② 서틀밸브
- ③ 2압밸브 ④ 급속배기밸브

60. 다음 그림에서 루브리케이터(lubricator)의 기호는?



4과목 : 메카트로닉스

61. 4개의 bit가 나타낼 수 있는 0000-1111까지 조건의 수는 모두 몇개가 되는가?

- ① 4 ② 8
- ③ 12 ④ 16

62. 차동 실린더에서 면적비 1 : 0.5(피스톤축 면적 : 피스톤 로드축 면적)이라면 피스톤의 후진운동 속도는 전진운동 속도의 몇 배인가?

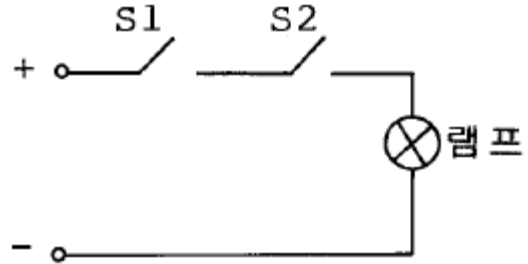
- ① 0.5 ② 1.5
- ③ 2 ④ 1

63. 시스템의 신뢰성을 높이기 위해 전원, 제어선을 결선할 때

의 잡음 대책으로 맞는 것은?

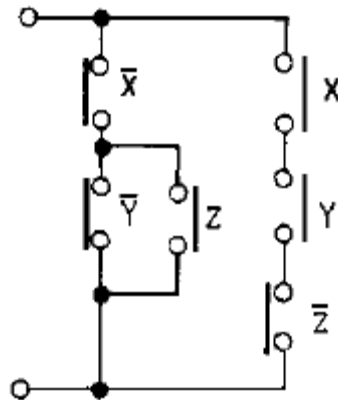
- ① 전원부 배선은 가능한 골고루 꼬여지도록 하고, 2차측 배선과 가까이 둔다.
- ② 전원부 배선은 2차측(PLC측)과 묶어서 배선한다.
- ③ PLC 전원과 동력기기는 전원계통을 분리하여 배선한다.
- ④ 부하에서 잡음이 많이 생길 때는 실드 트랜스를 사용하면 안된다.

64. 다음 그림에서 S1과 S2를 동시에 누른 경우 램프에 불이 들어오는 논리회로의 구성방법을 무엇이라고 하는가?



- ① AND ② OR
- ③ NOT ④ NOR

65. 그림과 같은 계전기 접점회로를 논리식으로 잘 나타낸 것은?



- ① $\bar{X} \cdot (\bar{Y} + Z) + (X \cdot Y \cdot \bar{Z})$
- ② $(\bar{X} + \bar{Y} \cdot Z) \cdot (X + Y + \bar{Z})$
- ③ $(\bar{X} \cdot \bar{Y} + Z) + (X + Y + \bar{Z})$
- ④ $(\bar{X} + \bar{Y} + Z) \cdot (X \cdot Y \cdot \bar{Z})$

66. 전동기 과열의 원인이 아닌 것은?

- ① 과부하 ② 결선의 착오
- ③ 단상운전 ④ 회전자 동봉의 움직임

67. 짧은 실린더 본체로 긴 행정거리를 낼 수 있는 다단 튜브형의 로드와 있어 작은 공간에 장착하여 긴 행정거리를 요하는 곳에 사용되는 실린더는?

- ① 충격 실린더 ② 케이블 실린더
- ③ 양 로드 실린더 ④ 텔레스코프 실린더

68. 다음 중 제어 점점에 점점수가 3개인 경우는?

- ① a점점 ② b점점

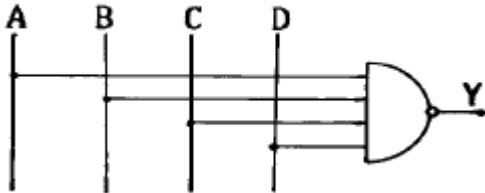
③ c접점

④ d접점

69. 다음 중 광센서로 사용되는 것만을 나열한 것은?

- ① 열 전쌍, 초전 센서
- ② 포토 커플러, 조도센서(CdS)
- ③ 포텐쇼미터, 차동 트랜스
- ④ 초음파 센서, 파이로 센서

70. 그림과 같은 회로에서 출력 Y가 1이 되기 위한 ABCD의 조건이 아닌 것은?



- ① 0111
- ② 1000
- ③ 1111
- ④ 0000

71. 미리 정해진 순서나 조건에 따라 제어의 각 단계를 차례로 진행하는 형식의 제어는?

- ① PID 제어
- ② 프로세스 제어
- ③ 폐회로 제어
- ④ 시퀀스 제어

72. $\overline{A} + A + B$ 를 간략화 한 것은?

- ① \overline{A}
- ② A
- ③ B
- ④ 1

73. 시퀀스도 작성시 기본원칙을 설명한 것 중 틀린 것은?

- ① 전원은 모두 차단한 상태로 나타낸다.
- ② 수동조작의 기기는 손을 뗀 상태로 나타낸다.
- ③ 기호의 상태는 동작 전의 상태로 표시한다.
- ④ 전원이 on 상태를 나타낸다.

74. 로터리 인덱싱 테이블을 핸들링 장치로 사용할때 적합하지 않은 경우는?

- ① 공구를 주기적으로 교체해야 할 때
- ② 가공물이 여러 공정을 거쳐야 할 때
- ③ 가공물을 한 가공 위치에서 다른 가공 위치로 이송시키며 작업 할 때
- ④ 로드나 스트립 형태의 재질이 길이 방향을 따라 여러가공 공정을 수행 할 때

75. 파장이 가시광선보다 길고 전파보다 짧은 전자파의 일종으로 자연계에 존재하는 모든 물질은 그것이 가지고있는 온도에 따라서 이것을 방출하는데, 이것을 검출하여 이것으로부터 온도를 구하는 비접촉식 센서로서 가전제품의 리모콘 등에 사용되는 센서는?

- ① 적외선센서
- ② 자외선센서
- ③ 자기센서
- ④ 초음파센서

76. 인가 직류 전압을 변화시켜서 전동기의 회전수를 800rpm으로 하고자 한다. 이 경우 회전수는 다음 중 어느 용어에 해당하는가?

① 목표값

② 조작량

③ 제어량

④ 제어 대상

77. 제어 시퀀스를 구성할 때 오동작을 예방하는 방법이 아닌것은?

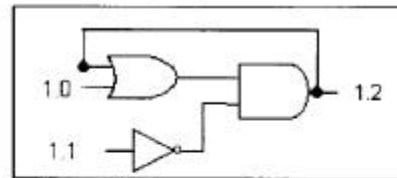
- ① 신호의 지연을 방지하기 위해 배관을 가능한 길게한다.
- ② 가속력이 큰 경우에는 완충장치를 달아 작동력을 흡수토록 한다.
- ③ 먼지와 이물질이 많은 경우에는 자체 정화 커버를 사용한다.
- ④ 큰 부하나 횡방향의 부하를 받는 경우 적절한 마운팅 형태를 선택한다.

78. 논리식 $S = (A+B) \cdot (A+C)$ 에서 간략화하여 논리도를 작성할 때 최소 Gate수는?

- ① 1개
- ② 2개
- ③ 3개
- ④ 4개

79. 다음 논리회로를 보고 PLC 프로그램을 차례로 완성하면()에 알맞은 입·출력의 점점번호는? (입력은 STR, 출력은 OUT)

< 논리 회로 >



Step	OP.	add.
00	STR-NOT	()
01	STR	()
02	OR	()
03	AND-STR	
04	OUT	1.2

- ① 1.0 - 1.1 - 1.2
- ② 1.2 - 1.0 - 1.1
- ③ 1.1 - 1.0 - 1.2
- ④ 1.0 - 1.2 - 1.1

80. 다음 함수 $f(t) = \sin \omega t$ 를 라플라스 변환하면?

- ① $\omega / (s^2 + \omega^2)$
- ② $s / (s^2 + \omega^2)$
- ③ $\omega / (s^2 - \omega^2)$
- ④ $s / (s^2 - \omega^2)$

전자문제집 CBT PC 버전 : www.comcbt.com
 전자문제집 CBT 모바일 버전 : m.comcbt.com
 기출문제 및 해설집 다운로드 : www.comcbt.com/xs

전자문제집 CBT란?

종이 문제집이 아닌 인터넷으로 문제를 풀고 자동으로 채점하며
 모의고사, 오답 노트, 해설까지 제공하는 무료 기출문제 학습 프
 로그램으로 실제 시험에서 사용하는 OMR 형식의 CBT를 제공합
 니다.

PC 버전 및 모바일 버전 완벽 연동
 교사용/학생용 관리기능도 제공합니다.

오답 및 오탈자가 수정된 최신 자료와 해설은 전자문제집 CBT
 에서 확인하세요.

1	2	3	4	5	6	7	8	9	10
①	①	④	②	③	①	②	④	②	②
11	12	13	14	15	16	17	18	19	20
④	②	③	④	④	①	①	①	①	①
21	22	23	24	25	26	27	28	29	30
④	③	③	②	③	②	①	①	④	③
31	32	33	34	35	36	37	38	39	40
④	④	①	①	④	④	④	①	③	③
41	42	43	44	45	46	47	48	49	50
④	④	①	①	④	③	③	④	②	④
51	52	53	54	55	56	57	58	59	60
③	①	②	④	②	③	③	③	④	①
61	62	63	64	65	66	67	68	69	70
④	③	③	①	①	②	④	③	②	③
71	72	73	74	75	76	77	78	79	80
④	④	④	①	①	③	①	②	③	①