

1과목 : 용접야금 및 용접설비제도

1. 용접후열처리의 목적이 아닌 것은?

- ① 용접 잔류응력 제거
- ② 용접 열영향부 조직개선
- ③ 응력부식 균열방지
- ④ 아크열량 부족보충

2. 2종이상의 금속원자가 간단한 원자비로 결합되어 본래의 물질과는 전혀 다른 결정격자를 형성할 때 이것을 무엇이라고 하는가?

- ① 동소변태                      ② 금속간 화합물
- ③ 고용체                        ④ 편석

3. 다음 중 적열취성을 일으키는 유화물 편석을 제거하기 위한 열처리는?

- ① 재결정 풀림                  ② 확산 풀림
- ③ 구상화 풀림                  ④ 항온 풀림

4. 냉간 가공한 강을 저온으로 뜨임하면 질소의 영향으로 경화가 되는 경우를 무엇이라 하는가?

- ① 질량효과                      ② 저온경화
- ③ 자기확산                      ④ 변형시효

5. 탄소강의 A2, A3 변태점이 모두 옳게 표시된 것은?

- ① A2=723℃, A3=1400℃
- ② A2=768℃, A3=910℃
- ③ A2=723℃, A3=910℃
- ④ A2=910℃, A3=1400℃

6. 저탄소강 용접금속의 조직에 대한 설명으로 맞는 것은?

- ① 용접 후 재가열하면 여러 가지 탄화물 또는 α상이 석출하여 용접성질을 저하시킨다.
- ② 용접금속의 조직은 대부분 페라이트이고 다층의 용접의 경우는 미세 페라이트이다.
- ③ 용접부가 급냉되는 경우는 레테뷰라이트가 생성한 백선조직이 된다.
- ④ 용접부가 급냉되는 경우는 세멘타이트 조직이 생성된다.

7. 피복 아크 용접시 용융 금속 중에 침투한 산화물을 제거하는 탈산제로 쓰이지 않는 것은?

- ① 망간철                        ② 규소철
- ③ 산화철                        ④ 티탄철

8. 용접 제품의 열처리 선택조건과 가장 관련이 적은 것은?

- ① 용접부의 치수                  ② 용접부의 모양
- ③ 용접부의 재질                  ④ 가공경화

9. 응력 제거 풀림의 효과를 나타낸 것 중 틀린 것은?

- ① 용접 잔류응력의 제거
- ② 치수 비틀림 방지
- ③ 충격 저항 증대
- ④ 응력부식에 대한 저항력 감소


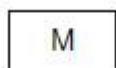
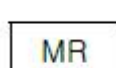

10. 순철은 상온에서 어떤 조직을 갖는가?

- ① γ-Fe의 오스테나이트                  ② α-Fe의 페라이트
- ③ α-Fe의 펄라이트                      ④ γ-Fe의 마텐자이트

11. 한국산업규격에서 냉간압연 강판 및 강대 종류의 기호 중 “드로잉용”을 나타낸 것은?

- ① SPCC                                  ② SPCD
- ③ SPCE                                  ④ SPCF

12. 용접부 및 용접부 표면의 형상 보조기호 중 영구적인 이면 판재를 사용할 때 기호는?

- ① 
- ② 
- ③ 
- ④ 

13. 선의 종류에 따른 용도에 의한 명칭으로 틀린 것은?

- ① 굵은 실선 - 외형선
- ② 가는 실선 - 치수선
- ③ 가는 1점 쇄선 - 기준선
- ④ 가는 파선 - 치수보조선

14. 일반적으로 사용되는 용접부의 비파괴 시험의 기본기호를 나타낸 것으로 잘못 표기한 것은?



- ① UT : 초음파 시험                      ② PT : 와류 탐상 시험
- ③ RT : 방사선 투과시험                  ④ VT : 육안 시험

15. 다음의 용접 보조 기호에 대한 명칭으로 옳은 것은?

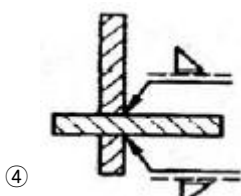
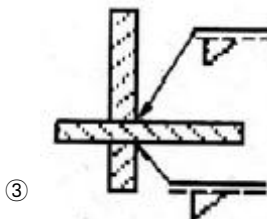
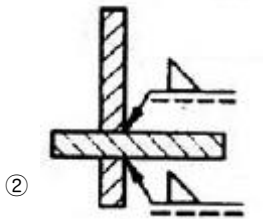
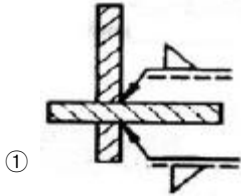
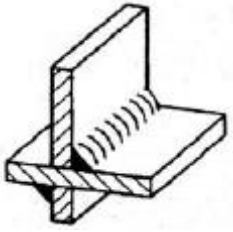


- ① 볼록 필릿 용접
- ② 오목 필릿 용접
- ③ 필릿 용접 끝단부를 매끄럽게 다듬질
- ④ 한쪽면 V형 맞대기 용접 평면 다듬질

16. 다음 용접기호 설명 중 틀린 것은?

- ① v는 V형 맞대기 용접을 의미한다.
- ②  는 필릿 용접을 의미한다.
- ③ ○는 점 용접을 의미한다.
- ④  는 플러그 용접을 의미한다.

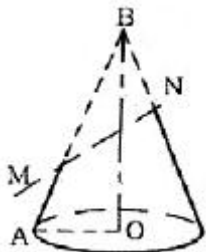
17. 다음 그림은 용접 실제 모양을 표시한 것이다. 기호 표시로 올바른 것은?



18. 다음 중 치수 보조기호의 설명으로 옳은 것은?

- ① Sφ - 원통의 지름                      ② C - 45°의 모따기  
③ R - 구의 지름                          ④ □ - 직사각형의 변

19. 다음 그림과 같은 원뿔을 단면 M-N 으로 경사지게 잘랐을 때 원뿔에 나타난 단면 형태는?



- ① 원    ② 타원  
③ 포물선                                      ④ 쌍곡선

20. 다음 중 “복사도를 재단할 때의 편의를 위해서 원도(原圖)에 설정하는 표시”를 뜻하는 용어는?

- ① 중심마크                                  ② 비교눈금

③ 재단마크

④ 대조번호

2과목 : 용접구조설계

21. 용접 잔류응력의 완화법인 응력제거 풀림에서 적정온도는  $625 \pm 25^\circ\text{C}$ (탄소강)를 유지한다. 이 때 유지시간은 판 두께 25mm에 대하여 약 몇 시간이 적당한가?

- ① 30분    ② 1시간  
③ 2시간 30분                                  ④ 3시간

22. 탄소함유량이 약 0.25%인 탄소강을 용접할 때 예열온도는 약 몇  $^\circ\text{C}$  정도가 적당한가?

- ① 90~150 $^\circ\text{C}$                                   ② 150~260 $^\circ\text{C}$   
③ 260~420 $^\circ\text{C}$                                   ④ 420~550 $^\circ\text{C}$

23. 용접성 시험 중 용접부 연성시험에 해당하는 것은?

- ① 로버트슨 시험                                  ② 카안 인열 시험  
③ 킨젤 시험                                      ④ 슈나트 시험

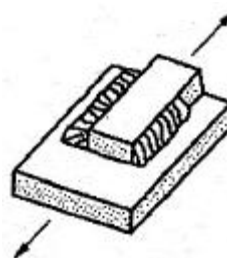
24. 용접이음의 충격강도에서 취성파괴의 일반적인 특징이 아닌 것은?

- ① 항복점 이하의 평균응력에서도 발생한다.  
② 온도가 낮을수록 발생하기 쉽다.  
③ 파괴의 기점은 각종 용접결함, 가스절단부 등에서 발생된 예가 많다.  
④ 거시적 파면상황은 판 표면에 거의 수평이고 평탄하게 연성이 큰 상태에서 파괴된다.

25. 용적 40리터의 아세틸린 용기의 고압력계에서 60기압이 나타났다면, 가변압식 300번 팁으로 약 몇 시간을 용접할 수 있는가?

- ① 4.5시간    ② 8시간  
③ 10시간    ④ 20시간

26. 그림과 같은 용접 이음의 종류는?



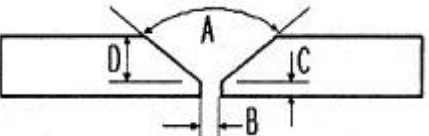
- ① 전면 필릿 용접                                  ② 경사 필릿 용접  
③ 양쪽 덮개판 용접                                  ④ 측면 필릿 용접

27. 용접이음의 부식 중 용접 잔류응력 등 인장응력이 걸리거나 특정의 부식 환경으로 될 때 발생하는 부식은?

- ① 입계부식    ② 틈새부식  
③ 접촉부식    ④ 응력부식

28. 용접구조의 설계상 주의사항에 대한 설명 중 틀린 것은?

- ① 용접이음의 집중, 접근 및 교차를 피한다.  
② 용접치수는 강도상 필요한 치수 이상으로 하지 않는다.  
③ 두꺼운 판을 용접할 경우에는 용입이 얇은 용접법을 이용하여 층수를 늘린다.

- ④ 판면에 직각방향으로 인장하중이 작용할 경우에는 판의 이방성에 주의한다.
29. 방사선 투과 검사에 대한 설명 중 틀린 것은?  
 ① 내부결함 검출이 용이하다.  
 ② 라미네이션 검출도 쉽게 할 수 있다.  
 ③ 미세한 표면 균열은 검출되지 않는다.  
 ④ 현상이나 필름을 판독해야 한다.
30. 용접부를 연속적으로 타격하여 표면층에 소성 변형을 주어 잔류 응력을 감소시키는 방법은?  
 ① 저온 응력 완화법                      ② 피닝법  
 ③ 변형 교정법                          ④ 응력 제거 어닐링
31. 서브머지드 아크용접에서 용접선의 전후에 약 150mm × 150mm × 판 두께 크기의 엔드 탭을 붙여 용접 비드를 이음끝에서 약 100mm 정도 연장시켜 용접완료 후 절단하는 경우가 있다. 그 이유로 가장 적당한 것은?  
 ① 용접 후 모재의 급냉을 방지하기 위하여  
 ② 루트간격이 너무 클 때, 용락을 방지하기 위하여  
 ③ 용접시점 및 종점에서 일어나는 결함을 방지하기 위하여  
 ④ 용접선의 길이가 너무 짧을 때, 용접 시공하기가 어려우므로 원활한 용접을 하기 위하여
32. 용착금속의 인장강도가 40kgf/mm<sup>2</sup>이고, 안전율이 5라면 용접이음의 허용응력은 얼마인가?  
 ① 8kgf/mm<sup>2</sup>                      ② 20kgf/mm<sup>2</sup>  
 ③ 40kgf/mm<sup>2</sup>                      ④ 200kgf/mm<sup>2</sup>
33. 구조물 용접에서 용접선이 만나는 곳 또는 교차하는 곳에 응력 집중을 방지하기 위해 만들어 주는 부채꼴 오목부를 무엇이라 하는가?  
 ① 스칼롭                      ② 포지셔너  
 ③ 매니플레이터                      ④ 원뿔
34. 잔류응력이 있는 제품에 하중을 주고 용접부에 약간의 소성 변형을 일으킨 다음 하중을 제거하는 잔류 응력 제거법은?  
 ① 저온 응력 완화법                      ② 기계적 응력 완화법  
 ③ 고온 응력 완화법                      ④ 피닝법
35. 용접구조물의 재료 절약 설계 요령으로 틀린 것은?  
 ① 가능한 표준 규격의 재료를 이용한다.  
 ② 재료는 쉽게 구입할 수 있는 것으로 한다.  
 ③ 고장이 났을 경우 수리할 때의 편의도 고려한다.  
 ④ 용접할 조각의 수를 가능한 많게 한다.
36. 그림과 같은 맞대기 용접 이음 홈의 각부 명칭을 잘못 설명한 것은?
- 
- ① A - 홈 각도                      ② B - 루트간격  
 ③ C - 루트면                      ④ D - 홈 길이
37. 필릿 용접부의 내력(단위 길이당 허용력)  $f = 1700\text{kgf/cm}$ 의

작용을 견디어 낼 수 있는 용접 치수(다리 길이)  $h$ 는 약 몇 mm 인가? (단, 용접부의 허용응력  $\sigma = 1000\text{ kgf/cm}^2$  이다.)

- ① 12                      ② 17  
 ③ 21                      ④ 25
38. 용접금속의 균열에서 저온균열의 루트크랙은 실험에 의하면 약 몇 °C 이하의 저온에서 일어나는가?  
 ① 200°C 이하                      ② 400°C 이하  
 ③ 600°C 이하                      ④ 800°C 이하
39. 용접 제품의 설계자가 알아야 하는 용접 작업 공정의 제반 사항 중 맞지 않는 것은?  
 ① 용접기 및 케이블의 용량은 충분하게 준비한다.  
 ② 홈 용접에서 용접 품질상 첫패스는 덧댐판 없이 용접한다.  
 ③ 가능한 높은 전류를 사용하여 짧은 시간에 용착량을 많게 용접한다.  
 ④ 용접 진행은 부재의 자유단으로 향하게 한다.
40. 용접후열처리 중 응력제거 열처리의 목적과 가장 관계가 없는 것은?  
 ① 응력부식균열 저항성의 증가  
 ② 용접변형을 방지  
 ③ 용접열영향부의 연화  
 ④ 용접부의 잔류응력 완화

### 3과목 : 용접일반 및 안전관리

41. 구리 및 구리합금의 가스용접용 용제에 사용되는 물질은?  
 ① 중탄산소다                      ② 염화칼슘  
 ③ 붕사                      ④ 황산칼륨
42. 가스용접에서 전진법에 비교한 후진법의 설명으로 틀린 것은?  
 ① 열이용률이 좋다.                      ② 용접속도가 빠르다.  
 ③ 용접변형이 크다.                      ④ 후판에 적합하다.
43. 피복 아크 용접에서 아크 길이가 긴 경우 발생하는 용접결함에 해당되지 않는 것은?  
 ① 선상조직                      ② 스파터  
 ③ 기공                      ④ 언더컷
44. 테르밋 용접에서 테르밋제란 무엇과 무엇의 혼합물인가?  
 ① 탄소와 붕사 분말  
 ② 탄소와 규소의 분말  
 ③ 알루미늄과 산화철의 분말  
 ④ 알루미늄과 납의 분말
45. 피복 아크 용접시 안전홀더를 사용하는 이유로 맞는 것은?  
 ① 자외선과 적외선 차단                      ② 유해가스 중독 방지  
 ③ 고무장갑 대용                      ④ 용접작업 중 전격예방
46. MIG용접시 사용되는 전원은 직류의 무슨 특성을 사용하는가?  
 ① 수하 특성                      ② 통전류 특성

- ③ 정전압 특성      ④ 정극성 특성

47. 피복 아크 용접봉에서 피복제의 편심률은 몇 % 이내이어야 하는가?

- ① 3%      ② 6%  
③ 9%      ④ 12%

48. 피복 아크 용접에서 피복제의 주된 역할 중 틀린 것은?

- ① 전기 절연작용을 한다.  
② 탈산 정련작용을 한다.  
③ 아크를 안정시킨다.  
④ 용착금속의 급냉을 돕는다.

49. 아크 용접기의 사용률을 구하는 식으로 옳은 것은?

①

$$\text{사용률}(\%) = \frac{\text{아크시간} + \text{휴식시간}}{\text{아크시간}} \times 100$$

②

$$\text{사용률}(\%) = \frac{\text{아크시간}}{\text{아크시간} + \text{휴식시간}} \times 100$$

③  $\text{사용률}(\%) = \frac{\text{휴식시간}}{\text{아크시간}} \times 100$

④  $\text{사용률}(\%) = \frac{\text{아크시간}}{\text{휴식시간}} \times 100$

50. 연강용 피복 아크 용접봉의 피복제 계통에 속하지 않는 것은?

- ① 철분산화철계      ② 철분저수소계  
③ 저셀룰로오스계      ④ 저수소계

51. 탄산가스 아크 용접의 특징에 대한 설명으로 틀린 것은?

- ① 전류밀도가 높아 용입이 깊고 용접속도를 빠르게 할 수 있다.  
② 적용 재질이 철 계통으로 한정되어 있다.  
③ 가시 아크이므로 시공이 편리하다.  
④ 일반적인 바람의 영향을 받지 않으므로 방풍장치가 필요 없다.

52. 연납에 대한 설명 중 틀린 것은?

- ① 연납은 인장강도 및 경도가 낮고 용융점이 낮으므로 납땜 작업이 쉽다.  
② 연납의 흡착작용은 주로 아연의 함량에 의존되며 아연 100%의 것이 가장 좋다.  
③ 대표적인 것은 주석 40%, 납 60%의 합금이다.  
④ 전기적인 접합이나 기밀, 수밀을 필요로 하는 장소에 사용된다.

53. 용접용 케이블 이음에서 케이블을 홀더 끝이나, 용접기 단자에 연결하는 데 쓰이는 부품의 명칭은?

- ① 케이블 티그      ② 케이블 태그  
③ 케이블 러그      ④ 케이블 래그

54. 직류와 교류 아크 용접기를 비교한 것으로 틀린 것은?

- ① 아크 안정 : 직류용접기가 교류용접기 보다 우수하다.  
② 전극의 위험 : 직류용접기가 교류용접기 보다 많다.  
③ 구조 : 직류용접기가 교류용접기 보다 복잡하다.  
④ 역률 : 직류용접기가 교류용접기 보다 매우 양호하다.

55. 연강용 피복 아크 용접봉 종류 중 특수계에 해당하는 용접봉은?

- ① E4301      ② E4311  
③ E4324      ④ E4340

56. TIG, MIG, 탄산가스 아크 용접 시 사용하는 차광렌즈 번호로 가장 적당한 것은?

- ① 12 ~ 13      ② 8 ~ 9  
③ 6 ~ 7      ④ 4 ~ 5

57. 점용접의 3대 요소에 해당되는 것은?

- ① 가압력, 통전시간, 전류의 세기  
② 가압력, 통전시간, 전압의 세기  
③ 가압력, 냉각수량, 전류의 세기  
④ 가압력, 냉각수량, 전압의 세기

58. 아크용접용 로봇에서 용접작업에 필요한 정보를 사람이 로봇에게 기억(입력)시키는 장치는?

- ① 전원장치      ② 조작장치  
③ 교시장치      ④ 머니플래이터

59. TIG 용접기에서 직류 역극성을 사용하였을 경우 용접 비드의 형상으로 맞는 것은?

- ① 비드 폭이 넓고 용입이 깊다.  
② 비드 폭이 넓고 용입이 얇다.  
③ 비드 폭이 좁고 용입이 깊다.  
④ 비드 폭이 좁고 용입이 얇다.

60. 직류 아크 용접기에서 발전형과 비교한 정류기형의 특징 설명으로 틀린 것은?

- ① 소음이 적다.  
② 취급이 간편하고 가격이 저렴하다.  
③ 교류를 정류하므로 완전한 직류를 얻는다.  
④ 보수 점검이 간단하다.

전자문제집 CBT PC 버전 : [www.comcbt.com](http://www.comcbt.com)  
 전자문제집 CBT 모바일 버전 : [m.comcbt.com](http://m.comcbt.com)  
 기출문제 및 해설집 다운로드 : [www.comcbt.com/x](http://www.comcbt.com/x)

전자문제집 CBT란?

종이 문제집이 아닌 인터넷으로 문제를 풀고 자동으로 채점하며  
 모의고사, 오답 노트, 해설까지 제공하는 무료 기출문제 학습 프  
 로그램으로 실제 시험에서 사용하는 OMR 형식의 CBT를 제공합  
 니다.

PC 버전 및 모바일 버전 완벽 연동  
 교사용/학생용 관리기능도 제공합니다.

오답 및 오탈자가 수정된 최신 자료와 해설은 전자문제집 CBT  
 에서 확인하세요.

|    |    |    |    |    |    |    |    |    |    |
|----|----|----|----|----|----|----|----|----|----|
| 1  | 2  | 3  | 4  | 5  | 6  | 7  | 8  | 9  | 10 |
| ④  | ②  | ②  | ④  | ②  | ②  | ③  | ④  | ④  | ②  |
| 11 | 12 | 13 | 14 | 15 | 16 | 17 | 18 | 19 | 20 |
| ②  | ②  | ④  | ②  | ②  | ④  | ①  | ②  | ②  | ③  |
| 21 | 22 | 23 | 24 | 25 | 26 | 27 | 28 | 29 | 30 |
| ②  | ①  | ③  | ④  | ②  | ④  | ④  | ③  | ②  | ②  |
| 31 | 32 | 33 | 34 | 35 | 36 | 37 | 38 | 39 | 40 |
| ③  | ①  | ①  | ②  | ④  | ④  | ④  | ①  | ②  | ②  |
| 41 | 42 | 43 | 44 | 45 | 46 | 47 | 48 | 49 | 50 |
| ③  | ③  | ①  | ③  | ④  | ③  | ①  | ④  | ②  | ③  |
| 51 | 52 | 53 | 54 | 55 | 56 | 57 | 58 | 59 | 60 |
| ④  | ②  | ③  | ②  | ④  | ①  | ①  | ③  | ②  | ③  |