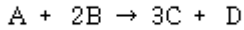


1과목 : 일반화학

1. 다음 고체 물질 중 결정의 종류가 분자결정 인 것은?

- ① 다이아몬드 ② 드라이아이스
③ 염화나트륨 ④ 황산구리

2. 다음과 같은 반응에서 A와 B의 농도를 각각 2배로 해주면 반응속도는 몇배가 되겠는가?



- ① 2배 ② 4배
③ 6배 ④ 8배

3. 방위양자수(l)는 원자궤도함수의 모양이 결정된다. 방위 양자수가 0,1,2,3 순서로 구성될 때 문자기호가 올바른 것은?

- ① s, p, d, f ② j, f, p, s
③ d, s, p, g ④ p, e, s, f

4. 0℃, 1기압에서 수소(H_2) 1.12L속에 포함된 수소 원자의 수는?

- ① 6.02×10^{23} 개 ② 3.01×10^{22} 개
③ 2.05×10^{23} 개 ④ 1.04×10^{22} 개

5. 물 200g에 아세톤 2.9g을 녹인 용액의 빙점은 얼마인가? (단, 아세톤의 분자량 58, 물의 몰내림은 1.86임)

- ① -0.465℃ ② -0.932℃
③ -1.871℃ ④ -2.453℃

6. 아래 (①)과 (②)에 알맞는 용어는 무엇인가?

“과산화수소는 자신이 분해하며 발생기 산소를 발생시켜 강한 산화작용을 한다. 미는 (①) 중 미를 보라색으로 변화시키는 것으로 확인되며, 이 과산화수소는 (②)등에 황산을 작용시켜 얻는다.”

- ① ①리트머스, ②염소산칼륨
② ①요오드화칼륨 녹말, ②염소산칼륨
③ ①리트머스, ②과산화바륨
④ ①요오드화칼륨녹말, ②과산화바륨

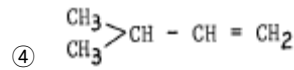
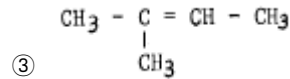
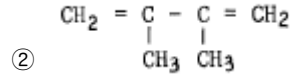
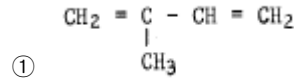
7. 구리와 묽은 질산을 반응시키면 주로 발생하는 기체는?

- ① 일산화질소 ② 이산화탄소
③ 이산화수소 ④ 이황화산소

8. 다음은 벤젠 구조에 대한 설명이다. 틀린 것은?

- ① 탄소-탄소 결합의 길이는 모두 같다.
② 같은 탄소수를 가진 포화탄화수소 보다 8개의 수소가 부족하다.
③ 한 탄소원자가 다른 두 탄소원자와 형성하는 결합각은 120° 이다.
④ 6개의 탄소-탄소 결합중 2개는 단일 결합이고 나머지 4개는 이중결합이다.

9. 2,3 - Dimethyl-1,3 - Butadiene 의 화학식(구조식)으로 올바른 것은?



10. 원자번호가 14(Si)인 원소의 전자 배치가 올바른 것은?

- ① $1S^2, 2S^2, 2P^6, 3S^2, 3P^2$
② $1S^2, 2S^2, 2P^6, 3S^1, 3P^2$
③ $1S^2, 2S^2, 2P^5, 3S^1, 3P^2$
④ $1S^2, 2S^2, 2P^6, 3S^2$

11. 수소 2.24L가 염소와 완전히 반응했다면 표준 상태에서 생성한 염화수소의 부피는 몇 L가 되는가?

- ① 2.24 ② 4.48
③ 6.72 ④ 11.2

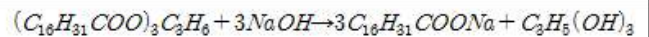
12. 0.1M HCl 10mL를 중화시키는데 필요한 0.05M NaOH 수용액의 부피는 얼마인가?

- ① 10 mL ② 20 mL
③ 30 mL ④ 40 mL

13. 다음 이온이 혼합된 용액에 암모니아를 첨가하여도 착이온을 만들지 못하는 이온은?

- ① Cu^{2+} ② Zn^{2+}
③ Al^{3+} ④ Ag^+

14. 다음 보기와 같은 유기화합물의 화학반응식을 무슨반응이라 하는가?



- ① 중화 ② 산화
③ 발효화 ④ 비누화

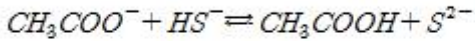
15. 다음은 산화-환원에 대한 설명이다. 잘못 된 것은?

- ① 한 원소의 산화수가 증가하였을 때 산화되었다고 말한다.
② 산화-환원 반응은 꼭 전하를 띤 물질만을 포함 할 필요는 없다.
③ 산화제는 다른 화학종을 산화시키며, 그 자신의 산화수는 증가하는 물질을 말한다.
④ 산화상태가 0 인 대부분의 비금속 원소를 선풍기로 처리하면 자동산화가 일어난다.

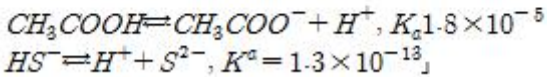
16. 아래에 제시된 조건을 참고하여 보기항의 설명이 잘못된 것

은 어느 것인가?

「아세트산 이온과 황화수소 이온은 다음과 같이 반응하며 평형을 이룬다.



또한 25℃에서 CH_3COOH 와 HS^- 의 이온화상수 (K_a)는 다음과 같고 할 때



- ① HS^- 의 짝염기는 S^{2-} 이다.
- ② CH_3COOH 가 HS^- 보다 강한 산이다.
- ③ CH_3COO^- 가 S^{2-} 보다 강한 염기이다.
- ④ 평형상태에서 CH_3COO^- 와 HS^- 의 농도가 CH_3COOH 와 S^{2-} 보다 크다.

17. 다음 물질 중 비공유 전자쌍을 가장 많이 가지고 있는 것은?

- ① CH_4 ② NH_3
- ③ H_2O ④ CO_2

18. 다음 물질 중 비전해질에 해당되는 것은?

- ① HCl ② HNO_3
- ③ C_2H_5OH ④ CH_3COOH

19. 니트로벤젠을 수소로써 환원하면 생성되는 물질은 어느 것인가?

- ① 아닐린 ② 페놀
- ③ 나프톨 ④ 크레졸

20. 용매 1kg에 녹아 있는 용질의 몰 수로 정의되는 용액의 농도는?

- ① 몰랄농도 ② 몰농도
- ③ 퍼센트농 ④ 노르말농도

2과목 : 화재예방과 소화방법

21. 산, 알칼리 소화약제의 화학반응식으로 옳은 것은?

- ① $2NaHCO_3 + H_2SO_4 \rightarrow Na_2SO_4 + 2CO_2 + 2H_2O$
- ② $2CCl_4 + CO_2 \rightarrow 2COCl_2$
- ③ $2K + 2H_2O \rightarrow 2KOH + H_2$
- ④ $2Na + 2C_2H_5OH \rightarrow 2C_2H_5ONa + H_2$

22. 소화작용에 대한 설명으로 옳지 않은 것은?

- ① 연소에 필요한 산소의 공급원을 차단하는 소화는 제거작용이다.
- ② 물에 의한 온도를 낮추는 소화는 냉각작용이다.
- ③ 연소 현상이 계속되지 않을 정도로 가연물을 제거 하는 것은 제거작용이다.
- ④ 연소에 필요한 산소의 공급원을 단절하는 것은 질식 작용이다.

23. 분말소화제로서 BC 화재에 효과가 있는 드라이케미컬의 주 성분은?

- ① 인산염류 ② 할로겐화물

- ③ 탄산수소나트륨 ④ 수산화알루미늄

24. 유류화재의 소화방법으로 가장 많이 쓰이는 방법은?

- ① 냉각 ② 주수
- ③ 공기차단 ④ 가연물제거

25. 다음 중 제2류 위험물의 화재예방 대책으로 옳은 것은?

- ① 폐기시에 소각하여서는 안된다.
- ② 가연성물질이므로 적당한 습기를 유지하여 건조하지 않게 한다.
- ③ 위험물제조소 등에는 적색바탕에 흑색문자로 "화기주의" 표시를 하여야 한다.
- ④ 제1류 위험물 및 제6류 위험물과 같은 산화제와의 혼합, 혼축을 방지한다.

26. 다음 인화성액체 위험물의 위험인자 중 그 정도가 작거나 낮을수록 위험성이 커지는 것은?

- ① 비열 ② 증기압
- ③ 연소열 ④ 연소범위(폭발범위)

27. 인화성액체 위험물 중 화재발생 시 자극성 유독가스를 발생시키는 것은?

- ① 에틸에테르 ② 이황화탄소
- ③ 콜로디온 ④ 아세트알데히드

28. 다수인이 모일 수 있는 공공의 장소(중요 문화재)의 연면적이 1,000m² 일 경우 비치하는 소화기구의 능력단위는 얼마 이상이어야 하는가?

- ① 10 단위 ② 20 단위
- ③ 30 단위 ④ 40 단위

29. 소화용수설비는 화재진압에 필요한 소화용수를 저장하는 설비로서 이에 해당하지 않는 것은?

- ① 상수도소화용수설비 ② 연결송수관설비
- ③ 소화수조 ④ 저수조

30. 홀위더 스프링클러헤드에서 가압송수장치는 1분당 몇 l 이상 방사할 수 있도록 하여야 하는가?

- ① 1분당 25l 이상 ② 1분당 50l 이상
- ③ 1분당 75l 이상 ④ 1분당 100l 이상

31. 알콜류 30,000 리터에 대한 소화설비의 소요단위는?

- ① 5 단위 ② 10 단위
- ③ 15 단위 ④ 20 단위

32. 소형수동식소화기는 소방대상물의 각 부분으로 부터 얼마이 내에 배치하여야 하는가?

- ① 10m 이내 ② 15m 이내
- ③ 20m 이내 ④ 25m 이내

33. 제3류 위험물의 화재 시 조치방법으로 옳바른 것은?

- ① 황린을 포함한 모든 물질은 절대 주수를 엄금하며 냉각 소화는 불가능하다.
- ② 포, CO_2 , 할로겐화합물 소화약제가 적합하다.
- ③ 건조분말, 마른모래, 팽창질석, 건조석회를 사용하여 질식소화한다.
- ④ K, Na 은 격렬히 연소하기 때문에 초기단계에 물에 의한


냉각소화를 실시하여야 한다.

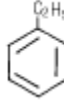
34. 할로겐화합물 소화설비의 방화대상물이 제4류 위험물인 이황화탄소(CS_2)인 경우 소화약제 저장량의 몇 배에 해당하는 양의 소화약제를 저장하여야 하는가?
 ① 2.6 ② 1.47
 ③ 1.35 ④ 1.11
35. 피난구 유도등에 대한 설명으로 옳지 않은 것은?
 ① 바닥높이 1.5m 이상의 위치에 설치한다.
 ② 유도등의 조명도는 30m 거리에서 문자와 색채를 구분할 수 있어야 한다.
 ③ 표시면의 표시는 녹색바탕에 적색글씨로 해야 한다.
 ④ 안전구획된 거실로 통하는 출입구에 설치해야 한다.
36. 폭굉 현상에 대한 설명으로 틀린 것은?
 ① 폭굉 범위는 1,000~3,500m/s 이다.
 ② 히드라진, 아조메탄, 아세틸렌 등은 고압하에서 폭굉현상을 일으킨다.
 ③ 순수한 물질에 있어서도 그 분해열이 정압일 때는 폭굉을 일으킨다.
 ④ 폭굉파의 속도가 3,000m/s 일 때 충동압력은 7~8Kg/cm² 정도이다.
37. 가연물에 대한 설명으로 옳지 않은 것은?
 ① 산소와의 친화력이 클수록 가연물이 되기 쉽다.
 ② 산소가 구성 원소로 되어 있는 유기물은 가연물이 될 수 있다.
 ③ 활성화 에너지가 작을수록 가연물이 되기 쉽다.
 ④ 산화반응이지만 발열반응인 것은 가연물이 될 수 없다.
38. 펌프의 공동현상(Cavitation)을 방지하기 위한 방법이 아닌 것은?
 ① 흡입 양정을 될 수 있는 한 작게 한다.
 ② 흡입관의 구경을 펌프의 구경보다 작게 한다.
 ③ 흡입 배관의 구부림을 적게 한다.
 ④ 흡입배관에는 스톱밸브 보다 슬루우스밸브를 사용한다.
39. 위험물의 취급을 주된 작업내용으로 하는 다음의 장소에 스프링클러설비를 설치할 경우 확보하여야 하는 1분당 방사밀도는? (단, 방사밀도의 단위는 l/m^2 임)


- 취급하는 위험물 : 제4류 제1석유류, 인화점 38℃미만
 - 살수기준면적 : 250m²


- ① 12.2 이상 ② 13.9 이상
 ③ 15.5 이상 ④ 16.3 이상
40. 표준상태에서 2kg 의 이산화탄소가 소화약제로 방사될 경우 부피(l)는?
 ① 1.018 ② 10.18
 ③ 101.8 ④ 1,018

3과목 : 위험물의 성질과 취급

41. 다음 중 소방법상 위험물 취급소에 해당 되지 않는 것은?
 ① 주유취급소 ② 옥내취급소
 ③ 이송취급소 ④ 석유판매취급소
42. 다음 구조식 중 제4류위험물 제2석유류에 해당되는 것은?
- ① 

③ 

② 

④ 
43. 위험물을 취급하는 일반취급소의 경우 지정수량이 몇배 이상인 경우에 예방규정을 정하여야 하는가? (단, 난방용인 경우 제외)
 ① 지정수량 30배 이상 ② 지정수량 100배 이상
 ③ 지정수량 200배 이상 ④ 지정수량 250배 이상
44. 다음 중 증기가 공기와의 혼합(연소범위내)하는 경우 점화원에 의해 연소하는 위험물은?
 ① 과산화수소 ② 에테르
 ③ 나트륨 ④ 산소
45. 다음 위험물중 물에 잘 녹는 것은?
 ① CH_3CHO ② $C_2H_5OC_2H_5$
 ③ P_4 ④ $C_2H_5ONO_2$
46. 트리니트로페놀(Picric acid)에 대한 설명 중 틀린 것은?
 ① 황색염료, 폭약에 쓰인다.
 ② 물에 전리하여 강한 산이 되며, 쓴맛을 가진다.
 ③ 순수한 것은 무색이지만 공업용은 황색의 침상 결정이다.
 ④ 벤젠에 진한황산에 녹이고 이것을 질산에 작용시켜 만든다.
47. 제5류 위험물의 공통성질이 아닌 것은?
 ① 자연발화의 위험성을 갖는다.
 ② 물과의 직접적인 반응 위험성은 적다.
 ③ 자기연소를 일으키며 연소속도가 빠르다.
 ④ 산화성 액체로서 가열, 충격, 마찰등으로 폭발의 위험이 있다.
48. 진한황산(농황산)의 성질과 관계가 없는 것은?
 ① 가연성 물질과 접촉하여 이것을 발화시키는 경우가 있다.
 ② 금속과 작용하여 가연성기체인 산소를 발생시켜 가연물의 연소를 돕는다.
 ③ 물과 혼합하면 심하게 발열한다.
 ④ 피부에 접촉하면 세포조직을 급속히 파괴하여 심한 화상을 일으킨다.
49. 과산화수소의 성질에 관한 설명이다. 옳지 않은 것은?
 ① 순수한 것은 점성이 있는 무색 액체이며, 다량이면 청색 빛깔을 띤다.

- ② 순도가 높은 것은 불순물, 구리, 은, 백금등의 미립자에 의하여 폭발적으로 분해한다.
 ③ 에테르에 녹지 않으며, 벤젠에는 녹는다.
 ④ 강력한 산화제이나 환원제로서 작용하는 경우도 있다.
50. 다음은 각 위험물의 저장 및 취급때의 주의 사항을 설명 한 것이다. 틀린 것은?
 ① K_2O_2 : 물속에 저장한다.
 ② H_2O_2 : 햇빛의 직사를 막고 찬곳에 저장한다.
 ③ MgO_2 : 습기의 존재하에서 산소를 발생하므로 특히 방 습에 주의를 하여야 한다.
 ④ $NaNO_3$: 조해성이 크고 흡습성이 강하므로 습도에 주의 해야 한다.
51. Nitro Cellulose의 저장 및 취급 방법으로 틀린 것은?
 ① 가열, 마찰을 피한다.
 ② 열원을 멀리하고 찬곳에 저장한다.
 ③ 알코올용액(30%)으로 습면하고 저장한다.
 ④ 일광이 잘 쏘이고 통풍이 좋은 곳에 저장한다.
52. 유기과산화물의 포장 외부에 기재해야 할 주의사항은?
 ① 물기엄금 및 충격엄금 ② 화기엄금 및 충격주의
 ③ 화기엄금 및 물기주의 ④ 취급주의 및 충격주의
53. 제1류 위험물의 취급 방법으로서 잘못된 사항은?
 ① 환기가 잘되는 찬 곳에 저장한다.
 ② 가열, 충격, 마찰 등의 요인을 피한다.
 ③ 가연물과 접촉은 피해야 하나 습기는 관계없다.
 ④ 화재 위험이 있는 장소에서 떨어진 곳에 저장한다.
54. 산화프로필렌의 특성상 저장, 취급시 주의사항 중 틀린 것은?
 ① 연소범위가 좁고, 증기압이 낮으므로 위험성이 높다.
 ② 인화점이 상온 이하이므로 용기에 수납 밀전하고 불연성 가스로 채워둔다.
 ③ 반응성이 커서 증기나 액체는 구리, 은, 마그네슘 등의 금속이나 합금과 반응하여 아세틸리드를 생성한다
 ④ 액체가 피부에 닿으면 화상을 입고 증기를 마시면 심할 때는 폐부종을 일으킨다.
55. 셀룰로이드류를 다량 저장할 경우 적절한 저장소는?
 ① 고온 다습한 곳
 ② 습도가 높고 온도가 낮은 곳
 ③ 저온(30℃이하), 저습한 곳
 ④ 습도가 높은 곳
56. 다음 위험물을 취급하다가 물과 접촉 되었을 때 위험성이 가장 작은 것은?
 ① Ca_3P_2 ② K
 ③ CaO ④ CaC_2
57. 합성수지류 중 발포시킨 것 이외의 지정수량은?
 ① 400kg ② 600kg
 ③ 1000kg ④ 3000kg

58. 제1류 위험물 중 무기과산화물 150kg, 질산염류 150kg, 중 크롬산염류 3000kg을 저장하려 한다. 지정수량의 몇 배 인가?
 ① 3.5배 ② 4.5배
 ③ 5.5배 ④ 6.5배
59. 다음은 아세톤에 대한 성질이다. 틀린 것은?
 ① 증기비중이 1보다 작다.
 ② 아세틸렌의 저장에 이용된다.
 ③ 상온에서도 인화의 위험이 매우 높다.
 ④ 요오드포름 반응을 일으킨다.
60. 규조토에 어떤 위험물을 흡수시켜 다이아마이트를 제조하는 가?
 ① 니트로셀룰로오스 ② 니트로글리세린
 ③ 질산에틸 ④ 장뇌

전자문제집 CBT PC 버전 : www.comcbt.com
 전자문제집 CBT 모바일 버전 : m.comcbt.com
 기출문제 및 해설집 다운로드 : www.comcbt.com/x

전자문제집 CBT란?
 종이 문제집이 아닌 인터넷으로 문제를 풀고 자동으로 채점하며 모의고사, 오답 노트, 해설까지 제공하는 무료 기출문제 학습 프로그램으로 실제 시험에서 사용하는 OMR 형식의 CBT를 제공합니다.
 PC 버전 및 모바일 버전 완벽 연동
 교사용/학생용 관리기능도 제공합니다.

오답 및 오탈자가 수정된 최신 자료와 해설은 전자문제집 CBT에서 확인하세요.

1	2	3	4	5	6	7	8	9	10
②	④	①	②	①	④	①	④	②	①
11	12	13	14	15	16	17	18	19	20
②	②	③	④	③	③	④	③	①	①
21	22	23	24	25	26	27	28	29	30
①	①	③	③	④	①	②	②	②	③
31	32	33	34	35	36	37	38	39	40
③	③	③	①	③	④	④	②	④	④
41	42	43	44	45	46	47	48	49	50
②	④	①	②	①	④	④	②	③	①
51	52	53	54	55	56	57	58	59	60
④	②	③	①	③	③	④	④	①	②