

## 1과목 : 자기탐상시험원리

- 자분탐상시험에서 연속법 또는 잔류법 검사방법을 선택할 때 가장 많이 고려되어야 할 사항인 것은?  
 ① 자계의 세기(magnetic field intensity)  
 ② 항자력(coercive force)  
 ③ 투자율(permeability)  
 ④ 보자성(retentivity)
- 자분탐상검사의 전류에 대한 설명이 올바른 것은?  
 ① 교류전류를 사용하는 경우는 원칙적으로 표면결함의 검출에 한한다.  
 ② 직류전류를 사용하는 경우는 원칙적으로 표면결함의 검출에 한한다.  
 ③ 교류전류를 사용하는 경우는 원칙적으로 내부결함을 검출하기 위하여 사용한다.  
 ④ 교류전류를 사용하는 경우는 원칙적으로 외부, 내부 결함을 모두 검출할 수 있다.
- 자기이력곡선에서 폭이 좁을 때의 특성을 나타낸 것중 올바른 것은?  
 ① 영구자석의 특성이 있다.  
 ② 낮은 잔류자계의 특성을 갖는다.  
 ③ 낮은 투자율의 특성을 갖는다.  
 ④ 높은 자기저항의 특성이 있다.
- 프로드법을 이용한 자분탐상검사에서 탐상유효 범위에 영향을 미치는 탐상조건중 부적합한 것은?  
 ① 프로드 간격                      ② 전류의 종류  
 ③ 반자계                              ④ 시험면과 전극의 접촉상태
- 자성체 중 자계에 끌리며 자력선과 평행으로 나열되는 물체는?  
 ① 상자성체                          ② 반자성체  
 ③ 강자성체                          ④ 비자성체
- 자분을 형성시켜 줄 수 있는 시험편의 구조적 또는 형태적 특성을 무엇이라 하는가?  
 ① 불연속                              ② 결함  
 ③ 지시                                  ④ 변형
- 시험체의 양끝에서 전류를 통전시켰을 때 시험체내에서 자화될 수 있는 길이는 어떻게 되겠는가?  
 ① 시험편의 투자율에 영향을 받는다.  
 ② 자계의 강도가 변한다.  
 ③ 자계의 강도에 영향을 받지 않는다.  
 ④ 자계가 변화할 수 있는 원인이 된다.
- 자분탐상시험에서 자화전류치로 인하여 시험체에 손상을 가장 적게 줄 수 있는 자화법은?  
 ① 원형자화                          ② 선형자화  
 ③ 극성자화                          ④ 잔류자화
- 어떤 전하(q)가 있을 때 이 전하로부터 거리(r)만큼 떨어진 곳에, 같은 크기의 전하에 작용하는 힘(F, 자계의 세기)을 나타내는 관계식은? (단, k는 비례상수임)

- ①  $F = k(q/r)^2$                       ②  $F = (q/r)^2$   
 ③  $F = k(r/q)^2$                       ④  $F = (r/q)^2$
- 자속밀도와 자계의 관계를 나타내는 식은? (단, B : 자속밀도, H : 자계의 세기,  $\mu$  : 투자율, a : 전도율,  $\rho$  : 전하밀도)  
 ①  $B = \mu \times H$                       ②  $B = \rho \times H$   
 ③  $B = (\mu + H)/\rho$                   ④  $B = a/(\mu \times H)$
- 건식법을 사용한 연속법에서 자분적용 시기는?  
 ① 자화직전                          ② 자화직후  
 ③ 자화도중                          ④ 자화전부터 자화직후까지
- 다음 중 강자성체의 투자율에 영향을 미치는 요인이 아닌 것은?  
 ① 열처리 상태                      ② 표면 상태  
 ③ 가공상태                          ④ 작용시킨 자계의 세기
- 직선의 도선에 전류를 흘렸을 때 그 주위에 생기는 자계의 모양을 설명한 법칙은?  
 ① 플레밍의 왼손법칙              ② 플레밍의 오른손법칙  
 ③ 자력선속법칙                      ④ 자기저항법칙
- 부품의 탈자 여부를 측정하는데 사용되는 기기는?  
 ① 자장계                              ② 자석  
 ③ 철분지시계                          ④ 서베이미터
- 프로드법으로 탐상할 때 프로드간격으로 알맞는 것은?  
 ① 8 ~ 15인치                      ② 3 ~ 8인치  
 ③ 2 ~ 3인치                          ④ 16 ~ 32인치
- 다음 맥류 중 교류성분이 많은 순으로 나열된 것은?  
 ① 단상반파 - 단상전파 - 삼상반파 - 삼상전파정류  
 ② 삼상전파 - 단상전파 - 삼상반파 - 단상반파정류  
 ③ 단상전파 - 단상반파 - 삼상전파 - 삼상반파정류  
 ④ 단상전파 - 삼상반파 - 단상반파 - 삼상전파정류
- 전류가 직경 20mm인 환봉에 흐르고 있다. 같은 전류가 직경 40mm인 환봉에 흐를 때 표면에서 자계의 자장 강도는 어떻게 되는가?  
 ① 감소한다.                          ② 일정하다.  
 ③ 2배로 증가한다.                  ④ 4배로 증가한다.
- 다음 중 자분탐상시험시 자분의 적용이 필요없는 탐상법은?  
 ① 형광습식자분탐상법              ② 자기기록탐상법  
 ③ 비형광건식자분탐상법              ④ 잔류자기법(잔류법)
- 자장계를 이용하여 잔류 자계를 측정할 때 자계의 유무를 알 수 있는 것은 다음 중 어느 것에 의해서인가?  
 ① 원형 자장                          ② 선형 자장  
 ③ 누설 자장                          ④ 자속밀도
- 다음 중 열중성자를 이용한 중성자투과시험을 가장 효과적으로 적용할 수 있는 것은?  
 ① 알루미늄합금의 산화피막 두께 측정  
 ② 강구조품의 내부공동 검출

- ③ 강관내부에 위치한 플라스틱 링(plastic ring)의 상태확인
- ④ 스테인레스강 용접부의 결함검출

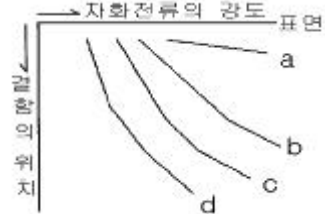
**2과목 : 자기탐상검사**

21. 강용접부를 자분탐상시험하였을 때 모재와 용접비드가 접하는 부분에 용접비드를 따라 단속적인 선형지시가 나타났다면, 이 지시에 해당되는 결함의 종류는?
- ① 용입부족                      ② 융합부족
  - ③ 터짐                          ④ 언더컷
22. 전류관통법으로 자화된 파이프의 단면에서 자계강도가 가장 센 부분은?
- ① 파이프의 양끝                ② 파이프의 바깥면
  - ③ 파이프의 내면                ④ 파이프벽의 중간
23. 자성체가 큐리온도에 도달했을 때 어떤 결과가 예상되는가?
- ① 상자성체로 변환다.
  - ② 반자성체로 변환다.
  - ③ 비자성체로 변환다.
  - ④ 자성에는 무관하고 방사성 물질로 변환다.
24. 자분탐상시험시 고려해야 할 사항 중 맞지 않는 것은?
- ① 자계 또는 자속의 방향이 시험체의 표면에 가능한한 평행이 되도록 한다.
  - ② 내부결함의 검출 또는 연속법에 의한 시험의 경우에는 교류자화한다.
  - ③ 대형시험체는 국부적으로 자화시키는 자화방법을 선택한다.
  - ④ 검출하고자 하는 결함에 가능한한 수직이 되는 방향의 자속을 시험체에 형성시킨다.
25. 비형광의 자분탐상시험에서 관찰시에는 조명을 주로 가시광선으로 하는데 가시광선 영역의 파장범위는?
- ① 300~400nm                  ② 400~700nm
  - ③ 500~800nm                  ④ 600~900nm
26. 자분탐상시험의 전류관통법에 의한 자화의 특징으로 맞는 것은?
- ① 닫힌 자기회로를 구성하므로 이음철봉이 필요로 하지 않는다.
  - ② 자계의 강도는 전류관통법의 중심으로부터의 거리에 비례한다.
  - ③ 자화전류를 직류로 사용하면 표면 아래 결함의 검출이 어렵다.
  - ④ 자화전류로 교류를 사용하면 직류의 경우보다 표피효과가 적다.
27. 다음 중 홀 효과(Hall effect)의 발생원리는?
- ① 얇은 철판의 길이방향으로 전류를 흐르게 하고 그 수직(철판의 두께)방향으로 자계를 걸면 발생한다.
  - ② 얇은 철판의 두께방향으로 전류를 흐르게 하고 그 길이방향으로 자계를 걸면 발생한다.
  - ③ 두꺼운 철판의 대각선 방향으로 전류를 흐르게 하고 그 역방향으로 자계를 걸어주면 발생한다.
  - ④ 두꺼운 철판의 대각선 방향으로 자계를 흐르게 하고 그 역방향으로 전류를 걸어주면 발생한다.

28. 사용중에 있는 시험체를 자분탐상시험하였을 때 찾아낼수 있는 결함은?

- ① Hot tear                      ② 피로균열
- ③ Burst                          ④ Shrinkage Crack

29. 그림은 적용하는 자화전류(교류, 직류, 삼상전파정류, 단상반파정류)에 따라 표면하의 결함 검출능력이 다르다는 것을 보여준다. 여기서 교류(A.C)는 어느 것인가?



- ① a                                  ② b
- ③ c                                  ④ d

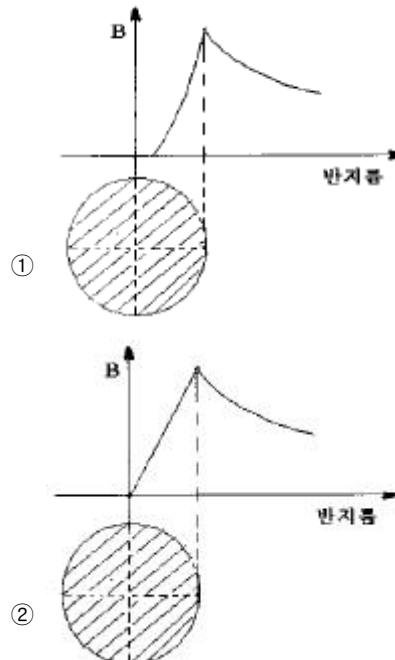
30. 휴대형 교류극간식 탐상기를 이용하여 강용접부의 자분탐상시험을 하는 경우, 적절한 탐상피치는 얼마인가?

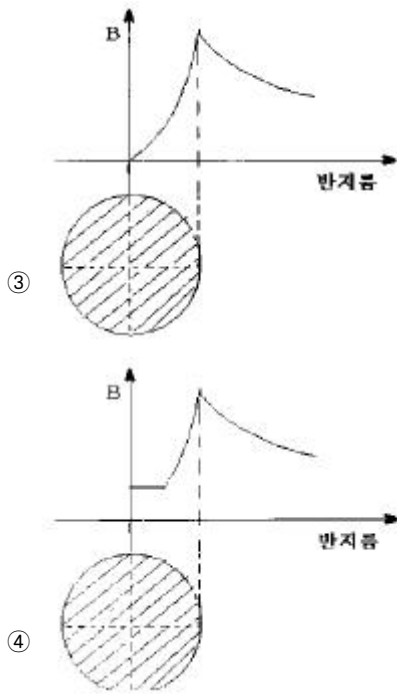
- ① 자극폭과 동일길이        ② 20~30mm
- ③ 70~100mm                  ④ 자극폭의 약 2배 길이

31. 다음의 자분탐상 검사방법 중 시험체의 손상에 대한 우려가 가장 적은 것은?

- ① 극간법                          ② 직접접촉법
- ③ 전류관통법                  ④ 프로드법

32. 그림 중에서 봉강에 교류를 사용한 축통전법을 나타낸 것은? (단, X축은 반지름의 크기, Y축은 자장의 세기임)





33. 다음중 와전류탐상 시험코일로써 표면형 코일이 사용되는 것은?

- ① 열 교환기용 배관의 보수검사
- ② 열간에 있어서의 선재의 탐상
- ③ 플라스틱의 두께측정
- ④ 항공기 엔진의 와류탐상

34. 대형구조물의 용접부위를 교류 극간법으로 자분탐상시험할 때 주의할 사항은?

- ① 반자계의 영향      ② 시험부의 두께 영향
- ③ 탈자에 주의할 것      ④ 용접선에 대한 자극 배치

35. 검사 후 표면에 묻어있는 오일, 그리스 등은 자외선등 아래에서 어떻게 보이는가?

- ① 우유빛색      ② 적색
- ③ 보라색      ④ 색이 나타나지 않음

36. 전류관통법에 의한 자화의 특징이 아닌 것은?

- ① 전류관통법에 따른 가능한 자기회로는 폐회로이므로 반자장이 없다.
- ② 시험체의 크기 및 자기특성에 따라 자화전류를 흘리도록 하여 적정한 자계의 강도에 의해 자화할 수 있다.
- ③ 자계의 강도는 전류관통봉의 중심으로 부터 거리에 반비례하지만 거리가 같으면 동일한 강도로 탐상할 수 있다.
- ④ 탈자할 때 시험체에 교류전류값을 적용한 경우, 직류 전류값으로 서서히 낮춰 0에 가깝게 해야 한다.

37. 자분탐상검사시 검출된 지시의 관찰에 관한 설명이다. 옳지 않은 것은?

- ① 자분모양은 실제 불연속의 크기보다 크게 나타날 수 있다.
- ② 자분모양의 관찰은 지시모양이 형성된 후 1~30분 이내에 수행한다.
- ③ 자분모양의 관찰시에는 형성된 지시가 관련지시인지 여부를 확인해야 한다.
- ④ 정확한 관찰을 위해서 돋보기 등의 보조기구를 사용해도

무방하다.

38. 다음 중 피로균열과 같은 미세한 표면결함 검출에 가장 효과적인 자분탐상시험 방법은?

- ① 반파 직류를 이용한 건식자분법
- ② 직류를 이용한 습식자분법
- ③ DC를 이용한 건식자분법
- ④ AC를 이용한 습식자분법

39. 다음 중 의사모양의 발생원인이 아닌 것은?

- ① 이종 금속 접합부      ② 용접부 개선면의 라미네이션
- ③ 자기펜 자극      ④ 용접부의 열영향 경계부

40. 다음 중 탈자가 필요한 경우?

- ① 처음보다 낮은 전류로 다시 자화를 해야할 때
- ② Curie Point이상에서 열처리될 때
- ③ 보자성이 낮은 연철 및 주철재료인 경우
- ④ 잔류자기가 크게 문제되지 않는 대형 구조물

### 3과목 : 자기탐상관련규격및컴퓨터활용

41. 아래 내용은 무엇에 대한 설명인가?

- 인터넷에 접속된 컴퓨터의 주소이다.
- 0~255사이의 정수 4개로 구성된다.

- ① 도메인 이름      ② DNS
- ③ LAN      ④ IP address

42. ASME Sec.V에서 규정한 형광자분탐상시 사용되는 자외선 조사등의 강도는 시험체 표면에서 최소 얼마 이상 되어야 하는가?

- ① 1000  $\mu W/cm^2$       ② 500  $\mu W/cm^2$
- ③ 300  $\mu W/cm^2$       ④ 100  $\mu W/cm^2$

43. KS D 0213에서 A형(원형) 표준시험편에서 원의 직경은?

- ①  $\phi 5mm$       ②  $\phi 10mm$
- ③  $\phi 15mm$       ④  $\phi 20mm$

44. ASME 규격에 의한 극간법(yoke법)의 설명중 틀린 것은?

- ① 표면결함 검출에 이용할 수 있다.
- ② 시험품을 전자석이나 영구자석의 두 극 사이에 둔다.
- ③ 검사 시편의 두께가 1/4인치 이상인 경우는 교류형의 yoke가 같은 lifting power를 가진 직류나 영구자석의 yoke보다 탁월하다.
- ④ 자화의 세기는 최소 lifting power를 결정하므로써 보정한다.

45. KS D 0213에 따른 표준시험편에 관한 내용중 틀린 것은?

- ① A형 표준시험편의 자분 적용은 연속법으로 한다.
- ② B형 대비시험편은 장치, 자분의 성능평가에 이용된다.
- ③ C형 표준시험편은 B형 대비시험편의 적용이 곤란한 경우 사용된다.
- ④ C형 표준시험편의 자분 적용은 연속법으로 한다.

46. KS D 0213에서 자분탐상시험의 통전 시간에 관한 내용으로

틀린 것은?

- ① 잔류법은 원칙적으로 1/4 ~ 1초로 한다.
  - ② 충격 전류의 경우에는 1/120초 이상으로 한다.
  - ③ 충격 전류의 경우 3회 이상 통전을 되풀이하는 것으로 한다.
  - ④ 연속법은 원칙적으로 1/2 ~ 1초로 한다.
47. Window 환경에서 공유된 폴더를 사용하기 위한 방법이 올바른 순서로 나열된 것은?
- ① 네트워크 환경 → 컴퓨터 아이콘 → 공유 폴더 → 암호 입력
  - ② 컴퓨터 아이콘 → 네트워크 환경 → 암호 입력 → 공유 폴더
  - ③ 네트워크 환경 → 암호 입력 → 컴퓨터 아이콘 → 공유 폴더
  - ④ 네트워크 환경 → 암호 입력 → 공유 폴더 → 컴퓨터 아이콘
48. 자화전류가 교류인 요크 장비의 리프팅 파워는 얼마 이상이어야 하는가? (단, 극간 거리는 최대로 한다.)
- ① 3.5 kg                      ② 4.5 kg
  - ③ 8.5 kg                      ④ 9.5 kg
49. KS D 0213에서 의사 모양과 이를 확인하기 위한 방법을 연결한 것 중 잘못된 것은?
- ① 표면 거칠기 지시 - 시험면을 매끄럽게 하여 재시험한다.
  - ② 자기편의 흔적 - 탈자후 재시험한다.
  - ③ 전류지시 - 전류를 작게하여 재시험한다.
  - ④ 재질 경계지시 - 연속법으로 전류를 높여 재시험한다.
50. KS D 0213에 의거 자외선조사 장치의 필터가 통과시켜야 할 근 자외선의 파장은?
- ① 160~240nm              ② 240~320nm
  - ③ 320~400nm              ④ 400~480nm
51. ASME Sec.V, Art.7의 축통전법에 의한 원형자화를 얻을 때의 자화전류 계산시 고려하여야 할 사항중 맞는 것은?
- ① 교류를 기준하여 계산한다.
  - ② 피검사체의 내경을 기준한다.
  - ③ 원형이 아닌 경우 전류 통전방향에 수직인 단면의 평균 대각선 길이를 기준하여 전류를 계산한다.
  - ④ 필요한 전류를 얻기 어려울 경우 최대전류를 사용하고, 적절성 여부를 자분자장 지시계를 이용 판단한다.
52. ASME Sec.V Art.7에 규정한 자외선조사장치의 예열시간은?
- ① 5분 이상                  ② 10분 이상
  - ③ 15분 이상                  ④ 20분 이상
53. 거리에 관계없이 자료발생 즉시 처리하는 양방향 통신 기능을 가진 정보처리 방식은?
- ① 온라인(On-Line) 처리
  - ② 일괄(Batch) 처리
  - ③ 원격 일괄(Remote batch) 처리
  - ④ 분산 자료 처리(distributed data processing)

54. KS D 0213의 자분모양의 분류에 해당되지 않는 것은?

- ① 균열에 의한 자분모양              ② 독립한 자분모양
- ③ 중복된 자분모양                  ④ 분산한 자분모양

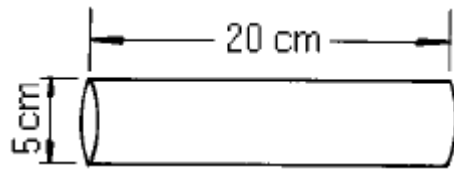
55. KS D 0213 C형 표준시험편의 내용으로 틀린 것은?

- ① 분할선에 따라 5×10mm의 작은 조각으로 분리하여 사용한다.
- ② 인공흠이 있는 면이 시험면의 반대방향에 오도록 밀착시킨다.
- ③ 밀착시 사용하는 양면 접착테이프의 두께는 100 $\mu$ m이하로 한다.
- ④ 자분의 적용은 연속법으로 한다.

56. ASME Sec.V Art.7의 전처리 범위는 어떻게 규정하고 있는가?

- ① (검사영역)+(인접지역 최소 1인치)
- ② (검사영역)+(인접지역 최소 2인치)
- ③ (검사영역)+(인접지역 최소 1t) 단, t는 두께
- ④ (검사영역)+(인접지역 최소 1/2t) 단, t는 두께

57. ASME Sec.V Art.7에 의거 그림과 같이 환봉을 코일법으로 검사하고자 할 때 필요한 자화전류는? (단, 권수는 4회)



- ① 1460 A                      ② 2120 A
- ③ 2810 A                      ④ 3380 A

58. 시험편의 표시 중 A2-15/50(직선형)에서 ( )안의 설명으로 알맞는 것은?

- ① 결함의 모양                  ② 인공흠의 모양
- ③ 판의 모양                      ④ 자분의 입도

59. 윈도우에서 선택된 폴더나 파일의 정보 및 속성을 볼 수 있는 명령은?

- ① 데스크 톱                      ② 아이콘 정렬
- ③ 새로 만들기                  ④ 등록 정보

60. KS D 0213에서 자분탐상시험의 전처리에 대한 설명으로 잘못된 것은?

- ① 용접부 전처리는 시험범위보다 모재측으로 약 20mm 넓어야 한다.
- ② 시험품은 원칙적으로 분해하지 말아야 자분에 의한 손상을 막을 수 있다.
- ③ 통전효과를 좋게 하기위해 시험품과 전극의 접촉부분을 깨끗하게 닦는다.
- ④ 시험품이 시험전 자화되어 있을 경우에는 필요에 따라 탈자한다.

#### 4과목 : 금속재료 및 용접일반

61. 비정질합금의 제조법이 아닌 것은?

- ① 화학도금                      ② 금속가스의 증착

- ③ 냉간가공법      ④ 액체급냉법

62. 탄소강 중 망간(Mn)의 영향을 바르게 설명한 것은?

- ① 강의 담금질 효과를 증대시켜 경화능이 커진다.  
② 강의 점성을 저하시키고 가공성을 해친다.  
③ 연신율과 경도를 감소 시킨다.  
④ 주조성을 나쁘게 하고 고온에서 결정입의 성장을 촉진시킨다.

63. 전위(dislocation)의 종류에 속하지 않는 것은?

- ① 나사전위      ② 칼날전위  
③ 절단전위      ④ 혼합전위

64. 금속표면에 초경합금 스텔라이트 등의 특수합금을 용착시키는 방전경화법은?

- ① Chromizing      ② Hard facing  
③ Calorizing      ④ Sheradizing

65. 다음 중 점용접의 3대 요소가 아닌 것은?

- ① 전극의 재질      ② 용접 전류  
③ 통전 시간      ④ 가압력

66. 황동의 가공제품에서 나타나는 자연균열의 발생에 대한 방지책은?

- ① 탄산가스나 암모니아 분위기속에 보관한다.  
② 습기 또는 수증속에 보관한다.  
③ 약 200℃ 에서 응력제거 풀림처리한다.  
④ 재결정온도 이상에서 담금질처리한다.

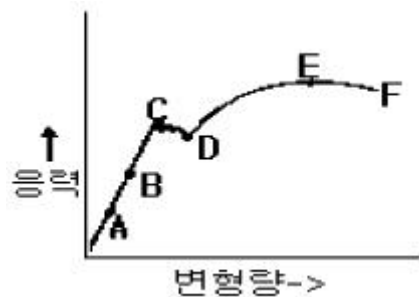
67. 베어링에 사용되는 구리합금의 대표적인 켈멧(kelmet)성분은?

- ① 70% Cu - 30% Pb합금      ② 70% Pb - 30% Sn합금  
③ 60% Cu - 40% Zn합금      ④ 60% Pb - 40% Zn합금

68. 서브머지드 아크 용접에서 사용되는 다전극 방식이 아닌 것은?

- ① 직병렬식      ② 텐덤식  
③ 횡병렬식      ④ 횡직렬식

69. 응력-변형선도에서 최대하중점을 표시한 것은?



- ① B      ② C  
③ D      ④ E

70. 용해 아세틸렌을 충전한 후 용기 전체 무게가 62.5[kgf]이었는데, B형 토치의 200번 팁으로 표준불꽃 상태에서 가스 용접 후 아세틸렌 용기를 달아보았더니 무게가 60.5[kgf]이었다면 가스용접을 한 시간은 약 얼마인가? (단, 작업조건은

15℃, 1기압으로 가정한다.)

- ① 약 6시간      ② 약 9시간  
③ 약 12시간      ④ 약 15시간

71. 다음 중에서 용접 지그(Jig)의 사용목적이 아닌 것은?

- ① 용접자세를 편리하게 한다.  
② 용접이 곤란한 재료를 가능하도록 한다.  
③ 대량 생산을 하기 위하여 사용한다.  
④ 제품의 정밀도를 향상 시켜 준다.

72. 용접봉의 종류 중 내균열성이 가장 좋은 용접봉은?

- ① 저수소계      ② 고산화철계  
③ 고셀로우즈계      ④ 일미나이트계

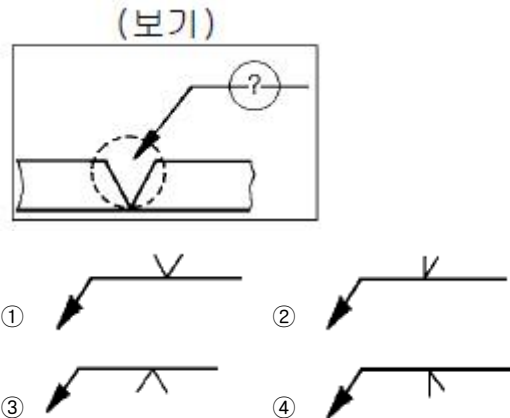
73. FCC 결정구조를 갖는 금속에서 원자의 충전율(%)은?

- ① 36      ② 68  
③ 74      ④ 80

74. 철광석을 용광로 속에서 코크스로 환원시켜 제련시킨 것은?

- ① 탄소강      ② 순철  
③ 강철      ④ 용선

75. 보기와 같은 용접홀 모양과 용접방향에 대한 (?) 부분에 도시될 용접기호로 가장 적합한 것은?



76. 용접결함 중 치수상의 결함인 것은?

- ① 용합불량      ② 변형  
③ 용접균열      ④ 기공

77. 다음 중 가스 압접법의 특징이 아닌 것은?

- ① 압접 소요시간이 짧다.  
② 원리적으로 전력이 필요없다.  
③ 용접부는 용융하지 않고 접합된다.  
④ 가스 압접은 매우 숙련된 작업자가 필요하다.

78. 원판형 전극사이에 용접물을 끼워 전극에 압력을 주면서 전극을 회전시켜 모재를 이동하면서 용접하는 방법으로 주로 기밀, 유밀을 필요로 하는 이음에 적용되는 전기저항 용접법은?

- ① 심 용접법      ② 플래시 용접법  
③ 업셋 용접법      ④ 테르밋 용접법

79. 피복제에 습기가 있는 상태로 용접했을 경우 많이 일어날

수 있는 현상으로 다음 중 가장 중요한 것은?

- ① 오버랩 현상이 일어난다.      ② 크레이터가 생긴다.  
③ 언더컷이 생긴다.              ④ 기공이 생긴다.

80. 소결기계 재료에 대한 설명이 옳지 못한 것은?

- ① 재질은 철계분말이 주체이고 Cu, Sn, Pb 등의 분말을 배합한다.  
② 배합된 재료는 산화성 분위기 중에서 연속식 전기로에서 소결한다.  
③ 소결된 부품은 사이징, 코이닝 공정에서 정확한 치수를 맞춘다.  
④ 성형압의 증가에 따라 밀도, 강도 및 연신율이 함께 가한다.

전자문제집 CBT PC 버전 : [www.comcbt.com](http://www.comcbt.com)

전자문제집 CBT 모바일 버전 : [m.comcbt.com](http://m.comcbt.com)

기출문제 및 해설집 다운로드 : [www.comcbt.com/xs](http://www.comcbt.com/xs)

전자문제집 CBT란?

종이 문제집이 아닌 인터넷으로 문제를 풀고 자동으로 채점하며 모의고사, 오답 노트, 해설까지 제공하는 무료 기출문제 학습 프로그램으로 실제 시험에서 사용하는 OMR 형식의 CBT를 제공합니다.

PC 버전 및 모바일 버전 완벽 연동  
교사용/학생용 관리기능도 제공합니다.

오답 및 오탈자가 수정된 최신 자료와 해설은 전자문제집 CBT에서 확인하세요.

1	2	3	4	5	6	7	8	9	10
④	①	②	③	①	①	③	②	①	①
11	12	13	14	15	16	17	18	19	20
③	②	②	①	②	①	①	②	③	③
21	22	23	24	25	26	27	28	29	30
④	③	③	②	②	①	①	②	①	④
31	32	33	34	35	36	37	38	39	40
③	③	④	④	①	④	②	④	②	①
41	42	43	44	45	46	47	48	49	50
④	①	②	③	③	④	①	②	④	③
51	52	53	54	55	56	57	58	59	60
④	①	①	③	②	①	①	②	④	②
61	62	63	64	65	66	67	68	69	70
③	①	③	②	①	③	①	①	④	②
71	72	73	74	75	76	77	78	79	80
②	①	③	④	③	②	④	①	④	②