

1과목 : 일반화약학

1. 피크린산을 저장하거나 사용할 때 금속물과 직접 접촉하는 것을 피하고 있는 가장 큰 이유는?

- ① 금속의 열전도도가 크기 때문에
- ② 보관 비용 절감을 위하여
- ③ 화약 자체가 둔화되므로
- ④ 예민한 화합물을 생성하므로

2. 흑색화약에 대한 설명으로 옳은 것은?

- ① 화염과 마찰에 둔감하다.
- ② 흡습을 피하면 오래 저장할 수 있다.
- ③ 발화할 때 후가스가 좋아 터널공사에 주로 사용된다.
- ④ 인화성이 있으므로 흡습 되어도 발화에는 지장이 없다.

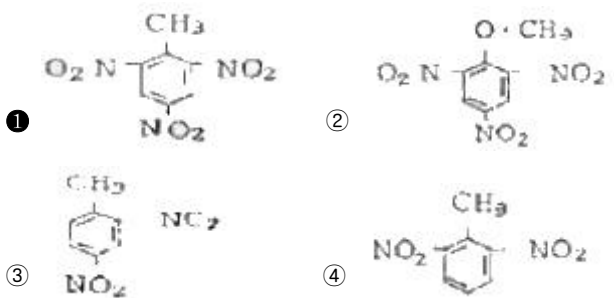
3. 다음 화약류에 관한 설명 중 틀린 것은?

- ① 뇌홍 뇌관의 관체는 구리관을 사용한다.
- ② 칼릿(Carlit)은 화합화약류에 해당한다.
- ③ 니트로화합물은 질산에스테르에 비하여 일반적으로 안정성이 크다.
- ④ 흑색화약은 도화선의 심약으로 사용될 수 있다.

4. 폭약의 폭속을 시험하고자 할 때 사용되는 시험방법이 아닌 것은?

- ① 이온궤법
- ② 광섬유법
- ③ 도트리슈법
- ④ 탄동진자시험법

5. 다음 구조식 중 TNT를 나타내는 것은?



6. 비중은 약 1.7, 융점은 약 141℃인 백색의 주상결정으로 충격에는 예민하지만 열에는 비교적 둔감하고 뇌관의 첨가약으로 사용되는 폭약은?

- ① $C_{10}H_5(NO_2)_2$
- ② $C_8H_4(NO_2)_2$
- ③ $C(CH_2ONO_2)_4$
- ④ $C_6H_3(NO_2)_3$

7. 다이내마이트 제조시 첨가되는 니트로화합물의 주된 용도에 해당하는 것은?

- ① 가연물
- ② 감열소염제
- ③ 산소공급제
- ④ 예감제

8. 니트로셀룰로오스를 합성하는 방법이 아닌 것은?

- ① 아벨(Abel)식
- ② 비아지(Biazzi)식
- ③ 톰슨(Thomson)식
- ④ 듀폰(duPont)식

9. 흑색화약 제조과정에서 201혼화 공정에 해당하는 것은?

- ① 옥탄과 유탕의 혼합
- ② 유탕과 초석의 혼합

- ③ 초석과 목탄의 혼합
- ④ 목탄, 초석 및 유탕의 혼합

10. 다음 화약류 중 합성할 때 질산과 황산의 혼산을 사용하지 않는 것은?

- ① TNT
- ② 니트로글리세린
- ③ 질화면
- ④ 뇌홍

11. 다이내마이트용으로 니트로글리세린을 제조할 때 순도 몇 % 이상인 글리세린을 사용해야 하는가?

- ① 98.5
- ② 78.5
- ③ 58.5
- ④ 38.5

12. 옥분 2kg을 완전 연소시킬 때 960L의 산소가 부족하여 산소공급제를 사용하고자 한다. 이 때 첨가할 산소공급제의 양은 약 몇 kg인가? (단, 산소공급제 1kg 당 산소는 277L 발생한다.)

- ① 0.51
- ② 1.02
- ③ 2.42
- ④ 3.47

13. 화약류의 성능을 구분할 때 Low explosives와 High explosives의 차이는 무엇으로 구분하는가?

- ① 폭발속도
- ② 폭발온도
- ③ 분자량
- ④ 비중

14. 질산암모늄 폭약에 있어서 질산암모늄과 예감제의 혼합물에 옥분 또는 전분을 혼합하는 이유는?

- ① 산소공급
- ② 고화 방지
- ③ 폭약 온도 상승
- ④ 위력 증대

15. 다음 중 뇌홍의 주원료에 해당하는 것은?

- ① 수은
- ② 옥탄
- ③ 수산화나트륨
- ④ 염소산칼륨

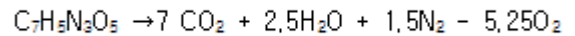
16. 산업용 폭약류의 배합성분 중 예감제가 아닌 것은?

- ① 과염소산암모늄
- ② 니트로글리세린
- ③ 디니트로나프탈렌
- ④ 니트로글리콜

17. 기폭약의 폭발시 외부작용으로 가장 먼 것은?

- ① 마찰
- ② 산소
- ③ 충격
- ④ 정전기

18. 다음 반응식을 이용해 TNT의 1g당 산소평형 값을 구하면 약 몇 g인가?



- ① -0.37
- ② -0.74
- ③ -1.48
- ④ -1.74

19. 다음 중 화약류의 안정도 시험방법이 아닌 것은?

- ① 유리산시험
- ② 가열시험
- ③ 내열시험
- ④ 마찰시험

20. 순폭시험에서 순폭도(n)를 구하는 식을 옳게 나타낸 것은? (단, S는 제2약포가 제1약포의 폭발로 순폭하는 최대거리이고, 이 때의 약포경을 d라 한다.)

- ① $n = S/d$
- ② $n = d/S$

③ $n=S/d+0.3$

④ $n=S/d-0.3$

2과목 : 발파공학

21. 평행공 심발법(Parallel Cut)의 특징에 대한 설명으로 옳지 않은 것은?

- ① 터널, 갱도의 크기에 따라 1회 발파당 굴진장에 제한을 적게 받는다.
- ② 파석의 비산거리가 비교적 적고 막장 부근에 집중 되므로 파석처리가 편리하다.
- ③ 불발, Cut-off 등의 현상이 일어나므로 전기뇌관의 종류(초시차) 및 기폭약포의 위치에 주의해야 한다.
- ④ 경사공 심발법에 비해 장약이 유독되거나 사압현상으로 불발잔류를 일으키지 않는다.

22. 다음 중 전색물의 조건으로 옳지 않은 것은?

- ① 정전기의 발생으로 인한 뇌관의 기폭을 방지하기 위해 발파공벽과의 마찰이 작을 것
- ② 압축물이 작지 않아서 단단하게 다져질 수 있는 것
- ③ 틈새를 쉽게 그리고 빨리 메울 수 있는 것
- ④ 불발이나 잔류폭약을 회수하기에 안전한 것

23. 저항 $1.2[\Omega]$ 의 전기뇌관 10개를 병렬 결선하여 저항 $0.01[\Omega/m]$ 인 모선(총연장 60m)으로 제발시키는데 필요한 전압은 얼마인가? (단, 소요전류는 $2[A]$, 발파기의 내부저항은 $1.2[\Omega]$)

- ① 24.6[V] ② 38.4[V]
- ③ 52.3[V] ④ 60.5[V]

24. 천공간격을 일반적인 벤치발파보다 넓히고 저항선은 작게 하여 발파 후 파쇄 암석의 입도를 작고 비교적 균일하게 하기 위하여 시행하는 발파법은?

- ① 쿠션 발파(Cushion Blasting)
- ② 프리 스플리팅(Pre splitting)
- ③ 트림 발파(Trim Blasting)
- ④ 와이드 스페이스 발파(Wide space Blasting)

25. 건물에 대해 발파해체공법을 적용하여 발파한 후 현장점검 사항으로 옳지 않은 것은?

- ① 붕괴방향 ② 주변피해
- ③ 구조물의 파쇄형태 ④ 발파위치의 방호방법

26. 다음 중 적절한 폭약의 선정기준으로 옳지 않은 것은?

- ① 절리가 없는 암반에 대해서는 예멀전이나 다이나마이트 폭약이 적절하다.
- ② 발파공내에 불이 많은 경우에는 벌크 형태의 ANFO가 적절하다.
- ③ 절리가 많은 암반에 대해서는 ANFO가 유리하다.
- ④ 건물이 인접한 경우에는 저폭속 폭약이 유리하다.

27. 탄성파에는 두가지 기본적인 형태로 물체파(Body wave)와 표면파(Surface wave)가 있다. 다음 중 표면파에 속하지 않는 것은?

- ① S파(횡파) ② L파(Love 파)
- ③ C파(Couple 파) ④ R파(Rayleigh 파)

28. 트렌치(trench) 발파에 대한 설명으로 옳지 않은 것은?

① 일반적으로 계단의 폭이 4m보다 작다.

② 정상적인 계단식 발파보다 비장약량이 증가하고 비천공장이 길어진다.

③ 발파공의 경사는 3:1보다 작아야 하며, 가급적 경사천공은 피해야 한다.

④ 전통적인 트렌치 발파방법에서는 중간공들이 측벽공 앞에 위치하나 장약량은 모든 발파공에 동일하게 한다.

29. 어떤 시험발파에서 최소저항선 0.6m, 장약량 0.4kg을 사용하여 발파한 결과, 누두반경이 0.72m인 누두공이 생성되었다. 최소저항선을 동일하게 할 때 표준발파가 되기 위한 장약량은 얼마인가?

- ① 0.26kg ② 0.35kg
- ③ 0.45kg ④ 0.52kg

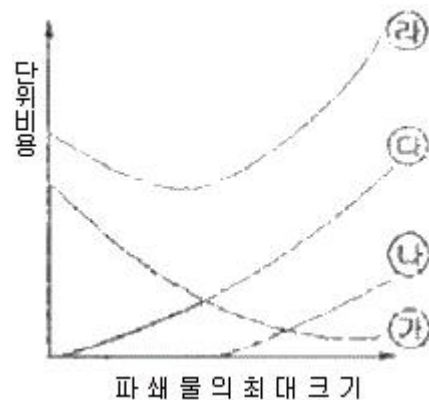
30. 다음 중 수중발파 작업시 유의해야 할 사항으로 옳지 않은 것은?

- ① 비장약량은 노천발파보다 더 큰 값을 적용한다.
- ② 폭약 및 기폭장치는 양호한 내수성과 수압에 대한 충분한 저항성을 가져야 한다.
- ③ 수중이므로 발파공해 문제가 없어 진동이나 충격파에 대한 대비가 필요 없다.
- ④ 2차 파쇄가 어렵고 발파비용이 높기 때문에 발파는 항상 만족스러운 결과를 얻어야 한다.

31. 다음 중 Lilly(Blasting Index, BI)를 구성하는 요소가 아닌 것은?

- ① 암반형태 ② 절리간격
- ③ 지하수상태 ④ 암석경도

32. 다음 그림은 발파의 경제성을 평가하기 위한 그래프로서 파쇄물의 최대 크기(입도)에 대한 천공 및 발파, 운반, 소할 비용 등을 표시하고 있다. 이 그림에서 ㉠곡선이 가리키는 것은 무엇인가?



- ① 운반비용 ② 천공 및 발파비용
- ③ 소할비용 ④ 총비용

33. 다음의 발파조건으로 2자유면 벤치발파를 실시하고자 한다. 비장약량(specific charge)은 얼마인가?

- [조 건]
- ① 공수 : 5공, ② 공간격 : 10m,
 - ③ 최소저항선 : 5m, ④ 벤치높이 : 10m,
 - ⑤ 발파계수 : 0.2

- ① 1.0kg/m^3 ② 0.5kg/m^3

- ③ 0.3kg/m³ ④ 0.2kg/m³

34. NG 60%인 스트레스 다이아미이트 1kg으로 어떤 암석을 파괴했다면 NG 35%인 다이아미이트를 사용할 경우 얼마의 다이아미이트가 필요한가?

- ① 0.8kg ② 1.0kg
③ 1.2kg ④ 1.5kg

35. 다음은 어느 발파현장에서 발파진동을 측정한 기록이다. 최대 의사벡터합(pseudo maximum vector sum)은 얼마인가? (단, 진동측정단위는 cm/sec)

측정시간	T성분	L성분	V성분
0.01sec	0.11	0.13	0.24
0.02sec	0.23	0.12	0.33
0.03sec	0.17	0.17	0.31
0.04sec	0.25	0.20	0.28

- ① 0.39cm/sec ② 0.42cm/sec
③ 0.43cm/sec ④ 0.46cm/sec

36. 공발(Blown-out shot)의 일반적인 원인으로 옳지 않은 것은?

- ① 암반에 많은 균열층이 있을 때
② 전색이 불충분할 때
③ 약장약일 때
④ 자유면에 경사천공하였을 때

37. 수준발파(leveling)에 대한 설명으로 옳지 않은 것은?

- ① 계단높이가 최대 저항선(maximum burden)의 2배보다 낮은 곳에 사용한다.
② 암석 파쇄입도를 크게 하기 위해 발파공 사이 지연시간을 길게 한다.
③ 일반적으로 수직천공을 실시하여 발파한다.
④ 비산위험과 자반진동을 줄이기 위해 소구경의 발파공을 사용한다.

38. 심빼기 번컷(Burn-cut)에서 무장약공경 10cm, 장약공경 3.3cm일 때 장약공의 단위길이당 장약량은? (단, Langefors식을 이용하고, 무장약공과 장약공의 중심간 거리는 150mm이다.)

- ① 2.61kg/m ② 1.21kg/m
③ 0.76kg/m ④ 0.28kg/m

39. 다음 중 발파진동에 대한 설명으로 맞는 것은?

- ① 발파진동의 주파수는 1Hz 정도이다.
② 발파로 인하여 발생하는 총에너지 중에서 0.5~20%가 탄성파로 변환되어 발파진동으로 소비된다.
③ 발파에 의해 발생한 지반운동은 일반적으로 변위, 입자 속도, 가속도 3성분과 진폭으로 표시된다.
④ 발파진동의 지속시간은 10초 이상이며, 진동의 파형은 지진동과 비교하여 복잡하다.

40. 댐, 항만, 도로 등의 건설에 있어서 산이나 구릉지의 하부에 대규모 장약을 한 후 발파하여 암석을 적당한 크기로 파쇄시키면서 소정의 위치로 이동시키는 발파방법은 무엇인가?

- ① 협동장약발파(Cooperating Charge Blasting)
② 정향발파(Direction Blasting)
③ 글로리홀 발파(Glory Hole Blasting)
④ 트림발파(Trim Blasting)

3과목 : 암석역학

41. 등방성의 물체에 압력을 가했더니 종방향의 변형률 $\epsilon_x = 3.0 \times 10^{-3}$, 횡방향의 변형률 $\epsilon_r = 0.9 \times 10^{-3}$ 이 발생하였다. 이 물체의 체적탄성률은 얼마인가? (단, 영률 $E = 2.4 \times 10^5 \text{kg/cm}^2$)

- ① $2.0 \times 10^5 \text{kg/cm}^2$ ② $5.0 \times 10^5 \text{kg/cm}^2$
③ $6.0 \times 10^5 \text{kg/cm}^2$ ④ $1.14 \times 10^5 \text{kg/cm}^2$

42. 탄성파 전파속도에 영향을 미치는 요소에 대한 설명으로 맞는 것은?

- ① 탄성파 속도는 암석에 작용하는 구속응력에 반비례한다.
② 온도가 상승하면 P파 속도는 감소한다.
③ 층상암석에서 층에 평행한 탄성파 속도가 수직방향의 탄성파 속도보다 작게 나타난다.
④ 공극률이 큰 암석에서는 함수상태에 따라 P파, S파가 모두 민감한 영향을 받는다.

43. 터널 굴착시 지보재로 사용되는 쏫크리트(shotcrete)는 시공법에 따라 건식공법과 습식공법으로 분류할 수 있다. 다음 중 습식공법과 비교하여 건식공법의 설명으로 틀린 것은?

- ① 토층에서 물과 재료를 혼합하기 때문에 품질관리가 용이하다.
② 재료만을 공급하면 되므로 운반시간 등 공급 작업의 제한이 적다.
③ 비교적 장거리 입송이 가능하다.
④ 분진과 리바운드 량이 비교적 많이 발생한다.

44. 터널계측은 일상적인 시공관리를 위한 일상계측(계측 A)과 암반조건에 따라 추가로 실시되는 정밀계측(계측 B)으로 분류된다. 다음 중 일상계측(계측 A)에 해당하지 않는 것은?

- ① 갱내관찰조사 ② 내공변위측정
③ 천단침하측정 ④ 록볼트 축력측정

45. Q-system에 의한 암반평가 결과 Q 값이 10인 암반에 지하 저장 공동을 굴착하고자 한다. 최대 무지보 폭은 얼마인가? (단, 굴착지보계수(ESR)는 1.3 이다.)

- ① 1.85m ② 3.67m
③ 6.53m ④ 9.45m

46. 다음 복합체의 역학적 모형 중 대시포드를 포함하지 않는 것은?

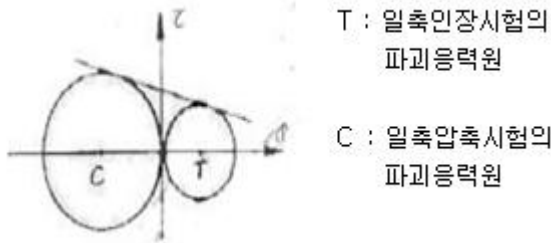
- ① Maxwell 물체 ② Kelvin 물체
③ St. Venant 물체 ④ Bingham 물체

47. 터널의 안정성 해석 등을 목적으로 사용되는 수치해석기법 중 지반을 연속체(continuum)로 가정하여 해석하는 기법이 아닌 것은?

- ① 유한요소법 ② 유한차분법
③ 경계요소법 ④ 개별요소법

48. 다음 중 파괴이론에 대한 일반적인 설명으로 틀린 것은?

- ① 취성재료인 암석은 파괴응력을 구분하기 어려운 것이 보통이다.
 ② 연성재료인 금속은 파괴응력과 항복응력을 확실히 구분할 수 있다.
 ③ 응력-변형을 관계로 본 암석의 파괴형태는 취성파괴와 연성파괴로 나눌 수 있다.
 ④ 암석의 주위를 큰 압력으로 봉압하면 상당히 변형한 후 파괴되는데 이를 취성파괴라고 한다.
49. 직경 6cm, 길이 12cm의 암석시편이 25ton의 수직하중을 받고 파괴되었다면 이 시편의 길이와 직경의 비가 1:1 일 때 압축강도는 얼마인가?
 ① 863.6kg/cm² ② 723.6kg/cm²
 ③ 994.6kg/cm² ④ 1325.6kg/cm²
50. 다음 중 중간 주응력을 고려한 암석파괴이론은?
 ① Tresca 이론 ② Griffith 이론
 ③ Hoek-Brown 이론 ④ Ven Mises 이론
51. 다음 그림은 일축압축강도 및 일축인장강도를 모어(Mohr)의 응력원으로 표시한 것이다. 이 모어의 응력원에 의하여 구할 수 있는 것은?



- ① 3축 압축강도 ② 굴곡강도
 ③ 전단강도 ④ 암석의 탄성계수
52. 다음의 조건으로 Hoek-Brown의 파괴조건식을 이용하여 최대주응력을 구하면 얼마인가?
- [조 건]

무결암의 일축압축강도 : 120MPa
 봉압(confining pressure) : 30MPa
 강도정수(m) : 6, 강도정수(s) : 0.001
- ① 170MPa ② 173MPa
 ③ 177MPa ④ 180MPa
53. 암석의 역학적 성질 중 크리프(creep) 현상에 대한 설명으로 맞는 것은?
 ① 응력과 변형률이 비례하는 현상이다.
 ② 일정한 변형률 하에서 응력이 시간에 따라 증대하는 현상이다.
 ③ 일정한 응력 하에서 변형률이 시간에 따라 증대하는 현상이다.
 ④ 횡변형률이 증가함에 따라 종변형률이 감소하는 현상이다.
54. 단축압축 하중 상태의 원형공동에서 하중방향과 90°인 지점(측벽부)에서 발생하는 접선방향응력은 작용응력의 몇 배가 되는가?
 ① 1배 ② 2배

- ③ 3배 ④ 4배

55. 현지 암반의 RMR값으로 70을 얻었을 때 이 암반의 변형계수는 얼마인가?
 ① 15 GPa ② 32 GPa
 ③ 40 GPa ④ 70 GPa
56. 다음 중 단축압축강도에 영향을 주는 요인이 아닌 것은?
 ① 시험편의 형상 ② 시험편의 크기
 ③ 시험기의 용량 ④ 가압 속도
57. 다음 중 극한평형법을 이용하여 안전율을 계산할 수 없는 사면파괴 유형은?
 ① 전도파괴 ② 원호파괴
 ③ 평면파괴 ④ 켄기파괴
58. 터널설계와 관련한 현장시험 중에서 현지암반에 작용하는 초기응력을 측정하는 시험법은?
 ① 수압파쇄시험 ② 압력터널시험
 ③ 공내재하시험 ④ Lugeon 시험
59. 수평 터널 단면의 응력상태를 나타내는 평면 변형률 상태에서 그 성분의 값이 0 이 아닌 것은? (단, 터널 단면은 x, y 축, 터널의 축방향은 z축이다.)
 ① γ_{xy} ② ϵ_x
 ③ γ_{yz} ④ γ_{xz}
60. 다음 사면 안정화 공법 중 안전율증가법(억지공)에 해당되지 않는 것은?
 ① 배수공법 ② 옹벽공법
 ③ 점토공법 ④ 암성토공법
- 4과목 : 화약류 안전관리 관계 법규
61. 화약류 저장소 설치자는 화약류 출납부와 기입을 완료한 날로부터 몇 년간 이를 보존해야 하는가?
 ① 1년 ② 2년
 ③ 3년 ④ 5년
62. 화약류관리보안책임자가 과실에 의해 폭발사고를 야기하여 인명을 사상케 한 경우 행정처분기준은? (단, 10명 사상일 경우)
 ① 면허 취소 ② 6월 효력정지
 ③ 3월 효력정지 ④ 1월 효력정지
63. 화약류 운반용 축전지차의 구조의 기준에 대한 설명으로 틀린 것은?
 ① 차바퀴에는 고무타이어를 사용할 것
 ② 적재함 또는 짐받이 아래면과 차축과의 사이에는 적당한 완충장치를 할 것
 ③ 축전지는 진동에 의한 영향을 받지 아니하는 것으로 하고, 사용전압은 110볼트 이하로 할 것
 ④ 전동기정류차·제어기·전기개폐기·전기단자 그 밖의 불꽃이 생길 염려가 있는 전기장치에는 화재나 폭발의 발생을 방지할 수 있는 차폐장치를 할 것
64. 총포·도검·화약류 등 단속법상 화약류의 운반방법으로 틀린

것은?

- ① 도폭선 1000m를 운반신고 없이 운반하였다.
- ② 미진동파쇄기 3500개를 운반신고 없이 운반하였다.
- ③ 화약류 운반개시 1시간 전에 발송지를 관할하는 경찰서장에게 화약류운반신고를 하였다.
- ④ 화약류운반신고필증을 화약류의 사용 후 반납을 고려하여 화약류의 사용 종료시까지 소지하였다.

65. 꽃불류 사용의 기술상의 기준에 대한 설명으로 맞는 것은?

- ① 풍속이 초당 20미터 이상 일 때는 꽃불류의 사용을 중지할 것
- ② 쏘아 올리는 꽃불류는 20미터 이상의 높이에서 퍼지도록 할 것
- ③ 사용준비가 끝난 쏘아 올리는 꽃불류로부터 30미터 이내의 장소에는 다른 쏘아 올리는 꽃불류를 사용하지 아니할 것
- ④ 꽃불류의 발사용 화약에 점화하여도 그 화약이 폭발 또는 연소되지 아니하는 때에는 발사통에 많은 양의 물을 넣고 5분 이상 경과한 후에 꽃불류를 꺼낼 것

66. 지하에 설치하는 2급 저장소의 위치·구조 및 설비의 기준으로 틀린 것은?

- ① 안쪽 벽은 철근콘크리트 또는 보강콘크리트볼력으로 할 것
- ② 저장소의 내부는 판자로 하고, 마루표면 또는 콘크리트 바닥에는 철물류가 나타나지 아니하도록 할 것
- ③ 저장소의 바깥에는 특별한 사정이 없는 한 야간에 전등을 켜고 도난방지를 위한 비상벨 등의 장치를 할 것
- ④ 저장소 내부를 조명하는 설비를 하는 때에는 방폭식의 전등으로 할 것

67. 화약류저장소에 흠독을 쌓는 경우 흠독의 설치 기준으로 틀린 것은?

- ① 흠독은 저장소의 바깥쪽 벽으로부터 흠독의 안쪽 벽 밑까지 1미터 이상 2미터 이내의 거리를 두고 쌓아야 한다.
- ② 저장소 출입구 쪽의 흠독은 화약 운반용 지게차 등이 출입할 수 있도록 2미터 이상의 거리를 둘 수 있다.
- ③ 흠독의 경사는 45도 이하로 하고, 정상의 폭은 1미터 이상으로 해야 한다.
- ④ 2개 이상의 저장소가 인접하여 중간의 흠독을 같이 사용하는 때에는 그 흠독에 통로를 설치하여 위급한 상황의 발생시 대피에 지장이 없도록 해야 한다.

68. 다음 중 화약류 사용장소에서 화약류관리보안책임자의 안전상 지시·감독에 따르지 아니한 화약류취급자에 대한 벌칙으로 맞는 것은?

- ① 5년 이하의 징역 또는 1천만원 이하의 벌금
- ② 3년 이하의 징역 또는 700만원 이하의 벌금
- ③ 2년 이하의 징역 또는 500만원 이하의 벌금
- ④ 300만원 이하의 벌금

69. 화약류 판매업의 시설기준으로 틀린 것은?

- ① 자가전용의 화약류 저장소를 설치할 것
- ② 화약류 저장소에는 차량에 의한 안전운반이 가능하도록 저장소 입구까지 진입로를 개설할 것
- ③ 화약류 저장소 주위에 도난방지 등을 위한 경비초소를 설치할 것

- ④ 판매업소 및 화약류 저장소의 위치는 유동과정에 있어서 위험성이 없는 곳일 것

70. 장난감용 꽃불류저장소의 장난감용 꽃불류의 최대저장량은?

- ① 1톤
- ② 5톤
- ③ 10톤
- ④ 20톤

71. 폭약 20분을 저장하는 1급 화약류저장소와 제1종 보안물건간의 보안거리는 44m 이상, 제3종 보안물건간의 보안거리는 220m 이상 일 때 화약류저장소의 경비실에 대한 보안거리는?

- ① 27.5m 이상
- ② 36.7m 이상
- ③ 55m 이상
- ④ 110m 이상

72. 다음 중 화약류 양수허가의 유효기간에 대한 설명으로 맞는 것은?

- ① 3개월을 초과할 수 없다.
- ② 6개월을 초과할 수 없다.
- ③ 1년을 초과할 수 없다.
- ④ 2년을 초과할 수 없다.

73. 화약류의 운반방법의 기술상의 기준에 관한 설명으로 맞는 것은?

- ① 화약류의 운반은 자동차(2륜자동차 제외)에 의하여야 하며, 300킬로미터 이상의 거리를 운반하는 때에는 교체할 수 있는 예비운전자 1명을 태울 것
- ② 화약류를 실은 차량이 서로 진행하는 때(앞지르는 경우를 제외한다.)에는 100미터 이상, 주차하는 때에는 50미터 이상의 거리를 둘 것
- ③ 뇌홍 및 뇌홍을 주로 하는 기폭약은 수분 또는 알코올분이 30퍼센트 정도를 머금은 상태로 운반할 것
- ④ 야간이나 앞을 분간하기 힘든 경우에 주차하고자 하는 때에는 차량의 전방과 후방 30미터 지점에 적색등불을 달 것

74. 화약류 취급소에 관한 설명으로 틀린 것은?

- ① 화약류 취급소는 화약류 사용장소 부근에 전폭약포의 제작 또는 취급 작업 등 화약류의 관리 및 발파의 준비에 전용되는 건물이다.
- ② 화약류 취급소의 지붕은 스텐트·기와 그 밖의 불에 타지 아니하는 재료를 사용한다.
- ③ 화약류 취급소에 난방장치를 하는 때에는 온수·증기 또는 열기를 이용하는 것만을 사용한다.
- ④ 화약류 취급소에는 장부를 비치하고 화약류의 수불 및 그 사용하고 남은 양을 명확히 기록하여야 한다.

75. 화약류 판매업자가 판매를 위해 화약류저장소 외의 장소에 저장할 수 있는 화약류의 수량으로 맞는 것은?

- ① 폭약 10kg
- ② 도폭선 300m
- ③ 총용뇌관 5000개
- ④ 실탄 30000개

76. 화약류의 취급에 관한 설명으로 틀린 것은?

- ① 화약류를 취급하는 용기는 전기가 통하지 않는 것으로 한다.
- ② 사용하다가 남은 화약류 또는 사용에 적합하지 아니한 화약류는 즉시 폐기 조치한다.
- ③ 굳어진 다이내마이트는 손으로 주물러서 부드럽게 한다.
- ④ 전기뇌관은 도통시험을 하되, 미리 시험전류를 측정하여 0.01[A]를 초과하지 아니한 것을 사용한다.

77. 다음은 전기발파의 기술상의 기준에 대한 사항이다. ()안에

알맞은 내용은?

- 발파모선은 고무 등으로 절연된 전선 (①) 이상의 것을 사용할 것
- 동력선 또는 전동선을 전원으로 하는 때에는 작업자 외에는 취급하지 못하게 하고, 전선에는 (②) 이상의 적당한 전류가 흐르도록 할 것

- ① ① 10m, ② 0.1 암페어 ② ① 20m, ② 0.1 암페어
 ③ ① 30m, ② 1 암페어 ④ ① 50m, ② 1 암페어

78. 다음 중 경찰서장의 설치 허가를 받아야 하는 화약류 저장소는?

- ① 간이저장소 ② 수중저장소
 ③ 도화선저장소 ④ 장난감용 불꽃류저장소

79. 화약과 비슷한 추진력 폭발에 사용될수 있는 것으로서 대통령령이 정하는 것에 포함되지 않는 것은?

- ① 산화구리를 주로 한 화약
 ② 과염소산염을 주로 한 화약
 ③ 황산알루미늄을 주로 한 화약
 ④ 크롬산납을 주로 한 화약

80. 화약류저장소 완성검사에 대한 설명으로 맞는 것은?

- ① 화약류저장소설치자는 허가를 받은 날부터 1년 이내에는 완성검사를 받을 수 없다.
 ② 화약류저장소설치자는 허가를 받은 날부터 부득이한 사유가 있어 연장을 한다고 해도 2년 이내에는 완성검사를 받아야 한다.
 ③ 완성검사전이라도 부득이한 사정이 있을 때에는 경찰관서의 승낙을 얻어 화약류저장소의 사용개시가 가능하다.
 ④ 화약류저장소설치자는 허가를 받은 날부터 1년 이내에는 완성검사를 받아야 하나 화약류저장소 설치자의 귀책이 아닌 부득이한 사유가 있을 시에는 1년씩 2회의 연장이 가능하다.

전자문제집 CBT PC 버전 : www.comcbt.com
 전자문제집 CBT 모바일 버전 : m.comcbt.com
 기출문제 및 해설집 다운로드 : www.comcbt.com/xs

전자문제집 CBT란?

종이 문제집이 아닌 인터넷으로 문제를 풀고 자동으로 채점하며 모의고사, 오답 노트, 해설까지 제공하는 무료 기출문제 학습 프로그램으로 실제 시험에서 사용하는 OMR 형식의 CBT를 제공합니다.

PC 버전 및 모바일 버전 완벽 연동
 교사용/학생용 관리기능도 제공합니다.

오답 및 오탈자가 수정된 최신 자료와 해설은 전자문제집 CBT에서 확인하세요.

1	2	3	4	5	6	7	8	9	10
④	②	②	④	①	③	④	②	①	④
11	12	13	14	15	16	17	18	19	20
①	④	①	②	①	①	②	②	④	①
21	22	23	24	25	26	27	28	29	30
④	①	②	④	④	②	①	③	①	③
31	32	33	34	35	36	37	38	39	40
③	②	④	④	④	④	②	④	②	②
41	42	43	44	45	46	47	48	49	50
①	②	①	④	③	③	④	④	③	④
51	52	53	54	55	56	57	58	59	60
③	③	③	③	③	③	①	①	①	①
61	62	63	64	65	66	67	68	69	70
②	②	③	④	②	①	④	③	③	③
71	72	73	74	75	76	77	78	79	80
①	③	②	①	②	②	③	①	①	②