

1과목 : 과목 구분 없음

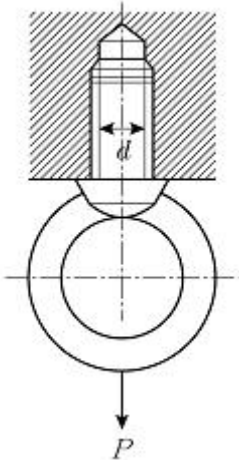
1. 1줄 겹치기 리벳이음을 한 두께 10mm인 판재가 있다. 리벳 구멍지름 20mm, 리벳이음 피치 50mm일 때, 인장력을 받고 있는 판재의 효율[%]은?

- ① 20 ② 40
③ 60 ④ 80

2. 롤러체인을 이용하여 동력을 전달하고자 한다. 구동 스프로킷 휠의 잇수 20개, 롤러체인의 피치 12.5mm, 롤러체인 평균속도가 3m/s일 때 구동 스프로킷 휠의 회전속도[rpm]는?

- ① 720 ② 840
③ 960 ④ 1,200

3. 그림과 같이 아이볼트(eye bolt)에 축방향 하중(P) 2kN이 작용할 때, 하중을 지지하기 위한 아이볼트의 최소 골지름(d)[mm]은? (단, 아이볼트의 허용인장응력은 80N/mm²이며, 아이볼트는 골지를 단면에서 파괴된다고 가정한다)



- ① $\sqrt{\frac{5}{\pi}}$ ② $\sqrt{\frac{20}{\pi}}$
③ $\sqrt{\frac{50}{\pi}}$ ④ $\sqrt{\frac{100}{\pi}}$

4. 치수와 공차에 대한 설명으로 옳지 않은 것은?

- ① 허용한계치수는 기준치수로부터 벗어남이 허용되는 대소의 극한치수로, 최대 허용치수와 최소 허용치수를 의미한다.
② 기준치수는 호칭치수라고도 하며, 허용한계치수의 기준이 되는 치수이다.
③ 위치수 허용차는 최소 허용치수에서 기준치수를 뺀 값이다.
④ 치수공차는 최대 허용치수와 최소 허용치수의 차이이다.

5. 기본 동적 부하용량 64kN인 볼베어링에 동등가하중 8kN이 작용하고 있다. 이 볼베어링을 롤러베어링으로 교체할 때, 롤러베어링의 정격수명[회전]은? (단, 교체한 롤러베어링에는 볼베어링과 같은 동등가하중이 작용하며, 롤러베어링의 기본 동적 부하용량은 볼베어링과 같다)

- ① $2^3 \times 10^6$ ② $2^{10} \times 10^6$
③ $2^{3/10} \times 10^6$ ④ $2^{10/3} \times 10^6$

6. S-N 곡선(Stress versus Number of cycles curve)과 내구 한도에 대한 설명으로 옳지 않은 것은?

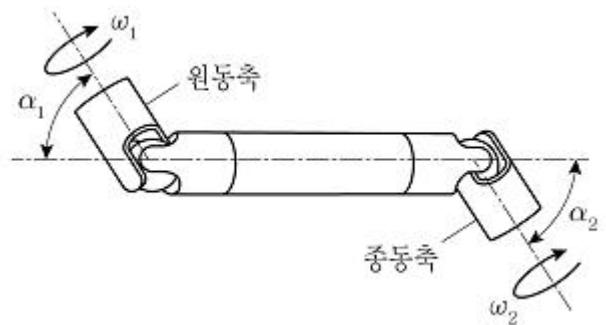
- ① 실제 부품 설계를 할 때는 하중의 종류, 표면효과, 사용온도 등을 고려한 수정 내구한도를 사용한다.
② 내구한도는 어느 한계값 이하의 응력에서 무수히 많은 반복을 하여도 피로파괴가 일어나지 않는 재료의 한계응력값을 의미한다.
③ 철강과 같이 체심입방구조(BCC)를 갖는 금속은 일반적으로 명확한 내구한도를 갖는다.
④ S-N 곡선에서는 양진 반복응력의 진폭을 가로축에 표시한다.

7. 나사에 대한 설명으로 옳지 않은 것은?

- ① 미터나사는 나사산각이 60°인 미터계 삼각나사이며, 미터가는나사는 자립성이 우수하여 풀림 방지용으로 사용한다.
② 일반적으로 삼각나사는 체결용 기계요소이고, 사각나사는 회전운동을 직선운동으로 바꾸는 운동용 기계요소이다.
③ 3/8-16 UNC는 유니파이 보통나사로 수나사의 호칭지름이 3/8인치이고 1인치당 나사산수가 16개임을 의미한다.
④ 사각나사는 다른 나사에 비해 나사효율이 낮으나 가공이 쉽다.

8. 그림과 같이 유니버설 조인트 2개 사이에 중간축을 삽입하여 회전을 전달하고 있다. 한 쪽의 교차각 α_1 과 다른 쪽의 교차

각 α_2 가 같을 때, 각속도비($\frac{\omega_1}{\omega_2}$)에 대한 설명으로 옳은 것은? (단, α_1 과 α_2 는 30° 이하이고, 그림의 모든 축은 동일 평면 상에 있다.)



- ① $\frac{\omega_1}{\omega_2} < 1$
② $\left| \frac{\omega_1}{\omega_2} \text{RIGHT} \right| = 1$
③ $\left| \frac{\omega_1}{\omega_2} \text{RIGHT} \right| > 1$

- ④ 원동축의 회전각 증가에 따라 $\left| \frac{\omega_1}{\omega_2} \text{RIGHT} \right|$ 은 증가했다가 감소한다.

9. 소선 지름 8mm인 코일스프링이 축방향 하중 100N을 받아 20mm의 처짐이 발생하였다. 코일스프링의 스프링지수가 4, 전단탄성계수가 8GPa일 때, 이 스프링의 유효감김수는? (단, 처짐은 코일의 비틀림모멘트에 의해서만 발생하는 것으로 가정한다)

- ① 20 ② 25
③ 30 ④ 35

10. 피치면이 원추(cone) 형태이면서, 같은 평면 상의 평행하지 않은 두 축을 연결하기 위해 사용하는 기어는?

- ① 베벨 기어 ② 헬리컬 기어
③ 스퍼 기어 ④ 나사 기어

11. 미끄럼베어링에 요구되는 재료 특성으로 옳지 않은 것은?

- ① 내식성이 커야 한다.
② 열전도율이 높아야 한다.
③ 마찰계수가 작아야 한다.
④ 마모가 적고 피로강도가 낮아야 한다.

12. 마찰이 없는 양단지지형 겹판스프링에 하중이 작용하여 최대 처짐 δ_{max} 가 발생하였다. 이 겹판스프링에서 판의 두께만 2배로 증가시킬 때 최대 처짐은?

- ① $1/2\delta_{max}$ ② $1/4\delta_{max}$
③ $1/8\delta_{max}$ ④ $1/16\delta_{max}$

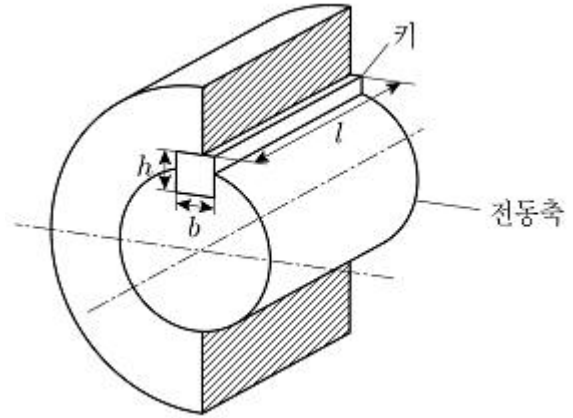
13. 평벨트 전동장치에서 벨트 속도 v [m/s], 긴장축 장력 T_t [N], 마찰계수 μ , 벨트 접촉각 θ [rad]가 주어졌을 때, 최대 전달동력[kW]은? (단, 벨트의 원심력은 무시한다)

- ① $\frac{T_t v}{1000} \left(\frac{e^{\mu\theta}}{1 - e^{\mu\theta}} \right)$ ② $\frac{T_t v}{1000} \left(\frac{1 - e^{\mu\theta}}{e^{\mu\theta}} \right)$
③ $\frac{T_t v}{1000} \left(\frac{e^{\mu\theta} - 1}{e^{\mu\theta}} \right)$ ④ $\frac{T_t v}{1000} \left(\frac{e^{\mu\theta}}{e^{\mu\theta} - 1} \right)$

14. 브레이크에 대한 설명으로 옳지 않은 것은?

- ① 밴드 브레이크는 레버 조작력이 동일해도 드럼 회전방향에 따라 제동력이 달라진다.
② 복식 블록 브레이크를 축에 대칭으로 설치하면 축에는 굽힘 모멘트가 작용하지 않는다.
③ 블록 브레이크의 냉각이 원활하지 못한 경우에는 브레이크 용량(brake capacity)을 작게 해야 한다.
④ 내부확장식 브레이크에서 브레이크 블록을 확장하는 힘이 동일하면 두 접촉면에 작용하는 수직력의 크기가 동일하다.

15. 그림과 같이 축지름 20mm, 회전속도 100rpm인 전동축이 동력 5kW를 전달하고 있다. 이 전동축에 폭(b)과 높이(h)는 서로 같고 길이(ℓ) 50mm, 허용전단응력 100MPa, 허용압축응력 200MPa인 보통형 평행기가 사용될 때 보통형 평행기의 최소 폭(b)[mm]은? (단, 평행기의 허용전단응력과 허용압축응력을 모두 고려하고, 는 3으로 계산하라)



- ① 5 ② 10
③ 20 ④ 30

16. 두께 6mm, 바깥지름 400mm인 두께가 얇은 원통형 압력용기의 최대 허용내압[MPa]은? (단, 압력용기 재료의 허용인장응력 100MPa, 이음효율 80%, 부식 여유 1mm이다)

- ① 1 ② 2
③ 100/97 ④ 200/97

17. 밸브에 대한 설명으로 옳지 않은 것은?

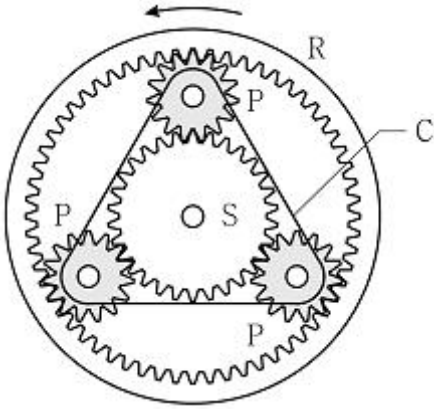
- ① 스톱밸브(stop valve)는 밸브의 개폐가 빠르고 값이 싸다.
② 글로브밸브(globe valve)는 유체의 흐름이 S자 모양이 되므로 유체흐름 저항이 크다.
③ 게이트밸브(gate valve)는 밸브 디스크가 유체의 관로를 수평으로 막아서 개폐한다.
④ 콕(cock)은 구조가 간단하나 기밀성이 나쁘다.

18. 다음 설명에 해당하는 지그는?

- 고정 장치가 없어 별도의 핀으로 위치를 잡아준다.
- 일감의 특정한 부분의 모양에 맞추어 작업할 수 있도록 만들어진다.
- 부시를 사용하지 않을 때에는 지그판 전체를 열처리하여 경화시킨 후 사용한다.
- 정밀도 향상보다는 빠른 작업 속도와 노동력 절감을 위하여 사용되므로 비교적 제작비용이 적게 든다.

- ① 형판 지그(template jig)
② 평판 지그(plate jig)
③ 박스 지그(box jig)
④ 앵글판 지그(angle plate jig)

19. 그림과 같이 태양기어(S), 캐리어(C), 내접기어(R), 유성피니언(P)으로 구성된 유성기어장치가 있다. 태양기어는 고정기어이며, 내접기어가 150rpm의 속도로 회전할 때, 캐리어의 회전속도[rpm]는? (단, 태양기어 잇수 30개, 유성피니언 잇수 15개, 내접기어 잇수 60개)



- ① 50 ② 100
③ 150 ④ 225

20. 동력전달 요소들에 대한 설명으로 옳지 않은 것은?

- ① 웜과 웜기어는 작은 공간에서 큰 감속비를 얻을 수 있다.
② 마찰차는 미끄럼이 발생하기 때문에 정확한 속도비를 전달할 수 없다.
③ 동력을 전달하는 두 축 사이의 거리가 먼 경우에는 벨트나 체인을 사용한다.
④ V벨트는 평벨트에 비해 접촉 면적이 좁아 큰 장력으로 작은 동력을 전달한다.

전자문제집 CBT PC 버전 : www.comcbt.com
전자문제집 CBT 모바일 버전 : m.comcbt.com
기출문제 및 해설집 다운로드 : www.comcbt.com/xe

전자문제집 CBT란?

종이 문제집이 아닌 인터넷으로 문제를 풀고 자동으로 채점하며 모의고사, 오답 노트, 해설까지 제공하는 무료 기출문제 학습 프로그램으로 실제 시험에서 사용하는 OMR 형식의 CBT를 제공합니다.

PC 버전 및 모바일 버전 완벽 연동
교사용/학생용 관리기능도 제공합니다.

오답 및 오탈자가 수정된 최신 자료와 해설은 전자문제집 CBT에서 확인하세요.

1	2	3	4	5	6	7	8	9	10
③	①	④	③	②	④	④	②	②	①
11	12	13	14	15	16	17	18	19	20
④	③	③	④	②	④	③	①	②	④