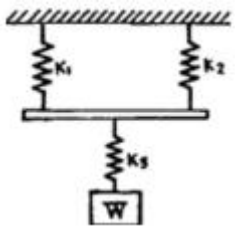


1과목 : 기계재료 및 요소

- 피치가 2mm인 2줄 나사를 180° 회전시키면 나사가 축 방향으로 움직인 거리는 몇 mm인가?
 ① 1 ② 2
 ③ 3 ④ 4
- 강의 잔류응력 제거를 주목적으로, 탄소강을 적당한 온도까지 가열한 후, 그 온도를 어느 정도 유지한 다음 열 처리로 내어 서서히 냉각시켜 열처리 하는 방법은?
 ① 담금질 ② 풀림
 ③ 뜨임 ④ 심랭처리
- 재료의 인장실험 결과 얻어진 응력-변형률 선도에서 응력을 증가시키지 않아도 변형이 연속적으로 갑자기 커지는 것을 무엇이라 하는가?
 ① 비례한도 ② 탄성변형
 ③ 항복현상 ④ 극한강도
- 그림과 같은 스프링 조합에서 스프링 상수는 몇 kgf/cm인가?(단, 스프링상수 $k_1 = 50\text{kgf/cm}$, $k_2 = 50\text{kgf/cm}$, $k_3 = 100\text{kgf/cm}$ 이다.)



- ① 300 ② 200
 ③ 150 ④ 50
- 두 축이 같은 평면 내에 있으면서 그 중심선이 어느 각도로 교차하고 있을 때 사용하는 축 이음으로 자동차, 공작기계 등에 사용되는 것은?
 ① 플렉시블 커플링 ② 플랜지 커플링
 ③ 유니버설 조인트 ④ 셸러 커플링
- 우드러프 키라고도 하며, 일반적으로 60mm 이하의 작은 축에 사용되고 특히 데이퍼 축에 편리한 키는?
 ① 원뿔키 ② 성크 키
 ③ 반달키 ④ 평키
- 베어링의 호칭번호 6203의 안지름 치수는 몇 mm인가?
 ① 10 ② 12
 ③ 15 ④ 17
- 벨트를 걸었을 때 이완측에 설치하여 벨트와 벨트 풀리의 접촉각을 크게 해주는 것은?
 ① 긴장차 ② 안내차
 ③ 공전차 ④ 단차
- 브레이크 재료로 사용시 마찰계수가 가장 큰 것은?(단, 마찰 조건은 건조 상태이다)
 ① 주철 ② 가죽
 ③ 연강 ④ 석면

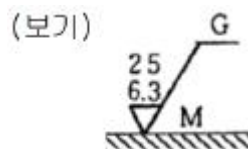
- 다이캐스팅 합금으로 요구되는 성질이 아닌 것은?
 ① 유동성이 좋을 것
 ② 금형에 대한 정착성이 좋을 것
 ③ 응고수축에 대한 용탕 보금성이 좋을 것
 ④ 열간취성이 적을 것

- 다른 구리합금에 비하여 강도, 경도, 인성, 내마멸성, 내열성 및 내식성 등의 기계적 성질 및 내피로성이 우수하여 선박용 추진기 재료로 활용되며, 자기 풀림 현상이 나타나는 청동은?
 ① 베릴륨 청동 ② 인 청동
 ③ 납 청동 ④ 알루미늄 청동
- 비중이 10.497 용융점이 960℃인 금속으로 열 전도도 및 전기 전도도가 양호한 것은?
 ① 은(Ag) ② 구리(Cu)
 ③ 금(Au) ④ 마그네슘(Mg)
- 플라이트 주철이며 흑연을 미세화시켜 인장강도를 245MPa 이상으로 강화시킨 주철로서 피스톤에 가장 적합한 주철은?
 ① 보통 주철 ② 고급 주철
 ③ 구상흑연 주철 ④ 가단 주철
- 탄성 한도 및 피로 한도가 높아 스프링을 만드는 재료로 가장 적합한 것은?
 ① SPS6 ② SKH4
 ③ STC4 ④ SS330
- 금속 및 경질의 금속간 화합물로 이루어지고, 그 경질상 중의 주성분이 WC인 것으로 독일의 워디아 제품을 시작으로 미국의 카아볼로이, 영국의 미디아, 일본의 텅갈로이 등 제품이 소개된 이것을 무엇이라 하는가?
 ① 탄화물 합금 ② 고속도강
 ③ 초경합금 ④ 주조경질합금

2과목 : 기계제도(절삭부분)

- 분할 핀의 호칭법으로 알맞은 것은?
 ① 분할 핀 KS B 1321 - 등급 - 형식
 ② 분할 핀 KS B 1321 - 호칭지름 × 길이, 지정사항
 ③ 분할 핀 KS B 1321 - 호칭지름 × 길이 - 재료
 ④ 분할 핀 KS B 1321 - 길이 - 재료

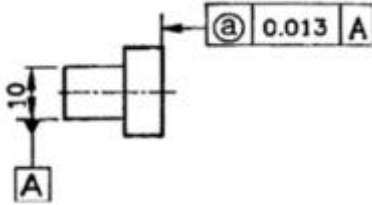
- 보기와 같은 표면의 결 도시기호 해독으로 틀린 것은?



- G는 연삭 가공을 의미한다.
- M은 커터의 줄무늬 방향기호
- 최대 높이 거칠기 값은 25 μm
- 표면 거칠기 구분 값의 하한은 6.3 μm

- 보기 도면에서 a 부분에 표시되어야 할 기하공차의 기호로

가장 적합한 것은?

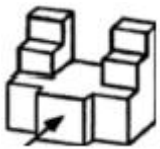


- ① ② ③ ④

19. 구멍이 $50^{+0.049}_{+0.010}$ 이고, 축이 $50^{-0.011}_{-0.030}$ 일 때 최대 틈새는?

- ① 0.021 ② 0.040 ③ 0.060 ④ 0.079

20. 보기의 입체도에서 화살표 방향이 정면도일 경우 평면 도로 가장 적합한 것은?



- ① ② ③ ④

21. 실물길이가 100mm인 형상을 1:2로 축척하여 제도한 경우 다음 설명 중 옳바른 것은?

- ① 도면에 그려지는 길이는 50mm 이고, 치수는 100mm로 기입한다.
② 도면에 그려지는 길이는 100mm 이고, 치수는 50mm로 기입한다.
③ 도면에 그려지는 길이는 50mm이고, 치수는 50mm로 기입한다.
④ 도면에 그려지는 길이는 100mm이고, 치수는 100mm로 기입한다.

22. KS 나사 표시법에서 "원 2줄 M20 x 1.5 - 6H"로 표시된 경우 "1.5"은 나사의 무엇을 나타낸 것인가?

- ① 피치 ② 1인치당 나사 산수 ③ 등급 ④ 산의 높이

23. 투상도법 중 제 1각법과 제 3각법이 속하는 투상 도법은?

- ① 정투상법 ② 등각투상법 ③ 경사투상법 ④ 다이메트릭투상법

24. 보기 입체도에서 화살표 방향을 정면도로 할 경우 제 3각법에 의한 투상도로 가장 적합한 것은?

(보기)



- ① ② ③ ④

25. 기계제도에서 물체의 보이는 부분의 형상을 나타내는 외형 선으로 사용하는 선은?

- ① 가는 실선 ② 굵은 1점 쇄선 ③ 굵은 실선 ④ 가는 1점 쇄선

26. 밀링 커터의 공구가 중 날의 윗면과 날끝을 지나는 중심선 사이의 각으로 크게 하면 절삭 저항은 감소하나 날이 약해지는 단점을 갖는 것은?

- ① 랜드 ② 경사각 ③ 날끝각 ④ 여유각

27. 탭의 파손 원인으로 관계가 먼 것은?

- ① 탭이 경사지게 들어간 경우
② 막힌 구멍의 밑바닥에 탭의 선단이 닿았을 경우
③ 나사 구멍이 너무 크게 가공된 경우
④ 탭의 지름에 적합한 핸들을 사용하지 않는 경우

28. 길이 측정시 오차를 최소로 줄이기 위해서 [표준자와 피측정물은 동일 축선상에 위치하여야 한다]는 원리는?

- ① 아베의 원리 ② 테일러의 원리 ③ 요한슨의 원리 ④ NPL식 원리

29. 밀링 머신의 부속장치가 아닌 것은?

- ① 면판 ② 분할대 ③ 슬로팅 장치 ④ 래크 절삭장치

30. 지름이 작은 가공물이나 각 봉재를 가공할 때 편리하며, 보통 선반에서 사용할 경우에는 주축의 테이퍼 구멍에 슬리브를 끼우고 여기에 부착하여 사용하는 척은?

- ① 유압 척 ② 콜릿 척 ③ 마그네틱 척 ④ 연동 척

3과목 : 기계공작법

31. 수평밀링머신의 프레임 커터 작업에서 상향절삭과 비교한 하향절삭(내려깎기)의 장점으로 옳은 것은?

- ① 날 자리 간격이 짧고, 가공면이 깨끗하다.
② 기계에 무리를 주지 않는다.
③ 이송 기구의 백래시가 자연히 제거된다.

- ④ 절삭열에 의한 치수 정밀도의 변화가 작다.
32. 일반적으로 요구되는 절삭공구의 조건으로 틀린 것은?
 ① 가공재료보다 경도가 클 것
 ② 인성과 내마모성이 작을 것
 ③ 고온에서 경도를 유지할 것
 ④ 성형성이 좋을 것
33. 정밀도가 매우 높은 공작기계로 항온실에 설치하며 주로 공구나 지그가공을 목적으로 사용되는 보링머신은?
 ① 수평형 보링 머신 ② 수직형 보링 머신
 ③ 지그 보링 머신 ④ 정밀 보링 머신
34. 공구의 회전 운동과 공작물의 직선 운동에 의하여 일감을 가공하는 공작기계는?
 ① 선반 ② 세이퍼
 ③ 슬로터 ④ 밀링 머신
35. 다음 중 나사의 유효지름을 측정할 때 가장 정밀도가 높은 측정법은?
 ① 공구현미경에 의한 측정 ② 투영기에 의한 측정
 ③ 나사 마이크로미터에 의한 측정 ④ 삼침법에 의한 측정
36. 절삭 공구로 공작물을 가공할 때 연속형(유동형)칩의 발생조건에 해당하지 않는 것은?
 ① 절삭 속도가 빠를 때
 ② 이송 속도가 빠를 때
 ③ 공구의 윗면 경사각이 클 때
 ④ 재질이 연한 공작물을 가공할 때
37. 센터리스 연삭의 장점이 아닌 것은?
 ① 센터 구멍을 뚫을 필요가 없다.
 ② 지름이 크고 무거운 공작물에 적합하다.
 ③ 공구의 윗면 경사각이 클 때
 ④ 재질이 연한 공작물을 가공할 때
38. 절삭 가공을 할 때 열이 발생하는 이유와 가장 관계가 적은 것은?
 ① 칩과 공구의 경사면이 마찰할 때
 ② 공구의 여유면을 따라 칩이 일어날 때
 ③ 전단면에서 전단 소성 변형이 일어날 때
 ④ 공구 여유면과 공작물 표면이 마찰할 때
39. 일반적으로 연삭 숫돌의 표시는 $WA \cdot 48 \cdot H \cdot m \cdot s$ 와 같은 방법으로 표시한다. 여기서 s가 의미하는 것은?
 ① 입도 ② 결합제
 ③ 조직 ④ 연삭숫돌 입자
40. 선반 주요 부분의 명칭에 해당하지 않는 것은?
 ① 주축대 ② 심압대
 ③ 베드 ④ 니이

4과목 : CNC공작법 및 안전관리

41. 방전 가공용 전극 재료의 조건으로 틀린 것은?

- ① 방전이 안전하고 가공속도가 클 것
 ② 가공 전극의 소모가 많을 것
 ③ 가공 정밀도가 높을 것
 ④ 구하기 쉽고 값이 저렴할 것

42. 머시닝센터에서 직경 25mm인 앤드밀로 주철을 가공하려고 할 때 주철의 회전수는 약 몇 rpm인가?(단, 주철의 추천 절삭속도는 50m/min이다)
 ① 393 ② 593
 ③ 637 ④ 897

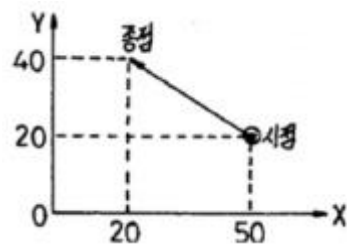
43. 다음의 CNC 프로그램 시트에서 F300의 의미는?

N	G	X	Y	Z	I	J	F
N1	G90						
N2	G00	X30.	Y20.	Z2.			
N3	G01			Z-5.			F300
N4	G01	X30.	Y70.				
N5	G01	X50.	Y70.				
N6	G03	X90.	Y70.		I20.	J0.	

- ① 주축 회전수 ② 공구 선택번호
 ③ 공구 보정번호 ④ 절입시 이송속도

44. 날 수가 4개인 밀링 커터로 공작물을 1날당 0.1mm로 이송하여 절삭하는 경우 이송 속도는 몇 mm/min인가?(단, 주축 회전수는 500rpm이다.)
 ① 80 ② 150
 ③ 200 ④ 250

45. 머시닝센터 프로그램에서 그림과 같은 증분좌표 지령으로 맞는 것은?



- ① G90 X20. Y40. ; ② G91 X-30. Y20. ;
 ③ G90 X50. Y20. ; ④ G91 X30. Y-20. ;

46. CNC선반 프로그램에서 G99 기능의 이송 단위는?

- ① mm/rev ② mm/drg
 ③ mm/min ④ mm/sec

47. CNC선반에서 나사 절삭시 이송기능에 사용되는 숫자는 나사의 호칭법에서 무엇에 해당하는가?

- ① 피치 ② 감긴 방향
 ③ 호칭 지름 ④ 리드

48. 공구 보정에 대한 설명으로 틀린 것은?

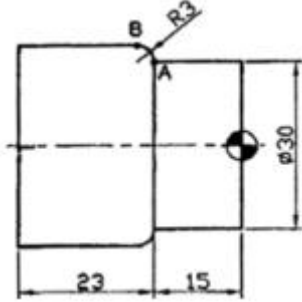
- ① G49는 공구 길이 보정 취소를 의미한다.
 ② G41, G42는 중복하여 지령할 수 있다.
 ③ 공구인선 반경 보정을 시작하는 block을 Start-Up block이라 한다.

④ G40은 공구 지름 보정 취소를 의미한다.

49. 공작 기계의 안전 수칙에 대한 설명으로 틀린 것은?

- ① 공작 기계 작업시 항상 보안경을 착용한다.
- ② 칩을 제거할 때는 회전 중에 장갑을 끼고 제거한다.
- ③ 절삭중이나, 회전 중에는 일감을 측정하지 않는다.
- ④ 기계의 회전을 손이나 공구로 멈추지 않는다.

50. 다음 도면에서 A점에서 B점으로 가공하는 CNC선반 프로그램으로 맞는 것은?



- ① G02 X33.0 Z-18.0 R3.0 ② G03 X33.0 Z-18.0 R3.0
- ③ G02 X36.0 Z-18.0 R3.0 ④ G03 X36.0 Z-18.0 R3.0

51. CNC 선반의 기계 일상 점검 중 매일 점검 항목으로 볼수 없는 것은?

- ① 기계 정도 검사 ② 외관 검사
- ③ 유량 검사 ④ 압력 검사

52. CNC 공작기계의 제어 방식이 아닌 것은?

- ① 위치를 결정 제어 ② 모방 제어
- ③ 직선절삭 제어 ④ 윤곽절삭 제어

53. CNC 밀링에서 나선 홈 절삭에 필요한 부가축(A,B,C)에 해당되는 범용 밀링머신의 부속장치는?

- ① 아버 ② 수직축 장치
- ③ 분할대 ④ 밀링 바이스

54. CNC 공작기계의 절삭 가공에 따른 안전사항으로 틀린 것은?

- ① 운전 중 비상시에는 비상정지 버튼을 누른다.
- ② 충돌 사고에 유의한다.
- ③ 공작물은 경고하게 고정하고 절삭을 하여야 한다.
- ④ 자동운전 중에 칩을 손으로 제거해도 된다.

55. 여러 대의 CNC 공작기계를 한 대의 컴퓨터에 연결해 데이터를 분배하여 전송함으로써 동시에 운전할 수 있는 방식은?

- ① NC ② CNC
- ③ DNC ④ CAD

56. CNC 선반에서 G04 지령절에 사용할 수 없는 어드레스는?

- ① X ② P
- ③ U ④ A

57. CNC 선반에서 단일형 고정 사이클 프로그램에 대한 설명으로 틀린 것은?

- ① 단일형 고정 사이클을 사용한 프로그램은 일반 프로그램

보다 길이가 짧다

- ② G70, G71, G75가 단일형 고정 사이클에 속한다.
- ③ 초기점에서 가공을 시작하고 다시 초기점으로 돌아온 후 고정 사이클이 종료되므로 초기점 지정이 중요하다.
- ④ 초기점의 위치는 고정 사이클을 명령하기 직전의 공구 위치가 된다.

58. CNC 프로그램에서 보조 프로그램에 대한 설명으로 틀린 것은?

- ① 보조 프로그램의 마지막에는 M99가 필요하다.
- ② 보조 프로그램은 다른 보조 프로그램을 가질 수 있다.
- ③ 보조 프로그램을 호출할 때는 M98을 사용한다.
- ④ 주프로그램은 오직 하나의 보조 프로그램만 가질 수 있다.

59. 다음 CNC 선반 프로그램에서 세 번째 블록에서의 회전 수는 약 몇 rpm 인가?

```
G50 X150.0 Z200.0 S1300 T0100 M42 ;
G96 S150 M03 ;
G00 X62.0 Z0.0 T0101 M08 ;
G01 X-1.6 F0.2 ;
```

- ① 150 ② 1001
- ③ 770 ④ 1300

60. 프로그램 작성자가 프로그램을 쉽게 작성하기 위하여 공작물 임의의 점을 원점으로 정해 명령의 기준점이 되도록 한 좌표계는?

- ① 기계 좌표계 ② 절대 좌표계
- ③ 상대 좌표계 ④ 잔여 좌표계

전자문제집 CBT PC 버전 : www.comcbt.com

전자문제집 CBT 모바일 버전 : m.comcbt.com

기출문제 및 해설집 다운로드 : www.comcbt.com/xs

전자문제집 CBT란?

종이 문제집이 아닌 인터넷으로 문제를 풀고 자동으로 채점하며 모의고사, 오답 노트, 해설까지 제공하는 무료 기출문제 학습 프로그램으로 실제 시험에서 사용하는 OMR 형식의 CBT를 제공합니다.

PC 버전 및 모바일 버전 완벽 연동

교사용/학생용 관리기능도 제공합니다.

오답 및 오탈자가 수정된 최신 자료와 해설은 전자문제집 CBT에서 확인하세요.

1	2	3	4	5	6	7	8	9	10
②	②	③	④	③	③	④	①	④	②
11	12	13	14	15	16	17	18	19	20
④	①	②	①	③	③	③	③	④	①
21	22	23	24	25	26	27	28	29	30
①	①	①	①	③	②	③	①	①	②
31	32	33	34	35	36	37	38	39	40
①	②	③	④	④	②	②	②	②	④
41	42	43	44	45	46	47	48	49	50
②	③	④	③	②	①	④	②	②	④
51	52	53	54	55	56	57	58	59	60
①	②	③	④	③	④	②	④	③	②