

1과목 : 기계재료 및 요소

1. 일반적으로 축과 보스에 자동적으로 조정되어 테이퍼 축의 회전체를 결합할 때 사용되는 키(key)는?

- ① 원뿔 키                      ② 패더 키  
③ 반달 키                      ④ 평 키

2. 다음은 무엇에 대한 설명인가?

2개의 축이 평행하지만 축선의 위치가 머긔나 있을 때 사용하며, 한개의 원판 앞뒤에 서로 직각 방향으로 키 모양의 돌기를 만들어 이것을 양 축 사이의 플랜지 사이에 끼워 놓아 한쪽의 축을 회전시키면 중앙의 원판이 홀에 따라서 미끄러지며 다른 쪽의 축에 회전력을 전달시키는 축이음 방법이다.

- ① 플렉시블 커플링            ② 유니버설 커플링  
③ 올덤 커플링                ④ 마찰 클러치

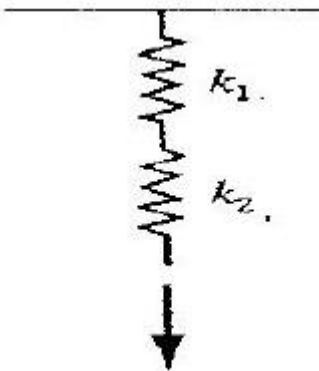
3. 아이볼트에 로프를 걸어 20 kN의 물체를 들어 올릴 때 아이볼트 나사의 크기로 가장 적당한 것은?(단, 나사는 미터 보통 나사를 사용하며, 허용인장응력은 48 N/mm<sup>2</sup> 이다.)

- ① M 26                        ② M 30  
③ M 36                        ④ M 42

4. 탄소강의 경도를 높이기 위하여 실시하는 열처리는?

- ① 불림                        ② 풀림  
③ 담금질                      ④ 뜨임

5. 다음과 같은 스프링 상수에서 상수가  $k_1=10[N/mm]$ ,  $k_2=15[N/mm]$ 라면 합성 스프링 상수 값은 얼마인가?



- ① 3[N/mm]                      ② 6[N/mm]  
③ 9[N/mm]                      ④ 12[N/mm]

6. 금속침투법[cementation] 중 크롬을 확산 침투시키는 표면경화법은?

- ① 셰라다이징(shotadizing)    ② 크로마이징(chromizing)  
③ 칼로라이징(calorizing)      ④ 패터닝(patenting)

7. "밀링에 사용하는 엔드밀의 재료로 일반적으로 SKH2를 사용한다."에서 SKH는 어떤 재료를 나타내는 KS 기호인가?

- ① 일반 구조용 압연강재    ② 고속도 공구강재  
③ 기계 구조용 탄소강재    ④ 탄소 공구강재

8. 주철의 성질에 관한 설명으로 틀린 것은?

- ① 절삭가공이 쉽다.  
② 내마모성이 우수하다.  
③ 압축강도는 적으나 인장강도 및 굽힘강도가 크다.  
④ 주조성이 우수하며, 크고 복잡한 것도 제작이 용이하다.

9. 절삭 공구로 사용되는 재료가 아닌 것은?

- ① 페놀                        ② 서멧  
③ 세라믹                      ④ 초경합금

10. 구리 4%, 마그네슘 0.5%, 망간 0.5%, 나머지가 알루미늄인 고강도 알루미늄 합금은?

- ① 실루민                      ② 두랄루민  
③ 라우탈                      ④ 로우엑스

11. 베어링 재료의 구비조건이 아닌 것은?

- ① 윤착성이 좋을 것    ② 피로강도가 클 것  
③ 내식성이 강할 것    ④ 내열성을 가질 것

12. 다음 기계요소를 사용기능에 따라 분류한 내용 중 틀린 것은?

- ① 결합용 기계요소 : 나사, 볼트, 너트, 키, 핀 코터  
② 축용 기계요소 : 축, 커플링, 베어링  
③ 전동용 기계요소 : 벨트, 로프, 체인, 마찰차, 기어  
④ 제동 및 완충용 기계요소 : 관 이음쇠, 밸브와 콕

13. 원주피치(P)와 모듈(m) 과의 관계를 올바르게 표시한 것은?

- ①  $P = \pi m$                       ②  $P = \pi/m$   
③  $P = 2\pi m$                       ④  $P = m/\pi$

14. 구리의 특성에 대한 설명으로 틀린 것은?

- ① 전연성이 좋아 가공이 용이하다.  
② 전기 및 열의 전도성이 우수하다.  
③ 화학적 저항력이 커서 부식이 잘되지 않는다.  
④ 비중이 작아 경금속에 속한다.

15. 원통형 코일 스프링의 지수가 9이고, 코일의 평균 지름이 180mm 이면 소선의 지름은 몇 mm 인가?

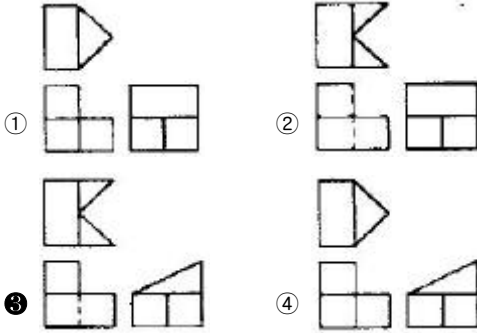
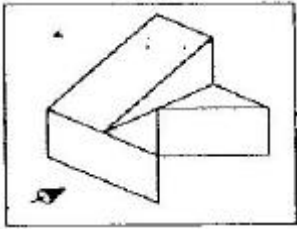
- ① 9                              ② 18  
③ 20                              ④ 27

2과목 : 기계제도(절삭부분)

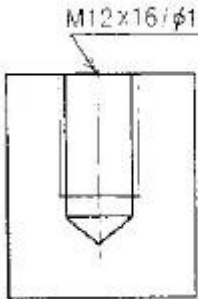
16. 기어를 제도할 때 굵은 실선으로 나타내야 하는 것은?

- ① 잇봉우리원  
② 주 투영도를 단면으로 도시할 때 외접 헬리컬 기어의 잇줄방향  
③ 피치원  
④ 잇줄 방향선

17. 그림과 같은 입체도에서 화살표 방향이 정면일 경우 제3각법으로 제도한 것으로 가장 올바른 것은?

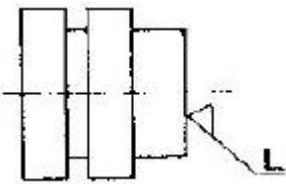


18. 그림과 같은 나사 도면에서 M12 × 16 / ø10.2 × 20 으로 표시된 치수 기입의 도면해독으로 올바른 것은?



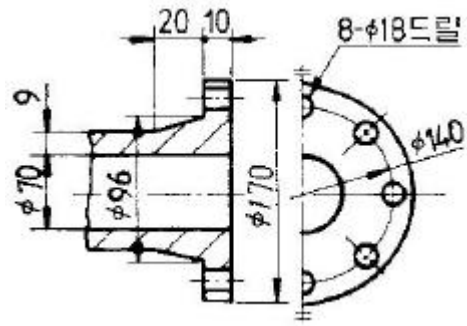
- ① 암나사를 가공하기 위한 구멍가공 드릴지름은 ø12mm
- ② 암나사를 가공하기 위한 구멍가공 드릴지름은 ø16mm
- ③ 암나사를 가공하기 위한 구멍가공 드릴지름은 ø10.2mm
- ④ 암나사를 가공하기 위한 구멍가공 드릴지름은 ø20mm

19. 그림과 같이 선반으로 가공한 단면의 커터의 줄무늬 방향 기호로 가장 적합한 것은?



- ① =
- ② C
- ③ M
- ④ R

20. 도면과 같은 제품을 드릴 지름 18mm로 구멍을 뚫을 때, 관통 구멍부인 플랜지의 두께 치수는?



- ① 8
- ② 9
- ③ 10
- ④ 18

21. 기계 제도에서 굵은 1점 쇄선을 사용하는 경우로 가장 적합한 것은?

- ① 대상물의 보이는 부분의 겉모양을 표시하기 위하여 사용한다.
- ② 치수를 기입하기 위하여 사용한다.
- ③ 도형의 중심을 표시하기 위하여 사용한다.
- ④ 특수한 가공 부위를 표시하기 위하여 사용한다.

22. KS 재료 기호 중에서 회주철의 기호는?

- ① SBC
- ② GC
- ③ SC
- ④ GCD

23. 다음 중 치수 입력시 숫자와 병기해서 사용하지 않는 기호는?

- ① C
- ② R
- ③ S∅
- ④

24. 대칭형의 대상물을 외형도의 절반과 온단면도의 절반을 조합하여 나타낸 단면도는?

- ① 계단 단면도
- ② 한쪽 단면도
- ③ 부분 단면도
- ④ 회전 단면도

25. 구멍의 최대치수가 축의 최소치수보다 작은 경우이며 항상 첨새가 생기는 끼워 맞춤을 무엇이라 하는가?

- ① 헐거운 끼워 맞춤
- ② 억지 끼워 맞춤
- ③ 중간 끼워 맞춤
- ④ 조립 끼워 맞춤

26. 센터리스 연삭기의 특징 설명으로 틀린 것은?

- ① 긴 홈이 있는 가공물의 연삭에 적합하다.
- ② 중공(中空)의 가공물 원통 연삭이 가능하다.
- ③ 가늘고 긴 가공물 연삭이 적합하다.
- ④ 대형이나 중량물의 연삭은 불가능하다.

27. 기어 절삭 방법에 해당하지 않는 것은?

- ① 형판을 이용한 방법
- ② 총형 커터를 이용한 방법
- ③ 복식 공구대를 이용한 방법
- ④ 창성법을 이용한 방법

28. 공작물을 절삭 공구로 절삭할 때 발생하는 절삭열은 다음 세 가지 때문이다. 이들의 절삭열 분산 비율로 가장 적당한 것은?

A : 칩과 공구 경사면이 마찰할 때 생기는 열  
 B : 전단면에서 전단 소성 변형이 일어날 때 생기는 열  
 C : 공구 여유면과 공작물 표면이 마찰할 때 생기는 열

- ① A : 33%, B : 33%, C : 33%  
 ② A : 10%, B : 30%, C : 60%  
 ③ A : 60%, B : 30%, C : 10%  
**④ A : 30%, B : 60%, C : 10%**

29. 합금 공구강을 설명한 내용 중 옳지 않은 것은?

- ① 탄소 공구강에 Cr, W, Ni, V 등의 성분을 첨가하여 만든다.  
 ② 탄소 공구강보다 절삭 성능이 좋고 내마멸성과 고온 경도가 높다.  
 ③ 450℃ 정도까지는 경도를 유지할 수 있다.  
**④ 합금 공구강의 대표적인 것은 스텔라이트이다.**

30. 스텔라이트 앤빌의 측정명이 원추형으로 드릴의 홀이나 나사의 끝지름 등을 측정하는데 주로 사용되는 마이크로미터는?

- ① 그루브 마이크로미터    **② 포인트 마이크로미터**  
 ③ 지시 마이크로미터    ④ 기어 마이크로미터

### 3과목 : 기계공작법

31. 날 눈의 세워진 방식에 따라서 분류한 줄의 종류에 해당하지 않는 것은?

- ① 단목                      ② 복목  
 ③ 귀목                      **④ 유목**

32. 지름이 40mm인 연강을 주축 회전수가 500rpm인 선반으로 절삭할 때의 절삭속도는 약 몇 m/min인가?

- ① 12.5                      ② 20.0  
 ③ 31.4                      **④ 62.8**

33. 밀링 가공시 분할대를 사용하여 분할하는 방법이 아닌 것은?

- ① 직접 분할법              **② 간접 분할법**  
 ③ 차동 분할법              ④ 단식 분할법

34. 다음 숫돌 입자의 기호 중 경도가 가장 높은 것은?

- ① A                          ② B  
 ③ WA                      **④ GC**

35. 기어나 벨트 풀리의 소재와 같이 구멍이 뚫린 일감의 바깥 원통면이나 옆면을 가공할 때 구멍에 끼워 센터로 지지하기 위한 선반용 부품은?

- ① 면판                      **② 맨드릴**  
 ③ 방진구                      ④ 센터

36. 래핑의 일반적인 특징 설명으로 틀린 것은?

- ① 가공면이 매끈한 거울면을 얻을 수 있다.  
 ② 정밀도가 높은 제품을 가공할 수 있다.

- ③ 가공이 복잡하고 대량 생산이 불가능하다.  
 ④ 작업이 지저분하고 먼지가 많다.

37. 수직형 밀링 머신에서 사용하는 절삭 공구가 아닌 것은?

- ① 엔드밀                      ② T홀 커터  
 ③ 더브테일 커터              **④ 플레인 밀링 커터**

38. 절삭가공에서 구성인선(built-up edge)의 방지 대책으로 옳은 것은?

- ① 절삭 속도를 낮춘다.  
 ② 절삭 깊이를 크게 한다.  
**③ 윤활성이 좋은 절삭 유제를 사용한다.**  
 ④ 바이트의 윗면 경사각을 작게 한다.

39. 각도 측정 방법에 해당하지 않는 것은?

- ① 각도게이지를 이용한 각도 측정  
 ② 사인바를 이용한 각도 측정  
**③ 나이프 에지를 이용한 각도 측정**  
 ④ 만능 바벨 각도기를 이용한 각도 측정

40. 선반의 주요 부분이 아닌 것은?

- ① 컬럼**                          ② 왕복대  
 ③ 심압대                      ④ 주축대

### 4과목 : CNC공작법 및 안전관리

41. 기계공작은 가공 방법에 따라 절삭 가공과 비절삭 가공으로 나눈다. 다음 중 절삭 가공 방법이 아닌 것은?

- ① 선삭                          ② 밀링  
**③ 용접**                          ④ 드릴형

42. 니형 밀링머신의 컬럼면에 설치하는 것으로 주축의 회전 운동을 수직 왕복 운동으로 변환시켜 주는 장치는?

- ① 원형테이블                  ② 분할대  
 ③ 래크 절삭 장치              **④ 슬로팅 장치**

43. CNC기계 조작반의 모드 선택 스위치 중 새로운 프로그램을 작성하고 등록된 프로그램을 삽입, 수정, 삭제할 수 있는 모드는 무엇인가?

- ① JOG                          ② AUTO  
 ③ MDI                          **④ EDIT**

44. CNC공작기계의 조작판에서 선택적 프로그램 정지(optional program stop)를 나타내는 M기능은?

- ① M00                          **② M01**  
 ③ M02                          ④ M05

45. CNC 공작기계의 특징에 해당하지 않는 것은?

- ① 제품의 균일성을 유지할 수 없다.**  
 ② 생산성을 향상시킬 수 있다.  
 ③ 제조원가 및 인건비를 절감할 수 있다.  
 ④ 특수 공구제작의 불필요로 공구 관리비를 절감할 수 있다.

46. CNC기계의 동력 전달 방법에 속하지 않는 것은?

- ① 기어(gear)                      ② 타이밍 벨트(timing belt)  
③ 커플링(coupling)              ④ 로프(lope)

47. CNC선반의 원점복귀 기능 중 자동원점복귀를 나타내는 것은?

- ① G27                                  ② G28  
③ G29                                  ④ G30

48. CNC 공작기계에서 전원을 투입한 후 일반적으로 제일 처음 하는 것은?

- ① 좌표계 설정                      ② 기계 원점 복귀  
③ 제 2 원점 복귀                  ④ 자동 공구 교환

49. CNC선반에서의 나사가공(G32)에 대한 설명으로 틀린 것은?

- ① 이송속도 조절 오버라이드는 100%로 고정하여야 한다.  
② 주축 회전수 일정제어(G97)로 지령하여야 한다.  
③ 가공 도중에 이송 정지(Feed hold) 스위치를 ON 하면 자동으로 정지한다.  
④ 나사가공이 완료되면 자동으로 시작점으로 복귀한다.

50. CNC 선반에서 NC 프로그램을 작성할 때 소수점을 사용할 수 있는 어드레스만으로 구성된 것은?

- ① X, U, R, F                      ② W, I, K, P  
③ Z, G, D, Q                      ④ P, X, N, E

51. 밀링작업에서 안전 및 유의사항으로 틀린 것은?

- ① 정면 밀링 커터 작업시 칩 커버를 설치한다.  
② 측정기와 공구는 기계 테이블위에 놓고 작업한다.  
③ 공작물 설치시는 반드시 주축을 정지시킨다.  
④ 주축 회전 중에는 칩을 제거하지 않는다.

52. CNC선반에서 원호 가공을 할 때 반지름 값을 R 값이나 I, K 값으로 명령하게 되는데 Z축 방향의 원호 가공 값에 해당하는 것은?

- ① I                                      ② U  
③ W                                      ④ K

53. 다음 CNC선반 프로그램에서 공작물 직경이 10mm일 때의 주축의 회전수는 몇 rpm인가?

```
G50 X150.0 Z200.0 S2000 T0100 ;
G96 S120 M03 ;
```

- ① 382                                  ② 1000  
③ 2000                                  ④ 3820

54. DNC 시스템의 구성요소가 아닌 것은?

- ① CNC 공작기계                      ② 중앙 컴퓨터  
③ 통신선                                  ④ 디지털타이저

55. CNC선반에서 이송이 정지되는 휴지(dwell) 시간이 나머지 셋과 다른 것은?

- ① G04, X2.5 ;                      ② G04 U2.5 ;  
③ G04 X250 ;                      ④ G04 P2500 ;

56. 다음 CNC선반의 안·바깥지름 거친절삭 사이클(G71)의 내

용을 설명한 것 중 틀린 것은?

```
G71 P100 Q200 U0.6 W0.3 D2000 F0.25
```

- ① P100 Q200은 다듬 절삭가공 지령절의 첫번째 전개번호와 마지막 전개번호이다.  
② U0.6은 X축 방향 다듬절삭 여유(지름 지령) 이다.  
③ W0.3은 Z축 방향 다듬절삭 여유이다.  
④ D2000은 가공 길이(지름 지령)이다.

57. 머시닝센터에서  $\phi 12-2$ 날 초경합금 엔드밀을 이용하여 절삭 속도 35m/min, 이송 0.05mm/날, 절삭 깊이 7mm의 절삭 조건으로 가공하고자 할 때 다음 프로그램의 ( )에 적합한 데이터는?

```
G01 G91 X200.0 F( )
```

- ① 12.25                                  ② 35.0  
③ 92.8                                  ④ 928.0

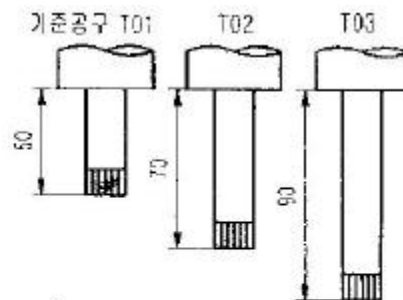
58. 머시닝센터 프로그램에 관한 다음 설명 중 틀린 것은?

- ① 절대 명령은 G90으로 지령한다.  
② 증분 명령은 G92로 지령한다.  
③ 증분 명령은 공구 이동 시작점부터 끝점까지의 이동량(거리)으로 명령하는 방법이다.  
④ 절대 명령은 공구 이동 끝점의 위치를 공작물 좌표계 원점을 기준으로 명령하는 방법이다.

59. CNC 기계 가공 중 충돌 사고가 발생할 위험이 있을 때, 응급 처리 내용으로 가장 알맞은 것은?

- ① 선택적 정지(optional stop) 버튼을 누른다.  
② 원상 복귀(reset) 버튼을 누른다.  
③ 가공 시작(cycle start) 버튼을 누른다.  
④ 비상 정지(emergency stop) 버튼을 누른다.

60. 아래의 프로그램으로 머시닝센터 작업시 공구의 길이가 그림과 같을 때 H03에 대한 적합한 공구 길이 보정값은?



```
T03 ;
G90 G44 G00 Z10. H03 ;
S950 M03 ;
```

- ① 40                                      ② -40  
③ -90                                      ④ 90

전자문제집 CBT PC 버전 : [www.comcbt.com](http://www.comcbt.com)  
 전자문제집 CBT 모바일 버전 : [m.comcbt.com](http://m.comcbt.com)  
 기출문제 및 해설집 다운로드 : [www.comcbt.com/xs](http://www.comcbt.com/xs)

#### 전자문제집 CBT란?

종이 문제집이 아닌 인터넷으로 문제를 풀고 자동으로 채점하며  
 모의고사, 오답 노트, 해설까지 제공하는 무료 기출문제 학습 프  
 로그램으로 실제 시험에서 사용하는 OMR 형식의 CBT를 제공합  
 니다.

PC 버전 및 모바일 버전 완벽 연동  
 교사용/학생용 관리기능도 제공합니다.

오답 및 오탈자가 수정된 최신 자료와 해설은 전자문제집 CBT  
 에서 확인하세요.

1	2	3	4	5	6	7	8	9	10
③	③	②	③	②	②	②	③	①	②
11	12	13	14	15	16	17	18	19	20
①	④	①	④	③	①	③	③	②	③
21	22	23	24	25	26	27	28	29	30
④	②	④	②	②	①	③	④	④	②
31	32	33	34	35	36	37	38	39	40
④	④	②	④	②	③	④	③	③	①
41	42	43	44	45	46	47	48	49	50
③	④	④	②	①	④	②	②	③	①
51	52	53	54	55	56	57	58	59	60
②	④	③	④	③	④	③	②	④	②