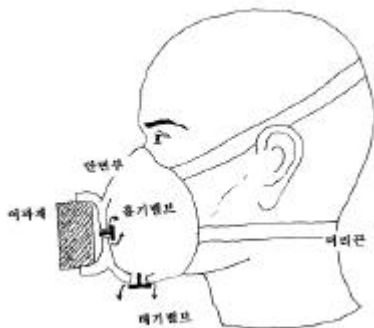


1과목 : 산업안전관리론

- 다음 중 일반적인 안전관리 조직의 기본 유형으로 볼 수 없는 것은?  
① line system                      ② staff system  
③ safety system                    ④ line-staff system
- 다음 중 적성배치시 작업자의 특성과 가장 관계가 적은 것은?  
① 연령                                  ② 작업조건  
③ 태도                                  ④ 업무경력
- 다음 중 안전 태도 교육의 원칙으로 적절하지 않은 것은?  
① 적성 배치를 한다.                  ② 이해하고 납득한다.  
③ 항상 모범을 보인다.              ④ 지적과 처벌 위주로 한다.
- 연평균 1000명의 근로자를 채용하고 있는 사업장에서 연간 24명의 재해자가 발생하였다면 이 사업장의 연천인율은 얼마인가? (단, 근로자는 1일 8시간씩 연간 300일을 근무한다.)  
① 10                                      ② 12  
③ 24                                      ④ 48
- 다음 중 산업재해로 인한 재해손실비 산정에 있어 하인리히의 평가방식에서 직접비에 해당하지 않는 것은?  
① 통신급여                              ② 유족급여  
③ 간병급여                              ④ 직업재활급여
- 다음 중 산업안전보건법령상 안전·보건표지의 용도 및 사용 장소에 대한 표지의 분류가 가장 올바른 것은?  
① 폭발성 물질이 있는 장소 : 안내표지  
② 비상구가 좌측에 있음을 알려야 하는 장소 : 지시표지  
③ 보안경을 착용해야만 작업 또는 출입을 할 수 있는 장소 : 안내표지  
④ 정리·정돈 상태의 물체나 움직여서는 안 될 물체를 보존하기 위하여 필요한 장소 : 금지표지
- 하인리히의 재해발생 5단계 이론 중 재해 국소화 대책은 어느 단계에 대비한 대책인가?  
① 제1단계 → 제2단계                  ② 제2단계 → 제3단계  
③ 제3단계 → 제4단계                  ④ 제4단계 → 제5단계
- 다음 중 [그림]에 나타난 보호구의 명칭으로 옳은 것은?



- ① 격리식 반면형 방독마스크                  ② 직결식 반면형 방진마스크  
③ 격리식 전면형 방독마스크                  ④ 안면부여과식 방진마스크
- 다음 중 매슬로우의 욕구위계 5단계 이론을 올바르게 나열한

것은?

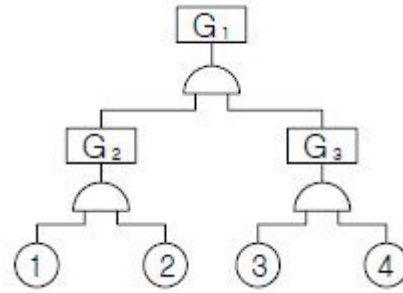
- ① 생리적 욕구 (→)사회적 욕구 (→)안전의 욕구 (→) 존경의 욕구 (→)자아실현의 욕구
- ② 안전의 욕구 (→)생리적 욕구 (→)사회적 욕구 (→) 존경의 욕구 (→)자아실현의 욕구
- ③ 생리적 욕구 (→)안전의 욕구 (→)사회적 욕구 (→) 존경의 욕구 (→)자아실현의 욕구
- ④ 사회적 욕구 (→)생리적 욕구 (→)안전의 욕구 (→) 자아실현의 욕구 (→)존경의 욕구
10. 안전교육의 방법 중 TWI(Training Within Industry forsupervisor)의 교육내용에 해당하지 않는 것은?  
① 작업지도기법(JIT)                      ② 작업개선기법(JMT)  
③ 작업환경 개선기법(JET)                  ④ 인간관계 관리기법(JRT)
11. 작업장에서 매일 작업자가 작업 전, 중, 후에 시설과 작업동작 등에 대하여 실시하는 안전점검의 종류를 무엇이라하는가?  
① 정기점검                                  ② 일상점검  
③ 임시점검                                  ④ 특별점검
12. 다음 중 재해조사시 유의사항으로 가장 적절하지 않은 것은?  
① 가급적 재해 현장이 변형되지 않은 상태에서 실시한다.  
② 목격자가 제시한 사실 이외의 추측되는 말은 정밀 분석한다.  
③ 과거 사고 발생 경향 등을 참고하여 조사한다.  
④ 객관적 입장에서 재해방지에 우선을 두고 조사한다.
13. 산업안전보건법령상 사업 내 안전·보건교육에 있어 “채용시의 교육 및 작업내용 변경 시의 교육 내용”에 해당 하지 않는 것은? (단, 산업안전보건법 및 일반관리에 관한 사항은 제외한다.)  
① 물질안전보건자료에 관한 사항  
② 사고 발생시 긴급조치에 관한 사항  
③ 작업 개시 전 점검에 관한 사항  
④ 표준안전작업방법 및 지도 요령에 관한 사항
14. 적응기제(Adjustment Mechanism) 중 방어적 기제(Defence Mechanism)에 해당하는 것은?  
① 고립(Isolation)                          ② 퇴행(Regression)  
③ 억압(Suppression)                      ④ 합리화(Rationalization)
15. 다음 중 사고의 위험이 불안정한 행위 외에 불안정한 상태에서 적용된다는 것과 가장 관계가 있는 것은?  
① 이념성                                      ② 개인차  
③ 부주의                                      ④ 지능성
16. 다음 중 기억과 망각에 관한 내용으로 틀린 것은?  
① 학습된 내용은 학습 직후의 망각률이 가장 낮다.  
② 의미없는 내용은 의미있는 내용보다 빨리 망각한다.  
③ 사고력을 요하는 내용이 단순한 지식보다 기억, 파지의 효과가 높다.  
④ 연습은 학습한 직후에 시키는 것이 효과가 있다.
17. 다음 중 안전교육의 4단계를 올바르게 나열한 것은?  
① 도입 → 확인 → 제시 → 적용

- ② 도입 → 제시 → 적용 → 확인
- ③ 확인 → 제시 → 도입 → 적용
- ④ 제시 → 확인 → 도입 → 적용

18. 다음 중 무재해운동에서 실시하는 위험예지훈련에 관한 설명으로 틀린 것은?
- ① 근로자 자신이 모르는 작업에 대한 것도 파악하기 위하여 참가집단의 대상범위를 가능한 넓혀 많은 인원이 참가하도록 한다.
  - ② 직장의 팀워크로 안전을 전원이 빨리 올바르게 선택하는 훈련이다.
  - ③ 아무리 좋은 기법이라도 시간이 많이 소요되는 것은 현장에서 큰 효과가 없다.
  - ④ 정해진 내용의 교육보다는 전원의 대화방식으로 진행한다.
19. 재해예방의 4원칙 중 대책선정의 원칙에서 관리적 대책에 해당되지 않는 것은?
- ① 안전교육 및 훈련
  - ② 동기부여와 사기 향상
  - ③ 각종 규정 및 수칙의 준수
  - ④ 경영자 및 관리자의 솔선수범
20. 다음 중 리더가 가지고 있는 세력의 유형이 아닌 것은?
- ① 전문세력(expert power)
  - ② 보상세력(reward power)
  - ③ 위임세력(entrust power)
  - ④ 합법세력(legitimate power)

## 2과목 : 인간공학 및 시스템안전공학

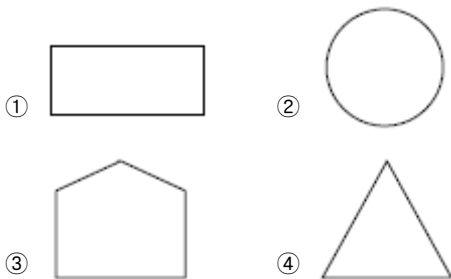
21. 인간 오류의 분류에 있어 원인에 의한 분류 중 작업의 조건이나 작업의 형태 중에서 다른 문제가 생겨 그 때문에 필요한 사항을 실행할 수 없는 오류(error)를 무엇이라 하는가?
- ① secondary error      ② primary error
  - ③ command error      ④ commission error
22. 일반적으로 스트레스로 인한 신체반응의 척도 가운데 정신적 작업의 스트레인 척도와 가장 거리가 먼 것은?
- ① 뇌전도      ② 부정맥지수
  - ③ 근전도      ④ 심박수의 변화
23. 다음 중 인간공학에 관련된 설명으로 옳지 않은 것은?
- ① 인간의 특성과 한계점을 고려하여 제품을 변경한다.
  - ② 생산성을 높이기 위해 인간의 특성을 작업에 맞추는 것이다.
  - ③ 사고를 방지하고 안전성과 능률성을 높일 수 있다.
  - ④ 편리성, 쾌적성, 효율성을 높일 수 있다.
24. 다음과 같이 ①~④의 기본사상을 가진 FT도에서 minimal cut set 으로 옳은 것은?



- ① {①, ②, ③, ④}      ② {①, ③, ④}
- ③ {①, ②}      ④ {③, ④}

25. 다음 중 조도의 단위에 해당하는 것은?
- ① fL      ② diopter
  - ③ lumen/m<sup>2</sup>      ④ lumen
26. 다음 중 불대수(Boolean algebra)의 관계식으로 옳은 것은?
- ①  $A(A \cdot B) = B$       ②  $A + B = A \cdot B$
  - ③  $A + A \cdot B = A \cdot B$       ④  $(A + B)(A + C) = A + B \cdot C$
27. 2개 공정의 소음수준 측정 결과 1공정은 100dB에서 2시간, 2공정은 90dB에서 1시간 소요될 때 총 소음량(TND)과 소음설계의 적합성을 올바르게 나열한 것은? (단, 우리나라는 90dB에 8시간 노출될 때를 허용기준으로 하며, 5dB 증가할 때 허용시간은 1/2로 감소되는 법칙을 적용한다.)
- ① TND = 0.83, 적합      ② TND = 0.93, 적합
  - ③ TND = 1.03, 적합      ④ TND = 1.13, 부적합
28. 다음 중 시스템 안전의 최종분석 단계에서 위험을 고려하는 결정인자가 아닌 것은?
- ① 효율성      ② 피해가능성
  - ③ 비용산정      ④ 시스템의 고장모드
29. 시스템이 저장되고 이동되고, 실행됨에 따라 발생하는 작동 시스템의 기능이나 과업, 활동으로부터 발생하는 위험에 초점을 맞추어 진행하는 위험분석방법은?
- ① FHA      ② OHA
  - ③ PHA      ④ SHA
30. 다음 중 인체계측에 관한 설명으로 틀린 것은?
- ① 의자, 피복과 같이 신체모양과 치수와 관련성이 높은 설비의 설계에 중요하게 반영된다.
  - ② 일반적으로 몸의 측정 치수는 구조적 치수(structural dimension)와 기능적 치수(functional dimension)로 나눌 수 있다.
  - ③ 인체계측치의 활용시에는 문화적 차이를 고려하여야한다.
  - ④ 인체계측치를 활용한 설계는 인간의 안락에는 영향을 미치지만 성능수행과는 관련성이 없다.
31. 품질 검사 작업자가 한 로트에서 검사 오류를 범할 확률이 0.1이고, 이 작업자가 하루에 5개의 로트를 검사한다면, 5개 로트에서 에러를 범하지 않을 확률은?
- ① 90%      ② 75%
  - ③ 59%      ④ 40%
32. 다음 중 얼음과 드라이아이스 등을 취급하는 작업에 대한 대책으로 적절하지 않은 것은?

- ① 더운 물과 더운 음식을 섭취한다.  
 ② 가능한 한 식염을 많이 섭취한다.  
 ③ 혈액순환을 위해 틈틈이 운동을 한다.  
 ④ 오랫동안 한 장소에 고정하여 작업하지 않는다.
33. 다음 중 망막의 원추세포가 가장 낮은 민감성을 보이는 파장의 색은?  
 ① 적색                      ② 회색  
 ③ 청색                      ④ 녹색
34. 다음 중 작업방법의 개선원칙(ECRS)에 해당되지 않는 것은?  
 ① 교육(Education)      ② 결합(Combine)  
 ③ 재배치(Rearrange)    ④ 단순화(Simplify)
35. 다음 중 시스템 안전성 평가 기법에 관한 설명으로 틀린 것은?  
 ① 가능성을 정량적으로 다룰 수 있다.  
 ② 시각적 표현에 의해 정보전달이 용이하다.  
 ③ 원인, 결과 및 모든 사상들의 관계가 명확해진다.  
 ④ 연역적 추리를 통해 결함사상을 빠짐없이 도출하나, 귀납적 추리로는 불가능하다.
36. 다음 중 시스템의 수명곡선(욕조곡선)에서 우발고장 기간에 발생하는 고장의 원인으로 볼 수 없는 것은?  
 ① 사용자의 과오 때문에  
 ② 안전계수가 낮기 때문에  
 ③ 부적절한 설치나 시동 때문에  
 ④ 최선의 검사방법으로도 탐지되지 않는 결함 때문에
37. 정보를 전송하기 위한 표시장치 중 시각장치보다 청각 장치를 사용해야 더 좋은 경우는?  
 ① 메시지가 나중에 재참조되는 경우  
 ② 직무상 수신자가 자주 움직이는 경우  
 ③ 메시지가 공간적인 위치를 다루는 경우  
 ④ 수신자가 청각계통이 과부하상태인 경우
38. FT도에 사용되는 기호 중 “시스템의 정상적인 가동상태에서 일어날 것이 기대되는 사상”을 나타내는 것은?



39. 다음 중 통제표시비(control/display ratio)를 설계할 때 고려하는 요소에 관한 설명으로 틀린 것은?  
 ① 계기의 조절시간이 짧게 소요되도록 계기의 크기(size)는 항상 작게 설계한다.  
 ② 짧은 주행 시간 내에 공차의 인정범위를 초과하지 않는 계기를 마련한다.  
 ③ 목시거리(目視距離)가 길면 길수록 조절의 정확도는 떨어

- 진다.  
 ④ 통제표시비가 낮다는 것은 민감한 장치라는 것을 의미한다.
40. 인간공학의 중요한 연구과제인 계면(interface)설계에 있어서 다음 중 계면에 해당되지 않는 것은?  
 ① 작업공간                      ② 표시장치  
 ③ 조종장치                      ④ 조명시설

### 3과목 : 건설시공학

41. 공사 감리자에 대한 설명 중 틀린 것은?  
 ① 시공계획의 검토 및 조언을 한다.  
 ② 문서화된 품질관리에 대한 지시를 한다.  
 ③ 품질하자에 대한 수정방법을 제시한다.  
 ④ 건축의 형상, 구조, 규모 등을 결정한다.
42. 건설공사 완료 후 부설 시공부분에 재시공을 보장하기 위하여 공사발주처 등에 예치하는 공사금액의 명칭은?  
 ① 입찰보증금                      ② 계약보증금  
 ③ 지체보증금                      ④ 하자보증금
43. 거푸집 존치기간 결정요인과 가장 거리가 먼 것은?  
 ① 시멘트의 종류                      ② 골재의 밀도  
 ③ 구조물 부위                      ④ 기온
44. V.E(Value Engineering)에서 원가절감을 실현할 수 있는 대상 선정이 잘못된 것은?  
 ① 수량이 많은 것                      ② 반복효과가 큰 것  
 ③ 장시간 사용으로 속달된 것      ④ 내용이 간단한 것
45. 파해쳐진 흙을 담아 올리거나 이동하는데 사용하는 기계로 쇼벨, 버킷을 장착한 트랙터 또는 크롤러 형태의 기계는?  
 ① 불도저                      ② 앵글도저  
 ③ 로더                      ④ 파워쇼벨
46. 철골공사와 직접적으로 관련된 용어가 아닌 것은?  
 ① 토크렌치                      ② 너트 회전법  
 ③ 적산온도                      ④ 스톨드 볼트
47. 민간자본 유치방식 중 간접시설을 설계, 시공한 후 소유권을 발주자에게 이양하고, 투자자는 일정기간 동안 시설물의 운영권을 행사하는 계약방식은?  
 ① BOT(Build Operate Transfer)  
 ② BTO(Build Transfer Operate)  
 ③ BOO(Build Operate Own)  
 ④ BTL(Build Transfer Lease)
48. 철골공사의 접합방법 중 용접시공에 관한 사항으로 틀린 것은?  
 ① 항상 용접열의 분포가 균등하도록 조치하고 일시에 다량의 열이 한 곳에 집중되지 않도록 해야 한다.  
 ② 용접자세는 가능한 한 회전지그를 이용하여 아래보기 또는 수평자세로 한다.  
 ③ 아크 발생은 필히 용접부 내에서 일어나도록 해야 한다.  
 ④ 부재이음에 용접과 볼트를 불가피하게 병용할 경우에는 는

볼트를 조인 후에 용접하는 것을 원칙으로 한다.

49. 건설업법에 의한 공사계약서에 포함해야 할 사항이 아닌 것은?  
 ① 공사내용                      ② 공사착수의 시기  
 ③ 공법분석내용                ④ 공사대금 지불방법
50. KS L 5201(포틀랜드 시멘트)에 규정되어 있는 포틀랜드 시멘트의 종류가 아닌 것은?  
 ① 중용열 포틀랜드 시멘트    ② 고로 포틀랜드 시멘트  
 ③ 조강 포틀랜드 시멘트    ④ 내황산염 포틀랜드 시멘트
51. 도급계약 방식 중 주문받은 건설업자가 대상계획의 기업·금융, 토지조달, 설계, 시공, 기계기구 설치 등 주문자가 필요로 하는 모든 것을 조달하여 주문자에게 인도하는 도급계약 방식은?  
 ① 공동도급                      ② 실비정산 보수가산도급  
 ③ 턴키(turn-key)도급        ④ 일식도급
52. 철골구조물에 콘크리트슬래브를 설치하기 위한 구조재료로서 거푸집을 대용할 수 있는 것은?  
 ① 액세스플로어(access floor)  
 ② 데크 플레이트(deck plate)  
 ③ 커튼 월(curtain wall)  
 ④ 익스팬션 조인트(expansion joint)
53. 주로 해안구조물과 교량의 상판, 난간벽체 등의 지지구조물, 내구성이 요구되는 건축물 등에 쓰이며, 탄소강 철근에 비해 내식성이 5~10배 정도 좋은 철근은?  
 ① 스테인리스철근            ② 일반 이형철근  
 ③ 일반 원형철근              ④ 고강도 이형철근
54. 콘크리트를 타설하는 데 사용하는 것으로 콘크리트가 흘러 내려 가는 유도로로서, 길이는 가능한 짧게 또 굴곡이 없도록 하며 된비빔 콘크리트에서는 사용하기 어려운 것은?  
 ① 버킷                            ② 호퍼  
 ③ 슈트                            ④ 카트
55. 철근콘크리트공사에서의 철근이음에 대한 설명 중 틀린 것은?  
 ① 철근의 이음위치는 되도록 응력이 큰 곳은 피한다.  
 ② 일반적으로 이음을 할 때는 한 곳에서 철근 수의 반이상을 이어야 한다.  
 ③ 철근이음에는 겹침이음, 용접이음, 기계적이음 등이 있다.  
 ④ 철근이음은 힘의 전달이 연속적이고, 응력집중 등 부작용이 생기지 않아야 한다.
56. 콘크리트 공사에서 발생하는 결함이라고 보기 어려운 것은?  
 ① 재료분리의 발생  
 ② 콜드조인트의 발생  
 ③ 컨스트릭션 조인트의 발생  
 ④ 동해에 의한 콘크리트 강도 저하
57. 철골기둥세우기의 순서를 올바르게 나열한 것은?

- ① 기둥세우기  
 ② 주각모르타르 채움  
 ③ 기둥 중심선 먹매김  
 ④ 기초볼트위치 점검

- ① ③ - ④ - ① - ②                      ② ③ - ① - ④ - ②  
 ③ ② - ③ - ① - ④                      ④ ② - ③ - ④ - ①

58. 공동도급(Joint Venture Contract)의 이점이 아닌 것은?  
 ① 용자력의 증대                      ② 위험부담의 분산  
 ③ 기술의 확충, 강화 및 경험의 증대    ④ 이윤의 증대
59. 흙막이벽 자체의 휨 강성과 밀널기 부분의 가로저항에 의해 주동토압을 부담시키고 굴착하는 흙막이 공법은?  
 ① 버팀대식 공법                      ② 자립식 공법  
 ③ 앵커방식 공법                      ④ 강재 널말뚝 공법
60. 연약한 점토질 지반에서 진흙의 점착력을 판별하는 토질 시험은?  
 ① 표준관입시험                      ② 지내력도시험  
 ③ 보링                            ④ 베인테스트

#### 4과목 : 건설재료학

61. 목재의 자연건조 시 주의사항으로 틀린 것은?  
 ① 건조시간의 절약을 위해 가능한 한 마구리를 노출한다.  
 ② 목재 상호간의 간격을 충분히 하고 지면에서는 20cm 이상 높이의 받목을 놓고 쌓는다.  
 ③ 건조를 균일하게 하기 위해 때때로 상하 좌우로 환적한다.  
 ④ 뒤틀림을 막기 위해 오름목을 고루 괴어둔다.
62. 콘크리트 배합설계에 있어서 기준이 되는 골재의 함수 상태는?  
 ① 절건상태                      ② 기건상태  
 ③ 표건상태                      ④ 습윤상태
63. 강재의 경우 저온에서 인장할 때 또는 결함부가 있게 되면 연신율과 단면수축률이 없이 파단되는 현상을 무엇이라 하는가?  
 ① 연성파괴                      ② 취성파괴  
 ③ 청열취성                      ④ 저온취성
64. 매스콘크리트에서 균열제어를 하기 위한 대책으로 틀린 것은?  
 ① 콘크리트의 온도상승을 적게 한다.  
 ② 굵은 골재의 최대치수는 건조수축 등을 고려하여 되도록 작은 값을 사용한다.  
 ③ 급격한 온도 변화를 피한다.  
 ④ 저발열성 시멘트를 사용한다.
65. 주철의 최대 장점인 주조성을 가지며 또한 결정인 취성을 제거하여 강과 같이 단조할 수 있는 제품으로 듀벨, 창호철물, 파이프 등에 사용되는 것은?  
 ① 고급주철                      ② 강성주철

- ③ 가단주철                      ④ 백주철
66. 아스팔트는 온도에 의한 반죽질기가 현저하게 변화하는데 이러한 변화가 일어나기 쉬운 정도를 무엇이라 하는가?  
 ① 감온성                      ② 침입도  
 ③ 신도                      ④ 연화성
67. 화성암에 속하지 않는 석재는?  
 ① 화강암                      ② 현무암  
 ③ 안산암                      ④ 사암
68. 석회암이 열에 약한 이유로 가장 타당한 것은?  
 ① 석재내부에서 발생하는 열압력에 의한 균열 때문이다.  
 ② 조암광물의 열팽창계수의 차이 때문이다.  
 ③ 조암광물의 융점의 차이 때문이다.  
 ④ 주성분이 열분해되기 때문이다.
69. 구리와 주석의 합금으로 내식성이 크며 주조하기 쉽고 표면에 특유의 아름다운 청록색을 가지고 있어 건축장식철 물 또는 미술공예 재료에 사용되는 것은?  
 ① 황동                      ② 청동  
 ③ 양은                      ④ 적동
70. 펄라이트 모르타르 바름에 대한 설명으로 틀린 것은?  
 ① 재료는 진주암 또는 흑요석을 소성 팽창시킨 것이다.  
 ② 펄라이트는 비중 0.3 정도의 백색입자이다.  
 ③ 내화피복재 바름으로 쓰인다.  
 ④ 균열이 거의 발생하지 않는다.
71. 재료의 단열성에 영향을 미치는 요인이 아닌 것은?  
 ① 재료의 두께                      ② 재료의 밀도  
 ③ 재료의 강도                      ④ 재료의 표면상태
72. 합판(plywood)의 특성에 관한 설명 중 틀린 것은?  
 ① 방향성이 있다.  
 ② 신축변형이 적다.  
 ③ 흡음효과를 낼 수 있다.  
 ④ 곡면가공시에도 균열이 적다.
73. 석고플라스터 미장재료에 대한 설명으로 옳지 않은 것은?  
 ① 응결시간이 길고, 건조수축이 크다.  
 ② 가열하면 결정수를 방출하므로 온도상승이 억제된다.  
 ③ 물에 용해되므로 물과 접촉하는 부위에서의 사용은 부적합하다.  
 ④ 일반적으로 소석고를 주성분으로 한다.
74. 시멘트의 분말도가 클수록 나타나는 특징에 해당하지 않는 것은?  
 ① 수화작용이 촉진된다.    ② 초기강도가 증대된다.  
 ③ 풍화작용이 억제된다.    ④ 초기에 균열이 많이 발생한다.
75. 재료가 외력을 받으면서 발생하는 변형에 저항하는 정도를 나타내는 것은?  
 ① 가소성                      ② 강성  
 ③ 취성                      ④ 좌굴

76. 콘크리트의 워커빌리티에 영향을 줄 수 있는 요소에 대한 설명 중 틀린 것은?  
 ① 단위수량이 증가하면 워커빌리티는 좋아지지만 재료의 분리가 발생하기 쉽다.  
 ② 일반적으로 부(富)배합의 경우는 빈(貧)배합의 경우보다 워커빌리티가 좋다.  
 ③ 골재로 강자갈을 사용한 경우가 깻자갈이나 깻모래를 사용한 경우보다 워커빌리티가 나쁘다.  
 ④ 비빔시간이 과도하게 길면 콘크리트의 워커빌리티는 나빠진다.
77. 1,000℃ 이상의 고온에서도 건디는 단열재료로 최근 철골의 내화피복재로 많이 사용되는 것은?  
 ① 규산칼슘판                      ② 펄라이트판  
 ③ 세라믹섬유                      ④ 경질우레탄폼
78. 점토 벽돌의 규격에 해당되는 기본치수로 옳은 것은? (단, 단위는 mm)  
 ① 190×90×57                      ② 190×90×60  
 ③ 210×90×57                      ④ 210×90×60
79. KS F 3211(건설용 도막방수제)에서 주요 원료에 따른 방수재의 종류에 해당하지 않는 것은?  
 ① 우레탄 고무계 방수재    ② 아크릴 고무계 방수재  
 ③ 에폭시 고무계 방수재    ④ 고무 아스팔트계 방수재
80. 강의 물리적 성질 중 탄소함유량이 증가함에 따라 나타나는 현상으로 틀린 것은?  
 ① 비중이 낮아진다.                      ② 열전율이 커진다.  
 ③ 팽창계수가 낮아진다.    ④ 비열과 전기저항이 커진다.

#### 5과목 : 건설안전기술

81. 흙막이 가시설 공사 중 발생할 수 있는 히빙(heaving) 현상에 관한 설명으로 틀린 것은?  
 ① 흙막이 벽체 내·외의 토사의 중량차에 의해 발생한다.  
 ② 연약한 점토지반에서 굴착면의 융기로 발생한다.  
 ③ 연약한 사질토 지반에서 주로 발생한다.  
 ④ 흙막이벽의 근입장 깊이가 부족할 경우 발생한다.
82. 굴착기계 중 주행기면 보다 하방의 굴착에 적합하지 않은 것은?  
 ① 백호우                      ② 클램셸  
 ③ 파워셔블                      ④ 드래그라인
83. 다음 빈칸에 알맞은 숫자를 순서대로 옳게 나타낸 것은?(2022년 10월 18일 개정된 규정 적용됨)

강관비계의 경우, 띠장간격은 (    )m 이하로 설치하되, 첫번째 띠장은 지상으로부터 (    )m 이하의 위치에 설치한다.

- ① 2, 2                      ② 2.5, 3  
 ③ 1.5, 2                      ④ 1, 3

84. 크레인을 사용하여 양중작업을 하는 때에 안전한 작업을 위

해 준수하여야 할 내용으로 틀린 것은?

- ① 인양할 하물(荷物)을 바닥에서 끌어당기거나 밀어 정위치 작업을 할 것
- ② 가스통 등 운반 도중에 떨어져 폭발 가능성이 있는 위험 물용기는 보관함에 담아 매달아 운반할 것
- ③ 인양 중인 하물이 작업자의 머리 위로 통과하지 않도록 할 것
- ④ 인양할 하물이 보이지 아니하는 경우에는 어떠한 동작도 하지 아니할 것

85. 다음 ( )안에 들어갈 말로 옳은 것은?

콘크리트 축압은 콘크리트 타설속도, ( ), 단위용적중량, 온도, 철근배근상태 등에 따라 달라진다.

- ① 타설높이                      ② 골재의 형상
- ③ 콘크리트 강도                ④ 박리제

86. 주행크레인 및 선회크레인과 건설물 사이에 통로를 설치하는 경우, 그 폭은 최소 얼마 이상으로 하여야 하는가? (단, 건설물의 기동에 접촉하지 않는 부분인 경우)

- ① 0.3m                          ② 0.4m
- ③ 0.5m                          ④ 0.6m

87. 철골공사에서 나타나는 용접결함의 종류에 해당하지 않는 것은?

- ① 오버랩(overlap)                      ② 언더 컷(under cut)
- ③ 블로우 홀(blow hole)                ④ 가우징(gouging)

88. 와이어로프나 철선 등을 이용하여 상부지점에서 작업용 발판을 매다는 형식의 비계로서 건물 외장도장이나 청소 등의 작업에서 사용되는 비계는?

- ① 브라켓 비계                      ② 달비계
- ③ 이동식 비계                      ④ 말비계

89. 건설공사 시 계측관리의 목적이 아닌 것은?

- ① 지역의 특수성보다는 토질의 일반적인 특성파악을 목적으로 한다.
- ② 시공 중 위험에 대한 정보제공을 목적으로 한다.
- ③ 설계 시 예측치와 시공 시 측정치와의 비교를 목적으로 한다.
- ④ 향후 거동 파악 및 대책 수립을 목적으로 한다.

90. 유해·위험방지계획서 검토자의 자격 요건에 해당되지 않는 것은?

- ① 건설안전분야 산업안전지도사
- ② 건설안전기사로서 실무경력 3년인 자
- ③ 건설안전산업기사 이상으로서 실무경력 7년인 자
- ④ 건설안전기술사

91. 차량계 하역운반기계에서 화물을 싣거나 내리는 작업에서 작업지휘자가 준수해야할 사항과 가장 거리가 먼 것은?

- ① 작업순서 및 그 순서마다의 작업방법을 정하고 작업을 지휘하는 일
- ② 기구 및 공구를 점검하고 불량품을 제거하는 일
- ③ 당해 작업을 행하는 장소에 관계근로자외의 자의 출입을

금지하는 일

- ④ 총 화물량을 산출하는 일

92. 흙의 동상을 방지하기 위한 대책으로 틀린 것은?

- ① 물의 유통을 원활하게 하여 지하수위를 상승시킨다.
- ② 모관수의 상승을 차단하기 위하여 지하수위 상층에 조립토층을 설치한다.
- ③ 지표의 흙을 화확약품으로 처리한다.
- ④ 흙속에 단열재료를 매입한다.

93. 타워크레인을 벽체에 지지하는 경우 서면심사 서류 등이 없거나 명확하지 아니할 때 설치를 위해서는 특정 기술자의 확인을 필요로 하는데, 그 기술자에 해당하지 않는 것은?

- ① 건설안전기술사                      ② 기계안전기술사
- ③ 건축시공기술사                      ④ 건설안전분야 산업안전지도사

94. 안전난간의 구조 및 설치요건과 관련하여 발끝막이판의 바닥으로부터 설치높이 기준으로 옳은 것은?

- ① 10cm 이상                      ② 15cm 이상
- ③ 20cm 이상                      ④ 30cm 이상

95. 콘크리트 타설시 거푸집의 축압에 영향을 미치는 인자들에 대한 설명으로 틀린 것은?

- ① 슬럼프가 클수록 축압이 크다.
- ② 거푸집의 강성이 클수록 축압이 크다.
- ③ 철근량이 많을수록 축압이 작다.
- ④ 타설 속도가 느릴수록 축압이 크다.

96. 향타기·향발기의 권상용 와이어로프로 사용 가능한 것은?

- ① 이음매가 있는 것
- ② 와이어로프의 한 꼬임에서 끊어진 소선의 수가 5% 인 것
- ③ 지름의 감소가 호칭지름의 8% 인 것
- ④ 심하게 변형된 것

97. 산업안전보건기준에 관한 규칙에 따른 토사붕괴를 예방하기 위한 굴착면의 기울기 기준으로 틀린 것은?(2021년 11월 19일 개정된 규정 적용됨)

- ① 습지 1:1 ~ 1:1.5                      ② 건조 1:0.5 ~ 1:1
- ③ 풍화암 1:0.8                      ④ 경암 1:0.5

98. 철근가공작업에서 가스절단을 할 때의 유의사항으로 틀린 것은?

- ① 가스절단 작업 시 호스는 겹치거나 구부러지거나 밟히지 않도록 한다.
- ② 호스, 전선 등은 작업효율을 위하여 다른 작업장을 거치는 곡선상의 배선이어야 한다.
- ③ 작업장에서 가연성 물질에 인접하여 용접작업할 때에는 소화기를 비치하여야 한다.
- ④ 가스절단 작업 중에는 보호구를 착용하여야 한다.

99. 사다리식 통로의 설치기준으로 틀린 것은?

- ① 폭은 30cm 이상으로 할 것
- ② 발판과 벽과의 사이는 15cm 이상의 간격을 유지할 것
- ③ 사다리의 상단은 걸쳐놓은 지점으로부터 60cm 이상 올라가도록 할 것

- ④ 사다리식 통로의 길이가 10m 이상인 경우에는 7m 이내  
마다 계단참을 설치할 것

100. 추락방지망의 달기로프를 지지점에 부착할 때 지지점의 간  
격이 1.5m인 경우 지지점의 강도는 최소 얼마 이상이어야  
하는가? (단, 연속적인 구조물이 방망지지점인 경우임)

- ① 200kg                      ② 300kg  
③ 400kg                      ④ 500kg

전자문제집 CBT PC 버전 : [www.comcbt.com](http://www.comcbt.com)

전자문제집 CBT 모바일 버전 : [m.comcbt.com](http://m.comcbt.com)

기출문제 및 해설집 다운로드 : [www.comcbt.com/xs](http://www.comcbt.com/xs)

전자문제집 CBT란?

종이 문제집이 아닌 인터넷으로 문제를 풀고 자동으로 채점하며  
모의고사, 오답 노트, 해설까지 제공하는 무료 기출문제 학습 프  
로그램으로 실제 시험에서 사용하는 OMR 형식의 CBT를 제공합  
니다.

PC 버전 및 모바일 버전 완벽 연동

교사용/학생용 관리기능도 제공합니다.

오답 및 오탈자가 수정된 최신 자료와 해설은 전자문제집 CBT  
에서 확인하세요.

1	2	3	4	5	6	7	8	9	10
③	②	④	③	①	④	④	②	③	③
11	12	13	14	15	16	17	18	19	20
②	②	④	④	③	①	②	①	①	③
21	22	23	24	25	26	27	28	29	30
①	③	②	①	③	④	④	④	②	④
31	32	33	34	35	36	37	38	39	40
③	②	②	①	④	③	②	③	①	④
41	42	43	44	45	46	47	48	49	50
④	④	②	④	③	③	②	④	③	②
51	52	53	54	55	56	57	58	59	60
③	②	①	③	②	③	①	④	②	④
61	62	63	64	65	66	67	68	69	70
①	③	②	②	③	①	④	④	②	④
71	72	73	74	75	76	77	78	79	80
③	①	①	③	②	③	③	①	③	②
81	82	83	84	85	86	87	88	89	90
③	③	①	①	①	④	④	②	①	②
91	92	93	94	95	96	97	98	99	100
④	①	③	①	④	②	③	②	④	②