

1과목 : 승강기 개론

- 로프식(전기식) 엘리베이터에서 로프와 도르래 사이의 마찰력 등 미끄러짐에 영향을 미치는 요소가 아닌 것은?
 ① 로프가 감기는 각도
 ② 권상기 기어의 감속비
 ③ 케이지의 가속도와 감속도
 ④ 케이지측과 균형추측의 로프에 걸리는 중량비
- 로핑 방법 중 로프에 걸리는 장력이 가장 적은 것은?
 ① 1:1
 ② 2:1
 ③ 3:1
 ④ 4:1
- 간접유압식 엘리베이터의 특징이 아닌 것은?
 ① 부하에 의한 카 바닥의 빠짐이 적다.
 ② 비상정지장치가 필요하다.
 ③ 실린더를 설치하기 위한 보호관이 필요하지 않다.
 ④ 실린더의 점검이 용이하다.
- 엘리베이터를 제어할 때 전동발전기의 계자를 제어하여 권상 전동기를 제어하는 방식은?
 ① 워드레오나드방식
 ② 정지레오나드방식
 ③ 가변전압가변주파수제어방식
 ④ 교류귀환제어방식
- 건물의 높이가 60m 이하인 경우 설계용 수평진도는?
 ① 지역계수와 설계용 수평진도의 곱이다.
 ② 지역계수와 설계용 표준진도의 곱이다.
 ③ 설계용 수평지진력과 기기중량의 곱이다.
 ④ 설계용 수직지진력과 기기중량의 곱이다.
- 지진 발생 시 엘리베이터의 주로프가 도르래에서 이탈되지 않도록 하기 위한 대책으로 틀린 것은?
 ① 로프는 도르래의 축 방향에 횡 이동하여야만 한다.
 ② 홈에 대하여 경사방향으로 로프가 들어가는 후리트 앵글을 작게 하여야 한다.
 ③ 무기어식 권상기에서는 홈의 깊이를 크게 하여야 한다.
 ④ 홈의 피치는 가능한 한 작게 하여야 한다.
- 선형 특성을 갖는 에너지 축적형 완충기 설계시 최소행정으로 옳은 것은?
 ① 완충기의 행정은 정격속도의 115%에 상응하는 중력 정지거리의 2배 이상으로서 최소 65mm이상이어야 한다.
 ② 완충기의 행정은 정격속도의 125%에 상응하는 중력 정지거리의 2배 이상으로서 최소 65mm이상이어야 한다.
 ③ 완충기의 행정은 정격속도의 125%에 상응하는 중력 정지거리의 4배 이상으로서 최소 65mm이상이어야 한다.
 ④ 완충기의 행정은 정격속도의 125%에 상응하는 중력 정지거리의 4배 이상으로서 최소 85mm이상이어야 한다.
- 유량제어밸브상식의 유압식 승강기에서 일반적으로 착상 속도는 정격속도의 몇 % 정도인가?
 ① 1~5
 ② 10~20
 ③ 30~40
 ④ 20~60
- 사람이 출입할 수 없도록 정격하중이 300kg 이하이고 정격속

도가 1m/s 이하인 것은?

- ① 자동차용엘리베이터
 ② 에스컬레이터
 ③ 무빙워크
 ④ 덤웨이터
- 승강장 도어방식의 종류가 아닌 것은?
 ① 중앙개폐 방식
 ② 측면개폐 방식
 ③ 좌우개폐 방식
 ④ 상승개폐 방식
- 카 비상정지장치가 작동될 때 부하가 없거나 부하가 균일하게 분포된 카 바닥은 정상적인 위치에서 몇 %를 초과하여 기울어지지 않아야 하는가?
 ① 2
 ② 3
 ③ 5
 ④ 6
- 전기식 엘리베이터의 경우 브레이크는 카가 정격속도로 정격하중의 몇 %를 싣고 하강방향으로 운행될 때 구동기를 정지시킬 수 있어야 하는가?
 ① 110
 ② 125
 ③ 130
 ④ 150
- 엘리베이터의 가이드 레일을 설치할 때 레일 브라켓(Rail Bracket)의 간격을 작게 하면 동일한 하중에 대하여 응력도 및 휨도는 어떻게 되겠는가?
 ① 응력도와 휨도가 모두 작아진다.
 ② 응력도와 휨도가 모두 커진다.
 ③ 응력도는 커지고 휨도는 작아진다.
 ④ 응력도는 작아지고 휨도는 커진다.
- 전기식 엘리베이터의 제동기에서 전자-기계 브레이크 조건으로 옳지 않은 것은?
 ① 카가 정격속도로 정격하중의 125%를 싣고 하강방향으로 운행될 때 구동기를 정지시킬 수 있어야 한다.
 ② 드럼 등의 제동 작용에 관여하는 브레이크의 모든 기계적 부품은 2세트로 설치되어야 한다.
 ③ 솔레노이드 플런저는 기계적인 부품으로 간주되지만 솔레노이드 코일은 그렇지 않다.
 ④ 브레이크 라이닝은 반드시 불연성일 필요는 없다.
- 구동방식에 의한 엘리베이터의 분류에 속하지 않는 것은?
 ① 전기식(로프식) 엘리베이터
 ② 무기어식 엘리베이터
 ③ 유압식 엘리베이터
 ④ 랙·피니언식 엘리베이터
- 전기식 엘리베이터의 기계실 구조로 적합하지 않은 것은?
 ① 내화구조
 ② 방화구조
 ③ 준불연재료 이상
 ④ 견고한 목재
- 비상용 엘리베이터는 소방관이 조작하여 엘리베이터 문이 닫힌 이후부터 몇 초 이내에 가장 먼 층에 도착하여야 되는가? (단, 운행속도는 1m/s 이상이어야 한다.)
 ① 10
 ② 20
 ③ 30
 ④ 60
- 교류 2단 속도 제어방식에서 크리프 시간이란 무엇인가?
 ① 저속 주행 시간
 ② 고속 주행 시간
 ③ 속도 변환 시간
 ④ 가속 및 감속 시간
- 상용압력의 125% 이상의 압력에서 밸브를 열어 탱크에 기

를 되돌려 압력상승을 방지하는 유압회로의 압력 조정 밸브는?

- ① 스톱 밸브 ② 체크 밸브
- ③ 안전 밸브 ④ 럽처 밸브

20. 소형 엘리베이터의 정격속도는 몇 m/s 이하여야 하는가?

- ① 0.15 ② 0.25
- ③ 0.35 ④ 0.45

2과목 : 승강기 설계

21. 승객이 출입하거나 하역하는 동안에 착상의 정확도가 몇 mm 이상 초과될 경우에 착상보정장치를 설치하여야 하는가?

- ① 5 ② 10
- ③ 15 ④ 20

22. 엘리베이터 승강로 비상문의 크기는 어느 정도로 하여야 하는가?(관련 규정 개정전 문제로 여기서는 기존 정답인 4번을 누르면 정답 처리됩니다. 자세한 내용은 해설을 참고하세요.)

- ① 폭 : 0.45m이상, 높이 : 1.2m이상
- ② 폭 : 0.45m이상, 높이 : 1.8m이상
- ③ 폭 : 0.35m이상, 높이 : 1.2m이상
- ④ 폭 : 0.35m이상, 높이 : 1.8m이상

23. 카의 자중이 1020kg, 적재하중이 900kg, 정격속도가 60m/min 인 전기식 승강기의 피트 바닥강도는 몇 N이상이어야 하는가?

- ① 65341 ② 75341
- ③ 85243 ④ 97953

24. 엘리베이터의 전원설비 및 전기배선에 대한 설명으로 옳지 않은 것은?

- ① 수전반, 주개폐기는 원칙적으로 기계실 출입문에서 가능한 멀리 설치한다.
- ② 엘리베이터와 관계없는 전기시설을 기계실에 두어서는 안된다.
- ③ 제어반에 대한 지진대책은 설계시 고려되어야 한다.
- ④ 비상용엘리베이터가 비상용으로 쓰일 때는 다른 엘리베이터의 영향을 받지 않아야 한다.

25. 조속기의 종류에 해당되지 않는 것은?

- ① 롤 세프티형 ② 디스크형
- ③ 세프티 디바이스형 ④ 플라이 볼형

26. 비상용 승강기의 예비전원 사양에 관한 설명으로 옳지 않은 것은?

- ① 정전 시 60초 이내에 승강기 운행에 필요한 전력용량을 자동적으로 발생시켜야 한다.
- ② 1시간이상 작동할 수 있어야 한다.
- ③ 전원공급이 다시 안정될 때 엘리베이터가 운행될 수 있어야 한다.
- ④ 타 용도의 급전과 무고나하게 비상용 승강기를 운전시킬 수 있는 용량이어야 한다.

27. 기어의 장점에 대한 설명으로 가장 옳은 것은?

- ① 동력전달이 불확실하다.
- ② 충격을 흡수하는 성질이 있다.
- ③ 호환성이 낮다.
- ④ 높은 정밀도를 얻을 수 있다.

28. 엘리베이터에 사용하는 T형 24K 가이드 레일 1본의 무게는 약 몇 kg인가?

- ① 24 ② 62
- ③ 80 ④ 120

29. 직류 전동기의 전기자 반작용에 의한 현상이 아닌 것은?

- ① 주자속이 증가한다.
- ② 발전기에서는 기전력이 저하한다.
- ③ 전기자 중성점이 이동한다.
- ④ 보상권선은 전기자 반작용을 방지한다.

30. 1200형(디딤판 폭 1m)이고 총고가 4.5m이며, 경사각이 30°인 에스컬레이터의 디딤판체인 스프로켓(sprocket) 반지름이 462mm, 구동체인 스프로켓 반지름이 540mm, 체인의 보정파단력이 11300kg 일 때 구동체인의 안전율은 약 얼마인가?

- ① 7.2 ② 10.4
- ③ 9.2 ④ 12.6

31. 에스컬레이터의 배열 중 설치면적이 적고 쇼핑객의 시야를 트이게 하는 배열방식은?

- ① 단열승계형 ② 단열겸침형
- ③ 복열승계형 ④ 교차승계형

32. 공칭속도가 0.5m/s인 무부하상태의 무빙워크 및 수평 또는 하강방향으로 움직이는 제동부하상태의 무빙워크에 대한 정지거리는?

- ① 0.5m~1.7m ② 0.4m~1.5m
- ③ 0.3m~1.3m ④ 0.2m~1m

33. 엘리베이터용 제어반의 특별 제3종 접지공사에 대한 접지저항은 몇 Ω 이하이어야 하는가?

- ① 5 ② 10
- ③ 15 ④ 20

34. 엘리베이터 도어머신의 설계에 관하여 옳지 않은 것은?

- ① 동작회수가 엘리베이터 기동회수의 2배이므로 보수가 용이하여야 한다.
- ② 주행 중에는 전동기가 토크를 발생시킬 필요가 없다.
- ③ 정전시 구출을 위하여 도어를 손으로 열 수 있어야 한다.
- ④ 도어 행정의 절반까지는 도어를 가속시키고 나머지 절반은 도어를 감속시킨다.

35. AC 전자브레이크와 DC 전자브레이크를 비교할 때 옳지 않은 것은?

- ① AC 브레이크는 작동을 원활히 하기 위하여 대시포트를 사용한다.
- ② DC 브레이크는 코일에 직렬로 다이오드를 접속해서 원활한 작동을 한다.
- ③ AC 브레이크의 자석은 적층 코어이다.
- ④ DC 브레이크는 고휘 코어이므로 구조는 간단하다.

36. 에스컬레이터의 적재하중을 구하는 식은? (단, P : 적재하중 [kg], A : 스텝면의 투영면적[m²]이다.)

- ① $P = 170 \cdot A$ ② $P = 200 \cdot A$
③ $P = 270 \cdot A$ ④ $P = 300 \cdot A$

37. 에스컬레이터의 배열 및 배치에 관한 사항으로 옳지 않은 것은?

- ① 복열승계형으로 배열하면 애용객의 시야가 가려지지 않는다.
② 건물 출입구 가까이에 엘리베이터와 인접하여 설치하는 것이 좋다.
③ 사람의 움직임이 많은 곳에 설치한다.
④ 백화점의 경우 엘리베이터 및 에스컬레이터의 이용자수는 입점자수의 80~90%로 한다.

38. 도어에 관련된 부품 및 장치에 대한 설명으로 옳지 않은 것은?

- ① 도어 클로저는 도어 머신의 구동장치이다.
② 도어 인터록은 승강장 도어의 열림을 방지한다.
③ 도어 행거는 승강장 도어가 도어가이드 레일에서 이탈하는 것을 방지한다.
④ 승강장문 잠금장치의 도어잠금부품이 7mm 이사아 물리기 전에는 카가 출발되지 않아야 한다.

39. 전기식 엘리베이터에서 미끄러짐을 결정하는 요소가 아닌 것은?

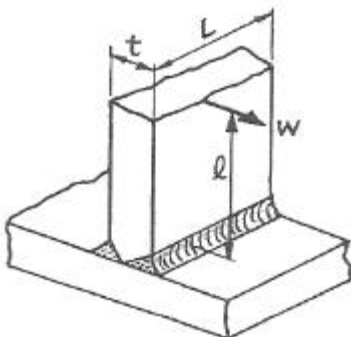
- ① 권부각 ② 카의 가속도와 감속도
③ 권상기 도르래 홈의 형상 ④ 전동기의 용량

40. 전기식 엘리베이터에서 피트 바닥은 전부하 상태의 카가 완충기에 작용하였을 때 완충기 지지대 아래에 부과되는 정하중의 몇 배를 지지할 수 있어야 하는가?

- ① 1 ② 2
③ 3 ④ 4

3과목 : 일반기계공학

41. 그림과 같이 용접이음을 하였을 때 굽힘응력의 계산식으로 가장 적합한 것은? (단, L은 용접길이, t는 용접치수(용접판 두께), ℓ 은 용접부에서 하중 작용선까지 거리, W는 작용하중이다.)

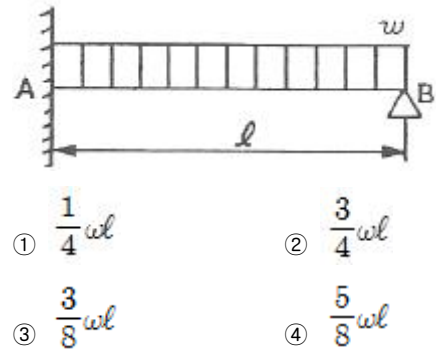


- ① $6W\ell/tL$ ② $12W\ell/tL$
③ $6W\ell/t^2L$ ④ $12W\ell/t^2L$

42. 연삭숫돌의 결함과 수정에 관한 용어 중 숫돌입자의 표면이나 기공에 칩(chip)이 차 있는 상태를 의미하는 것은?

- ① 로딩(loading) ② 트루잉(truing)
③ 글레이징(glazing) ④ 드레싱(dressing)

43. 그림과 같은 1단 고정, 1단 지지의 외팔보가 길이 ℓ 에 걸쳐 균일분포 하중(w)을 받을 때 B 지점의 반력은 얼마인가?



- ① $\frac{1}{4}w\ell$ ② $\frac{3}{4}w\ell$
③ $\frac{3}{8}w\ell$ ④ $\frac{5}{8}w\ell$

44. 구리와 30~40%의 납을 합금한 것으로 열전도가 양호하고, 마찰계수가 작아 고속 회전부의 베어링으로 쓰이는 것은?

- ① 켈멧(Kelmet) ② 포금(Gun metal)
③ 알루미늄 청동 ④ 콜슨(Colson) 합금

45. 하물(荷物)을 들어 올리거나 내릴 때에 하물 자중에 의한 제동작용을 이용하는 자동 하중 브레이크는?

- ① 웜 브레이크 ② 원추 브레이크
③ 원판 브레이크 ④ 블록 브레이크

46. 나사 측정에서 삼침법이란 기본적으로 나사의 무엇을 측정하는 방법인가?

- ① 피치 ② 외경
③ 골지름 ④ 유효지름

47. 공기압 회로에서 다수의 에어 실린더나 액추에이터를 사용할 때, 각 작동순서를 미리 정해두고 그 순서에 따라 움직이고 싶은 경우 사용하는 밸브로 가장 적합한 것은?

- ① 공기 벤트 ② 언로딩 밸브
③ 공기 리베터 ④ 시퀀스 밸브

48. 미끄럼 키와 같이 토크를 전달하는 동시에 축 방향의 이동도 할 수 있고, 토크를 수 개의 키로서 분담할 수 있어 자동차, 항공기 터빈 등의 속도 변환하는 축에 많이 사용되는 기계요소?

- ① 핀 ② 코터
③ 성크 키 ④ 스플라인

49. 다음 체결용 기계요소 중 조립된 보스(boss)를 축방향으로 이동시킬 수 없는 것은?

- ① 원뿔 키 ② 삼각형 세레이션
③ 슬라이딩 키 ④ 인벌류트 스플라인

50. 응력의 종류를 수직응력, 접선응력, 조합응력으로 분류할 때 수직응력에 해당하는 것은?

- ① 전단응력 ② 압축응력
③ 굽힘응력 ④ 비틀림응력

51. 기초원지름 270mm, 잇수 54인 스퍼어 기어의 원주 피치는 약 얼마인가?

- ① 15.17mm ② 15.45mm

4과목 : 전기제어공학

- ③ 15.54mm ④ 15.71mm
52. 소재 또는 공구를 양쪽 혹은 한쪽만 회전시켜 공구 표면 형상과 동일한 형상을 소재에 각인하는 가공법은?
 ① 압연가공 ② 전조가공
 ③ 절단가공 ④ 프레스가공
53. 유체의 흐름을 급격히 막으면 급격한 압력상승으로 나타나 이것이 압력파로 되어 유체 속으로 전파되는 현상은?
 ① 서징(surging) ② 채터링(chattering)
 ③ 베이퍼록(vapor lock) ④ 캐비테이션(cavitation)
54. 구름 베어링에 비교한 미끄럼 베어링의 장점인 것은?
 ① 충격하중에 강하고 설치가 쉽다.
 ② 일반적으로 기동마찰저항이 작다.
 ③ 마찰계수의 변화가 작고 동력손실이 작다.
 ④ 국제규격이 표준화 되어 있고 윤활방법이 편리하다.
55. 단동 왕복펌프의 피스톤 지름이 20cm, 행정 30cm, 피스톤의 매분 왕복횟수가 80cm, 체적효율 92%일 때 펌프의 양수량은 약 몇 m³/min인가?
 ① 0.35 ② 0.69
 ③ 0.82 ④ 1.42
56. 열간 및 냉간 가공 후의 불균질한 조직과 결정 입자를 조정하기 위하여 A₃ 변태점 이상 가열 후 대기 중에서 공냉하여 균질하게 하는 열처리 방법은?
 ① 뜨임 ② 담금질
 ③ 불림 ④ 오스템퍼
57. 다음 중 주물제품에서 크랙의 원인으로 가장 거리가 먼 것은?
 ① 주물을 급랭시킬 때
 ② 쇳물 아궁이가 매우 작을 때
 ③ 만나는 부분의 살 두께의 차이가 너무 클 때
 ④ 구석이나 만나는 부분이 모지게 되어 있을 때
58. 비틀림 모멘트를 받는 원형 단면축에 발생하는 최대전단응력에 관한 설명으로 옳은 것은?
 ① 축 지름이 증가하면 감소한다.
 ② 극단면계수가 감소하면 감소한다.
 ③ 가해지는 토크가 증가하면 감소한다.
 ④ 단면의 극관성 모멘트가 증가하면 증가한다.
59. 다음 중 사용재료의 최대응력과 항복응력 및 허용응력을 적용하여 일반적인 안전율을 나타내는 식으로 가장 적합한 것은?
 ① 허용응력/항복응력 ② 최대응력/항복응력
 ③ 항복응력/허용응력 ④ 항복응력/최대응력
60. 탄소함유량의 0.2~0.3% 탄소강을 급냉(수냉)하였을 때 실온에서의 조직으로 경도와 인장강도가 가장 큰 것은?
 ① 펄라이트 ② 베이나이트
 ③ 솔바이트 ④ 마텐자이트

61. 대칭 3상 교류에서 각 상간의 위상차는 몇 rad인가?

① $\pi/2$ ② $\pi/3$
 ③ $\pi/6$ ④ $2\pi/3$

62. 농형 유도전동기의 기동방법 중 보통 10~15kW 정도 용량의 전동기에 사용하는 방법으로 기동전류가 전전압 기동전류의 1/3로 감소될 수 있는 기동법은?

① 전전압 기동법 ② Y- Δ 기동법
 ③ 기동보상기에 의한 기동법 ④ 리액터 기동법

63. 10V의 전압을 인가할 때 3A의 전류가 흐르는 부하에 25V의 전압을 가하면 몇 A의 전류가 흐르는가?

① 0.75 ② 1.5
 ③ 3.0 ④ 7.5

64. 기계장치, 프로세스 및 시스템 등에서 제어되는 전체 또는 부분으로서 제어량을 발생시키는 장치는?

① 제어장치 ② 제어대상
 ③ 조작장치 ④ 검출장치

65. 피드백 제어계에서 전압, 전류, 주파수, 회전속도 등 전기적 및 기계적 양을 주로 제어하는 것으로서 응답속도가 대단히 빠른 것을 특징으로 하는 것은?

① 서보기구 ② 프로세스제어
 ③ 자동조정 ④ 프로그램제어

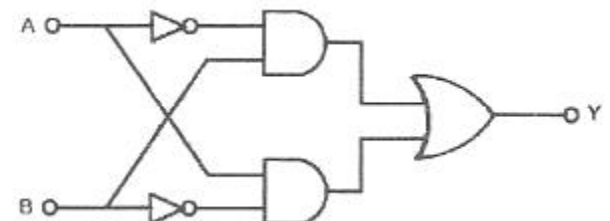
66. 내부임피던스 $Z_o = A + jB[\Omega]$ 의 임피던스 선로를 연결하여 부하에 전력을 공급하려고 한다. 부하임피던스 $Z_L[\Omega]$ 가 어떤 값이 될 때 최대전력이 전송되는가?

① $(A+C) + j(B+D)$ ② $(A+C) - j(B+D)$
 ③ $(A+B) + j(C+D)$ ④ $(A+B) - j(C+D)$

67. 정전용량이 같은 2개의 콘덴서를 병렬로 연결했을 때의 합성 정전용량은 직렬로 했을 때의 합성 정전용량의 몇 배인가?

① 1/2 ② 2
 ③ 4 ④ 8

68. 그림과 같은 논리회로의 출력은?



① $Y = A\bar{B} + \bar{A}B$ ② $Y = \bar{A}B + A\bar{B}$
 ③ $Y = \bar{A}\bar{B} + AB$ ④ $Y = \bar{A} + \bar{B}$

69. 다음 중 일반적으로 중저항의 범위에 해당되는 것은?

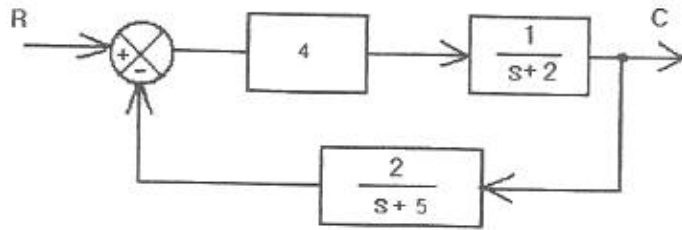
① 500[Ω]~100[M Ω]의 저항
 ② 100[Ω]~100[M Ω]의 저항

- ③ 1[Ω]~10[MΩ]의 저항
④ 1[Ω]~1[MΩ]의 저항

70. 입력조건 A와 B가 동시에 주어질 때 출력이 생성되는 논리 회로는?

- ① AND 회로 ② OR 회로
③ NOR 회로 ④ NOT 회로

71. 그림과 같이 주어진 제어회로의 전달함수 C/R 는?



- ① $\frac{s+20}{s^2+7s+18}$ ② $\frac{4s+20}{s^2+7s+18}$
③ $\frac{s^2+7s+18}{4s+20}$ ④ $\frac{s^2+7s+18}{s+20}$

72. 빛의 양(조도)에 의해서 동작되는 CdS를 이용한 센서에 해당하는 것은?

- ① 인덕턴스 변화형 ② 저항 변화형
③ 용량 변화형 ④ 전압 변화형

73. 다음의 정류방식에서 맥동률이 가장 큰 방식은?

- ① 3상 전파 ② 3상 반파
③ 단상 전파 ④ 단상 반파

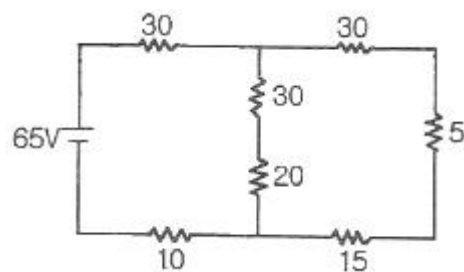
74. 분류기 저항 대한 설명 중 옳은 것은?

- ① 전압계와 직렬로 접속한다.
② 전류계와 직렬로 접속한다.
③ 전류계와 병렬로 접속한다.
④ 전압의 측정 범위를 확대하기 위한 것이다.

75. 피드백(Feedback) 제어에서 반드시 필요한 장치는?

- ① 안정도를 좋게 하는 장치
② 구동장치
③ 응답속도를 빠르게 하는 장치
④ 입력과 출력을 비교하는 장치

76. 그림과 같은 회로에서 5Ω에 흐르는 전류는 몇 A인가? (단, 그림에서의 저항 단위는 모두 Ω이다.)



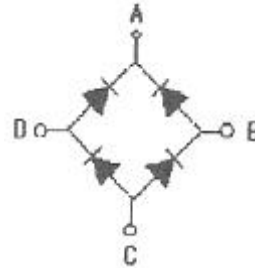
- ① 0.5 ② 1.5

- ③ 2.0 ④ 2.5

77. 유도전동기에서 슬립이 "0"이라고 하는 것은?

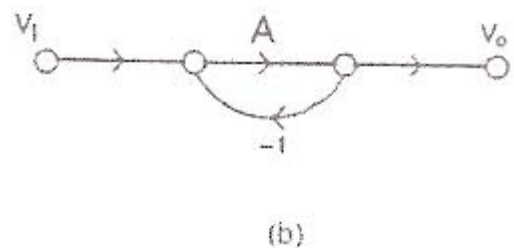
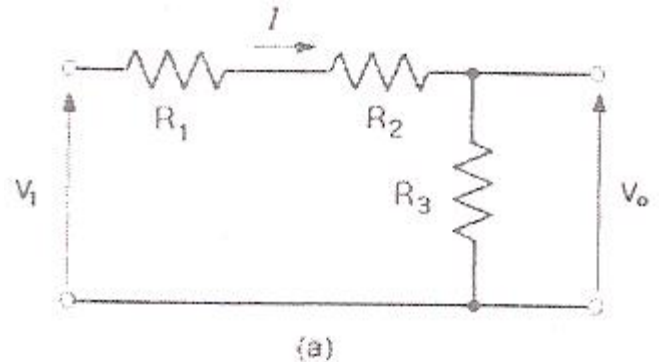
- ① 유도전동기가 제동기의 역할을 한다는 것이다.
② 유도전동기가 정지 상태인 것을 나타낸다.
③ 유도전동기가 전부하 상태인 것을 나타낸다.
④ 유도전동기가 동기속도로 회전한다는 것이다.

78. 그림과 같은 브리지 정류회로는 어느 점에 교류입력을 연결 하여야 하는가?



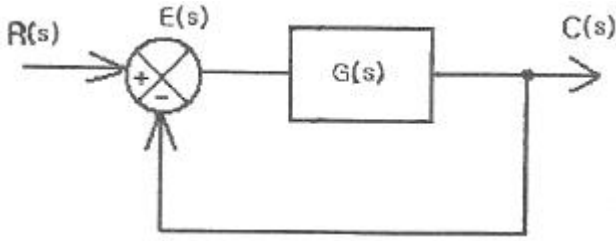
- ① A-B점 ② A-C점
③ B-C점 ④ B-D점

79. 그림(a)의 직렬로 연결된 저항회로에서 입력전압 V_1 과 출력 전압 V_o 의 관계를 그림(b)의 신호흐름선도로 나타낼 때 A에 들어갈 전달함수는?



- ① $\frac{R_3}{R_1+R_2}$ ② $\frac{R_1}{R_2+R_3}$
③ $\frac{R_2}{R_1+R_3}$ ④ $\frac{R_3}{R_1+R_2+R_3}$

80. 그림과 같은 계통에서 정상상태 편차(e_{ss})는?



- ① $e_{ss} = \lim_{s \rightarrow 0} \frac{s}{1+G(s)} R(s)$
- ② $e_{ss} = \lim_{s \rightarrow 0} \frac{1}{1+G(s)} R(s)$
- ③ $e_{ss} = \lim_{s \rightarrow \infty} \frac{s}{1+G(s)} R(s)$
- ④ $e_{ss} = \lim_{s \rightarrow \infty} \frac{1}{1+G(s)} R(s)$

전자문제집 CBT PC 버전 : www.comcbt.com

전자문제집 CBT 모바일 버전 : m.comcbt.com

기출문제 및 해설집 다운로드 : www.comcbt.com/xs

전자문제집 CBT란?

종이 문제집이 아닌 인터넷으로 문제를 풀고 자동으로 채점하며 모의고사, 오답 노트, 해설까지 제공하는 무료 기출문제 학습 프로그램으로 실제 시험에서 사용하는 OMR 형식의 CBT를 제공합니다.

PC 버전 및 모바일 버전 완벽 연동

교사용/학생용 관리기능도 제공합니다.

오답 및 오탈자가 수정된 최신 자료와 해설은 전자문제집 CBT에서 확인하세요.

1	2	3	4	5	6	7	8	9	10
②	④	①	①	②	③	①	②	④	③
11	12	13	14	15	16	17	18	19	20
③	②	①	④	②	④	④	①	③	②
21	22	23	24	25	26	27	28	29	30
④	④	②	①	③	②	④	④	①	④
31	32	33	34	35	36	37	38	39	40
②	④	②	②	②	③	②	①	④	④
41	42	43	44	45	46	47	48	49	50
③	①	③	①	①	④	④	④	①	②
51	52	53	54	55	56	57	58	59	60
④	②	①	①	②	③	②	①	③	④
61	62	63	64	65	66	67	68	69	70
④	②	④	②	③	②	③	①	④	①
71	72	73	74	75	76	77	78	79	80
②	②	④	③	④	①	④	④	①	①