

1과목 : 용접일반

1. 초음파 탐상법에서 일반적으로 널리 사용되며 초음파의 펄스를 시험체의 한쪽 면으로부터 송신하여 그 결함에서 반사되는 반사파의 형태로 결함을 판정하는 방법은?

- ① 투과법                      ② 공진법  
③ 침투법                      ④ 펄스 반사법

2. TIG 용접에서 아크 발생이 용이하며 전극의 소모가 적어 직류 정극성에는 좋으나 교류에는 좋지 않은 것으로 주로 강, 스테인리스강, 동합금 용접에 사용되는 전극봉은?

- ① 토륨 텅스텐 전극봉      ② 순 텅스텐 전극봉  
③ 니켈 텅스텐 전극봉      ④ 지르코늄 텅스텐 전극봉

3. 주물 제품을 용접한 후 용접에 의한 잔류 응력을 최소화하기 위한 조치 방법으로 틀린 것은?

- ① 주물을 단열재로 덮는다.  
② 주물을 토치로 후열처리 한다.  
③ 주물을 로(爐)에 굽는다.  
④ 주물을 급랭시켜 조직을 완화시킨다.

4. 물체와의 가벼운 충돌 또는 부딪침으로 인하여 생기는 손상으로 충격을 받은 부위가 부어 오르고 통증이 발생되며 일반적으로 피부 표면에 창상이 없는 상처를 뜻하는 것은?

- ① 찰과상                      ② 타박상  
③ 화상                        ④ 출혈

5. 다음 용접법 중 저항 용접이 아닌 것은?

- ① 스폿 용접                      ② 심 용접  
③ 프로텍션 용접              ④ 스테드 용접

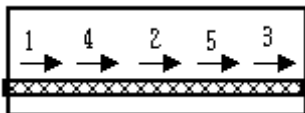
6. 다음 중 서브머지드 아크 용접을 다른 명칭으로 불리우는 것에 속하지 않는 것은?

- ① 잠호 용접                      ② 유니언 멜트 용접  
③ 불가시 아크 용접          ④ 헬리 아크 용접

7. 용접부 검사방법에서 비드의 모양, 언더컷 및 오버랩, 표면 균열 등을 검사하는 것은?

- ① 침투 검사                      ② 누수 검사  
③ 외관 검사                      ④ 형광 검사

8. 아래 그림과 같이 용접 길이를 짧게 나누어 간격을 두면서 용접하는 방법은?



- ① 전진법                      ② 후진법  
③ 대칭법                      ④ 스킵법

9. TIG 용접의 단점에 해당되지 않는 것은?

- ① 불활성 가스 TIG 용접기의 가격이 비싸 운영비와 설치비가 많이 소요된다.  
② 바람의 영향으로 용접부 보호 작용이 방해가 되므로 방풍 대책이 필요하다.  
③ 후판 용접에서는 다른 아크 용접에 비해 능률이 떨어진

다.

- ① 모든 용접 자세가 불가능하며 박판 용접에 비효율적이다.

10. 이산화탄소 가스 아크 용접에 대한 설명으로 틀린 것은?

- ① 비용극식 용접 방법이다.  
② 가시 아크이므로 시공이 편리하다.  
③ 전류 밀도가 높아 용입이 깊다.  
④ 용제를 사용하지 않아 슬래그 혼입이 없다.

11. 두꺼운 판의 양쪽에 수냉동판을 대고 용융 슬래그 속에서 아크를 발생시킨 후 용융 슬래그의 전기 저항열을 이용하여 용접하는 방법은?

- ① 서브머지드 아크 용접      ② 불활성 가스 아크 용접  
③ 일렉트로 슬래그 용접      ④ 전자 빔 용접

12. 자동 제어의 종류 중 미리 정해 놓은 순서에 따라 제어의 각 단계를 차례로 행하는 제어는?

- ① 시퀀스 제어                      ② 피드백 제어  
③ 동작 제어                      ④ 인터록 제어

13. 용접 작업시 주의 사항을 설명한 것으로 틀린 것은?

- ① 화재를 진화하기 위하여 방화 설비를 설치할 것  
② 용접 작업 부근에 점화원을 두지 않도록 할 것  
③ 배관 및 기기에서 가스 누출이 되지 않도록 할 것  
④ 가연성 가스는 항상 옆으로 뉘어서 보관할 것

14. 모재의 열 변형이 거의 없으며 이종 금속의 용접이 가능하고 정밀한 용접을 할 수 있으며 비접촉식 방식으로 모재에 손상을 주지 않는 용접은?

- ① 레이저 용접                      ② 테르밋 용접  
③ 스테드 용접                      ④ 플라스마 제트 아크 용접

15. 용접 이음부에 예열하는 목적을 설명한 것 중 맞지 않는 것은?

- ① 모재의 열 영향부와 용착 금속의 연화를 방지하고 경화를 증가시킨다.  
② 수소의 방출을 용이하게 하여 저온 균열을 방지한다.  
③ 용접부의 기계적 성질을 향상시키고 경화 조직의 석출을 방지시킨다.  
④ 온도 분포가 완만하게 되어 열응력의 감소로 변형과 잔류 응력의 발생을 적게 한다.

16. MIG 용접시 와이어 송급 방식의 종류가 아닌 것은?

- ① 풀 방식                      ② 푸시 방식  
③ 푸시 풀 방식                      ④ 푸시 언더 방식

17. 가스 메탈 아크 용접(GMAW)에서 보호 가스를 아르곤(Ar)과 CO2 가스 또는 산소(O2)를 소량 혼합하여 용접하는 방식을 무엇이라 하는가?

- ① MIG 용접                      ② FCA 용접  
③ TIG 용접                      ④ MAG 용접

18. 피복 아크 용접봉으로 강판의 판 두께에 따라 맞대기 용접에 적용하는 개선희 형식 중 적합하지 않는 것은?

- ① I 형 : 판 두께 6.0mm 정도까지 적용  
② V 형 : 판 두께 6.0~20mm 정도 적용

- ③ V 형 : 판 두께 50mm 까지 적용  
④ X형 : 판 두께 10~40mm 정도 적용

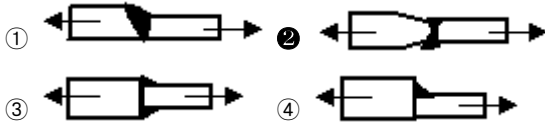
19. 이산화탄소 가스 아크 용접의 결함에서 아크가 불안정할 때의 원인으로 가장 거리가 먼 것은?

- ① 팁이 마모되어 있다.  
② 와이어 송급이 불안정하다.  
③ 팁과 모재간 거리가 길다.  
④ 이음 형상이 나쁘다.

20. 다음 중 용접기를 설치해도 되는 장소로 가장 적합한 것은?

- ① 옥외의 비바람이 치는 장소  
② 진동이나 충격을 받는 장소  
③ 유해한 부식성 가스가 존재하는 장소  
④ 주위 온도가 10℃ 정도인 장소

21. 두께가 다른 판을 맞대기 용접할 때 응력 집중이 가장 적게 발생하는 것은?



22. 안전모의 일반 구조에 대한 설명으로 틀린 것은?

- ① 안전모는 모체, 착장체 및 턱끈을 가질 것  
② 착장체의 구조는 착용자의 머리 부위에 균등한 힘이 분배되도록 할 것  
③ 안전모의 내부 수직 거리는 25mm 이상 50mm 미만일 것  
④ 착장체의 머리 고정대는 착용자의 머리 부위에 고정하도록 조절할 수 없을 것

23. 피복재 중에 석회석이나 형석을 주성분으로 한 피복재를 사용한 것으로서 용착 금속 중의 수소량이 다른 용접봉에 비해서 1/10 정도로 적은 용접봉은?

- ① E4301                      ② E4311  
③ E4316                      ④ E4327

24. 헬멧이나 핸드 실드의 차광 유리 앞에 보호 유리를 끼우는 가장 타당한 이유는?

- ① 시력을 보호하기 위하여  
② 가시 광선을 차단하기 위하여  
③ 적외선을 차단하기 위하여  
④ 차광 유리를 보호하기 위하여

25. 아크 전류가 200A, 아크 전압이 25V, 용접 속도가 15cm/min인 경우 용접 길이 1cm 당 발생하는 전기적 에너지는?

- ① 10000(J/cm)              ② 15000(J/cm)  
③ 20000(J/cm)              ④ 25000(J/cm)

26. 가스 절단시 양호한 절단면을 얻기 위한 조건이 아닌 것은?

- ① 드래그가 가능한 작을 것  
② 절단면이 충분히 평활할 것  
③ 슬래그의 이탈이 양호할 것

- ④ 드래그의 흠이 높고 노치가 있을 것

27. 용접의 장점 중 맞는 것은?

- ① 저온 취성이 생길 우려가 많다.  
② 재료의 변형 및 잔류 응력이 존재한다.  
③ 용접사의 기량에 따라 용접 결과가 좌우된다.  
④ 기밀, 수밀, 유밀성이 우수하다.

28. 용접법 중 용접법에 속하지 않는 것은?

- ① 스택드 용접                      ② 산소 아세틸렌 용접  
③ 일렉트로 슬래그 용접              ④ 초음파 용접

29. 산소-아세틸렌 가스 불꽃의 종류 중 불꽃 온도가 가장 높은 것은?

- ① 탄화 불꽃                      ② 중성 불꽃  
③ 산화 불꽃                      ④ 아세틸렌 불꽃

30. 가포화 리액터형 교류 아크 용접기의 설명으로 잘못된 것은?

- ① 미세한 전류 조절이 가능하여 가장 많이 사용된다.  
② 조작이 간단하고 원격 제어가 된다.  
③ 가변 저항의 변화로 용접 전류를 조절한다.  
④ 전기적 전류 조정으로 소음이 거의 없다.

31. 가스 용접시 토치의 팁이 막혔을 때 조치 방법으로 가장 옳바른 것은?

- ① 팁 클리너를 사용한다.  
② 내화 벽돌 위에 가볍게 문지른다.  
③ 철판 위에 가볍게 문지른다.  
④ 줄칼로 부착물을 제거한다.

32. 35℃에서 150kgf/cm<sup>2</sup>으로 압축하여 내부용적 45.7리터의 산소 용기에 충전하였을 때 용기 속의 산소량은 몇 리터인가?

- ① 6855                      ② 5250  
③ 6105                      ④ 7005

33. 산소 아크 절단을 올바르게 설명한 것은?

- ① 아크플라스마의 성질을 이용한 절단법  
② 속이 빈 피복 용접봉과 모재 사이에 아크를 발생시켜 절단하는 방법  
③ 강관을 사용하여 절단 산소를 보내서 절단하는 방법  
④ 금속 전극에 큰 전류를 흐르게 하여 절단하는 방법

34. 아세틸렌 가스의 성질에 대한 설명으로 틀린 것은?

- ① 15℃, 1kgf/cm<sup>2</sup>에서의 아세틸렌 1L의 무게는 1.176g으로 산소보다 무겁다.  
② 산소와 적당히 혼합하여 연소시키면 3000~3500℃의 높은 열을 낸다.  
③ 아세틸렌 가스는 산소와 혼합되면 폭발성이 증가된다.  
④ 각종 액체에 잘 용해되며 아세톤에 25배가 용해된다.

35. 산소-아세틸렌 가스 절단에 비교한 산소-프로판 가스 절단의 특징을 설명한 것으로 옳지 않은 것은?

- ① 점화하기 쉽다.

- ② 절단면이 미세하여 깨끗하다.
- ③ 후판 절단시 속도가 빠르다.
- ④ 포갠 절단 속도가 빠르다.

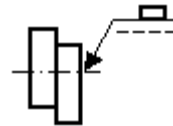
2과목 : 용접재료

36. 텅스텐 아크 절단은 특수한 TIG 절단 토치를 사용한 절단법이다. 주로 사용되는 작동 가스는?
- ① Ar + C<sub>2</sub>H<sub>2</sub>                      ② Ar + H<sub>2</sub>
  - ③ Ar + O<sub>2</sub>                        ④ Ar + CO<sub>2</sub>
37. 직류 아크 용접기의 종류가 아닌 것은?
- ① 엔진 구동형                      ② 전동 발전형
  - ③ 정류기형                        ④ 가동 철심형
38. 연강용 가스 용접봉에서 “625 ± 25℃에서 1시간 동안 응력을 제거했다” 는 영문자 표시에 해당되는 것은?
- ① NSR                              ② GB
  - ③ SR                                ④ GA
39. 가스 용접시 용접부의 시공 상태에 대한 설명으로 틀린 것은?
- ① 용접부에는 노치 부분이 있어야 양호한 용접성을 얻을 수 있다.
  - ② 용접부에는 기름, 먼지, 녹 등을 완전히 제거하여야 한다.
  - ③ 용접부에는 청결을 유지해야 한다.
  - ④ 용접부의 개선 면이 일직선으로 정교해야 한다.
40. 스테인리스강 중에서 내식성이 가장 높고 비자성인 것은?
- ① 페라이트계                      ② 시멘타이트계
  - ③ 마텐자이트계                      ④ 오스테나이트계
41. 열전도율이 가장 큰 것부터 작은 것의 순으로 옳게 나열한 것은?
- ① Cu→Al→Ag→Au                      ② Ag→Cu→Au→Al
  - ③ Cu→Ag→Al→Au                      ④ Ag→Cu→Al→Au
42. 구상흑연 주철의 조직에 따른 분류가 아닌 것은?
- ① 페라이트형                      ② 펄라이트형
  - ③ 시멘타이트형                      ④ 트루스타이트형
43. 금속 표면에 알루미늄을 침투시켜 내식성을 증가시키는 것은?
- ① 칼로라이징                      ② 크로마이징
  - ③ 세라다이징                      ④ 실리코라이징
44. 침입형 고용체에 용해되는 원소가 아닌 것은?
- ① B(붕소)                          ② C(탄소)
  - ③ N(질소)                        ④ F(불소)
45. 구리에 3~4% Ni, dir 1%의 Si가 함유된 합금으로 인장 강도와 도전율이 높아 통신선, 전화선으로 사용되는 구리-니켈-규소 합금은?
- ① 콜슨(corson) 합금                      ② 켈밋(kelmit) 합금
  - ③ 포금(gunmetal)                      ④ CTG 합금

46. 주강의 성능별 분류 중 내식용 강은 어떤 원소를 첨가한 것인가?
- ① Cr, Ni                              ② Mn, V
  - ③ P, S                                ④ W, Ti
47. 열처리 방법 중 강을 오스테나이트 조직의 영역으로 가열한 후 급냉하는 것은?
- ① 풀림(annealing)                      ② 담금질(quenching)
  - ③ 불림(normalizing)                      ④ 뜨임(tempering)
48. 알루미늄 표면에 산화물계 피막을 만들어 부식을 방지하는 알루미늄 방식법에 속하지 않는 것은?
- ① 염산법                              ② 수산화법
  - ③ 황산법                              ④ 크롬산법
49. 합금강에 영향을 끼치는 주요 합금 원소가 아닌 것은?
- ① 흑연                                ② 니켈
  - ③ 크롬                                ④ 망간
50. 탄소강의 Fe-C계 평형 상태도에서 탄소량이 0.86% 정도이며, γ고용체에서 α고용체와 Fe<sub>3</sub>C 동시에 석출하여 펄라이트를 생성하는 점은?
- ① 공정점                              ② 자기 변태점
  - ③ 포정점                              ④ 공석점

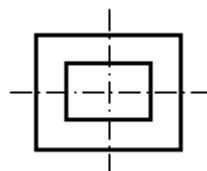
3과목 : 기계제도

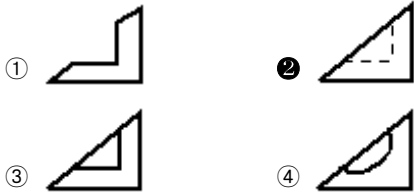
51. 그림과 같은 용접 도시 기호의 명칭은?



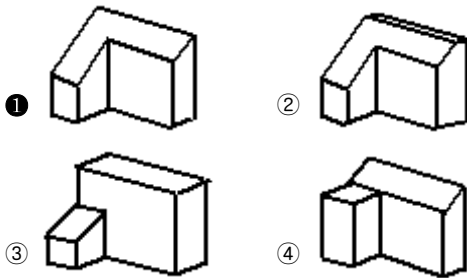
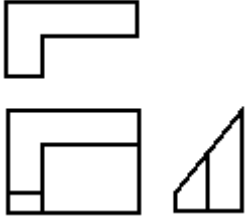
- ① 필릿 용접                              ② 플러그 용접
- ③ 스폿 용접                              ④ 프로젝션 용접

52. 도면에서 2종류 이상의 선이 같은 장소에 겹치게 될 경우에 다음 중 가장 우선되는 것은?
- ① 중심선                              ② 절단선
  - ③ 외형선                              ④ 숨은선
53. 도면에 330 으로 표시된 기계 재료의 의미로 가장 적합한 설명은?
- ① 합금 공구강으로 최저 인장 강도는 300N/mm<sup>2</sup>
  - ② 일반 구조용 압연강재로 최저 인장 강도는 300N/mm<sup>2</sup>
  - ③ 일반 압연 스테인리스 강관으로 탄소 함유량은 0.33%
  - ④ 압력 배관용 탄소강재로 탄소 함유량은 0.33%
54. 우측 그림은 평면도와 정면도가 똑같이 나타나는 물체의 평면도와 정면도이다. 우측면도로 가장 적합한 것은?





55. 다음 제3각 정투상도에 해당하는 입체도는?



56. 배관 제도시 유체의 종류에 따른 기호 표기가 옳지 않은 것은?

- ① 공기 : A                      ② 연료 가스 : G  
③ 온수 : H                      ④ 증기 : W

57. 제3각 정투상도에서 저면도의 배치 위치로 옳은 것은?

- ① 정면도의 아래쪽              ② 정면도의 오른쪽  
③ 정면도의 위쪽                ④ 정면도의 왼쪽

58. 도면에서 도면 번호, 도면 명칭, 기업(소속 단체)명, 책임자 성명 등의 내용이 기입되어 있는 곳은?

- ① 부품란                      ② 표제란  
③ 도면의 구역                ④ 중심 마크

59. 판금 제품을 만드는데 중요한 도면으로 입체의 표면을 한 평면 위에 펼쳐서 그리는 도면은?

- ① 회전 평면도                ② 전개도  
③ 보조 투상도                ④ 사투상도

60. 리벳의 종류 중 호칭 길이를 나타낼 To 머리부의 전체를 포함하여 표시하는 것은?

- ① 둥근머리 리벳              ② 남비머리 리벳  
③ 얇은 납작머리 리벳        ④ 점시머리 리벳

전자문제집 CBT PC 버전 : [www.comcbt.com](http://www.comcbt.com)  
전자문제집 CBT 모바일 버전 : [m.comcbt.com](http://m.comcbt.com)  
기출문제 및 해설집 다운로드 : [www.comcbt.com/xs](http://www.comcbt.com/xs)

전자문제집 CBT란?

종이 문제집이 아닌 인터넷으로 문제를 풀고 자동으로 채점하며 모의고사, 오답 노트, 해설까지 제공하는 무료 기출문제 학습 프로그램으로 실제 시험에서 사용하는 OMR 형식의 CBT를 제공합니다.

PC 버전 및 모바일 버전 완벽 연동  
교사용/학생용 관리기능도 제공합니다.

오답 및 오탈자가 수정된 최신 자료와 해설은 전자문제집 CBT에서 확인하세요.

1	2	3	4	5	6	7	8	9	10
④	①	④	②	④	④	③	④	④	①
11	12	13	14	15	16	17	18	19	20
③	①	④	①	①	④	④	③	④	④
21	22	23	24	25	26	27	28	29	30
②	④	③	④	③	④	④	④	③	①
31	32	33	34	35	36	37	38	39	40
①	①	②	①	①	②	④	③	①	④
41	42	43	44	45	46	47	48	49	50
②	④	①	④	①	①	②	①	①	④
51	52	53	54	55	56	57	58	59	60
②	③	②	②	①	④	①	②	②	④