

1과목 : 건축계획

1. 상점계획에 대한 설명 중 옳지 않은 것은?

- ① 고객의 동선은 일반적으로 짧을수록 좋다.
- ② 점원의 동선과 고객의 동선은 서로 교차 되지 않는 것이 바람직하다.
- ③ 대면판매형식은 일반적으로 시계, 귀금속, 의약품 상점 등에서 쓰여 진다.
- ④ 진열케이스, 진열대, 진열장 등이 입구에서 안을 향하여 직선적으로 구성된 평면배치는 주로 침구 코너, 식기코너, 서점 등에서 사용된다.

2. 주택의 각 실 계획에 대한 설명 중 옳지 않은 것은?

- ① 부엌은 음식물의 부패관계로 남향을 피하고 서향으로 하여야 한다.
- ② 사용시간이 짧은 취미실 등은 향을 고려하지 않을 수도 있다.
- ③ 거실은 통로나 홀(hall)로서 사용되는 방법의 평면배치는 적극적으로 피하도록 한다.
- ④ 노인침실은 일조가 충분하고 전망 좋은 조용한 곳에 면하도록 한다.

3. 도서관의 출판시스템 중 열람자는 직접 서가에 면하여 책의 체제나 표지 정도는 볼 수 있으나 내용을 보려면 관원에게 요구하여 대출 기록을 남긴 후 열람하는 형식은?

- ① 폐가식                      ② 안전개가식
- ③ 자유개가식                ④ 반개가식

4. 다음의 사무소 건축의 코어(core)형태에 관한 설명 중 가장 부적당한 것은?

- ① 편심코어형은 일반적으로 소규모 사무소 건물에 많이 쓰인다.
- ② 외코어형은 사무실 공간과 간섭이 적다.
- ③ 중앙코어형은 기준층 바닥면적이 대규모인 경우에 적합하다.
- ④ 양단코어형은 대여사무소에 주로 사용되며 방재상 불리하다.

5. 초등학교 건축의 교실환경계획에 관한 설명 중 적당하지 않은 것은?

- ① 교실의 색채는 저학년의 경우 난색계통, 고학년은 대체로 사고색의 증진을 위해 중성색이나 한색계통의 배색이 좋다.
- ② 채광창 유리의 면적은 교실면적의 1/4 정도가 적당하다.
- ③ 교실 채광은 일조시간이 긴 방위를 택하고 1방향 채광일 때는 깊은 곳까지 고른 조도가 얻어질 수 있도록 한다.
- ④ 책상 면의 조도는 교실의 칠판 면의 조도보다 더 밝아야 한다.

6. 한식주택과 양식주택의 차이점에 대한 기술 중 잘못된 것은?

- ① 양식주택은 실의 위치별 분화이며, 한식주택은 실의 기능별 분화이다.
- ② 양식주택은 입식생활이며, 한식주택은 좌식생활이다.
- ③ 양식주택의 실은 단일용도이며, 한식주택의 실은 혼용도이다.
- ④ 양식주택의 가구는 주요한 내용물이며, 한식주택의 가구는 부차적 존재이다.

7. 주당 평균 40시간을 수업하는 어느 학교에서 음악실에서의 수업이 총 20시간이며 이 중 15시간은 음악시간으로 나머지 5시간은 학급토론시간으로 사용되었다면, 이 교실의 이용률과 순수율은?

- ① 이용률 37.5%, 순수율 75%
- ② 이용률 50%, 순수율 75%
- ③ 이용률 75%, 순수율 37.5%
- ④ 이용률 75%, 순수율 50%

8. 다음 중 기계 공장의 지붕을 톱날형으로 하는 이유로 가장 적당한 것은?

- ① 빗물 처리가 용이하다.    ② 모양이 좋다.
- ③ 소음이 줄어든다.        ④ 균일한 조도를 얻을 수 있다.

9. 거실, 식사실, 부엌을 한 공간에 꾸며 놓은 소위 리빙키친(living kitchen)에 관한 기술 중 틀린 것은?

- ① 통로로 쓰이는 부분이 절약되어 다른 실의 면적이 넓어질 수 있다.
- ② 부엌부분의 통풍과 채광이 좋아진다.
- ③ 주부의 동선이 단축된다.
- ④ 중소형의 아파트나 주택에는 적합하지 않다.

10. 다음 중 영화관의 관람석으로의 출입구의 수 및 배치를 결정하는 가장 중요한 조건은?

- ① 환기                      ② 방음
- ③ 피난                      ④ 관객 교대에 필요한 시간

11. 사무소건축에서의 엘리베이터 조닝에 대한 설명 중 부적당한 것은?

- ① 엘리베이터의 설비비를 절약할 수 있다.
- ② 일주시간이 단축되어 수송능력이 향상된다.
- ③ 건물 전체를 몇 개의 그룹으로 나누어 서비스하는 방식이다.
- ④ 내부교통의 편리성이 높아져 이용자에게 혼란을 줄 우려가 없다.

12. 사무소 건축에서 유효율(rentable ration)이란?

- ① 건축면적에 대한 대실면적    ② 연면적에 대한 대실면적
- ③ 기준층면적에 대한 대실면적    ④ 연면적에 대한 건축면적

13. 다품종 소량생산으로 예상생산이 불가능한 경우, 표준화가 곤란한 경우에 알맞은 공장건축의 레이아웃 방식은?

- ① 제품중심 레이아웃    ② 혼성식 레이아웃
- ③ 고정식 레이아웃        ④ 공정중심 레이아웃

14. 다음 중 건축양식의 발달순서가 옳게 된 것은?

- ① 초기 그리스도교-비잔틴-로마네스크-로코코-르네상스
- ② 로마-비잔틴-고딕-로마네스크-르네상스-그리스
- ③ 그리스-로마네스크-르네상스-바로크-로코코
- ④ 이집트-비잔틴-로마네스크-르네상스-고딕

15. 찰스 무어(Char les Moore)의 사조는 어느 것인가?

- ① 신헌리주의                ② 대중주의
- ③ 표현주의                ④ 브루탈리즘

16. 연극을 감상하는 경우 배우의 표정이나 동작을 상세히 감상할 수 있는 시각 한계는?

- ① 3m                      ② 5m  
③ 10m                    ④ 15m

17. 병원 건축형식 중 분관식에 대한 설명으로 옳은 것은?

- ① 각 병실마다 고르게 일조를 얻을 수 있다.  
② 급수, 난방 등의 배관 길이가 짧게 된다.  
③ 관리가 편리하고 동선이 짧게 된다.  
④ 대지가 협소해도 가능하다.

18. 다음 아파트의 형식 중 각 세대간 독립성이 가장 높은 것은?

- ① 집중형                      ② 중복도형  
③ 편복도형                    ④ 계단실형

19. 다음의 주요 사례에서 전시공간의 융통성을 가장 많이 부여하고 있는 것은?

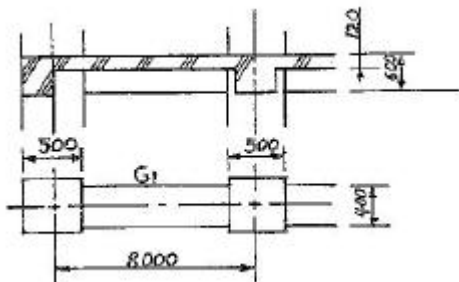
- ① 뉴욕 구겐하임 미술관                      ② 과천 현대 미술관  
③ 파리 퐁피두 센터                              ④ 파리 루브르 박물관

20. 주택설계의 방향에 대한 설명 중 부적당한 것은?

- ① 생활의 쾌적함이 증대되도록 한다.  
② 가사노동이 경감되도록 한다.  
③ 집안의 가정이 중심이 되도록 한다.  
④ 좌식과 의자식이 혼용되도록 한다.

2과목 : 건축시공

21. 아래 도면에서 G<sub>1</sub>과 같은 보가 8개 있는 건물에서 보의 콘크리트량으로서 적당한 것은?



- ① 11.52m<sup>3</sup>                      ② 12.23m<sup>3</sup>  
③ 13.44m<sup>3</sup>                    ④ 15.36m<sup>3</sup>

22. 거푸집에 관한 설명으로 틀린 것은?

- ① 터널거푸집(Tunnel form)은 구획 전체의 벽판과 바닥면을 ㄱ자형, ㄷ자형으로 견고하게 짠 것으로 이동설치가 용이하다.  
② 워플 거푸집(Waffle form)은 웅벽, 피어 등의 특수 거푸집으로 고안된 것이다.  
③ 메탈 폼(Metal form)은 철판 앵글 등을 써서 제작된 철제 거푸집이다.  
④ 슬라이딩 폼(Sliding form)은 돌출부가 없는 사일로(Silo) 등에 사용되며, 공기는 약 1/3 정도 단축 가능하다.

23. 벽면적 4.8m<sup>2</sup> 크기에 1.5B 두께로 시멘트 벽돌을 쌓고자 할 때 벽돌소요 매수로 옳은 것은? (단, B형 벽돌(표준형)을 사용하며 할증율은 4%로 한다)

- ① 374매                      ② 743매  
③ 1,118매                    ④ 1,487매

24. 벽 거푸집 공사에서 멍에 대기 및 철선 조임 간격에 대한 내용으로 옳은 것은?

- ① 멍에 대기의 간격은 일반적으로 밑에서 85cm 정도로 배치한다.  
② 멍에 대기의 간격은 일반적으로 위에서 120~140cm 정도로 배치한다.  
③ 철선조임 간격은 하부에는 95cm 정도로 배치한다.  
④ 철선조임 간격은 상부에는 100~110cm 정도로 배치한다.

25. 거푸집면적의 산출방법에 대한 기술이 잘못된 것은?

- ① 1m<sup>2</sup> 이하의 개구부는 주위의 사용재를 고려하여 거푸집 면적에서 공제하지 않는다.  
② 기둥 거푸집 면적 산정시 기둥 높이는 상하층 바닥 안목 간의 높이를 적용한다.  
③ 기초 경사부의 경우 경사도 30° 미만의 경우 거푸집면적을 계상한다.  
④ 기초와 지중보, 기둥과 벽체의 접합부 면적은 거푸집면적에서 공제하지 않는다.

26. 각종 도급방식의 설명 중 옳지 않은 것은?

- ① 정액도급제도는 총공사비만 결정한 후 경쟁 입찰 후 최저입찰자와 계약을 체결하는 제도이다.  
② 실비정산식 시공계약제도는 건축주, 감독자, 시공자 3자가 입회하여 공사에 필요한 실비와 보수를 협의하여 정하고 시공자에게 지급하는 방법이다.  
③ 턴키도급방식은 건설업자가 금융, 시공, 시운전까지 주문자가 필요로 하는 것을 인도하는 방법이나 건축주의 의도가 반영되지 못하는 단점이 있다.  
④ 공동도급방식은 기술, 자본 그리고 위험을 분담시킬 수 있으며, 경비를 절감한다.

27. 사질토의 경우 표준관입 시험의 타격횟수 N이 50이면 이 지반의 상태(모래의 상대밀도)는?

- ① 몹시 느슨하다.                      ② 느슨하다.  
③ 보통이다.                              ④ 다진 상태이다.

28. 철골의 구멍뚫기에서 이형철근 D22의 관통구멍의 구멍지름으로 옳은 것은?

- ① 24mm                      ② 28mm  
③ 31mm                              ④ 35mm

29. 한중콘크리트를 칠 때 재료가열에 관한 기술 중 옳은 것은?

- ① 시멘트는 어떠한 방법으로도 가열해서는 안된다.  
② 시멘트 페이스트를 가열하는 것은 무방하다.  
③ 골재는 될 수 있으면 불에 직접 달게 하여 가열한다.  
④ 물은 비열이 작아서 덥혀도 별 효과가 없다.

30. 철골공사에서 크롬산 아연을 안료로 하고, 알키드수지를 전색료로 한 것으로서 알루미늄 녹막이 초벌철에 적당한 것은?

- ① 그래파이트 도료                      ② 징크로메이트 도료

③ 광명단

④ 알루미늄 도료

31. 지반의 구성층을 파악하기 위하여 낙하추 또는 화약의 폭발로 지반을 조사하는 방법은?

- ① 충격식 보링 지하탐사      ② 전기 저항식 지하탐사  
③ 가스관 꽃음에 의한 지하탐사      ④ 탄성파식 지하탐사

32. 철근 콘크리트의 골재로서 부득이 해사(海砂)를 사용할 때에 특히 처리할 점은?

- ① 구조내력상 중요한 부분에 보강근을 넣는다.  
② 충분히 물로 씻어낸다.  
③ 조강 포틀랜드 시멘트를 사용한다.  
④ 충분히 건조한 후에 사용한다.

33. 골재로서 염분을 포함한 바다모래는 철근을 부식시킬 위험이 있으므로 규정치를 초과하는 경우 방청 조치를 하는데 그 방법으로 부적절한 것은?

- ① 물시멘트비의 절감      ② 피복두께의 증가  
③ 아연도금 철근의 사용      ④ 수밀성이 낮은 표면마감

34. 네트워크(Network)에 관한 용어로서 관계없는 것은?

- ① 커넥터(connector)      ② 크리티컬 패스(critical path)  
③ 더미(dummy)      ④ 플로우트(float)

35. 파이프 회전용의 선단에 커터(cutter)를 장치하여 흙을 뒤섞으며 지중으로 파들어간 다음 선단에서 모르타르를 분출시켜 흙과 모르타르를 혼합하면서 파이프를 빼내는 말뚝의 명칭은?

- ① 페데스탈 말뚝  
② 레이몬드 말뚝  
③ C.I.P 말뚝(cast in place)  
④ M.I.P 말뚝(mixed in place)

36. 프리패브 콘크리트(prefab concrete)에 관한 설명 중 잘못된 것은?

- ① 제품의 품질을 균일화 및 고품질화 할 수 있다.  
② 작업의 기계화로 노무 절약을 기대할 수 있다.  
③ 공장생산으로 기계화하여 부재의 규격을 쉽게 변경할 수 있다.  
④ 자재를 규격화하여 표준화 및 대량생산을 할 수 있다.

37. CM(Construction Management)에 대한 설명으로 옳은 것은?

- ① 설계단계에서 시공법까지는 결정하지 않고 요구 성능만을 시공자에게 제시하여 시공자가 자유로이 재료나 시공 방법을 선택할 수 있는 방식이다.  
② 시공주를 대신하여 전문가가 설계자 및 시공자를 관리하는 독립된 조직으로 시공주, 설계자, 시공자의 조정을 목적으로 한다.  
③ 설계 및 시공을 동일회사에서 해결하는 방식을 말한다.  
④ 2개 이상의 건설회사가 공동으로 공사를 도급하는 방식을 말한다.

38. 다음 방수공사에 대한 설명 중 옳은 것은?

- ① 보통 수압이 적고 얇은 지하실에는 바깥방수법, 수압이 크고 깊은 지하실에는 안방수법이 유리하다.  
② 지하실에 안방수법을 채택하는 경우, 지하실 내부에 설

치하는 간막이벽, 창문을 등은 방수층 시공을 하기 전에 먼저 하는 것이 유리하다.

- ③ 지하실이 바깥방수 아스팔트방수층일 경우, 바닥방수층 치켜올림을 고려하여 밀창콘크리트는 60cm 이상 넓게 하고 방수층도 접어 올릴 수 있게한다.  
④ 바깥방수법은 보호 누름이 필요하지만, 안방수법은 없어도 무방하다.

39. CIC(Computer Integrated Construction)의 설명으로 옳은 것은?

- ① 컴퓨터, 정보통신 및 자동화 생산, 조립기술 등을 토대로 건설행위를 수행하는데 필요한 기능들과 인력들을 유기적으로 연계하여 각 건설업체의 업무를 각사의 특성에 맞게 최적화 하는 것  
② 재무, 인사관리 등의 요소들을 대상으로 건설업체의 업무수행을 전산화 처리하여 업무를 신속하게 수행토록 하는 것  
③ 건축 시공시에 컴퓨터를 활용하여 시공량의 점검, 시공 부위 확인 등을 수행토록 하는 것  
④ 컴퓨터를 활용하여 건설의 입찰 및 계약업무를 전산화하여 업무를 신속하고, 정확하게 처리토록 하는 것

40. 유성페인트의 정벌칠에서 광택과 내구력을 증가시키는데 좋은 효과를 나타내는 재료는?

- ① 스티플      ② 건성유(보일드유)  
③ 드라이어      ④ 캐슈

### 3과목 : 건축구조

41. 철근콘크리트 압축 부재에 사용되는 띠철근의 수직간격기준으로 옳지 않은 것은?

- ① 종방향 철근지름의 16배 이하  
② 띠철근 지름의 48배 이하  
③ 기둥 단면의 최소 치수 이하  
④ 250mm 이하

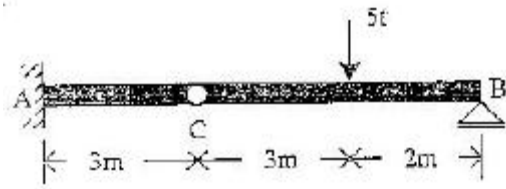
42. 탄성계수  $E=2100 \text{ kgf/cm}^2$ , 포아송비  $\nu=0.3$  인 강체에 전단 응력도  $V=100 \text{ kgf/cm}^2$ 가 가해졌을 때 전단변형도는?

- ① 0.168 radian      ② 0.143 radian  
③ 0.124 radian      ④ 0.048 radian

43. 철근의 이음에 관한 설명 중 옳지 않은 것은?

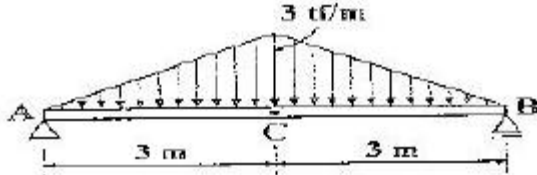
- ① 횡 부재에서 서로 직접 접촉되지 않게 겹침이음 된 철근은 횡 방향으로 소요 겹침 이음 길이의 1/5 또는 150mm 중 작은 값 이상 떨어지지 않아야 한다.  
② 인장력을 받는 이형철근 및 이형 철선의 겹침이 음길이는 최소 400mm 이상이어야 한다.  
③ 일반적으로 D35를 초과하는 철근은 겹침이음을 하지 않아야 한다.  
④ 압축 이형철근의 겹침 이음 길이는 최소 300mm 이상이어야 한다.

44. 그림과 같은 보에서 점 A의 반력 모멘트는 얼마인가?



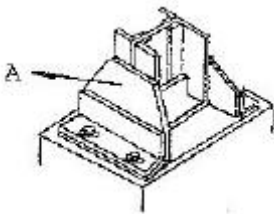
- ① -6 tf · m                      ② -9 tf · m  
③ -15 tf · m                    ④ -30 tf · m

45. 그림과 같은 단순보의 C점에서의 휨모멘트 값은?



- ① 3 tf · m                      ② 6 tf · m  
③ 9 tf · m                      ④ 12 tf · m

46. 다음의 철골조 주각 부분의 그림에서 A의 명칭은?



- ① base plate                      ② side angle  
③ anchor plate                    ④ wing plate

47. 창문 위에 건너질러 상부에서 오는 하중을 좌우벽으로 전달 시키기 위하여 대는 보는?

- ① 기초보                      ② 인방보  
③ 토대                      ④ 테두리보

48. 계수전단력  $V_u$ 가 콘크리트가 부담하는 전단강도의 1/2를 초과하는 철근콘크리트 휨부재의 경우 전단보강근의 최소 단면적은? (단,  $f_y$ 는 전단근의 항복강도,  $b_w$ 는 보의 폭,  $s$ 는 전단근의 간격이다)

- ①  $0.35 \frac{b_w s}{f_y}$                       ②  $0.35 \frac{f_y}{b_w s}$   
③  $0.25 \frac{b_w s}{f_y}$                       ④  $0.25 \frac{f_y}{b_w s}$

49. 건축구조설계기준에 의하면 흙에 접하거나 옥외의 공기에 직접 노출되는 현장 치기 콘크리트의 경우 D16 이하의 철근의 최소피복두께는 강도설계법에서 얼마로 하는가?

- ① 20mm                      ② 30mm  
③ 40mm                      ④ 50mm

50. 철근콘크리트 단근보에서  $f_{ck}=27\text{MPa}$ ,  $f_y=400\text{MPa}$ , 균형철근비  $p_b=0.0293$  일 때 인장철근의 최대철근비( $p_{max}$ ), 최소철근비( $p_{min}$ ) 값은?

- ①  $p_{max} = 0.0325$ ,  $p_{min} = 0.0047$   
②  $p_{max} = 0.0220$ ,  $p_{min} = 0.0033$   
③  $p_{max} = 0.0220$ ,  $p_{min} = 0.0035$   
④  $p_{max} = 0.0160$ ,  $p_{min} = 0.0028$

51. 강도설계법의 단근보에서  $f_{ck}=24\text{MPa}$ ,  $f_y=400\text{MPa}$  일 때, 균형철근비는?

- ① 0.023                      ② 0.026  
③ 0.039                      ④ 0.053

52. 창호 철물에 대한 설명 중 틀린 것은?

- ① 크레센트는 오르내리창을 잠그는데 사용된다.  
② 도어 체크는 열려진 여닫이문이 저절로 닫아지게 하는 장치이다.  
③ 경첩은 문짝을 문틀에 달아 여닫는 축이 되는 것이다.  
④ 래버터리 한지는 열려진 문을 버티어 고정하는 것으로 자재 여닫이문에 주로 사용된다.

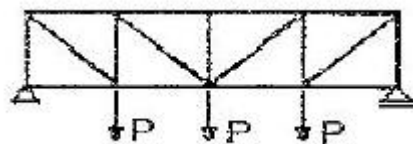
53. 강도설계법의 강도 관계식이 옳게 표시된 것은? (단,  $M_d$ 는 설계강도,  $M_n$ 은 공칭강도,  $M_u$ 는 소요강도,  $\phi$ 는 강도감소계수이다.)

- ①  $M_d = \phi \cdot M_n \geq M_u$                       ②  $M_d = M_u \leq \phi \cdot M_n$   
③  $M_d \leq \phi \cdot M_n = M_u$                       ④  $M_n = \phi \cdot M_d \geq M_u$

54. 곡면판이 지니는 역학적 특성을 응용한 구조로서 외력은 주로 판의 면내력으로 전달되기 때문에 경량이고 내력이 큰 구조물을 구성할 수 있는 것은?

- ① 트러스구조                      ② 커튼월구조  
③ 셸구조                      ④ 패널구조

55. 그림과 같은 트러스에서 압축재의 수는 몇 개인가?



- ① 8개                      ② 9개  
③ 7개                      ④ 10개

56. 보강콘크리트 블록조에 대한 설명 중 잘못된 것은?

- ① 내력벽으로 둘러싸인 부분의 바닥면적은  $80\text{m}^2$ 을 넘지 않도록 한다.  
② 벽체의 줄눈은 통줄눈이 되지 않도록 한다.  
③ 철근보강시 철근은 굵은 것을 조금 넣는 것보다 가는 것을 많이 넣는 것이 좋다.  
④ 벽은 집중적으로 배치하지 말아야 하며 가능한 한 균등히 배치한다.

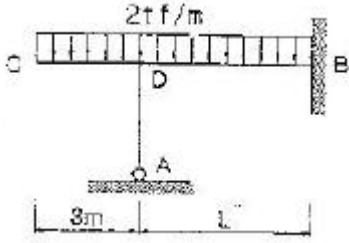
57. 강도설계법의 규준에 의한 양단 연속이고 스패 4.2m인 1방향 슬래브의 최소 두께는 얼마인가? (단, 처짐을 검토하지 않아도 되며, 보통콘크리트 사용, )

- ① 100 mm                      ② 120 mm  
③ 130 mm                      ④ 150 mm

58. 직사각형 철근콘크리트 단면의 보에 발생하는 최대 전단응력은? (단, 보의 단면적은  $10\text{cm}^2$ , 전단력은  $100\text{kgf}$  이다.)

- ① 10 kgf/cm<sup>2</sup>      ② 15 kgf/cm<sup>2</sup>  
③ 100 kgf/cm<sup>2</sup>      ④ 20 kgf/cm<sup>2</sup>

59. 그림과 같은 현관 출입구에서 지붕에 등분포 하중이 작용할 때, 기둥에 휨모멘트가 생기지 않게 하려면 L은 얼마인가?



- ① 2.45m      ② 4.90m  
③ 6.12m      ④ 7.35m

60. 다음 중 래티스보의 웹(web)을 90° 각도로 댄 것으로 경미한 하중을 받는 곳에 주로 사용되는 철골보는?

- ① 격자보      ② H 형강보  
③ 트러스보      ④ 플레이트거더

4과목 : 건축설비

61. 다음 중 3상 유도전동기의 속도제어 방법이 아닌 것은?

- ① 인버터를 사용하여 주파수를 변화시킨다.  
② 독립된 2조의 극수가 서로 다른 고정자 권선을 감아 놓고 필요에 따라 극수를 선택하여 극수를 변화시킨다.  
③ 회전자에 접속되어 있는 저항을 변화시켜 비례추이의 원리로 제어한다.  
④ 2선의 접속을 바꿔 회전자계의 방향이 반대로 되도록 한다.

62. 방의 취득 현열량이 32,000 kcal/h로 산출되었다. 실온을 26°C로 유지하기 위해 16°C의 공기를 취출하도록 계획되었다. 실내로의 송풍량은 몇 m<sup>3</sup>/h가 되는가? (단, 공기의 단위 체적당 정압비열은 0.288kcal/m<sup>3</sup>°C으로 한다.)

- ① 2,667 m<sup>3</sup>/h      ② 11,111 m<sup>3</sup>/h  
③ 13,333 m<sup>3</sup>/h      ④ 26,667 m<sup>3</sup>/h

63. 급수방식 중 고가수조방식에 대한 설명으로 옳지 않은 것은?

- ① 저수시간이 길어지면 수질이 나빠지기 쉽다.  
② 대규모의 급수 수요에 쉽게 대응할 수 있다.  
③ 단수시에도 일정량의 급수를 계속할 수 있다.  
④ 급수공급압력의 변화가 심하고 취급이 까다롭다.

64. 관공등표에 의해 급수 관경을 결정할 때 환산기준이 되는 관경은?

- ① 15A      ② 20A  
③ 25A      ④ 32A

65. 다음 중 현열부하와 잠열부하 모두를 계산하여야 하는 요소는?

- ① 틈새바람      ② 조명발열  
③ 유리창 투과열량      ④ 벽체 관류열량

66. 다음 중 점검할 수 없는 은폐 장소에 적당치 않은 옥내 배선의 공사방법은?

- ① 애자 사용 공사      ② 목재 몰드 공사  
③ 합성 수지관 공사      ④ 케이블 공사

67. 건축화조명 중 천장 전면에 광원 또는 조명기구를 배치하고, 발광면을 확산투과성 플라스틱판이나 루버 등으로 전면을 가리는 조명 방법은?

- ① 다운라이트 조명      ② 코니스 조명  
③ 밸런스 조명      ④ 광천장 조명

68. 에스컬레이터에 대한 설명으로 옳은 것은?

- ① 경사도는 30° 이하로 한다.  
② 정격속도는 하강방향의 안전을 고려하여 45m/min 이하로 한다.  
③ 수송능력은 엘리베이터와 비슷하다.  
④ 구동장치, 제어장치 등을 격납 하는 기계실은 되도록 크게 한다.

69. 엘리베이터 설비에서 카가 최상층이나 최하층에서 정상 운행위치를 벗어나 그 이상으로 운행하는 것을 방지하는 안전장치는?

- ① 조속기      ② 가이드 레일  
③ 리미트 스위치      ④ 완충기

70. 다음 급수기구 중 최저필요압력이 가장 큰 것은?

- ① 일반수전      ② 샤워기  
③ 블로우아웃식 대변기      ④ 가스순간 탕비기

71. 다음 중 증기난방에 대한 설명으로 옳지 않은 것은?

- ① 응축수 환수관 내에 부식이 발생하기 쉽다.  
② 온수난방에 비해 방열기 크기나 배관의 크기가 작아도 된다.  
③ 방열기를 바닥에 설치하므로 복사난방에 비해 실내바닥의 유효면적이 줄어든다.  
④ 온수난방에 비해 예열시간이 길어서 충분한 난방감을 느끼는데 시간이 걸린다.

72. 그림과 같은 습공기선도 상에서 공기가 1의 상태에서 2의 상태로 변화하는 과정을 설명한 것은?



- ① 가열가습      ② 냉각감습  
③ 가열감습      ④ 냉각가습

73. 양수량이 1m<sup>3</sup>/min, 전 양정이 50m 되는 펌프에서 회전수를 1.2배 증가 시켰을 때 양수량은?

- ① 1.2배 증가      ② 1.7배 증가  
③ 2.2배 증가      ④ 2.4배 증가

74. 광원에서의 발산 광속 중 60~90[%]는 윗 방향으로 향하여

천장이나 윗벽 부분에서 반사되고, 나머지 빛이 아래 방향으로 향하는 방식의 조명기구?

- ① 직접조명기구      ② 반직접조명기구  
③ 적반확산조명기구      ④ 반간접조명기구

75. 다음 중 배수관에 트랩을 설치하는 가장 주된 이유는?

- ① 하수가스, 악취 등이 실내로 침입하는 것을 막기 위하여  
② 배수관의 신축을 조절하기 위하여  
③ 배수의 소음을 감소하기 위하여  
④ 배수의 동결을 막기 위하여

76. 다음 중 냉각탑을 설치하는 장소로 가장 적당한 곳은?

- ① 지하실      ② 보일러실  
③ 바람이 안 통하는 곳      ④ 바람이 잘 통하는 옥상

77. 다음 중 급탕설비에 관한 설명으로 맞는 것은?

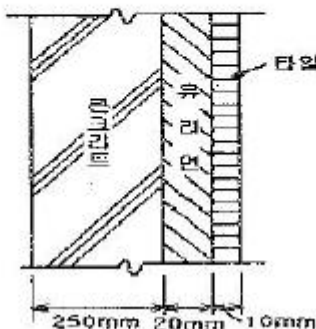
- ① 팽창탱크는 반드시 개방식으로 해야 한다.  
② 리버스 리턴(reverse-return) 방식은 전 계통의 탕의 순환을 촉진하는 방식이다.  
③ 직접가열식 중앙급탕법은 보일러 안에 스케일 부착이 없어 내부에 방식처리가 불필요하다.  
④ 간접가열식 중앙급탕법은 저탕조와 보일러를 직결하여 순환가열하는 것으로 고압용 보일러가 주로 사용된다.

78. 고압증기배관에서 환수관이 높은 위치에 있을 때 기기에서 배출된 응축수를 처리하기 위하여 사용하는 트랩은?

- ① 드럼 트랩      ② S 트랩  
③ 그리스 트랩      ④ 버킷 트랩

79. 다음과 같은 벽체의 열관류율은?

- 1) 내표면 열전달률 :  $8\text{kcal/m}^2\text{h}^\circ\text{C}$   
2) 외표면 열전달률 :  $20\text{kcal/m}^2\text{h}^\circ\text{C}$   
3) 재료의 열전도율 [ $\text{kcal/m}^2\text{h}^\circ\text{C}$ ] : 콘크리트 1.2, 유리면 0.036, 타일 1.1



- ① 약  $0.9\text{kcal/m}^2\text{h}^\circ\text{C}$       ② 약  $1.05\text{kcal/m}^2\text{h}^\circ\text{C}$   
③ 약  $1.2\text{kcal/m}^2\text{h}^\circ\text{C}$       ④ 약  $1.35\text{kcal/m}^2\text{h}^\circ\text{C}$

80. 면적이  $100[\text{m}^2]$ 인 어느 강당의 야간 소요 평균 조도가  $300[\text{lux}]$ 이다. 광속이  $2000[\text{lm}]$ 인 형광등을 사용할 경우 필요한 개수는? (단, 조명률은 60%이고 감광보상률은 1.5이다.)

- ① 25개      ② 29개  
③ 34개      ④ 38개

## 5과목 : 건축법규

81. 부설주차장의 추가설치시 당해 부지의 경계선으로부터 부설주차장의 경계선까지는 직선거리 기준으로 얼마 이내이어야 하는가?

- ① 100 m      ② 200 m  
③ 300 m      ④ 600 m

82. 주차전용건축물에 관한 설명으로 옳지 않은 것은?

- ① 기계식주차장의 연면적의 산정은 기계식주차장치에 의하여 자동차가 주차할 수 있는 면적과 기계실·관리사무소 등의 면적을 합산하여 계산한다.  
② 부설주차장의 설치를 제한하는 지역의 주차전용 건축물의 경우에는 당해 지방자치단체의 조례가 정하는 바에 의하여 주차장 외의 용도로 사용되는 부분에 설치할 수 있는 시설의 종류를 당해 지역 안의 구역별로 제한할 수 있다.  
③ 건축물의 연면적 중 주차장으로 사용되는 부분의 비율이 95 퍼센트 이상인 것을 주차전용건축물이라 한다.  
④ 판매 및 영업시설인 경우에는 주차장 외의 용도로 사용되는 부분의 비율이 70퍼센트 이상인 것을 주차전용건축물이라 한다.

83. 건축법상 다중이용건축물에 해당되는 것은?

- ① 15층이며 바닥면적의 합계가  $4,000\text{m}^2$ 인 판매 및 영업시설  
② 바닥면적의 합계가  $3,000\text{m}^2$ 인 종합병원  
③ 바닥면적의 합계가  $3,000\text{m}^2$ 인 문화 및 집회시설 (전시장 및 동·식물원을 제외한다)  
④ 16층인 관광숙박시설

84. 다음 중 바닥면적의 산정방법이 맞지 않는 것은?

- ① 벽·기둥이 없는 건축물에 있어서는 그 지붕 끝 부분으로부터 수평거리 1미터를 후퇴한 선으로 둘러싸인 수평투영면적으로 한다.  
② 공동주택이 아닌 경우 지상층에 설치한 기계실·어린이 놀이터·조경시설의 경우에는 당해 부분의 면적을 바닥면적에 산입하지 아니한다.  
③ 피로티 기타 이와 유사한 구조(벽면적의 2분의 1이상이 당해 층의 바닥면에서 위층 바닥 아래면까지 공간으로 된 것에 한한다) 부분의 당해 부분이 공중의 통행 또는 차량의 통행·주차에 전용되는 경우와 공동주택의 경우에는 이를 바닥면적에 산입하지 아니한다.  
④ 건축물의 지하에 설치하는 물탱크·기름탱크·냉각탑 정화조 기타 이와 유사한 것의 설치를 위한 구조물은 바닥면적에 산입하지 아니한다.

85. 건축물의 출입구에 설치하는 회전문은 기준상 계단이나 에스컬레이터로부터 몇 미터 이상의 거리를 두도록 되어 있는가?

- ① 1.0m 이상      ② 1.5m 이상  
③ 2.0m 이상      ④ 2.5m 이상

86. 거실의 바닥면적의 합계가 5천제곱미터인 아파트에서 내부 마감재로 적합하지 않은 것은?

- ① 거실의 벽 - 난연재료  
② 거실에서 지상으로 통하는 주된 복도 - 준불연재료  
③ 거실에서 지상으로 통하는 주된 계단 - 준불연재료  
④ 거실에서 지상으로 통하는 통로의 벽 - 난연재료

87. 건축물에 설치하는 피뢰설비에 관한 기준으로 옳지 않은 것은?

- ① 측면 낙뢰를 방지하기 위하여 높이가 60미터를 초과하는 건축물 등에는 지면에서 건축물 높이의 5분의 3이 되는 지점부터 상단부분까지의 측면에 수뢰부를 설치할 것
- ② 피뢰설비의 인하도선을 대신하여 철골조의 철골구조물과 철근콘크리트조의 철근구조체 등을 사용하는 경우에는 전기적 연속성이 보장될 것
- ③ 피뢰설비의 재료는 최소 단면적이 파복이 없는 동선을 기준으로 수뢰부 35제곱밀리미터 이상, 인하도선 16제곱밀리미터 이상, 접지극 50제곱밀리미터 이상이거나 이와 동등 이상의 성능을 갖출 것
- ④ 돌침은 건축물의 맨 윗부분으로부터 25cm 이상 돌출시켜 설치할 것

88. 다음 중 특별시장 또는 광역시장의 건축허가 대상의 조건이 되는 건축물은?

- ① 20층의 호텔
- ② 25층의 사무소
- ③ 연면적 90,000m<sup>2</sup>의 공동주택
- ④ 연면적 150,000m<sup>2</sup>의 공장

89. 건축법의 일부를 준용하는 공작물의 규모 기준으로 옳지 않은 것은?

- ① 높이 2미터를 넘는 옹벽
- ② 높이 4미터를 넘는 광고판
- ③ 높이 8미터를 넘는 고가수조
- ④ 바닥면적 20제곱미터를 넘는 지하대피호

90. 연면적 200m<sup>2</sup>를 초과하는 건축물에 설치하는 계단의 설치 기준으로 옳지 않은 것은?

- ① 높이가 3m를 넘는 계단에는 높이 3m 이내마다 너비 1.2m 이상의 계단참을 설치할 것
- ② 높이가 1.2m를 넘는 계단 및 계단참의 양옆에는 난간을 설치할 것
- ③ 난간·벽 등의 손잡이는 최대지름이 3.2cm 이상 3.8cm 이하인 원형 또는 타원형의 단면으로 할 것
- ④ 계단을 대체하여 설치하는 경사로의 경사도는 1:8 을 넘지 아니할 것

91. 제1종지구단위계획구역을 지정할 수 있는 지역이 아닌 것은?

- ① 도시 및 주거환경정비법의 규정에 의하여 지정된 정비구역
- ② 관광진흥법의 규정에 의하여 지정된 관광특구
- ③ 기반시설부담구역
- ④ 계획관리지역

92. 도시기본계획의 내용에 포함되지 않는 정책방향 사항은?

- ① 환경의 보전 및 관리에 관한 사항
- ② 공원·녹지에 관한 사항
- ③ 공간구조, 생활권의 설정 및 인구의 배분에 관한 사항
- ④ 주택건설 촉진에 관한 사항

93. 대지를 분할할 때 최소한의 면적기준으로 부적합한 것은?

- ① 주거지역 : 60 m<sup>2</sup>    ② 상업지역 : 100 m<sup>2</sup>

- ③ 공업지역 : 150 m<sup>2</sup>    ④ 녹지지역 : 200 m<sup>2</sup>

94. 면적이 1㎢ 이상인 토지의 형질변경은 어디서 심의를 거쳐야 하는가?

- ① 시·군·구도시계획위원회    ② 시·도도시계획위원회
- ③ 중앙도시계획위원회    ④ 건설교통부장관

95. 공개공지 또는 공개공간의 설치시 건축물에 적용되는 건축법의 완화규정은?

- ① 건폐율    ② 용적률
- ③ 대지면적의 최소한도    ④ 대지안의 공지

96. 다음 시설물의 부설주차장 설치기준이 잘못된 것은?

- ① 관람장 - 정원 100인당 1대
- ② 골프장 - 1홀당 10대
- ③ 골프연습장 - 1타석당 1대
- ④ 옥외수영장 - 정원 20인당 1대

97. 건축선에 관한 내용으로 옳은 것은?

- ① 소요 너비에 미달되는 너비의 도로인 경우에는 그 중심선으로부터 당해 소요 너비에 상당하는 수평거리를 후퇴한 선으로 한다.
- ② 지상 및 지표하의 건축물은 건축선의 수직면을 넘어서는 아니된다.
- ③ 도로면으로부터 높이 5.0m 이하에 있는 창문은 개폐시 건축선의 수직면을 넘는 구조로 하여서는 아니된다.
- ④ 도로의 교차각이 90° 인 당해 도로의 너비와 교차되는 도로의 너비가 각각 6m 인 도로모퉁이 부분의 건축선은 그 대지에 접한 도로경계선의 교차점으로부터 도로경계선에 따라 각각 3m 씩 후퇴한 2점을 연결한 선으로 한다.

98. 에너지절약계획서를 제출해야 될 기숙사의 규모 기준은 얼마인가?

- ① 바닥면적의 합계가 500 제곱미터 이상
- ② 바닥면적의 합계가 2,000 제곱미터 이상
- ③ 바닥면적의 합계가 3,000 제곱미터 이상
- ④ 바닥면적의 합계가 10,000 제곱미터 이상

99. 대지면적이 500m<sup>2</sup>일 때 옥상에 조경을 한 경우 조경면적으로 인정받을 수 있는 최대면적은? (단, 조경설치 기준은 대지면적의 10%로 한다.)

- ① 15m<sup>2</sup>    ② 20m<sup>2</sup>
- ③ 25m<sup>2</sup>    ④ 30m<sup>2</sup>

100. 노외주차장의 설치에 대한 계획기준으로 옳지 않은 것은?

- ① 토지이용현황을 참작한다.
- ② 노외주차장 이용자의 보행거리 및 보행자를 위한 도로상황 등을 참작한다.
- ③ 자연녹지지역이 아닌 지역이어야 한다.
- ④ 입구와 출구를 따로 설치해야 하는 경우도 있다.

전자문제집 CBT PC 버전 : [www.comcbt.com](http://www.comcbt.com)  
 전자문제집 CBT 모바일 버전 : [m.comcbt.com](http://m.comcbt.com)  
 기출문제 및 해설집 다운로드 : [www.comcbt.com/xs](http://www.comcbt.com/xs)

#### 전자문제집 CBT란?

종이 문제집이 아닌 인터넷으로 문제를 풀고 자동으로 채점하며  
 모의고사, 오답 노트, 해설까지 제공하는 무료 기출문제 학습 프  
 로그램으로 실제 시험에서 사용하는 OMR 형식의 CBT를 제공합  
 니다.

PC 버전 및 모바일 버전 완벽 연동  
 교사용/학생용 관리기능도 제공합니다.

오답 및 오탈자가 수정된 최신 자료와 해설은 전자문제집 CBT  
 에서 확인하세요.

1	2	3	4	5	6	7	8	9	10
①	①	④	④	④	①	②	④	④	③
11	12	13	14	15	16	17	18	19	20
④	②	④	③	②	④	①	④	③	③
21	22	23	24	25	26	27	28	29	30
①	②	③	④	③	④	④	④	①	②
31	32	33	34	35	36	37	38	39	40
④	②	④	①	④	③	②	③	①	②
41	42	43	44	45	46	47	48	49	50
④	③	②	①	③	④	②	①	③	③
51	52	53	54	55	56	57	58	59	60
②	④	①	③	③	②	④	②	④	①
61	62	63	64	65	66	67	68	69	70
④	②	④	①	①	②	④	①	③	③
71	72	73	74	75	76	77	78	79	80
④	④	①	④	①	④	②	④	②	④
81	82	83	84	85	86	87	88	89	90
③	④	④	②	③	④	①	②	④	②
91	92	93	94	95	96	97	98	99	100
④	④	②	③	②	④	④	②	③	③