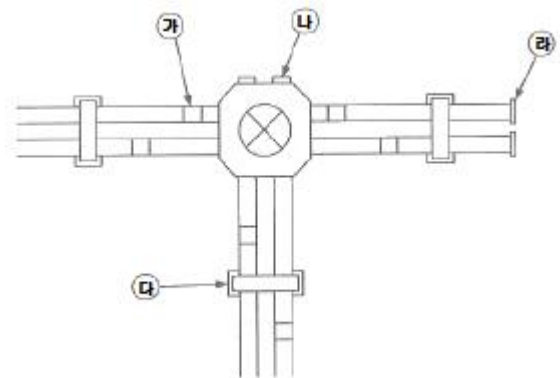


## 1과목 : 전기응용 및 공사재료

- 3상 유도전동기를 급속히 정지 또는 감속시킬 경우나 과속을 급히 막을 수 있는 가장 쉽고 효과적인 제동법은?  
① 발전제동                      ② 회생제동  
③ 역전제동                      ④ 와전류 제동
- 하역 기계에서 무거운 것은 저속으로, 가벼운 것은 고속으로 작업하여 고속이나 저속에서 다 같이 동일한 동력이 요구되는 부하는?  
① 정토크 부하                      ② 정동력 부하  
③ 정속도 부하                      ④ 제곱토크 부하
- 모든 방향에 400cd의 광도를 갖고 있는 전등을 지름 3m의 테이블 중심 바로 위 2m 위치에 달아 놓았다면 테이블의 평균 조도는 약 몇 lx인가?  
① 35                                  ② 53  
③ 71                                  ④ 90
- 부식의 문제가 없고 전류밀도가 높아 자동차나 군사용의 특수 목적으로 사용되는 연료전지는?  
① 인산형(PAFC)연료전지  
② 고체 전해질형(SOFC)연료전지  
③ 용융탄산염형(MCFC)연료전지  
④ 고체고분자형(SPEFC)연료전지
- 344kcal를 kWh의 단위로 표시하면?  
① 0.4                                  ② 407  
③ 400                                  ④ 0.0039
- 열차의 자중이 100t이고, 동륜상의 중량이 90t인 기관차의 최대 견인력(kg)은? (단, 레일의 점착계수는 0.2로 한다.)  
① 15000                              ② 16000  
③ 18000                              ④ 21000
- SCR에 대한 설명 중 틀린 것은?  
① 위상제어의 최대 조절범위는 0°~90°이다.  
② 3개 접합면을 가진 4층 다이오드 형태로 되어있다.  
③ 게이트단자에 펄스신호가 입력되는 순간부터 도통된다.  
④ 제어각이 작을수록 부하에 흐르는 전류도통각이 커진다.
- n형 반도체에 대한 설명으로 옳은 것은?  
① 순수 실리콘 내에 정공의 수를 늘리기 위해 As, P, Sb과 같은 불순물 원자를 첨가한 것  
② 순수 실리콘 내에 정공의 수를 늘리기 위해 Al, B, Ga과 같은 불순물 원자를 첨가한 것  
③ 순수 실리콘 내에 전자의 수를 늘리기 위해 As, P, Sb과 같은 불순물 원자를 첨가한 것  
④ 순수 실리콘 내에 전자의 수를 늘리기 위해 Al, B, Ga과 같은 불순물 원자를 첨가한 것
- 레이저 가열의 특징으로 틀린 것은?  
① 파장이 짧은 레이저는 미세가공에 적합하다.  
② 에너지 변환 효율이 높아 원격가공이 가능하다.  
③ 필요한 부분에 집중하여 고속으로 가열할 수 있다.

④ 레이저의 파워와 조사면적을 광범위하게 제어할 수 있다.

- 비시감도가 최대인 파장(nm)은?  
① 350                                  ② 450  
③ 500                                  ④ 555
- 배전반 및 분전반에 대한 설명으로 틀린 것은?  
① 기구 및 전선은 쉽게 점검할 수 있어야 한다.  
② 옥외에 시설할 때는 방수형을 사용해야 한다.  
③ 모든 분전반은 최소간섭용량보다는 작은 정격의 것이어야 한다.  
④ 한 개의 분전반에는 한 가지 전원(1회선의 간선)만 공급하여야 한다.
- HID램프의 종류가 아닌 것은?  
① 고압 수은램프                      ② 고압 옥소램프  
③ 고압 나트륨램프                      ④ 메탈 할라이드램프
- 새로 제작한 전구는 최초의 점등에서 필라멘트의 특성을 안정화시키는 작업을 무엇이라 하는가?  
① 초특성                                  ② 동정특성  
③ 전압특성                                  ④ 에이징(aging)
- 변압기의 부속품이 아닌 것은?  
① 철심                                  ② 권선  
③ 부싱                                  ④ 정류자
- 공칭전압 345kV인 경우 현수매자 일련의 개수는?  
① 10~11                                  ② 18~20  
③ 25~30                                  ④ 40~45
- 접지 저항제의 구비조건으로 틀린 것은?  
① 안전할 것                                  ② 지속성이 없을 것  
③ 전기적으로 양도체일 것                      ④ 전극을 부식시키지 않을 것
- 아크용접기의 2차 전류가 100A 이하일 때 정격 사용률이 50%인 경우 용접용 케이블 또는 기타의 케이블 굵기는 몇 mm<sup>2</sup>를 시설하여야 하는가?  
① 16                                  ② 25  
③ 35                                  ④ 70
- 플로어 덕트 설치 그림(약식) 중 블랭크 와셔가 사용되어야 할 부분은?



① 가

② 나

③ 다

④ 라

19. 테이블 탭에는 단면적  $1.5\text{mm}^2$  이상의 코드를 사용하고 플러그를 부착시켜야한다. 이 경우 코드의 최대 길이(m)는?

① 1

② 2

③ 3

④ 4

20. 다음 중 발열체의 구비조건이 아닌 것은?

① 내열성이 클 것

② 용융, 연화, 산화 온도가 낮을 것

③ 저항률이 크고 온도계수가 작을 것

④ 연성 및 전성이 풍부하여 가공이 용이 할 것

### 2과목 : 전력공학

21. 1kWh를 열량으로 환산하면 약 몇 kcal인가?

① 80

② 256

③ 539

④ 860

22. 전선의 굵기가 균일하고 부하가 송전단에서 말단까지 균일하게 분포되어 있을 때 배전선 말단에서 전압강하는? (단, 배전선 전체저항 R, 송전단의 부하전류는 I이다.)

①  $\frac{1}{2}RI$

②  $\frac{1}{\sqrt{2}}RI$

③  $\frac{1}{\sqrt{3}}RI$

④  $\frac{1}{3}RI$

23. 화력발전소에서 가장 큰 손실은?

① 소내용 동력

② 송풍기 손실

③ 복수기에서의 손실

④ 연도 배출가스 손실

24. 송전선로에 댐퍼(Damper)를 설치하는 주된 이유는?

① 전선의 진동방지

② 전선의 이탈방지

③ 코로나현상의 방지

④ 현수매자의 경사방지

25. 부하전류의 차단능력이 없는 것은?

① DS

② NFB

③ OCB

④ VCB

26. 소호리액터를 송전계통에 사용하면 리액터의 인덕턴스와 선로의 정전용량이 어떤 상태로 되어 지락전류를 소멸시키는가?

① 병렬공진

② 직렬공진

③ 고임피던스

④ 저임피던스

27. 발전용량 9800kW의 수력발전소 최대사용 수량이  $10\text{m}^3/\text{s}$ 일 때, 유효낙차는 몇 m 인가?

① 100

② 125

③ 150

④ 175

28. 역률 개선용 콘덴서를 부하와 병렬로 연결하고자 한다. △결선방식과 Y결선방식을 비교하면 콘덴서의 정전용량( $\mu\text{F}$ )의 크기는 어떠한가?

① △결선방식과 Y결선방식은 동일하다.

② Y결선방식이 △결선방식의 1/2이다.

③ △결선방식이 Y결선방식의 1/3이다.

④ Y결선방식이 △결선방식의  $\frac{1}{\sqrt{3}}$ 이다.

29. 순저항 부하의 부하전력 P(kW), 전압 E(V), 선로의 길이 l(m), 고유저항  $\rho(\Omega \cdot \text{mm}^2/\text{m})$ 인 단상 2선식 선로에서 선로 손실을 q(W)라 하면, 전선의 단면적( $\text{mm}^2$ )은 어떻게 표현되는가?

①  $\frac{\rho l P^2}{q E^2} \times 10^6$

②  $\frac{2 \rho l P^2}{q E^2} \times 10^6$

③  $\frac{\rho l P^2}{2 q E^2} \times 10^6$

④  $\frac{2 \rho l P^2}{q^2 E} \times 10^6$

30. 선로정수를 평형되게 하고, 근접 통신선에 대한 유도장해를 줄일 수 있는 방법은?

① 연가를 시행한다.

② 전선으로 복도체를 사용한다.

③ 전선로의 이도를 충분하게 한다.

④ 소호리액터 접지를 하여 중성점 전위를 줄여준다.

31. 400kVA 단상변압기 3대를 △-△결선으로 사용하다가 1대의 고장으로 V-V결선을 하여 사용하면 약 몇 kVA 부하까지 걸 수 있겠는가?

① 400

② 566

③ 693

④ 800

32. 직류 송전방정식에 대한 설명으로 틀린 것은?

① 선로의 절연이 교류방식보다 용이하다.

② 리액턴스 또는 위상각에 대해서 고려 할 필요가 없다.

③ 케이블 송전일 경우 유전손이 없기 때문에 교류방식보다 유리하다.

④ 비동기 연계가 불가능하므로 주파수가 다른 계통간의 연계가 불가능하다.

33. 22.9kV, Y결선된 자가용 수전설비의 계기용변압기의 2차측 정격전압은 몇 V인가?

① 110

② 220

③ 110  $\sqrt{3}$ ④ 220  $\sqrt{3}$ 

34. 직격뢰에 대한 방호설비로 가장 적당한 것은?

① 복도체

② 가공지선

③ 서지흡수기

④ 정전방전기

35. 동기조상기에 대한 설명으로 틀린 것은?

① 시충전이 불가능하다.

② 전압 조절이 연속적이다.

③ 중부하시에는 과여자로 운전하여 앞선 전류를 취한다.

④ 경부하시에는 부족여자로 운전하여 뒤진 전류를 취한다.

36. 송전선로에서 고조파 제거 방법이 아닌 것은?

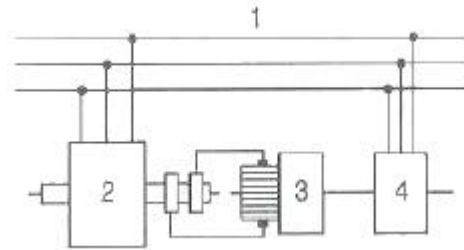
① 변압기를 △결선 한다.

- ② 능동형 필터를 설치한다.  
 ③ 유도전압 조정장치를 설치한다.  
 ④ 무효전력 보상장치를 설치한다.
37. 동작전류의 크기가 커질수록 동작시간이 짧게 되는 특성을 가진 계전기는?  
 ① 순한시 계전기      ② 정한시 계전기  
 ③ 반한시 계전기      ④ 반한시 정한시 계전기
38. 차단기의 정격 차단시간은?  
 ① 고장 발생부터 소호까지의 시간  
 ② 트립코일 여자부터 소호까지의 시간  
 ③ 가동 접촉자의 개극부터 소호까지의 시간  
 ④ 가동 접촉자의 동작시간부터 소호까지의 시간
39. 저압배전계통을 구성하는 방식 중, 캐스케이딩(cascading)을 일으킬 우려가 있는 방식은?  
 ① 방사상방식      ② 저압뱅크방식  
 ③ 저압네트워크방식      ④ 스포트네트워크방식
40. 정전용량  $0.01\mu\text{F}/\text{km}$ , 길이  $173.2\text{km}$ , 선간전압  $60\text{kV}$ , 주파수  $60\text{Hz}$ 인 3상 송전선로의 충전전류는 약 몇 A인가?  
 ① 6.3      ② 12.5  
 ③ 22.6      ④ 37.2

### 3과목 : 전기기기

41. 변압기 보호장치의 주된 목적이 아닌 것은?  
 ① 전압 불평형 개선  
 ② 절연내력 저하 방지  
 ③ 변압기 자체 사고의 최소화  
 ④ 다른 부분으로의 사고 확산 방지
42. 유도기전력의 크기가 서로 같은 A, B 2대의 동기발전기를 병렬 운전할 때, A발전기의 유기기전력 위상이 B보다 앞설 때 발생하는 현상이 아닌 것은?  
 ① 동기화력이 발생한다.  
 ② 고조파 무효순환전류가 발생된다.  
 ③ 유효전류인 동기화전류가 발생된다.  
 ④ 전기자 동손을 증가시키며 과열의 원인이 된다.
43. 일반적인 3상 유도전동기에 대한 설명 중 틀린 것은?  
 ① 불평형 전압으로 운전하는 경우 전류는 증가하나 토크는 감소한다.  
 ② 원선도 작성을 위해서는 무부하시험, 구속시험 1차 권선 저항 측정을 하여야한다.  
 ③ 농형은 권선형에 비해 구조가 견고하며 권선형에 비해 대형전동기로 널리 사용된다.  
 ④ 권선형 회전자 3선중 1선이 단선되면 동기속도의 50%에서 더 이상 가속되지 못하는 현상을 게르게스현상이라고 한다.
44. 어떤 정류회로의 부하전압이  $50\text{V}$ 이고 맥동률 3%이면 직류 출력전압에 포함된 교류 분은 몇 V인가?  
 ① 1.2      ② 1.5  
 ③ 1.8      ④ 2.1

45. 저항부하를 갖는 정류회로에서 직류분 전압이  $200\text{V}$ 일 때 다이오드에 가해지는 첨두역 전압(PIV)의 크기는 약 몇 V인가?  
 ① 346      ② 628  
 ③ 692      ④ 1038
46. 동기발전기의 전기자권선을 분포권으로 하면 어떻게 되는가?  
 ① 난조를 방지한다.  
 ② 기전력의 파형이 좋아진다.  
 ③ 권선의 리액턴스가 커진다.  
 ④ 집중권에 비하여 합성 유기기전력이 증가한다.
47. 3상 권선형 유도전동기의 전부하 슬립 5%, 2차 1상의 저항  $0.5\Omega$ 이다. 이 전동기의 기동 토크를 전부하 토크와 같도록 하려면 외부에서 2차에 삽입할 저항( $\Omega$ )은?  
 ① 8.5      ② 9  
 ③ 9.5      ④ 10
48. 그림은 동기발전기의 구동 개념도이다. 그림에서 2를 발전기라 할 때 3의 명칭으로 적합한 것은?



- ① 전동기      ② 여자기  
 ③ 원동기      ④ 제동기
49. 3상 수는 정류기의 직류 평균 부하전류가  $50\text{A}$ 가 되는 1상 양극 전류 실효값은 약 몇 A 인가?  
 ① 9.6      ② 17  
 ③ 29      ④ 87
50. 직류기에서 기계각의 극수가 P인 경우 전기각과의 관계는 어떻게 되는가?  
 ① 전기각  $\times 2P$       ② 전기각  $\times 3P$   
 ③ 전기각  $\times 2/P$       ④ 전기각  $\times 3/P$
51. 유도전동기의 2차 회로에 2차 주파수와 같은 주파수로 적당한 크기와 적당한 위상의 전압을 외부에서 가해주는 속도제어법은?  
 ① 1차 전압 제어      ② 2차 저항 제어  
 ③ 2차 여자 제어      ④ 극수 변환 제어
52. 직류발전기의 유기기전력과 반비례하는 것은?  
 ① 자속      ② 회전수  
 ③ 전체 도체수      ④ 병렬 회로수
53. 이상적인 변압기의 무부하에서 위상관계로 옳은 것은?  
 ① 자속과 여자전류는 동위상이다.  
 ② 자속은 인가전압 보다  $90^\circ$  앞선다.  
 ③ 인가전압은 1차 유기기전력 보다  $90^\circ$  앞선다.

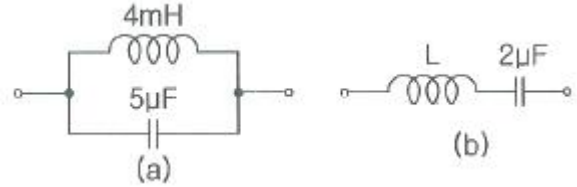
- ④ 1차 유기기전력과 2차 유기기전력의 위상은 반대이다.
54. 부하전류가 2배로 증가하면 변압기의 2차측 동손은 어떻게 되는가?  
 ① 1/4로 감소한다.      ② 1/2로 감소한다.  
 ③ 2배로 증가한다.      ④ 4배로 증가한다.
55. 직류 분권발전기의 극수 4, 전기자 총 도체수 600으로 매분 600회전할 때 유기기전력이 220V라 한다. 전기자 권선이 파권일 때 매극당 자속은 약 몇 Wb인가?  
 ① 0.0154                  ② 0.0183  
 ③ 0.0192                  ④ 0.0199
56. 변압기의 1차측을 Y결선, 2차측을 △결선으로 한 경우 1차와 2차간의 전압의 위상차는?  
 ① 0°                        ② 30°  
 ③ 45°                        ④ 60°
57. 직류기의 철손에 관한 설명으로 틀린 것은?  
 ① 성층철심을 사용하면 와전류손이 감소한다.  
 ② 철손에는 풍손과 와전류손 및 저항손이 있다.  
 ③ 철에 규소를 넣게 되면 히스테리시스손이 감소한다.  
 ④ 전기자 철심에는 철손을 작게하기 위해 규소강판을 사용한다.
58. 정격출력 50kW, 4극 220V, 60Hz인 3상 유도전동기가 전부하 슬립 0.04, 효율 90%로 운전되고 있을 때 다음 중 틀린 것은?  
 ① 2차 효율 = 96%                  ② 1차 입력 = 55.56kW  
 ③ 회전자입력 = 47.9kW      ④ 회전자동손 = 2.08kW
59. 동기전동기에서 출력이 100%일 때 역률이 1이 되도록 계자전류를 조정한 다음에 공급 전압 V 및 계자전류  $I_f$  를 일정하게 하고, 전부하 이하에서 운전하면 동기전동기의 역률은?  
 ① 뒤진 역률이 되고, 부하가 감소할수록 역률은 낮아진다.  
 ② 뒤진 역률이 되고, 부하가 감소할수록 역률은 높아진다.  
 ③ 앞선 역률이 되고, 부하가 감소할수록 역률은 낮아진다.  
 ④ 앞선 역률이 되고, 부하가 감소할수록 역률은 높아진다.
60. 3상 변압기를 1차, Y, 2차 △로 결선하고 1차에 선간전압 3300V를 가했을 때의 무부하 2차 선간전압은 몇 V인가? (단, 전압비는 30 : 1이다.)  
 ① 63.5                        ② 110  
 ③ 173                        ④ 190.5

#### 4과목 : 회로이론 및 제어공학

61. 선간전압이 200V인 대칭 3상 전원에 평형 3상 부하가 접속되어 있다. 부하 1상의 저항은  $10\Omega$ , 유도리액턴스  $15\Omega$ , 용량리액턴스  $5\Omega$ 가 직렬로 접속된 것이다. 부하가 △결선일 경우, 선로전류(A)와 3상 전력(W)은 약 얼마인가?  
 ①  $I_L = 10\sqrt{6}$ ,  $P_3 = 6000$   
 ②  $I_L = 10\sqrt{6}$ ,  $P_3 = 8000$   
 ③  $I_L = 10\sqrt{3}$ ,  $P_3 = 6000$

④  $I_L = 10\sqrt{3}$ ,  $P_3 = 8000$

62. 그림(a)와 그림(b)가 역회로 관계에 있으려면 L의 값은 몇 mH인가?



- ① 1                              ② 2  
 ③ 5                              ④ 10

63. 공간적으로 서로  $\frac{2\pi}{n}$  (rad)의 각도를 두고 배치한 n개의 코일에 대칭 n상 교류를 흘리면 그 중심에 생기는 회전자계의 모양은?

- ① 원형 회전자계                  ② 타원형 회전자계  
 ③ 원통형 회전자계              ④ 원추형 회전자계

64. 2개의 전력계로 평형 3상 부하의 전력을 측정하였더니 한쪽의 지시가 다른 쪽 전력계 지시의 3배였다면 부하의 역률은 약 얼마인가?

- ① 0.46                              ② 0.55  
 ③ 0.65                              ④ 0.76

65. 어떤 소자에 걸리는 전압이  $100\sqrt{2}\cos(314t - \frac{\pi}{6})$

V이고, 흐르는 전류가  $3\sqrt{2}\cos(314t + \frac{\pi}{6})$  A일 때 소비되는 전력(W)은?

- ① 100                              ② 150  
 ③ 250                              ④ 300

66.  $F(s) = \frac{1}{s(s+a)}$  의 라플라스 역변환은?

- ①  $e^{-at}$                               ②  $1 - e^{-at}$   
 ③  $a(1 - e^{-at})$                   ④  $\frac{1}{a}(1 - e^{-at})$

67. 어떤 회로에 전압을 115V 인가하였더니 유효전력이 230W, 무효전력이 345Var를 지시한다면 회로에 흐르는 전류는 약 몇 A 인가?

- ① 2.5                              ② 5.6  
 ③ 3.6                              ④ 4.5

68. 무손실 선로에 있어서 감쇠정수  $\alpha$ , 위상정수를  $\beta$ 라 하면  $\alpha$ 와  $\beta$ 의 값은? (단, R, G, L, C는 선로 단위 길이당의 저항, 컨덕턴스, 인덕턴스, 커패시턴스이다.)

①  $\alpha = \sqrt{RG}$ ,  $\beta = 0$

$$\textcircled{2} \quad \alpha = 0, \beta = \frac{1}{\sqrt{LC}}$$

$$\textcircled{3} \quad \alpha = 0, \beta = \omega \sqrt{LC}$$

$$\textcircled{4} \quad \alpha = \sqrt{RG}, \beta = \omega \sqrt{LC}$$

69. 시정수의 의미를 설명한 것 중 틀린 것은?

- ① 시정수가 작으면 과도현상이 짧다.  
 ② 시정수가 크면 정상상태에 늦게 도달한다.  
 ③ 시정수는  $\tau$ 로 표기하며 단위는 초(sec)이다.  
 ④ 시정수는 과도 기간 중 변화해야 할 양의 0.632%가 변화하는데 소요된 시간이다.

70.  $R=100\Omega$ ,  $X_c=100\Omega$ 이고  $L$ 만을 가변 할 수 있는 RLC 직렬 회로가 있다. 이 때  $f=500\text{Hz}$ ,  $E=100\text{V}$ 를 인가하여  $L$ 을 변화시킬 때  $L$ 의 단자전압  $E_L$ 의 최대값은 몇 V 인가? (단, 공진회로이다.)

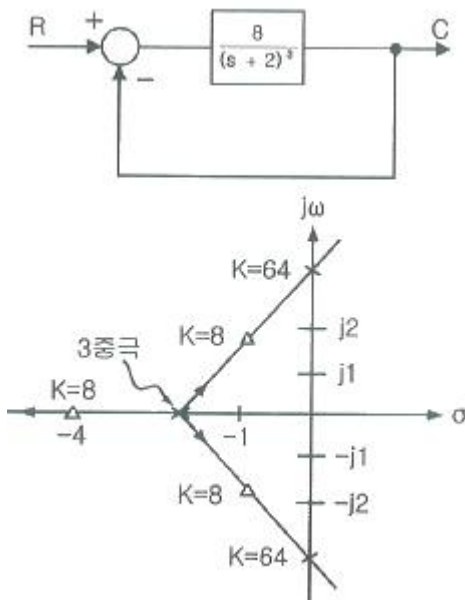
- ① 50                      ② 100  
 ③ 150                    ④ 200

71. 단위 부계환 제어시스템의 루프전달함수  $G(s)H(s)$ 가 다음과 같이 주어져 있다. 이득 여유가 20dB이면 이 때의  $K$ 의 값은?

$$G(s)H(s) = \frac{K}{(s+1)(s+3)}$$

- ① 3/10                    ② 3/20  
 ③ 1/20                    ④ 1/40

72. 그림은 제어계와 그 제어계의 근궤적을 작도한 것이다. 이것으로부터 결정된 이득여유 값은?



- ① 2                      ② 4  
 ③ 8                      ④ 64

73. 노내 온도를 제어하는 프로세스 제어계에서 검출부에 해당하는 것은?

- ① 노                      ② 밸브

③ 증폭기

④ 열전대

74.  $\frac{d^2}{dt^2}c(t) + 5\frac{d}{dt}c(t) + 4c(t) = r(t)$  와 같은 함수를 상태함수로 변환 하였다. 벡터 A, B의 값으로 적당한 것은?

$$\frac{d}{dt}X(t) = AX(t) + Br(t)$$

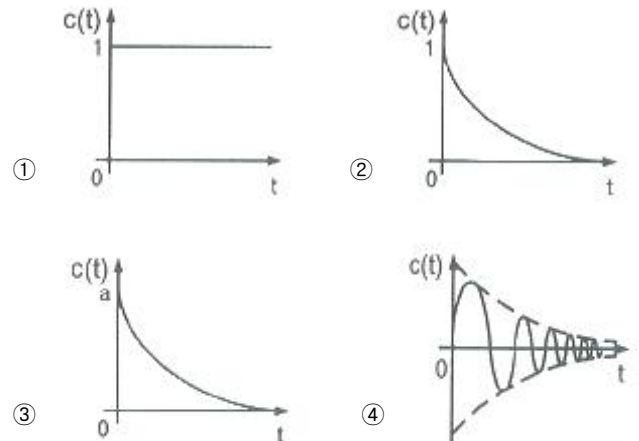
$$\textcircled{1} \quad A = \begin{bmatrix} 0 & 1 \\ -5 & -4 \end{bmatrix}, B = \begin{bmatrix} 0 \\ 1 \end{bmatrix}$$

$$\textcircled{2} \quad A = \begin{bmatrix} 0 & 1 \\ 5 & 4 \end{bmatrix}, B = \begin{bmatrix} 0 \\ 1 \end{bmatrix}$$

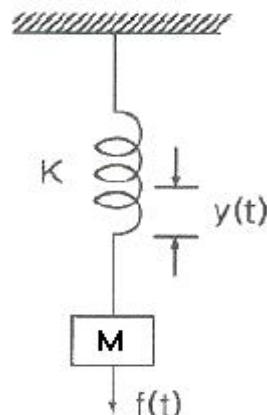
$$\textcircled{3} \quad A = \begin{bmatrix} 0 & 1 \\ -4 & -5 \end{bmatrix}, B = \begin{bmatrix} 0 \\ 1 \end{bmatrix}$$

$$\textcircled{4} \quad A = \begin{bmatrix} 0 & 1 \\ 4 & 5 \end{bmatrix}, B = \begin{bmatrix} 0 \\ 1 \end{bmatrix}$$

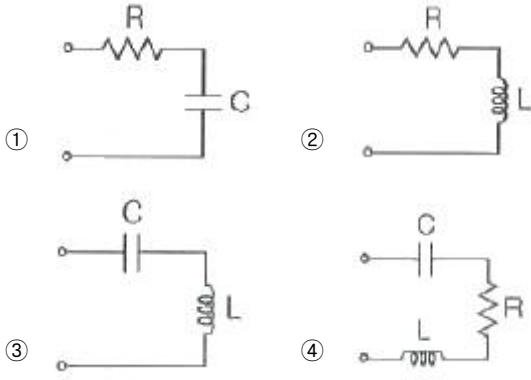
75. 전달함수  $G(s) = \frac{1}{s+a}$  일 때, 이 계의 임펄스응답  $c(t)$ 를 나타내는 것은? (단,  $a$ 는 상수이다.)



76. 그림과 같은 스프링 시스템을 전기적 시스템으로 변환했을 때 이에 대응하는 회로는?







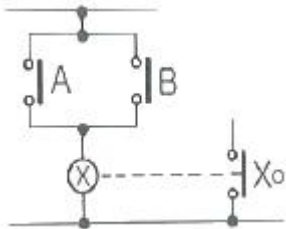
77. 궤환(Feed back) 제어계의 특징이 아닌 것은?

- ① 정확성이 증가한다.
- ② 대역폭이 증가한다.
- ③ 구조가 간단하고 설치비가 저렴하다.
- ④ 계(系)의 특성 변화에 대한 입력대 출력비의 감도가 감소한다.

78.  $G(s) = \frac{1}{0.005s(0.1s + 1)^2}$  에서  $\omega = 10\text{rad/s}$  일 때의 이득 및 위상각은?

- ① 20dB,  $-90^\circ$
- ② 20dB,  $-180^\circ$
- ③ 40dB,  $-90^\circ$
- ④ 40dB,  $-180^\circ$

79. 그림과 같은 논리회로는?



- ① OR 회로
- ② AND 회로
- ③ NOT 회로
- ④ NOR 회로

80. 이산 시스템(Discrete data system)에서의 안정도 해석에 대한 설명 중 옳은 것은?

- ① 특성방정식의 모든 근이 z 평면의 음의 반평면에 있으면 안정하다.
- ② 특성방정식의 모든 근이 z 평면의 양의 반평면에 있으면 안정하다.
- ③ 특성방정식의 모든 근이 z 평면의 단위원 내부에 있으면 안정하다.
- ④ 특성방정식의 모든 근이 z 평면의 단위원 외부에 있으면 안정하다.

#### 5과목 : 전기설비기술기준 및 판단기준

81. 특고압을 옥내에 시설하는 경우 그 사용 전압의 최댓값은 몇 kV 이하인가? (단, 케이블 트레이공사는 제외)

- ① 25
- ② 80
- ③ 100
- ④ 160

82. 제1종 접지공사의 접지극을 시설할 때 동결 깊이를 감안하여 지하 몇 cm 이상의 깊이로 매설하여야 하는가?

- ① 60
- ② 75
- ③ 90
- ④ 100

83. 저압 및 고압 가공전선의 높이는 도로를 횡단하는 경우와 철도를 횡단하는 경우에 각각 몇 m 이상이어야 하는가?

- ① 도로 : 지표상 5, 철도 : 레일면상 6
- ② 도로 : 지표상 5, 철도 : 레일면상 6.5
- ③ 도로 : 지표상 6, 철도 : 레일면상 6
- ④ 도로 : 지표상 6, 철도 : 레일면상 6.5

84. 발전기를 자동적으로 전로부터 차단하는 장치를 반드시 시설하지 않아도 되는 경우는?

- ① 발전기에 과전류나 과전압이 생긴 경우
- ② 용량 5000kVA 이상인 발전기의 내부에 고장이 생긴 경우
- ③ 용량 500kVA 이상의 발전기를 구동하는 수차의 압유 장치의 유압이 현저히 저하한 경우
- ④ 용량 2000kVA 이상인 수차 발전기의 스러스트 베어링의 온도가 현저히 상승하는 경우

85. 전력계통의 일부가 전력계통의 전원과 전기적으로 분리된 상태에서 분산형전원에 의해서만 가압되는 상태를 무엇이라 하는가?

- ① 계통연계
- ② 접속설비
- ③ 단독운전
- ④ 단순 병렬운전

86. 샤워시설이 있는 욕실 등 인체가 물에 젖어있는 상태에서 전기를 사용하는 장소에 콘센트를 시설할 경우 인체감전보호용 누전차단기의 정격감도전류는 몇 mA 이하인가?

- ① 5
- ② 10
- ③ 15
- ④ 30

87. ( )안에 들어갈 내용으로 옳은 것은?

유히용 전차에 전기를 공급하는 전로의 사용전압은 직류의 경우는 ( A )V 이하, 교류의 경우는 ( B )V 이하이어야 한다.

- ① (A) 60, (B) 40
- ② (A) 40, (B) 60
- ③ (A) 30, (B) 60
- ④ (A) 60, (B) 30

88. 사용전압이 몇 V 이상의 중성점 직접접지식 전로에 접속하는 변압기를 설치하는 곳에는 절연유의 구외 유출 및 지하 침투를 방지하기 위하여 절연유 유출 방지설비를 하여야 하는가?

- ① 25000
- ② 50000
- ③ 75000
- ④ 100000

89. 전로의 사용전압이 400V 미만이고, 대지전압이 220V인 옥내전로에서 분기회로의 절연저항 값은 몇 MΩ 이상이어야 하는가?(관련 규정 개정전 문제로 여기서는 기존 정답인 2번을 누르면 정답 처리됩니다. 자세한 내용은 해설을 참고하세요.)

- ① 0.1
- ② 0.2
- ③ 0.4
- ④ 0.5

90. 전기유타리용 전원 장치에 전기를 공급하는 전로의 사용전압은 몇 V 이하이어야 하는가?  
 ① 150                      ② 200  
 ③ 250                      ④ 300
91. 가반형의 용접 전극을 사용하는 아크 용접장치의 용접변압기의 1차측 전로의 대지전압은 몇 V 이하이어야 하는가?  
 ① 60                      ② 150  
 ③ 300                      ④ 400
92. 사용전압이 22.9kV인 특고압 가공전선로(중성선 다중접지식의 것으로서 전로에 지락이 생겼을 때에 2초 이내에 자동적으로 이를 전로로부터 차단하는 장치가 되어 있는 것에 한한다.)가 상호 간 접근 또는 교차하는 경우 사용전선이 양쪽 모두 케이블인 경우 이격거리는 몇 m 이상인가?  
 ① 0.25                      ② 0.5  
 ③ 0.75                      ④ 1.0
93. 발전용 수력 설비에서 필댐의 축제재료로 필댐의 본체에 사용하는 토질재료로 적합하지 않은 것은?  
 ① 묽은 진흙으로 되지 않을 것  
 ② 댐의 안정에 필요한 강도 및 수밀성이 있을 것  
 ③ 유기물을 포함하고 있으며 광물성분은 불용성일 것  
 ④ 댐의 안정에 지장을 줄 수 있는 팽창성 또는 수축성이 없을 것
94. 특고압 가공전선이 도로 등과 교차하여 도로 상부측에 시설할 경우에 보호망도 같이 시설하려고 한다. 보호망은 제 몇 종 접지공사로 하여야 하는가?(관련 규정 개정전 문제로 여기서는 기존 정답인 1번을 누르면 정답 처리됩니다. 자세한 내용은 해설을 참고하세요.)  
 ① 제1종 접지공사              ② 제2종 접지공사  
 ③ 제3종 접지공사              ④ 특별 제3종 접지공사
95. 지중 전선로를 직접 매설식에 의하여 시설하는 경우에 차량 기타 중량물의 압력을 받을 우려가 없는 장소의 매설 깊이는 몇 cm 이상이어야 하는가?(2021년 개정된 KEC 규정 적용됨)  
 ① 60                      ② 100  
 ③ 120                      ④ 150
96. 특고압의 기계기구·모선 등을 옥외에 시설하는 변전소의 구내에 취급자 이외의 자가 들어가지 못하도록 시설하는 유타리·담 등의 높이는 몇 m 이상으로 하여야 하는가?  
 ① 2                      ② 2.2  
 ③ 2.5                      ④ 3
97. 버스 덕트 공사에서 저압 옥내배선의 사용전압이 400V 미만인 경우에는 덕트에 제 몇 종 접지공사를 하여야 하는가?(관련 규정 개정전 문제로 여기서는 기존 정답인 3번을 누르면 정답 처리됩니다. 자세한 내용은 해설을 참고하세요.)  
 ① 제1종 접지공사              ② 제2종 접지공사  
 ③ 제3종 접지공사              ④ 특별 제3종 접지공사
98. 애자사용 공사에 의한 저압 옥내배선 시설 중 틀린 것은?  
 ① 전선은 인입용 비닐 절연전선일 것  
 ② 전선 상호 간의 간격은 6cm 이상일 것

- ③ 전선의 지지점 간의 거리는 전선을 조영재의 윗면에 따라 붙일 경우에는 2m 이하일 것  
 ④ 전선과 조영재 사이의 이격거리는 사용 전압이 400V 미만인 경우에는 2.5cm 이상일 것

99. 철탑의 강도계산을 할 때 이상 시 상정하중이 가하여지는 경우 철탑의 기초에 대한 안전율은 얼마 이상이어야 하는가?  
 ① 1.33                      ② 1.83  
 ③ 2.25                      ④ 2.75
100. 고압 가공인입선이 케이블 이외의 것으로서 그 전선의 아래쪽에 위험표시를 하였다면 전선의 지표상 높이는 몇 m 까지로 감할 수 있는가?  
 ① 2.5                      ② 3.5  
 ③ 4.5                      ④ 5.5

전자문제집 CBT PC 버전 : [www.comcbt.com](http://www.comcbt.com)

전자문제집 CBT 모바일 버전 : [m.comcbt.com](http://m.comcbt.com)

기출문제 및 해설집 다운로드 : [www.comcbt.com/x](http://www.comcbt.com/x)

전자문제집 CBT란?

종이 문제집이 아닌 인터넷으로 문제를 풀고 자동으로 채점하며 모의고사, 오답 노트, 해설까지 제공하는 무료 기출문제 학습 프로그램으로 실제 시험에서 사용하는 OMR 형식의 CBT를 제공합니다.

PC 버전 및 모바일 버전 완벽 연동

교사용/학생용 관리기능도 제공합니다.

오답 및 오탈자가 수정된 최신 자료와 해설은 전자문제집 CBT에서 확인하세요.

1	2	3	4	5	6	7	8	9	10
③	②	③	④	①	③	①	③	②	④
11	12	13	14	15	16	17	18	19	20
③	②	④	④	②	②	①	②	③	②
21	22	23	24	25	26	27	28	29	30
④	①	③	①	①	①	①	③	②	①
31	32	33	34	35	36	37	38	39	40
③	④	①	②	①	③	③	②	②	③
41	42	43	44	45	46	47	48	49	50
①	②	③	②	②	②	③	②	③	③
51	52	53	54	55	56	57	58	59	60
③	④	①	④	②	②	②	③	③	①
61	62	63	64	65	66	67	68	69	70
①	④	①	④	②	④	③	③	④	②
71	72	73	74	75	76	77	78	79	80
①	③	④	③	②	③	③	②	①	③
81	82	83	84	85	86	87	88	89	90
③	②	④	②	③	③	①	④	②	③
91	92	93	94	95	96	97	98	99	100
③	②	③	①	①	①	③	①	①	②