

1과목 : 기계제작법

1. 공구재료의 구비조건 중 틀린 것은?

- ① 인성이 작을 것      ② 고온경도가 클 것  
③ 내마멸성이 클 것      ④ 마찰계수가 작을 것

2. 강의 제품을 가열하여 그 표면에 알루미늄을 침투시켜 표면 합금층을 만드는 방법은?

- ① 칼로라이징(calorizing)      ② 크로마이징(chromizing)  
③ 실리코나이징(siliconizing)      ④ 세라다이징(theradizing)

3. 주철과 같이 메진 재료를 저속으로 절삭할 때 일반적인 칩의 모양은?

- ① 경작형      ② 균열형  
③ 유동형      ④ 전단형

4. 지름 50mm인 연강봉을 20m/min의 절삭속도로 선삭할 때 주축의 회전수는 약 몇 rpm인가?

- ① 100.1      ② 127.3  
③ 440.5      ④ 527.7

5. 통과 공기량 2000cc에 대한 배기시간이 5분이었다면 통기도는 약 몇 cm/min인가? (단, 시료의 높이:5cm, 시험편의 지름:5cm, 공기압 수주로:10cm이다.)

- ① 10.19      ② 20.19  
③ 30.19      ④ 40.19

6. 자유 단조에서 업세팅(upset forging)에 관한 설명으로 옳은 것은?

- ① 굵은 재료를 늘리려는 방향과 직각이 되게, 램으로 타격하여 길이를 늘림과 동시에 단면적을 줄이는 작업이다.  
② 재료를 축 방향으로 압축하여 지름은 굵고 길이는 짧게 하는 작업이다.  
③ 압력을 가하여 재료를 굽힘과 동시에 길이 방향으로 늘리는 작업이다.  
④ 단조 작업에서 재료에 구멍을 뚫기 위해 펀치를 사용하는 작업이다.

7. 래핑(lapping) 가공의 특징으로 틀린 것은?

- ① 기하학적 정밀도가 높은 제품을 만들 수 있다.  
② 미끄럼면이 원활하게 되고 마찰계수가 높아진다.  
③ 제품을 사용할 때 남아 있는 랩제에 의하여 마모를 촉진시킨다.  
④ 비산하는 랩제가 다른 기계나 제품에 부착되면 마모시키는 원인이 된다.

8. 일명 잠호 용접이라 하며, 입상의 미세한 용제를 용접부에 산포하고, 그 속에 전극와이어를 연속적으로 공급하여 용제 속에서 모재와 와이어 사이에 아크를 발생시켜 용접하는 것은?

- ① 프로젝션 용접      ② 원자 수소 용접  
③ 서브머지드 아크 용접      ④ 불활성 가스 아크 용접

9. 방전가공에 대한 설명으로 틀린 것은?

- ① 비접촉식 가공방법이다.  
② 가공 전극은 동, 흑연 등이 쓰인다.  
③ 경도가 높은 재료는 가공이 곤란하다.

- ④ 전극 및 가공물에 큰 힘이 가해지지 않는다.

10. CNC선반에서 G 기능 중 G01의 의미는?

- ① 위치 결정      ② 직선 보간  
③ 원호 보간      ④ 나사 절삭

11. 공작기계의 구비조건으로 틀린 것은?

- ① 가공능력이 클 것  
② 내구력이 적을 것  
③ 높은 정밀도를 가질 것  
④ 고장이 적고 효율이 좋을 것

12. 인발가공에서 다이구멍의 형상이 원형, 각형, 기타 형상에 단면적을 감소시켜 인발는 가공법은?

- ① 봉재 인발      ② 관재 인발  
③ 선재 인발      ④ 롤러 다이법

13. 공구와 공작물 사이의 알런덤, 카보런덤 또는 탄화붕소 등의 입자를 공구에 가해진 진동으로 가공물에 충돌하여 깎아내는 가공방법은?

- ① 전주 가공      ② 방전 가공  
③ 초음파 가공      ④ 고속 액체 제트 가공

14. 드릴, 단조, 주조가공 등에 의하여 이미 뚫린 구멍을 좀 더 크게 확대하거나, 표면 거칠기와 정밀도가 높은 제품으로 가공하는 공작기계는?

- ① 세이퍼      ② 플레이너  
③ 슬로터      ④ 보링머신

15. 모형을 가용성 재료로 만들고 이것에 슬러리 상태의 주형 재료를 피복하여 외형을 만든 다음 모형을 용융시켜 제거하고, 용탕을 주입하는 방법으로 로스트 왁스법이라고도 하는 주조법은?

- ① 다이캐스팅      ② 원심 주조법  
③ 이산화탄소법      ④ 인베스트먼트법

16. KCN 또는 NaCN 등의 침탄제를 사용하며, 소형부품 표면처리에서 유리한 표면 경화법은?

- ① 고체 침탄법      ② 가스 침탄법  
③ 화염 경화법      ④ 액체 침탄법

17. 나사측정 방법 중 삼침법에 대한 설명으로 옳은 것은?

- ① 나사의 길이를 측정하는 방법이다.  
② 나사의 골지름을 측정하는 방법이다.  
③ 나사의 바깥지름을 측정하는 방법이다.  
④ 나사의 유효지름을 측정하는 방법이다.

18. 공작물을 양극으로 하고 전기저항이 적은 Cu, Zn을 음극으로 하여 전해액 속에 넣고 전기를 통하면, 가공물 표면이 전기에 의한 화학적 작용으로 매끈하게 가공되는 가공법은?

- ① 버니싱      ② 배럴가공  
③ 전해연마      ④ 워터젯가공

19. 200mm 사인바로 10°각을 만들려면 사인바양단의 게이지 블록 높이는 약 몇 mm이어야 하는가? (단, 경사면과 측정면이 일치한다.)

- ① 34.73      ② 44.76

③ 49.10

④ 59.70

20. 용접 시 발생한 잔류응력을 제거하려면 어떤 처리를 하는 것이 좋은가?

- ① 담금질                      ② 파텐딩  
③ 뜨임                        ④ 풀림

2과목 : 재료역학

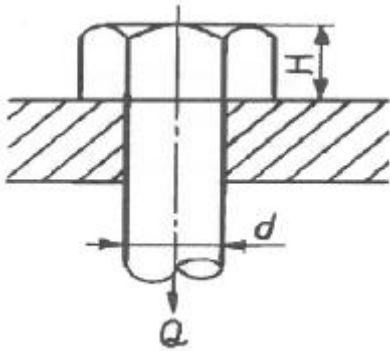
21. 평면응력 상태에서  $\sigma_x=1750\text{MPa}$ ,  $\sigma_y=350\text{MPa}$ ,  $\tau_{xy}=-600\text{MPa}$ 일 때 최대 전단응력  $\tau_{\text{max}}$ 은 약 MPa인가?

- ① 634                        ② 740  
③ 826                        ④ 922

22. 단면의 폭과 높이가  $b \times h$ 이고 길이가  $L$ 인 연강 사각형 단면의 기둥이 양단에서 핀으로 지지되어 있을 때 좌굴응력은? (단, 재료의 세로탄성계수는  $E$ 이다.)

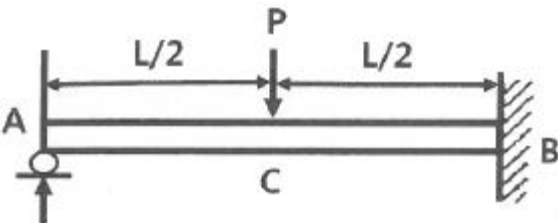
- ①  $\frac{\pi^2 E h^2}{L^2}$                       ②  $\frac{\pi^2 E h^2}{3L^2}$   
③  $\frac{\pi^2 E h^2}{6L^2}$                       ④  $\frac{\pi^2 E h^2}{12L^2}$

23. 그림과 같은 볼트에 축 하중  $Q$ 가 작용할 때, 볼트 머리부의 높이  $H$ 는? (단,  $d$ : 볼트 지름, 볼트 머리부에서 축 하중 방향으로의 전단응력은 볼트 축에 작용하는 인장 응력의 1/2 까지 허용한다.)



- ①  $1/4d$                       ②  $3/5d$   
③  $3/8d$                       ④  $1/2d$

24. 보의 중앙부에 집중하중을 받는 일단고정, 타단지지보에서 A점의 반력은? (단, 보의 굽힘강성  $EI$ 는 일정하다.)

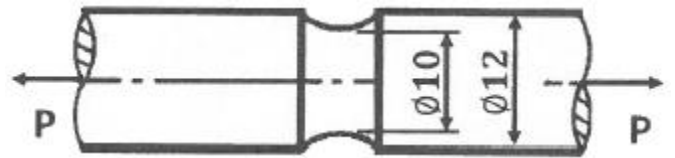


- ①  $R_A = \frac{3}{16}P$                       ②  $R_A = \frac{5}{16}P$   
③  $R_A = \frac{7}{16}P$                       ④  $R_A = \frac{11}{16}P$

25. 선형 탄성 재료의 정사각형 단면봉에 500kN의 압축력이 작용할 때 80MPa의 압축응력이 생기도록 하려면 한 변의 길이를 약 몇 cm로 해야 하는가?

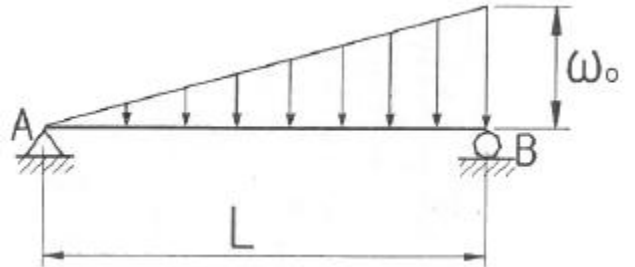
- ① 3.9                        ② 5.9  
③ 7.9                        ④ 9.9

26. 그림과 같이 노치가 있는 원형 단면 봉이 인장력  $P=9.5\text{kN}$ 을 받고 있다. 노치의 응력 집중계수가  $a=2.5$ 라면, 노치부에서 발생하는 최대응력은 약 몇 MPa인가? (단, 그림의 단위는 mm이다.)



- ① 3024                      ② 302  
③ 221                      ④ 51

27. 그림과 같이 삼각형으로 분포하는 하중을 받고 있는 단순보에서 지정 A의 반력은 얼마인가?



- ①  $\frac{w_0 L}{6}$                       ②  $\frac{w_0 L}{3}$   
③  $\frac{w_0 L}{2}$                       ④  $w_0 L$

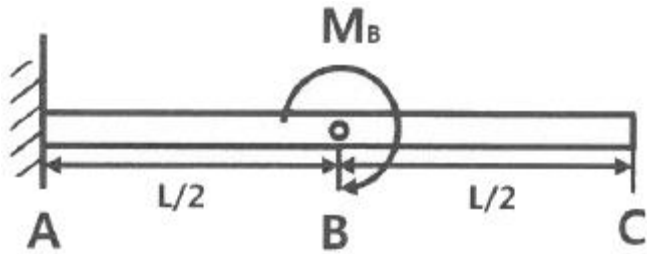
28. 지름이 50mm이고, 길이가 200mm인 시편으로 비틀림 실험을 하여 얻은 결과, 토크  $30.6\text{N} \cdot \text{m}$ 에서 전 비틀림 각이  $7^\circ$ 로 기록되었다. 이 재료의 전단 탄성계수는 약 몇 MPa인가?

- ① 81.6                      ② 40.6  
③ 66.6                      ④ 97.6

29. 길이가 500mm, 단면적  $500\text{mm}^2$ 인 환봉이 인장하중을 받고 1.0mm 신장되었다. 봉에 저장된 탄성에너지는 약 몇  $\text{N} \cdot \text{m}$ 인가? (단, 봉의 세로탄성계수는  $200\text{GPa}$ 이다.)

- ① 100                      ② 300  
③ 500                      ④ 1000

30. 길이가  $L$ 인 외팔보의 중앙에 그림과 같이  $M_0$ 가 작용할 때, C점에서의 처짐량은? (단, 보의 굽힘 강성  $EI$ 는 일정하고, 자중은 무시한다.)



- ①  $\frac{M_B L^2}{2EI}$       ②  $\frac{M_B L^2}{4EI}$   
 ③  $\frac{M_B L^2}{8EI}$       ④  $\frac{3M_B L^2}{8EI}$

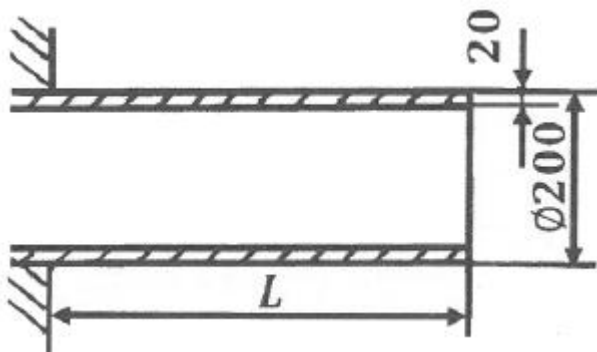
31. 직경 2cm의 원형 단면축을 1800rpm으로 회전시킬 때 최대 전달 마력은 약 몇 kW인가? (단, 재료의 허용전단응력은 20MPa이다.)

- ① 3.59      ② 4.62  
 ③ 5.92      ④ 7.13

32. 길이  $\ell$ 인 막대의 일단에 축방향 하중  $P$ 가 작용하여 인장 응력이 발생하고 있는 재료의 세로탄성계수는? (단,  $A$ 는 막대의 단면적,  $\delta$ 는 신장량이다.)

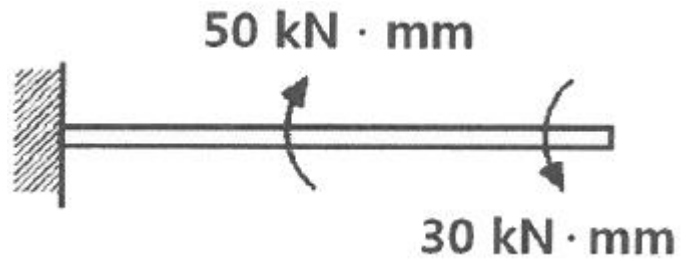
- ①  $\frac{P\delta}{A\ell}$       ②  $\frac{P\ell}{A\delta}$   
 ③  $\frac{P\ell\delta}{A}$       ④  $\frac{A\delta}{P\ell}$

33. 그림과 같이 두께가 20mm, 외경이 200mm인 원관을 고정 벽으로부터 수평으로 4m만큼 돌출시켜 물을 방출한다. 원관 내에 물이 가득차서 방출될 때 자유단의 처짐은 약 몇 mm인가? (단, 원관 재료의 세로탄성계수는 200GPa, 비중은 7.80이고 물의 밀도는 1000kg/m³이다.)



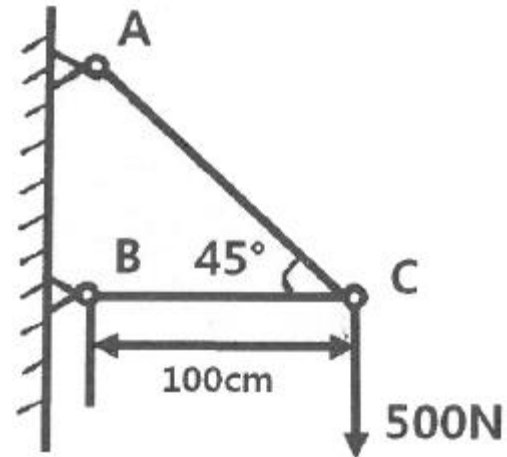
- ① 9.66      ② 7.66  
 ③ 5.66      ④ 3.66

34. 그림과 같이 한 끝이 고정된 지름 15mm인 원형단면 축에 두 개의 토크가 작용 하고 있다. 고정단에서 축에 작용하는 전단응력은 약 몇 MPa인가?



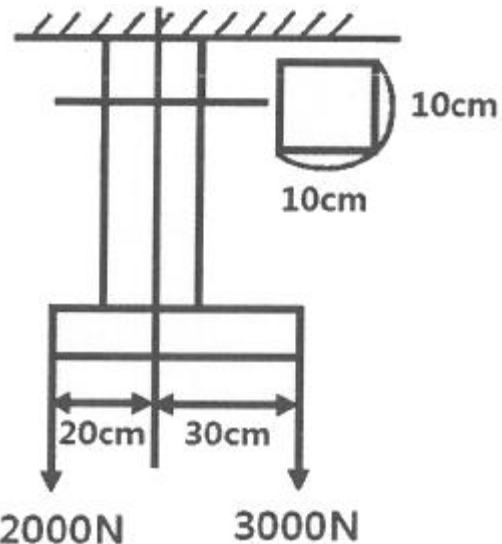
- ① 10      ② 20  
 ③ 30      ④ 40

35. 그림과 같은 구조물의 부재 BC에 작용하는 힘은 얼마인가?



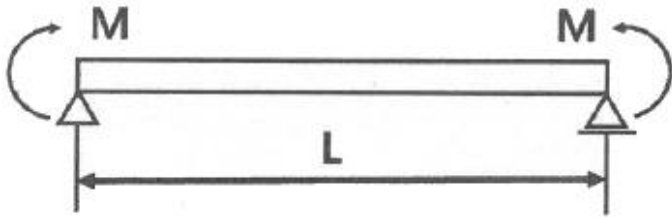
- ① 500N 압축      ② 500N 인장  
 ③ 707N 압축      ④ 707N 인장

36. 그림과 같은 하중을 받는 단면봉의 최대 인장응력은 알 몇 MPa인가? (단, 한 변의 길이가 10cm인 정사각형이다.)



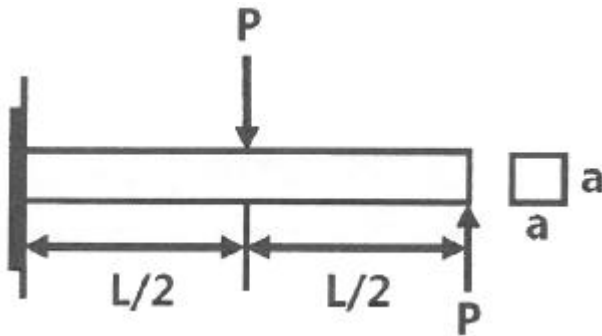
- ① 2.3      ② 3.1  
 ③ 3.5      ④ 4.1

37. 다음과 같은 균일 단면봉이 순수 굽힘 작용을 받을 때 이 보에 저장된 탄성 변형에너지는? (단, 굽힘강성  $E$ 는 일정하다.)



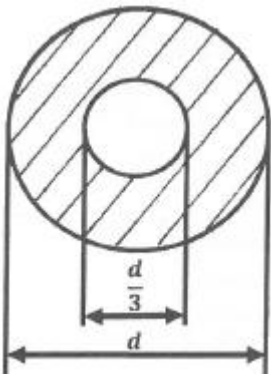
- ①  $\frac{M^2 L}{2EI}$       ②  $\frac{M^2 L}{3EI}$   
 ③  $\frac{3M^2 L}{4EI}$       ④  $\frac{4M^2 L}{3EI}$

38. 그림과 같이 정사각형 단면을 갖는 외팔보에 작용하는 최대 굽힘응력은?



- ①  $\frac{2PL}{a^3}$       ②  $\frac{3PL}{a^3}$   
 ③  $\frac{4PL}{a^3}$       ④  $\frac{5PL}{a^3}$

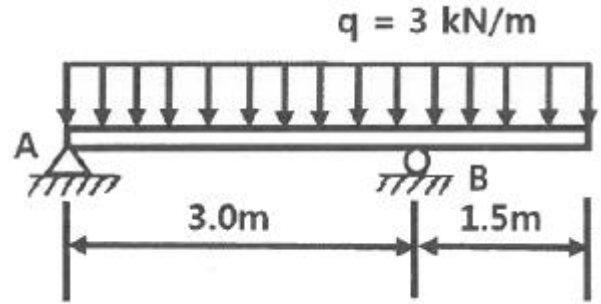
39. 바깥지름 d, 안지름 d/3인 중공원형 단면의 단면계수는 얼마인가?



- ①  $\frac{5\pi d^3}{9}$       ②  $\frac{5\pi d^3}{81}$   
 ③  $\frac{5\pi d^3}{162}$       ④  $\frac{5\pi d^3}{324}$

40. 다음과 같은 길이 4.5m의 보에 분포하중 3kN/m가 작용된다. 이 보에 작용되는 굽힘 모멘트 절대값의 최대치는 약

몇 kN·m인가?



- ① 1.898      ② 3.375  
 ③ 18.98      ④ 33.75

### 3과목 : 용접야금

41. 일반적인 탈황반응(desulfurization reaction)에서 탈황을 촉진시키기 위한 조건으로 옳은 것은?

- ① 비교적 저온에서 실시한다.  
 ② 슬래그 중의 SiO<sub>2</sub>의 함량을 높인다.  
 ③ 용융 슬래그의 염기도가 높을수록 진행하기 쉽다.  
 ④ 형석을 제거하여 슬래그의 유동성을 느리게 한다.

42. 다음 금속 조직 중 공정반응으로 인해 정출되는 것은?

- ① 펄라이트      ② 트루스타이트  
 ③ 오스테나이트      ④ 레데부라이트

43. 용접부에서 발생하는 고온균열의 특징이 아닌 것은?

- ① 비교적 대입열량의 용접에서 발생하기 쉽다.  
 ② 발생 시기는 대부분 응고 과정에서 일어난다.  
 ③ 용접 후 용접부의 온도가 200℃ 이하일 때 많이 발생한다.  
 ④ 균열이 용접부 표면까지 진전되면 공기와 산화 작용으로 구별이 어렵다.

44. 탄소당량을 설명한 것으로 옳은 것은?

- ① 주철의 흑연 함유량을 나타낸 것이다.  
 ② 강재의 망강(Mn)과 규소(Si)의 비를 나타낸다.  
 ③ 보통 연강재의 탄소당량은 0.1~0.25%정도이다.  
 ④ 강재의 용접성과 관계가 있으며 이 값이 클수록 용접이 곤란하다.

45. 배관용 탄소 강관을 KS규격에 의한 기호로 나타낸 것은?

- ① SPP      ② SS235  
 ③ SGT550      ④ SM275A

46. TTT 곡선의 nose time에 영향을 미치는 요소로 가장 거리가 먼 것은?

- ① 합금원소      ② 인장성질  
 ③ 탄소함량      ④ 결정입도

47. 400℃ 이상에서 탄화물의 입계석출로 인하여 입계부식을 일으키는 스테인리스강은?

- ① 펄라이트계 스테인리스강  
 ② 페라이트계 스테인리스강  
 ③ 마텐자이트계 스테인리스강

① 오스테나이트계 스테인리스강

48. 0.5% Si, 0.43% Mg이 함유된 알루미늄 합금으로, 내식성 및 전기 전도율이 우수하여 송전선에 많이 사용되는 것은?

- ① 알민                      ② 알드리  
③ 알클래드              ④ 하이드로날륨

49. 탄소강에 함유된 구리의 영향이 아닌 것은?

- ① 인장강도를 저하시킨다.  
② 탄성한도를 증가시킨다.  
③ 열간 가공성을 저하시킨다.  
④ 부식에 대한 저항성을 증가시킨다.

50. 금속재료의 강화 방법이 아닌 것은?

- ① 고용강화              ② 풀림처리  
③ 가공경화처리        ④ 입자분산강화

51. Fe-C 평형상태도에서 순철의 A<sub>3</sub> 변태점의 온도는?

- ① 723℃                    ② 768℃  
③ 910℃                   ④ 1400℃

52. 용착금속에 인장강도는 증가시키나 연신율과 충격치를 저하시키며 뜨임취성의 원인이 되는 것은?

- ① N                        ② O  
③ H                        ④ S

53. 다음 금속 조직 중 경도가 가장 높은 것은?

- ① 페라이트              ② 펄라이트  
③ 마텐자이트            ④ 트루스타이트

54. 가공한 금속을 가열할 때 결정입계의 이동에 의해서 형성되는 쌍정은?

- ① 변형쌍정              ② 풀림쌍정  
③ 소성쌍정              ④ 기계적쌍정

55. 강의 열처리에서 A<sub>1</sub> 변태점 이하로 가열하여 소정시간 유지한 다음 냉각하는 방법으로, 인성을 증가시키고 경도를 감소시키는 열처리는?

- ① 퀴칭                    ② 템퍼링  
③ 어닐링                ④ 노멀라이징

56. 강재의 용접성은 강의 열 영향부의 최고경도에 대한 탄소당량에 관계되는데 그 탄소당량은 얼마 이하에서 양호한 용접성을 가질 수 있는가?

- ① 0.4%                    ② 0.7%  
③ 0.9%                    ④ 1.1%

57. 다음 중 용융점이 가장 낮은 금속은?

- ① Cu                      ② Fe  
③ Mg                      ④ Ni

58. 용접부의 저온 균열이 아닌 것은?

- ① 토우 균열              ② 루트 균열  
③ 비드 밑 균열        ④ 크레이터 균열

59. 용융금속이 응고할 때 응고 온도차에 따라 농도차이를 일으

키는 현상은?

- ① 편석                    ② 공석  
③ 포석                    ④ 편정

60. S-N 곡선에 대한 설명으로 옳은 것은?

- ① 탄소당량을 도시한 곡선이다.  
② 항온변태 속도를 나타내는 곡선이다.  
③ 인장시험에서 인장력과 연신율을 나타내는 곡선이다.  
④ 피로시험에서 응력과 반복횟수를 나타내는 곡선이다.

4과목 : 용접구조설계

61. 아래보기자세 및 수평필릿 용접에 사용되고 많은 철분을 함유하고 있어 그래비티 용접(gravity welding)에 주로 사용되는 용접봉은?

- ① E4327                    ② E4311  
③ E4313                    ④ E4316

62. 맞대기 용접이음이나 필릿 용접이음의 각 변형을 교정하기 위하여 이용되는 가열법은?

- ① 점 가열법              ② 격자 가열법  
③ 선상 가열법            ④ 쐐기 모양 가열법

63. 용접 설계 시 고려해야 할 사항으로 옳은 것은?

- ① 판재가 두꺼운 용접에서는 X형 홈보다는 V형 홈을 이용하는 것이 좋다.  
② 단속필릿 용접 이음의 경우 다리 길이를 길게 하고 용접 길이를 짧게 하는 것이 좋다.  
③ 보강재나 격판과 같은 것을 사용하여 용접량이나 용접 길이를 늘린다.  
④ 용접이음에 걸리는 하중이 작거나 없을 때는 연속필릿 용접이음보다 단속필릿 용접이음이 비용이 절감된다.

64. 일반적인 용접 이음 설계 시 주의사항으로 옳은 것은?

- ① 용착금속량이 많은 홈 형상을 선택하여 설계한다.  
② 맞대기 용접에는 이면 용접을 할 수 있도록 해서 용입 부족이 없도록 설계한다.  
③ 맞대기 용접을 피하고 될 수 있는 한 필릿 용접을 많이 하도록 설계한다.  
④ 용접선은 될 수 있는 한 교차되도록 하고 이음부는 한쪽으로 집중되게 설계한다.

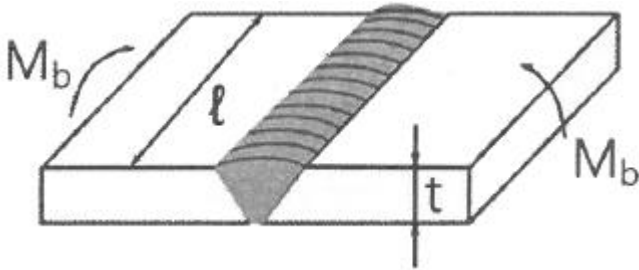
65. 용접 시공 시 용접 순서에 대한 설명으로 적합하지 않은 것은?

- ① 리벳 이음과 병용하는 경우는 용접 이음을 먼저 한다.  
② 동일한 평면 내에 많은 이음이 있을 때 수축은 중앙으로 모이게 한다.  
③ 가능한 수축이 큰 이음을 먼저 용접하고 수축이 적은 이음은 다음에 한다.  
④ 용접선의 직각 단면 중심축에 대하여 수축력의 합이 "0"이 되도록 한다.

66. 용접 작업에서 용접 지그를 선택하는 기준으로 적절하지 않은 것은?

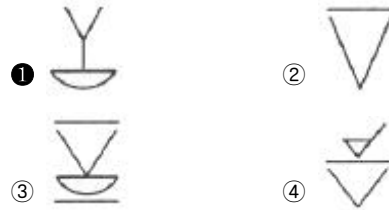
- ① 작업 능률이 향상되어야 한다.  
② 변형을 억제할 수 있는 구조여야 한다.

- ③ 피용접물과의 고정과 분해가 어려워야 한다.  
④ 용접작업을 용이하게 할 수 있는 구조여야 한다.
67. 접합하려는 두 부재를 겹쳐 놓고 한쪽의 부재에 둥근 구멍을 뚫고 그곳을 용접하는 것은?  
① 필릿 용접                      ② 플러그 용접  
③ 플레어 용접                      ④ 변두리 용접
68. 용접부 결함의 종류 중 구조상의 결함이 아닌 것은?  
① 변형                              ② 기공  
③ 균열                              ④ 언더컷
69. 각 층마다 전체의 길이를 용접하면서 쌓아올리는 용접방법은?  
① 대칭법                              ② 비석법  
③ 전진법                              ④ 빌드업법
70. 다음 초음파 탐상법의 종류 중 시험체 내에 초음파 펄스를 보내어 내부 또는 저면에서 생기는 반사파를 탐지하여 내부의 결함을 탐상하는 방법은?  
① 공진법                              ② 투과법  
③ 펄스 반사법                              ④ 에코 통전법
71. 완전 용입된 맞대기 용접의 길이가 150mm이며 강판의 두께  $t$ 는 20mm일 때, 굽힘 응력은 약 몇 MPa인가? (단, 굽힘 모멘트  $M_b$ 는  $0.83\text{kN} \cdot \text{m}$ 이다.)



- ① 73                                      ② 83  
③ 93                                      ④ 103
72. 용접변형에 영향을 미치는 인자 중 변형을 억제하는 인자에 해당하는 것은?  
① 용전전류                              ② 용접 층수  
③ 가용접의 크기와 피치                              ④ 용접봉의 종류와 크기
73. 방사선투과검사에서 투과도계의 역할은?  
① 결함의 크기를 조정하는 게이지  
② 명암도를 자동으로 조절하는 게이지  
③ 필름의 질을 향상시키기 위한 게이지  
④ 방사선투과 사진상의 질을 평가하기 위한 게이지
74. 용접에 의한 수축 변형 방지법 중 굽힘 변형을 방지하기 위한 방법으로 틀린 것은?  
① 역변형을 주거나 구속 지그로 구속한 후 용접한다.  
② 개선 각도는 용접에 지장이 없는 범위에서 작게 한다.  
③ 판 두께가 얇은 경우 첫 패스 측의 개선 깊이를 크게 한다.  
④ 허용 범위에서 봉의 지름이 작은 것으로 시공하여 패스 수를 늘린다.

75. 세로 비드 노치 굽힘 시험법으로 용접하지 않은 모재를 시험할 수 있는 장점이 있으며, 용접부의 연성이나 균열을 조사하는 시험은?  
① 린젤 시험                              ② 슈나트 시험  
③ 카안 인열 시험                              ④ 샤르피 충격 시험
76. 용접의 시점과 종점 부분의 용접 결함을 방지하기 위해서 동일한 재질이나 형상의 재료를 붙인 보조판은?  
① 백킹                                      ② 와이어  
③ 엔드탭                                      ④ 용접지그
77. 넓은 루트면이 있고 이면 용접된 V형 맞대기 용접을 나타내는 기호는?



78. 아크 용접을 할 때 최초로 아크를 발생시키는 것 또는 모재 표면에 순간적으로 아크를 발생시켰다가 끊는 조작으로 생기는 모재 표면상의 결함을 무엇이라고 하는가?  
① 아크 챔버                              ② 델라이네이션  
③ 아크 브레이징                              ④ 아크 스트라이크
79. 용접부의 잔류응력을 제거하기 위한 방법이 아닌 것은?  
① 피닝법                                      ② 고온 응력 완화법  
③ 저온 응력 완화법                              ④ 기계적 응력 완화법
80. 브리넬 경도 시험에 사용되는 압입자의 지름으로 틀린 것은?  
① 1mm                                      ② 5mm  
③ 10mm                                      ④ 20mm

5과목 : 용접일반 및 안전관리

81. 용접물을 겹쳐서 용접 팁과 하부 앤빌 사이에 끼워 놓고 압력을 가하면서 원자가 서로 확산되어 압접하는 방식으로, 금속판은 0.01~2mm, 플라스틱은 1~5mm 정도의 얇은 판 용접이 가능한 압접법은?  
① 마찰 용접                              ② 냉간 압접  
③ 레이저 용접                              ④ 초음파 용접
82. 탄산가스 아크 용접에서 와이어 송급 시 아크 길이를 자동으로 자기 제어할 수 있는 특성은?  
① 부특성                                      ② 상승특성  
③ 수하특성                                      ④ 전압회복특성
83. 판 두께 0.8~1.2mm의 연강판을 점(spot)용접 할 경우 최소 피치로 가장 적당한 것은?  
① 3~7mm                                      ② 8~11mm  
③ 12~23mm                                      ④ 24~35mm
84. 일반적인 마찰교반용접의 특징으로 틀린 것은?  
① 기공이나 균열이 발생하지 않는다.

- ② 이음부 갭의 허용 범위가 아크용접에 비해 작다.  
 ③ 모든 알루미늄 합금을 용접 이하의 저온에서 접합할 수 있다.  
 ④ 모서리 용접에 많이 활용되며 이음부 구조를 자유롭게 할 수 있다.
85. 피복 아크 용접 시 용접기의 1차 입력이 25kVA일 때 용접기의 1차 측에 설치할 안전 스위치에 몇 A의 퓨트를 붙이는 것이 가장 적합한가? (단, 이 용접기의 입력 전압은 200V이다.)  
 ① 80A                      ② 100A  
 ③ 125A                     ④ 150A
86. 산소 및 아세틸렌 용기 취급 시 주의사항으로 틀린 것은?  
 ① 아세틸렌 용기는 반드시 세워서 사용한다.  
 ② 산소 용기 내에 다른 가스를 혼합하지 않는다.  
 ③ 산소 용기 운반 시에는 반드시 보호 캡을 씌워서 이동한다.  
 ④ 아세틸렌가스에 사용한 조정기, 호스를 그대로 산소가스에 재사용한다.
87. 다음 중 기온과 습도의 상승작용에 의하여 느끼는 감각 정도를 측정하는 척도는?  
 ① 감각온도                ② 불쾌지수  
 ③ 상승지수                ④ 선행기온지수
88. 이산화탄소 아크 용접 시 건강에 가장 나쁜 영향을 미치는 것은?  
 ① 복사에너지에 의한 질식  
 ② 탄소의 축적에 의한 질식  
 ③ 질소의 축적에 의한 중독 작용  
 ④ 이산화탄소의 축적에 의한 질식
89. 남땀의 용제가 갖추어야 할 조건으로 틀린 것은?  
 ① 청정한 금속면의 산화를 촉진할 것  
 ② 남땀 후 슬래그의 제거가 용이할 것  
 ③ 모재나 땀납에 대한 부식작용이 최소일 것  
 ④ 모재의 산화 피막과 같은 불순물을 제거하고 유동성이 좋을 것
90. 다음 용접법 중 용착 효율이 가장 낮은 것은?  
 ① 피복 아크 용접  
 ② 플렉스 코어드 아크 용접  
 ③ 불활성 가스 금속 아크 용접  
 ④ 불활성 가스 텅스텐 아크 용접
91. 가스 용접 시 이상 현상으로 역류가 발생했을 때, 방지대책으로 틀린 것은?  
 ① 산소를 차단시킨다.  
 ② 팁을 깨끗이 청소한다.  
 ③ 안전기와 발생기를 차단시킨다.  
 ④ 아세틸가스 분출속도를 높인다.
92. 가스 실드계의 대표적인 용접봉으로 셀룰로오스(유기물)를 20~30% 정도 포함하고 있는 연강용 피복 아크 용접봉은?  
 ① E4301                    ② E4311

- ③ E4313                    ④ E4316
93. 압력조정기의 구비 조건으로 틀린 것은?  
 ① 동작이 예민해야 한다.  
 ② 빙결되지 않아야 한다.  
 ③ 조정압력과 방출압력의 차이가 커야 한다.  
 ④ 조정압력은 용기 내의 가스량이 변화하여도 항상 일정해야 한다.
94. 일반적으로 가스용접 시 모재 두께가 1mm이상일 때, 용접봉의 지름을 결정하는 계산식으로 옳은 것은? (단, 용접봉 지름:D(mm), 모재 두께:T(mm))  
 ①  $D = \frac{T}{2} + 1$             ②  $D = \frac{T}{2} + 3$   
 ③  $D = \frac{T}{3} + 1$             ④  $D = \frac{T}{3} + 3$
95. 직류 아크 용접기를 사용하여 용접할 경우 극성을 주의하여야 한다. 이 때 용접봉에는 (-)극을 연결하고, 모재에는 (+)극을 연결하는 것은?  
 ① AC                        ② 정극성  
 ③ 역극성                    ④ DCRP
96. 용접의 분류에서 용접에 속하지 않는 것은?  
 ① 스테드 용접              ② 프로젝션 용접  
 ③ 피복 아크 용접          ④ 서브머지드 아크 용접
97. 토치의 팁 대신 안지름 3.2~6mm, 길이 1.5~3m 정도의 강관에 산소를 공급하여 그 강관에 산화 연소할 때의 반응열로 금속을 절단하는 방법으로, 두꺼운 강판의 절단이나 주철, 강괴 등의 절단에 사용되는 절단법은?  
 ① 분말 절단                ② 산소창 절단  
 ③ 가스 가우징            ④ CNC 자동 절단
98. 교류 아크 용접기와 직류 아크 용접기의 비교 설명으로 틀린 것은?  
 ① 직류 아크 용접기의 구조는 교류 아크 용접기의 구조보다 복잡하다.  
 ② 직류 아크 용접기의 전격위험은 교류 아크 용접기의 전격위험보다 적다.  
 ③ 교류 아크 용접기의 역률은 직류 아크 용접기의 역률보다 양호하다.  
 ④ 교류 아크 용접기의 무부하 전압은 직류 아크 용접기의 무부하 전압보다 높다.
99. 이산화탄소 아크 용접 시 이산화탄소 가스에 산소를 1~5% 정도 혼합하였을 때 나타나는 효과로 가장 거리가 먼 것은?  
 ① 용입이 감소한다.  
 ② 용착금속이 청결해진다.  
 ③ 용융지의 온도가 상승한다.  
 ④ 슬래그 생성량이 많아져 비드 표면을 균일하게 덮어 외관이 개선된다.
100. 피복 아크 용접봉의 피복 배합제 성분 중 탈산제가 아닌 것은?  
 ① 규소철                    ② 망간철

③ 산화티탄

④ 알루미늄

전자문제집 CBT PC 버전 : [www.comcbt.com](http://www.comcbt.com)  
 전자문제집 CBT 모바일 버전 : [m.comcbt.com](http://m.comcbt.com)  
 기출문제 및 해설집 다운로드 : [www.comcbt.com/xe](http://www.comcbt.com/xe)

#### 전자문제집 CBT란?

종이 문제집이 아닌 인터넷으로 문제를 풀고 자동으로 채점하며  
 모의고사, 오답 노트, 해설까지 제공하는 무료 기출문제 학습 프  
 로그램으로 실제 시험에서 사용하는 OMR 형식의 CBT를 제공합  
 니다.

PC 버전 및 모바일 버전 완벽 연동  
 교사용/학생용 관리기능도 제공합니다.

오답 및 오탈자가 수정된 최신 자료와 해설은 전자문제집 CBT  
 에서 확인하세요.

1	2	3	4	5	6	7	8	9	10
①	①	②	②	①	②	②	③	③	②
11	12	13	14	15	16	17	18	19	20
②	①	③	④	④	④	④	③	①	④
21	22	23	24	25	26	27	28	29	30
④	④	④	②	③	②	①	①	①	④
31	32	33	34	35	36	37	38	39	40
③	②	④	③	①	③	①	②	③	②
41	42	43	44	45	46	47	48	49	50
③	④	③	④	①	②	④	②	①	②
51	52	53	54	55	56	57	58	59	60
③	①	③	②	②	①	③	④	①	④
61	62	63	64	65	66	67	68	69	70
①	③	④	②	②	③	②	①	④	③
71	72	73	74	75	76	77	78	79	80
②	③	④	④	①	③	①	④	②	④
81	82	83	84	85	86	87	88	89	90
④	②	③	④	③	④	②	④	①	①
91	92	93	94	95	96	97	98	99	100
④	②	③	①	②	②	②	③	①	③